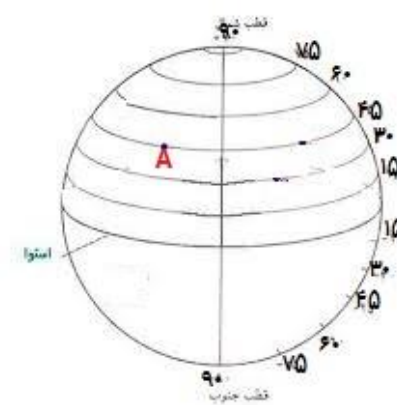
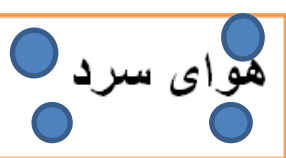



سوالات امتحانات داخلی منطقه ای - در منطقه لالچین دی ماه ۱۳۹۴											
سوالات امتحان درس: مطالعات اجتماعی		تاریخ امتحان: ...../۱۰/۱۳۹۴									
نام و نام خانوادگی:		مدت زمان امتحان: ۶۰ دقیقه									
پایه: نهم		ساعت شروع:									
ردیف	امتحان‌اتم را خوب می خوانم زیرا آینده ام در گرو خوب درس خواندنم است.	نمره									
الف	بخش جغرافیا گزینه صحیح را انتخاب کنید ۱- کشور-----چند ساعت رسمی دارد. الف) چین ب) ایران ج) هند د) انگلستان ۲- کدام کشور آفریقایی با شکار گسترده فیل روبروست؟ الف) کنگو ب) کنیا ج) سومالی د) اتیوپی ۳- رشته کوه هیمالیا بر اثر کدام عامل کوهزایی به وجود آمده است؟ الف) گسل ب) بیرون آمدن مواد مذاب ج) چین خوردگی د) فشار مواد مذاب	۱/۵									
ب	جاهای خالی را با کلمه مناسب پر کنید. ۱- در میان همه عوامل وجود زیست بوم-----مهمترین و بیشترین تأثیر را دارد. ۲- مهاجرت گروهی از افغان ها و عراقی ها از نوع-----است.	۱									
ج	گزینه صحیح و غلط را مشخص کنید. ۱- در میان چهار سیاره نزدیک به خورشید، زمین بزرگترین است.      ص      غ      ۰ ۲- جنگل زدایی یعنی برای حفظ محیط زیست درخت بکاریم.      ص      غ      ۰	۱									
د	به سوالات زیر پاسخ کوتاه دهید. ۳- زمانی که در نیمکره شمالی طولانی ترین روز است، چه نامیده میشود؟ ۴- لایه ای گاز که از سطح زمین تا ارتفاع هزار کیلومتری سیاره زمین را در بر گرفته است را چه می نامند؟	۱									
ه	به سوالات زیر پاسخ دهید. ۱- نتایج حرکت انتقالی زمین را بنویسید ۲ - انسان ها چگونه باعث تغییر ناهمواری ها می شوند؟ ۳- برای هر کدام از عوامل جذب جمعیت دو مورد بنویسید. الف) عوامل طبیعی: ب) عوامل انسانی: ۴- شاخص های توسعه انسانی را نام ببرید ۶- جدول زیر را کامل کنید.	۱ ۱ ۲ ۱/۵ ۲									
<table border="1"> <thead> <tr> <th>نام زیست بوم</th> <th>آب وهوا</th> <th>یک نوع گیاه غالب</th> </tr> </thead> <tbody> <tr> <td>توندر</td> <td></td> <td></td> </tr> <tr> <td>جنگل استوایی</td> <td></td> <td></td> </tr> </tbody> </table>		نام زیست بوم	آب وهوا	یک نوع گیاه غالب	توندر			جنگل استوایی			
نام زیست بوم	آب وهوا	یک نوع گیاه غالب									
توندر											
جنگل استوایی											

۱	<p>الف) مختصات جغرافیایی نقطه A را بنویسید</p>  <p>ب) در مورد تصویر زیر توضیح دهید.</p> <div style="display: flex; justify-content: space-around; align-items: center;"> <div style="border: 1px solid orange; padding: 5px; text-align: center;">  <p>هوای سرد</p> </div> <div style="border: 1px solid orange; padding: 5px; text-align: center;">  <p>هوای گرم</p> </div> </div>	ی
۱	<p>بخش تاریخ</p> <p>گزینه صحیح را انتخاب کنید</p> <p>۲- در دوره کدام حکومت تجارت به دلیل امنیت راه ها و وجود کاروانسراها رونق داشت.</p> <p>الف) صفویان      ب) افشاریه      ج) زندیه      د) قاجاریه</p> <p>۱- دریانوردان اروپایی با گذشتن از اقیانوس اطلس قاره----- کشف کردند.</p> <p>الف) آسیا      ب) آمریکا      ج) استرالیا      د) اقیلنوسیه</p>	الف
۱	<p>جاهای خالی را با کلمه مناسب پر کنید.</p> <p>۱- در زمان پادشاهی----- حکومت صفویان تثبیت شد.</p> <p>۲- کشور----- وانگلستان در ایران علاوه بر لینگه بخش هایی از خاک ایران را جدا کردند، برای توسعه ی نفوذ توسعه اقتصادی در ایران به رقابت پرداختند.</p>	ب
۱	<p>به سوالات زیر پاسخ کوتاه دهید.</p> <p>۱- نخستین حرکت جدی مردم ایران برای رهایی از نفوذ خارجی و ایستادگی برابر ستم داخلی کدام بود؟</p> <p>۲- لقب کریم خان زند چه بود؟</p>	ج
۱	<p>به سوالات زیر پاسخ دهید.</p> <p>۶- چرا صفویان در جنگ چالدران در برابر عثمانی ها شکست خوردند؟</p> <p>۷- دو مورد از اقدامات امیر کبیر را نام ببرید.</p>	د
۲۰	<p>بهترین ها نصیبان-رجبی ناظر</p>	

