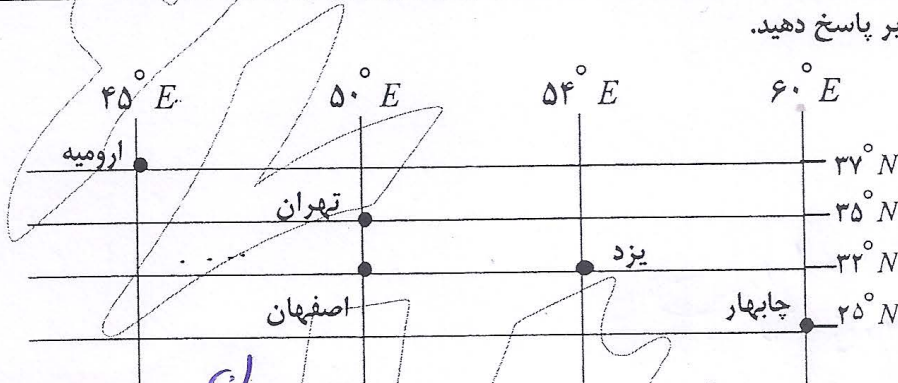


مدت امتحان: ۷۰ دقیقه	ساعت شروع: ۸ صبح	سؤالات امتحان هماهنگ شهر تهران درس: مطالعات اجتماعی
صفحه ۱ از ۴	تاریخ امتحان: ۱۳۹۷/۰۳/۲۲	نام و نام خانوادگی:
اداره کل آموزش و پرورش شهر تهران		پایه نهم دوره متوسطه اول خرداد ماه ۱۳۹۷

بارم	سؤالات	ردیف
------	--------	------

بخش اختیاری فصل اول تا آخر فصل ششم
دانش آموز عزیز لطفاً در این بخش فقط دو فصل را انتخاب کنید و به سؤالات همان دو فصل پاسخ دهید.

۰/۱۵
۱- اگر خورشید بر مدار راس السرطان عمود بتابد، هم‌زمان در نیمکره جنوبی چه وضعی حاکم است؟
 (الف) اعتدال بهاری (ب) انقلاب تابستانی (ج) اعتدال پاییزی (د) انقلاب زمستانی


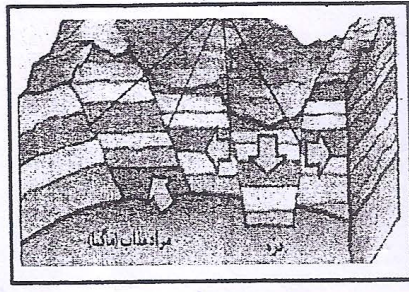



۰/۱۵ (الف) در کدام یک از شهرهای مشخص شده اذان صبح هم‌زمان شنیده می‌شود؟ چرا؟
 (ب) اگر ساعت واقعی در چابهار ۶ بعد از ظهر باشد در ارومیه ساعت واقعی چند است؟
 (ج) عرض جغرافیایی شهر تهران چقدر است؟
برال - اصفهان - ارومیه - یزد
۳۷° N

۰/۱۵
۳- دما در کدام یک از ناهمواری‌های زیر در فصل زمستان سردتر است؟ (اگر تقریباً در یک عرض جغرافیایی قرار داشته باشند).
 (الف) قله (ب) کوهپایه (ج) دشت (د) جلگه

۰/۱۵
۴- تشکیل ابرها و بسیاری از تغییرات آب و هوایی در لایه تروپوسفر اتفاق می‌افتد. درست نادرست

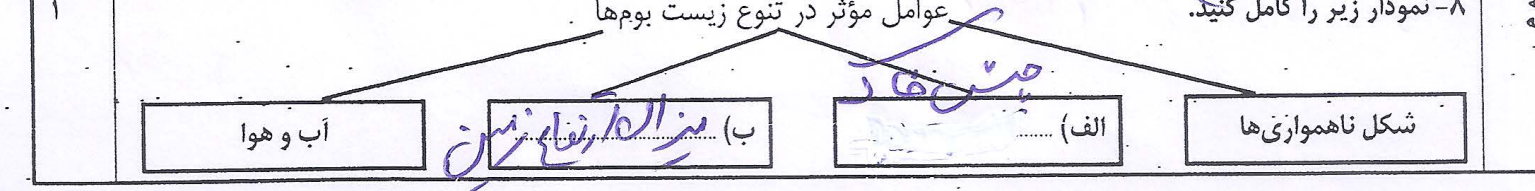
۱/۱۵
۵- هر یک از شکل‌های زیر به کدام یک از عوامل پیدایش و تغییر دهنده ناهمواری‌ها اشاره دارد؟
 (عوامل طبیعی درونی، عوامل طبیعی بیرونی، عوامل انسانی)



(الف) انسان (ب) درونی (ج) درونی

۰/۱۵
۶- یک گردشگر قصد دارد به زیست بومی برود که دارای علفزارهای بلند با درختان تک و منفرد است. او باید به کدام زیست بوم سفر کند؟ (الف) تایگا (ب) ساوان (ج) توندرا (د) جنگل‌های بارانی استوایی

۰/۱۵
۷- دو مورد از فواید جنگل‌های بارانی استوایی را بنویسید. ۱- تولید اکسیژن ۲- حفاظت از آب و خاک



۹- میانگین سال‌های تحصیل در ایران ۷/۸ سال و در پاکستان ۴/۷ سال و در آلمان ۱۲/۹ سال می‌باشد. این میانگین‌ها به کدام یک از ملاک‌های توسعه انسانی اشاره دارد؟ **سواد و آموزش**

۱۰- جدول زیر را کامل کنید.

۱- در صد سال اخیر یکی از تغییرات مهم در الگوی سکونت جمعیت جهان است.
 ۲- وقتی درصد رشد جمعیت به کمتر از صفر برسد.
 ۳- جابه‌جایی مردم به منظور کار و زندگی را می‌گویند.
 ۴- فرهنگ و باورهای غلط مردم جزو کدام یک از عوامل نابرابری در جهان است؟

ش	ه	ر	ل	ن	ی
ر	ه	د	م	ل	ف
م	و	ا	ج	ر	ع
د	ا	خ	ل	ی	

فصل چهارم

۱۱- اگر شما یک بازرگان ایرانی در دوره سلطنت شاه عباس صفوی بودید و در شهر اصفهان زندگی می‌کردید:
 الف) به جز شما چه گروه‌های دیگری از مردم در شهر اصفهان زندگی می‌کردند؟ (دو مورد)
 ب) در شهر اصفهان، صنایع و کارگاه‌های متعددی وجود داشت یکی از این صنایع، با صنعت نساجی اروپا رقابت می‌کرد. نام این صنعت چه بود؟ **پارچه‌سازی**

فصل پنجم

۱۲- هر یک از اقدامات زیر مربوط به کدام پادشاه صفوی است؟ (وصل کنید) (یک مورد اضافه است).
 الف) رسمی کردن مذهب شیعه
 ب) تسلیم در برابر شورشیان افغان
 ج) عقب راندن ازبک‌ها و عثمانی‌ها به پشت مرزهای ایران
 د) شاه اسماعیل

۱۳- با توجه به متن به سؤالات زیر پاسخ دهید:
 نخستین حرکت جدی مردم ایران برای رهایی از نفوذ و سلطه خارجی و ایستادگی در برابر ستم داخلی بود و پیروزی در آن حس اعتماد به نفس و روحیه مقاومت و مبارزه را در مردم تقویت کرد.
 الف) این متن به چه نهضتی اشاره می‌کند؟ **نهضت تنبلی**
 ب) علت شکل گرفتن این نهضت در ایران چه بود؟ **واکنش مردم از خرد و خردی و تنبلی و تنبلی به بیگانگان**

فصل ششم

۱۴- هر یک از وقایع زیر را به ترتیب زمان وقوع بنویسید.
 لشکرکشی به هند و کسب غنائم فراوان / دو دوره جنگ با روسیه / برقراری ثبات و آرامش نسبی در ایران و پایان دادن به ناامنی و شورش‌های داخلی

۱- **شکست در هند** ۲- **برقراری ثبات و آرامش** ۳- **دوره غنایم فراوان**



سؤالات امتحان هماهنگ شهر تهران درس: مطالعات اجتماعی	ساعت شروع: ۸ صبح	مدت امتحان: ۷۰ دقیقه
نام و نام خانوادگی:	تاریخ امتحان: ۱۳۹۷/۰۳/۲۲	صفحه ۳ از ۴
پایه نهم دوره متوسطه اول خرداد ماه ۱۳۹۷		
ردیف	سؤالات	بارم

بخش اجباری فصل هفتم تا دوازدهم دانش آموز عزیز لطفاً به همه ی سؤالات از ۱۵ تا ۲۵ که شامل فصل هفتم تا دوازدهم می باشد، به طور کامل پاسخ دهید.

۱-۱۵ گزینه مناسب را انتخاب کرده و علامت بزنید.

۱- پس از چه رویدادی محمدعلی شاه قاجار از سلطنت برکنار شد؟
 الف) فتح تهران
 ب) به توپ بستن مجلس
 ج) صدور فرمان مشروطیت
 د) قیام مردم تبریز و اصفهان

۲- حیف و میل و غارت ثروت و سرمایه های ملی ایران توسط خاندان پهلوی از جمله دلایل مخالفت مردم با محمد رضا شاه بود.
 الف) فرهنگی
 ب) اقتصادی
 ج) سیاسی
 د) اجتماعی

۱۶- جدول زیر را کامل کنید.

۱- از مخالفان سرسخت شیوه حکومت رضاخان بود:
 ۲- از شعارها و خواسته های اصلی مردم ایران در جریان انقلاب اسلامی:
 ۳- دولت خارجی که از طراحان کودتای ۲۸ مرداد ۱۳۳۲ محسوب می شود:

۰/۱۵	۴	۱ ←
۰/۱۵	۱	۲ ←
۰/۱۵	۱	۳ ←

۱۷- عباس میرزا و امیرکبیر به منظور پیشرفت ایران، افرادی را برای آموختن علم و صنعت به اروپا فرستادند و با تأسیس مدارس جدید سعی کردند افراد بیشتری علوم و فنون جدید را بیاموزند این اقدامات منجر به ظهور گروهی به نام روشنفکران در ایران شد. این روشنفکران در جریان انقلاب مشروطه چه نقشی داشته و چه اقداماتی انجام دادند؟ (یک مورد)

آنها از طریق کتاب - روزنامه مردم را با بی سن حرکت ساز و وسیله حرکت

۱۸- وقایع زیر را یا توجه به تاریخ وقوع آن بر روی نمودار بنویسید.

ورود امام خمینی (ره) به ایران / اعتراض مردم قم به انتشار مقاله توهین آمیز به امام خمینی (ره) / کشتار تظاهرکنندگان تهرانی در میدان ژاله (شهدا)

۱۳۴۲ خرداد ۱۵	۱۳۵۶ دی ماه ۱۹	۱۳۵۷ شهریور ۱۷	۱۳۵۷ بهمن ۱۲	۱۳۵۷ بهمن ۲۲
اعتراض مردم به دستگیری امام	الف) میانگرمی	ب) جمعی	ج) یورش به (ره) ب	پیروزی انقلاب

۱۹- گزینه صحیح را انتخاب کرده علامت بزنید.

۱- علی ۱۵ سال دارد فردی قد بلند با چشمانی مشکی است او به فوتبال علاقه مند است و عضو تیم مدرسه می باشد. کدام یک از ویژگی های ذکر شده به هویت فردی، اخلاقی و روانی او اشاره می کند؟
 الف) ۱۵ سال دارد. ب) قد بلند است. ج) چشمانی مشکی دارد. د) به فوتبال علاقه دارد.

۲- عزل و نصب فقهای شورای نگهبان از وظایف کیست؟
 الف) رئیس جمهور ب) رئیس مجلس ج) رهبر د) رئیس قوه قضاییه

۲۰- عبارات صحیح و غلط را مشخص کنید.

۱- با مطالعه تاریخ زندگی مردم ایران در گذشته متوجه می شویم آن ها دارای تفکر بهره روری در زندگی بوده اند. غ ص

۲- شوراهای اسلامی با هدف همکاری دولت برای پیشبرد برنامه های اجتماعی، فرهنگی، اقتصادی و عمرانی تشکیل می شوند. غ ص



سؤالات امتحان هماهنگ شهر تهران درس: مطالعات اجتماعی	ساعت شروع: ۸ صبح	مدت امتحان: ۷۰ دقیقه
نام و نام خانوادگی:	تاریخ امتحان: ۱۳۹۷/۰۳/۲۲	صفحه ۴ از ۴
پایه نهم دوره متوسطه اول خرداد ماه ۱۳۹۷		
اداره کل آموزش و پرورش شهر تهران		

ردیف	سؤالات	بارم
------	--------	------

۲۱- جدول زیر را کامل کنید.

۱- اولین گام در راه تشکیل یک خانواده متعادل و سالم دقت در انتخاب است.

۲- از جمله روش‌های اجتماعی کردن اعضای خانواده:

۳- اتحاد و پیوستگی خویشان و نزدیکان:

۱	ه	م	س	ر
۲	گ	ف	د	و
۳	ص	ل	ه	ا
	م	۱	ع	ا

۲۲- نمودار زیر را کامل کنید.

کارکردهای خانواده

- ۱- فرزند آوری و تجدید نسل
- ۲- حمایت و مراقبت
- ۳- جامعه پذیری و تربیت

۲۳- کدام یک از موارد زیر جزء حقوق و کدام یک جزء تکالیف شهروندی است؟

هر یک از ما می‌توانیم در امور سیاسی جامعه خود مشارکت کرده و در سرنوشت کشورمان نقش داشته باشیم. ما باید از آموزش و پرورش و مراکز فرهنگی و ورزشی بهره‌مند شویم. البته مشارکت و همکاری با دولت و پرداخت به موقع مالیات و عوارض نیز از وظایف ما است.

تکالیف شهروندی

حقوق شهروندی

۱- مشارکت در امر سیاسی و سرنوشت خود و همکاری با دولت

۲- بهره‌مندی از امکانات و خدمات شهرداری و پرداخت به موقع مالیات و عوارض

۲۴- در متن زیر لایه‌های فرهنگ را مشخص کنید. (برای هر کدام یک مورد)

در تمام سال شبی به عظمت و فضیلت شب قدر نمی‌باشند. شبی که در آن هر عبادتی برابر با هزار ماه عبادت است. شب قدر سراسر سلامت و آرامش و عافیت است. باید که بیدار ماند و کلام خدا را سر گرفت و ذکر یا رب یا رب را زمزمه کرد. من بیدار می‌مانم و ایمان دارم درهای آسمان باز است و خداوند میزبان قلب‌های شکسته و چشمان نمناک است.

نماد: هزار ماه عبادت	ارزش: شب قدر - عبادت
هنجار: بیدار ماندن در آن روز	عقیده: عبادت با زهد در دنیا و آسودگی

۲۵- به فرموده مقام معظم رهبری (مدظله‌العالی) امسال، سال حمایت از تولید کالای ایرانی نامیده شده است. به نظر شما:

(الف) چگونه می‌توانیم به عنوان یک دانش آموز در این اقدام ملی مشارکت کنیم؟ (دو مورد)

۱- خرید کالای ایرانی

۲- تبلیغ کالای ایرانی (و عوارض آن)

(ب) یک تولید کننده مواد غذایی چگونه می‌تواند با توجه به این فرموده مقام معظم رهبری (مدظله‌العالی) اصل بهره‌وری سبزی را تیز رعایت کند؟ (یک پیشنهاد)

زمانی که به محصولات تازه تر و سالم‌تر از بیابان استفاده کند

موفق باشید

جمع کل	۲۰۰
نام و نام خانوادگی مصحح:	امضا:
با حروف:	با عدد:
نمره کتبی (برگه)	