

مجموعه سوالات امتحان نهایی

نهم

متوسطه دوره اول

خراسان رضوی

سال ۹۷

دبیرستان پیام غدیر

Payameghdir.ir



شماره صفحه

فهرست

۳-۱۷	قرآن
۱۸-۲۷	املای فارسی
۲۸-۶۷	ریاضی
۶۸-۸۷	زبان انگلیسی
۸۸-۱۱۴	علوم تجربی
۱۱۴-۱۹۰	پیامهای آسمان
۱۹۱-۲۱۱	عربی
۲۱۲-۲۲۱	انشای فارسی
۲۲۲-۲۴۵	مطالعات اجتماعی
۲۴۷-۲۶۹	آمادگی دفاعی

« باسمه تعالی »

تاریخ امتحان: ۱۳۹۷/۰۳/۰۱

اداره کل آموزش و پرورش خراسان رضوی

نام:

مدت امتحان: ۴۰ دقیقه

اداره سنجش آموزش و پرورش

نام خانوادگی:

ساعت شروع: ۱۰ صبح

سوالات امتحان هماهنگ نهم (متوسطه اول)

نام آموزشگاه:

تعداد صفحات: ۲

درس: آموزش قرآن

شماره داوطلب:

تعداد سؤال: ۷

Sanjesh.razavi.medu.ir

نوبت: خرداد ماه (نوبت صبح)

ردیف	سؤال	بارم
« وَاللَّهُ يَعْلَمُ مَا تُسْرِبُونَ وَ مَا تُعْلِنُونَ » : و خدا می داند آنچه را پنهان می کنید و آنچه را آشکار می سازید « (سوره نحل آیه ۱۹)		
دانش آموزان عزیز: ضمن آرزوی موفقیت برای شما، لطفاً با مطالعه دقیق ۷ سؤال زیر، پاسخ مناسب را در محل های تعیین شده، بنویسید.		
۱	درستی یا نادرستی ترجمه واژه های قرآنی را مشخص کنید: الف) لا تَطْعَمُوا: از حد نگذرید ب) مُنْذِرٌ: بیم دهنده ص <input type="checkbox"/> غ <input type="checkbox"/> ص <input type="checkbox"/> غ <input type="checkbox"/>	۰/۵
۲	ترجمه لغت « سَوَاءٌ » کدام گزینه است؟ الف) رستگاری <input type="checkbox"/> ب) سختی <input type="checkbox"/> ج) سرنوشت <input type="checkbox"/> د) مساوی <input type="checkbox"/>	۰/۲۵
۳	ترجمه کلمه « تَزْرَعُونَ » کدام گزینه است؟ الف) کشاورزی کردند <input type="checkbox"/> ب) می رویانید <input type="checkbox"/> ج) زراعت می کردید <input type="checkbox"/> د) کشاورزی کردید <input type="checkbox"/>	۰/۲۵
۴	ترجمه درست عبارت های زیر را با علامت ضربدر مشخص کنید: ۱) وَ أَجَلٍ مَّسْمُومٍ: الف) و مدتی مشخص <input type="checkbox"/> ب) و سرآمد مرگ <input type="checkbox"/> ۲) جُنُودَ السَّمَوَاتِ وَ الْأَرْضِ: الف) سربازان آسمان و زمین <input type="checkbox"/> ب) لشکریان آسمان ها و زمین <input type="checkbox"/>	۱
۵	با استفاده از کلمات داده شده، ترجمه کلمه های قرآنی را در جای مناسب بنویسید: (دو کلمه اضافه است) « زندگی - بسیار - بجوید - هلاکت - چراغ - برافراشته شد - یاری می کند - فرستنده - گناهان - می آزماید » يَنْصُرُ: ذُنُوبُ: اِبْتِغُوا: يَبْلُو: تَبَارُ: طَوِيلُ: مَعَاشُ: رُفِعَتْ:	۲
۶	معنای ترکیب ها و عبارت های قرآنی زیر را بنویسید: (هر عبارت ۰/۵ نمره) ۱) أُولَئِكَ هُمُ الْفٰسِقُونَ: همان ۲) يَجْعَلُ لَهُ مَخْرَجًا: برایش ۳) رَبِّ اغْفِرْ لِي وَ لِوَالِدَيَّ: پروردگارا مرا و ۴) سَيَجْعَلُ اللَّهُ بَعْدَ عُسْرٍ يُسْرًا: خدا بعد از آسانی .	۲
صفحه ۱	ادامه سوالات در صفحه بعد	

« باسمه تعالی »

تاریخ امتحان : ۱۳۹۷/۰۳/۰۱
مدت امتحان : ۴۰ دقیقه
ساعت شروع : ۱۰ صبح
تعداد صفحات : ۲
تعداد سؤال : ۷

اداره کل آموزش و پرورش خراسان رضوی
اداره سنجش آموزش و پرورش
سوالات امتحان هماهنگ نهم (متوسطه اول)
درس : آموزش قرآن
Sanjesh.razavi.medu.ir

نام :
نام خانوادگی :
نام آموزشگاه :
شماره داوطلب :
نوبت : خرداد ماه (نوبت صبح)

بارم	سؤال	ردیف
۴	<p>ترجمه آیات و عبارات قرآنی زیر را کامل کنید : (عبارت های ۱ تا ۵ هر کدام ۵/۰ نمره و عبارت های ۶ و ۷ هر کدام ۷/۰ نمره)</p> <p>۱) وَالَّذِي نَزَّلَ مِنَ السَّمَاءِ مَاءً بِقَدَرٍ : و کسی که از آسمان را به اندازه .</p> <p>۲) وَ لَقَدْ جَاءَ آلَ فِرْعَوْنَ التُّدْرُ : و قطعاً خاندان فرعون</p> <p>۳) لَقَدْ أَرْسَلْنَا رُسُلَنَا بِالْبَيِّنَاتِ : قطعاً پیامبران را با.....</p> <p>۴) فَاسْعُوا إِلَى ذِكْرِ اللَّهِ وَ ذَرُوا الْبَيْعَ : پس بشتابید به سوی خدا و رها کنید را .</p> <p>۵) وَقَالُوا لَوْ كُنَّا نَسْمَعُ أَوْ نَعْقِلُ : و گفتند یا اندیشه و درک می کردیم .</p> <p>۶) إِنَّا سَنُلْقِي عَلَيْكَ قَوْلًا ثَقِيلًا : قطعاً ما نازل خواهیم کرد بر</p> <p>۷) أَفَلَا يَنْظُرُونَ إِلَى الْإِبْلِ كَيْفَ خُلِقَتْ : پس آیا به که چگونه</p>	۷

صفحه ۲	موفق باشید	جمع بارم	۱۰
--------	------------	----------	----

دانش آموزان عزیز و همکاران محترم می توانند با مراجعه به سایت مندرج در سربرگ، سؤال و راهنمای تصحیح این درس را مشاهده نمایند.

نام و نام خانوادگی مصحح / دبیر	نمره نهایی پس از رسیدگی به اعتراضات	نام و نام خانوادگی مصحح / دبیر	تصحیح و نمره گذاری
	با عدد	با عدد	با حروف
امضاء :		امضاء :	

جمع نمرات (۲۰ نمره) :

نمره کتبی (۱۰ نمره) :

نمره شفاهی (۱۰ نمره) :

« نظرات مصدع ممتزم در صمیع یا غلط بودن پاسخ دانش آموزان صائب است »

(۱) الف ص (۰/۲۵) (ب) ص (۰/۲۵)

(۲) د مساوی (۰/۲۵)

(۳) ب می رویانید (۰/۲۵)

(۴) ۱- الف) و مدتی مشخص (۰/۵) ۲- ب) لشکریان آسمان ها و زمین (۰/۵)

(۵) یَنْصُرُ: یاری می کند (۰/۲۵) ذُنُوبُ: گناهان (۰/۲۵) اِبْتِغُوا: بجویید (۰/۲۵) یَبْلُو: می آزماید (۰/۲۵)

تَبَارَ: هلاکت (۰/۲۵) طَوِيلُ: بسیار (۰/۲۵) مَعَاشُ: زندگی (۰/۲۵) رُفِعَتْ: برافراشته شد (۰/۲۵)

(۶) ۱) اَوَّلِكَ هُمُ الْفٰسِقُوْنَ: آنان همان گناهکاران (نافرمانان - منحرفان) هستند (۰/۵)

۲) یَجْعَلُ لَهُ وَ تَحْرَجًا: قرار می دهد برایش راه نجاتی (محل خروجی) (۰/۵)

۳) رَبِّ اغْفِرْ لِي وَ لِوَالِدَيَّ: پروردگارا بیامرز مرا و پدر و مادرم را (برای پدر و مادرم) (۰/۵)

۴) سَيَجْعَلُ اللهُ بَعْدَ عُسْرٍ يُسْرًا: قرار خواهد داد خدا بعد از سختی آسانی. (۰/۵)

(۷) ۱) وَالَّذِي نَزَّلَ مِنَ السَّمَاءِ مَاءً بِقَدَرٍ: و کسی که نازل کرد (فرود فرستاد) از آسمان آب را به اندازه. (۰/۵)

۲) وَ لَقَدْ جَاءَ ءَالَ فِرْعَوْنَ التُّدْرُ: و قطعاً آمد برای خاندان فرعون هشدارها (هشدار دهندگان) (۰/۵)

۳) لَقَدْ اَرْسَلْنَا رُسُلَنَا بِالْبَيِّنَاتِ: قطعاً فرستادیم پیامبرانمان را با دلایل روشن. (۰/۵)

۴) فَاسْعَوْا اِلَى ذِكْرِ اللهِ وَ ذُرُوْا الْبَيْعَ: پس بشتابید به سوی یاد خدا و رها کنید خرید و فروش را. (۰/۵)

۵) وَ قَالُوا لَوْ كُنَّا نَسْمَعُ اَوْ نَعْقِلُ: و گفتند ای کاش می شنیدیم (گوش شنوا داشتیم) یا اندیشه و درک می کردیم. (۰/۵)

۶) اِنَّا سَلَّمْنَا عَلَيْكَ قَوْلًا ثَقِيْلًا: قطعاً ما نازل خواهیم کرد بر تو سخنی (گفتاری) با ارزش (سنگین - گران بار). (۰/۷۵)

۷) اَفَلَا يَنْظُرُوْنَ اِلَى الْاِبْلِ كَيْفَ خُلِقَتْ: پس آیا دقت نمی کنند (نمی بینند) به شتر که چگونه خلق شد. (۰/۷۵)

یادآوری:

- ۱- مبنا در پاسخ دانش آموزان ترجمه تحت اللفظی آن هاست، از این رو، اگر دانش آموز برخی از کلمه ها - مانند « را »، فعل های ربطی (است، هستم، ..) و .. را در ترجمه ننویسد، نمره ای از او کسر نمی شود. در صورتی که ترجمه روان و صحیح ارائه شده باشد، نیز نمره ی کامل را خواهد داشت.
- ۲- در صورتی که دانش آموز حروف اضافه را به شکل معنای اولیه و اصلی آن ها معنا کند، صحیح است؛ هر چند که در عبارت مورد سؤال، ممکن است بهتر باشد آن حرف به صورت دیگری معنا شود؛ مانند حرف اضافه «ب» در عبارت «مَنَامُكُمْ بِاللَّيْلِ وَ النَّهَارِ» که بهتر است «در» معنا شود ولی اگر دانش آموز «به» معنا کند، نمره ای از او کسر نمی شود. هم چنین، حرف اضافه «مِنْ» که در هر جا «از» معنا شود، صحیح محسوب می شود.
- ۳- اگر دانش آموز فعلی را که به هر دلیل در کتاب درسی به دو صورت معنا شده است، به هر یک از دو معنا بنویسد، نمره کامل را خواهد گرفت. برای مثال برای افعالی که گاهی به تناسب جمله، ماضی و گاهی مضارع معنا می شوند، هر دو معنا صحیح است؛ یا اگر فعل مضارع در جمله ای به صورت مضارع اخباری یا التزامی معنا شود، صحیح است و نمره ای از دانش آموز کسر نمی شود.
- ۴- در صورتی که فعل مفردی، جمع یا برعکس معنا شود یا فعل ماضی به صورت مضارع یا برعکس معنا شود، در صورت امکان و قابل تقسیم بودن فقط نیمی از نمره مربوطه به آن کلمه کسر می شود.
- ۵- در ترجمه ترکیب ها و عبارات ها به هر میزان که از آن ترکیب یا عبارت معنا شده است، همان مقدار نمره تعیین شده تعلق می گیرد.
- ۶- فعل مفردی که فاعل آن، اسم ظاهر و جمع است، اگر به جای جمع، مفرد معنا شود، صحیح محسوب شده و نمره ای کسر نمی شود مانند: فَسَجَدَ الْمَلَائِكَةُ: پس سجده کرد فرشتگان.

همکاران گرامی خسته نباشید

« باسمه تعالی »

تاریخ امتحان : ۱۳۹۷/۰۳/۰۱
مدت امتحان : ۴۰ دقیقه
ساعت شروع : ۱۳ (۱ بعد از ظهر)
تعداد صفحات : ۲
تعداد سؤال : ۷

اداره کل آموزش و پرورش خراسان رضوی
اداره سنجش آموزش و پرورش
سوالات امتحان هماهنگ نهم (متوسطه اول)
درس : آموزش قرآن
Sanjesh.razavi.medu.ir

نام :
نام خانوادگی :
نام آموزشگاه :
شماره داوطلب :
نوبت : خرداد ماه (نوبت عصر)

بارم	سؤال	ردیف
« وَ اللَّهُ يَعْلَمُ مَا تُسْرِبُونَ وَ مَا تُعْلِنُونَ : وَ خَلَا مِي دَانْدَ أَنْجَمِ رَا پَنَهَانِ مِي كِيدِ وَ أَنْجَمِ رَا أَشْكَارِ مِي سَا زِيدِ » (سورة نحل آیه ۱۹)		
دانش آموزان عزیز : ضمن آرزوی موفقیت برای شما ، لطفاً با مطالعه دقیق ۷ سؤال زیر ، پاسخ مناسب را در محل های تعیین شده ، بنویسید .		
۰/۵	درستی یا نادرستی ترجمه واژه های قرآنی را مشخص کنید : الف) فوز : آرامش <input type="checkbox"/> ص <input type="checkbox"/> غ ب) أصلِحوا : اصلاح کردند <input type="checkbox"/> ص <input type="checkbox"/> غ	۱
۰/۲۵	ترجمه لغت « سائل » کدام گزینه است ؟ الف) چه بد است <input type="checkbox"/> (الف) پاک و بی عیب <input type="checkbox"/> ج) درخواست کننده <input type="checkbox"/> (د) آتش دوزخ <input type="checkbox"/>	۲
۰/۲۵	ترجمه کلمه « أَخَذْنَا » کدام گزینه است ؟ الف) می گیریم <input type="checkbox"/> (ب) درخواست دادیم <input type="checkbox"/> ج) گذاشتیم <input type="checkbox"/> (د) مجازات کردیم <input type="checkbox"/>	۳
۱	ترجمه درست عبارت های زیر را با علامت ضربدر مشخص کنید : الف) سرزمینی مرده <input type="checkbox"/> (ب) کشوری آرام <input type="checkbox"/> عَلَّمَهُ الْبَيَانَ : الف) به او سخن گفتن را یاد داد <input type="checkbox"/> (ب) آموخت به او قرآن را <input type="checkbox"/>	۴
۲	با استفاده از کلمات داده شده ، ترجمه کلمه های قرآنی را در جای مناسب بنویسید : (دو کلمه اضافه است) « تمام شد - جاودان - می باشد - قرار می دهد - هموار شد - می آید - برخیز - فردا - خوار کننده - باز هم » عَدَن : قَضِيَّتْ : يَجْعَلُ : يَأْتِي : قُمْ : سَطِحَتْ :	۵
۲	معنای ترکیب ها و عبارت های قرآنی زیر را بنویسید : (هر عبارت ۰/۵ نمره) الف) أَنزَلْنَا الْحَدِيدَ : ب) لِيَبْلُوَكُمْ : تا ج) سَبْحًا طَوِيلًا : د) كَيْفَ رُفِعَتْ :	۶
ادامه سؤالات در صفحه بعد		صفحه ۱

نام :	اداره کل آموزش و پرورش خراسان رضوی	تاریخ امتحان : ۱۳۹۷/۰۳/۰۱
نام خانوادگی :	اداره سنجش آموزش و پرورش	مدت امتحان : ۴۰ دقیقه
نام آموزشگاه :	سوالات امتحان هماهنگ نهم (متوسطه اول)	ساعت شروع : ۱۳ (۱ بعد از ظهر)
شماره داوطلب :	درس : آموزش قرآن	تعداد صفحات : ۲
نوبت : خرداد ماه (نوبت عصر)	Sanjesh.razavi.medu.ir	تعداد سؤال : ۷

ردیف	سؤال	بارم
۷	ترجمه آیات و عبارات قرآنی زیر را کامل کنید : (عبارت های ۱ تا ۵ هر کدام ۰/۵ نمره و عبارت های ۶ و ۷ هر کدام ۰/۷۵ نمره) (۱) أَمْ حَسِبَ الَّذِينَ اجْتَرَحُوا السَّيِّئَاتِ : آيا کسانی که انجام دادند را . (۲) الَّذِينَ كَفَرُوا وَ صَدَّوْا عَنْ سَبِيلِ اللَّهِ : کسانی که کافر شدند و از خدا . (۳) إِنَّ اللَّهَ خَبِيرٌ بِمَا تَعْمَلُونَ : قطعاً خدا است به آنچه (۴) تُنَجِّكُمْ مِنْ عَذَابٍ أَلِيمٍ : شما را از عذابی (۵) وَيَرْزُقُهُ مِنْ حَيْثُ لَا يَحْتَسِبُ : و روزی می دهد به او از (۶) قَالَ يَلْقَوْمِ إِنِّي لَكُمْ نَذِيرٌ مُبِينٌ : ای قوم من قطعاً من برایتان هستم . (۷) أَلَمْ نَجْعَلِ الْأَرْضَ مِهْدًا : آيا	۴

صفحه ۲	موفق باشید	جمع بarm	۱۰
--------	------------	----------	----

دانش آموزان عزیز و همکاران محترم می توانند با مراجعه به سایت مندرج در سربرگ، سؤال و راهنمای تصحیح این درس را مشاهده نمایند.

تصحیح و نمره گذاری		نام و نام خانوادگی مصحح / دبیر		نمره نهایی پس از رسیدگی به اعتراضات		نام و نام خانوادگی مصحح / دبیر	
با عدد	با حروف	با عدد	با حروف	با عدد	با حروف	با عدد	با حروف
	امضاء :		امضاء :		امضاء :		امضاء :
نمره شفاهی (۱۰ نمره) :		نمره کتبی (۱۰ نمره) :		جمع نمرات (۲۰ نمره) :			

« نظرات مصدق ممتزم در صمیم یا غلط بودن پاسخ دانش آموزان صائب است »

- (۱) الف غ (۰/۲۵) (ب) غ (۰/۲۵)
- (۲) ج) درخواست کننده (۰/۲۵)
- (۳) د) مجازات کردیم (۰/۲۵)
- (۴) ۱- الف) سرزمینی مرده (۰/۵) ۲- الف) به او سخن گفتن را یاد داد (۰/۵)
- (۵) عَدَّ : فردا (۰/۲۵) عَدَن : جاودان (۰/۲۵) قُضِيَتْ : تمام شد (۰/۲۵) يَجْعَلُ : قرار می دهد (۰/۲۵)
- يَأْتِي : می آید (۰/۲۵) قُمَّ : برخیز (۰/۲۵) ثُمَّ : باز هم (۰/۲۵) سُطِحَتْ : هموار شد (۰/۲۵)
- (۶) ۱) أَنْزَلْنَا الْحَدِيدَ : فرو فرستادیم (نازل کردیم) آهن را . (۰/۵)
 ۲) لِيَلْبُوْكُمْ : تا بپازماید شما را . (۰/۵)
 ۳) سَبَحًا طَوِيْلًا : کار و تلاشی بسیار (طولانی) . (۰/۵)
 ۴) كَيْفَ رُفِعَتْ : چگونه برافراشته شد . (۰/۵)
- (۷) ۱) أَمْ حَسِبَ الَّذِينَ اجْتَرَحُوا السَّيِّئَاتِ : آیا گمان کردند کسانی که انجام دادند کارهای بد (بدی ها) . (۰/۵)
 ۲) الَّذِينَ كَفَرُوا وَصَدَّوْا عَنْ سَبِيلِ اللَّهِ : کسانی که کافر شدند و مانع شدند از راه خدا . (۰/۵)
 ۳) إِنَّ اللَّهَ خَبِيرٌ بِمَا تَعْمَلُونَ : قطعاً خدا آگاه (با خبر) است به آنچه انجام می دهید (عمل می کنید) . (۰/۵)
 ۴) تُنَجِّيْكُمْ مِنْ عَذَابٍ أَلِيمٍ : نجات می دهد شما را از عذابی دردناک . (۰/۵)
 ۵) وَ يَرْزُقُهُ مِنْ حَيْثُ لَا يَحْتَسِبُ : و روزی می دهد به او از جایی که گمان نمی کند . (۰/۵)
 ۶) قَالَ يَلْقَوْمِ إِنِّي لَكُمْ نَذِيرٌ مُبِينٌ : گفت ای قوم من قطعاً من برایتان هشدار دهنده ای روشن هستم . (۰/۷۵)
 ۷) أَلَمْ يَجْعَلِ الْأَرْضَ مِهْدًا : آیا قرار ندادیم زمین را محل آرامش و استراحتی . (۰/۷۵)

یادآوری:

- ۱- مبنا در پاسخ دانش آموزان ترجمه تحت اللفظی آن هاست ، از این رو ، اگر دانش آموز برخی از کلمه ها - مانند « را » ، فعل های ربطی (است ، هستم ، ...) و .. را در ترجمه ننویسد ، نمره ای از او کسر نمی شود . در صورتی که ترجمه روان و صحیح ارائه شده باشد ، نیز نمره ی کامل را خواهد داشت .
- ۲- در صورتی که دانش آموز حروف اضافه را به شکل معنای اولیه و اصلی آن ها معنا کند ، صحیح است ؛ هر چند که در عبارت مورد سؤال ، ممکن است بهتر باشد آن حرف به صورت دیگری معنا شود ؛ مانند حرف اضافه « ب » در عبارت « مَنَامُكُمْ بِاللَّيْلِ وَ النَّهَارِ » که بهتر است « در » معنا شود ولی اگر دانش آموز « به » معنا کند ، نمره ای از او کسر نمی شود . هم چنین ، حرف اضافه « مِنْ » که در هر جا « از » معنا شود ، صحیح محسوب می شود .
- ۳- اگر دانش آموز فعلی را که به هر دلیل در کتاب درسی به دو صورت معنا شده است ، به هر یک از دو معنا بنویسد ، نمره کامل را خواهد گرفت . برای مثال برای افعالی که گاهی به تناسب جمله ، ماضی و گاهی مضارع معنا می شوند ، هر دو معنا صحیح است ؛ یا اگر فعل مضارع در جمله ای به صورت مضارع اخباری یا التزامی معنا شود ، صحیح است و نمره ای از دانش آموز کسر نمی شود .
- ۴- در صورتی که فعل مفردی ، جمع یا برعکس معنا شود یا فعل ماضی به صورت مضارع یا برعکس معنا شود ، در صورت امکان و قابل تقسیم بودن فقط نیمی از نمره مربوطه به آن کلمه کسر می شود .
- ۵- در ترجمه ترکیب ها و عبارت ها به هر میزان که از آن ترکیب یا عبارت معنا شده است ، به همان میزان از نمره تعیین شده تعلق می گیرد .
- ۶- فعل مفردی که فاعل آن ، اسم ظاهر و جمع است ، اگر به جای جمع ، مفرد معنا شود ، صحیح محسوب شده و نمره ای کسر نمی شود مانند: فَسَجَدَ الْمَلَائِكَةُ: پس سجده کرد فرشتگان .

همکاران گرامی خسته نباشید

« باسمه تعالی »

نام خانوادگی:	اداره کل آموزش و پرورش خراسان رضوی
نام آموزشگاه:	اداره سنجش آموزش و پرورش
شماره‌ی داوطلب:	سؤالات امتحان هماهنگ نهم متوسطه (دوره اول)
نوبت: غایبین موجه خرداد	درس: قرآن
	Sanjesh.razavi.medu.ir
تاریخ امتحان: ۹۷/۰۴/۰۹	
مدت امتحان: ۴۰ دقیقه	
ساعت شروع: ۱۳:۳۰ (۱:۳۰ بعد از ظهر)	
تعداد صفحات: ۲	
تعداد سوال: ۷	

ردیف	سؤال	بارم
	دانش آموزان عزیز: ضمن آرزوی موفقیت برای شما، لطفاً با مطالعه دقیق ۷ سؤال زیر، پاسخ مناسب را در محل های تعیین شده بنویسید.	
۱-	درستی یا نادرستی ترجمه واژه های قرآنی زیر را مشخص کنید. الف- یحیی: زنده می کند ب- تبار: سرزنش ص <input type="checkbox"/> غ <input type="checkbox"/> ص <input type="checkbox"/> غ <input type="checkbox"/>	۰/۵
۲-	ترجمه لغت «سعیر» کدام گزینه است؟ الف: سعادت مند <input type="checkbox"/> ب: آسانی <input type="checkbox"/> ج: دوزخ <input type="checkbox"/> د: شنوا <input type="checkbox"/>	۰/۲۵
۳-	ترجمه کلمه «بیع» کدام گزینه است؟ الف: رفت و آمد <input type="checkbox"/> ب: خرید و فروش <input type="checkbox"/> ج: بیعت <input type="checkbox"/> د: زندگی <input type="checkbox"/>	۰/۲۵
۴-	ترجمه درست عبارت های زیر را با علامت ضربدر مشخص کنید. (۱) لَعَلَّكُمْ تُرْحَمُونَ : الف- تامورد رحمت قرار گیرید <input type="checkbox"/> ب- تامورد رحمت قرار گرفتید. <input type="checkbox"/> (۲) إِنَّ اللَّهَ خَبِيرٌ بِمَا تَعْمَلُونَ : الف - قطعاً خداوند به آنچه انجام می دهید تواناست <input type="checkbox"/> ب - قطعاً خداوند به آنچه انجام می دهید آگاه است <input type="checkbox"/>	۱
۵-	با استفاده از کلمات داده شده، ترجمه کلمه های قرآنی را در جای مناسب بنویسید. (دو کلمه اضافه است) سنگین - برافراشته شد - کدام - آرامش - سختی - خانه ها - طولانی - هلاکت ثقیل : سُبَات : رُفَعَتْ : أی : بأس : مساکن :	۱/۵
۶-	معنای ترکیب ها و عبارت های قرآنی زیر را بنویسید. (هر عبارت ۰/۵ نمره) (۱) النَّبَأُ الْعَظِيمُ : (۲) فِي جَنَاتٍ وَعُيُونٍ : (۳) أَوْحِينَا إِلَيْكَ : (۴) مِنْ حَيْثُ لَا يَحْتَسِبُ :	۲

ادامه ی سؤالات در صفحه ی دوم

صفحه ۱

« باسمه تعالی »

تاریخ امتحان : ۹۷/۰۴/۰۹
مدت امتحان : ۴۰ دقیقه
ساعت شروع : ۱۳:۳۰ (۱:۳۰ بعد از ظهر)
تعداد صفحات : ۲
تعداد سوال : ۷

اداره کل آموزش و پرورش خراسان رضوی
اداره سنجش آموزش و پرورش
سؤالات امتحان هماهنگ نهم متوسطه (دوره اول)
درس : قرآن
Sanjesh.razavi.medu.ir

نام :
نام خانوادگی :
نام آموزشگاه :
شماره ی داوطلب :
نوبت : غایبین موجه خرداد

ردیف	سؤال	بارم
۷-	ترجمه آیات و عبارات قرآنی زیر را کامل کنید. (هر عبارت ۵/۰ نمره) (۱) اِنِّی نذِیْرٌ مُّبِیْنٌ قطعاً من (۲) یَغْفِرْ لَکُمْ مِیْنْ ذُنُوْبِکُمْ برای شما از (۳) تُنْجِیْکُمْ مِیْنْ عَذَابٍ از (۴) وَبِالْاَسْحَارِ هُمْ یَسْتَغْفِرُوْنَ و در سحرهایشان (۵) هُوَ الَّذِیْ اَنْزَلَ السَّکِیْنَةَ فِی قُلُوْبِ الْمُؤْمِنِیْنَ . «او کسی است که را در مؤمنان نازل کرد. (۶) لَیْقَوْمَ الْاِنَّاسِ بِالْقِسْطِ تا به پادارند (۷) الَّذِیْ خَلَقَ الْمَوْتَ وَالْحَیْوَةَ و را آفرید. (۸) فَاِذَا قُضِیَتِ الصَّلَاةُ پس هنگامی که (۹) وَ اِلَى الْجِبَالِ کَیْفَ نُصِبَتْ و به کوهها که	۴/۵

دانش آموزان عزیز و همکاران محترم می توانند با مراجعه به سایت مندرج در سربرگ، سوال و راهنمای تصحیح این درس را مشاهده نمایند

صفحه ۲		موفق باشید		جمع بام	
تصحیح و نمره گذاری		نام و نام خانوادگی مصحح / دبیر		نمره نهایی پس از رسیدگی به اعتراضات	
با عدد	با حروف	با عدد	با حروف	با عدد	با حروف
	امضاء :		امضاء :		امضاء :

همکار گرامی ضمن عرض سلام: «نظرات مصحح محترم در صحیح یا غلط بودن پاسخ دانش آموزان صائب است»

۱- الف - ص (۰/۲۵) ب - غ (۰/۲۵)

۲- دوزخ (۰/۲۵)

۳- خرید و فروش (۰/۲۵)

۴- ۱ الف (۰/۵) ۲ - ب (۰/۵)

۵- ثقیل: سنگین (۰/۲۵) سُبَات: آرامش (۰/۲۵) رُفَعَت: برافراشته شد (۰/۲۵)

أی: کدام (۲۵۰) بَأْس: سختی (۰/۲۵) مساکن: خانه ها (۰/۲۵)

۶- ۱) النَّبَأُ الْعَظِيمُ: خبر بزرگ (۰/۵) ۲) فِی جَنَاتٍ وَ عُیُونٍ: در بهشت ها و چشمه ها (چشمه سارهایند) (۰/۵)

۳) أَوْحَيْنَا إِلَيْكَ: به سوی تو وحی کردیم (۰/۵) ۴) مِنْ حَيْثُ لَا يَحْتَسِبُ: از آن جا که گمان نمی کند. (۰/۵)

۷- ۱) إِنِّي نَذِيرٌ مُّبِينٌ: قطعاً من پند دهنده‌ی آشکار هستم. (۰/۵)

۲) يَغْفِرْ لَكُمْ مِنْ ذُنُوبِكُمْ: می آمرزد برای شما از گناهانتان. (۰/۵)

۳) تُنَجِّيْكُمْ مِنْ عَذَابٍ: نجات می دهد شما را از عذاب. (۰/۵)

۴) وَ بِالْأَسْحَارِ هُمْ يَسْتَعْفِرُونَ. و در سحر هایشان استغفار می کنند (آمزش می خواهند). (۰/۵)

۵) هُوَ الَّذِي أَنْزَلَ السَّكِينَةَ فِي قُلُوبِ الْمُؤْمِنِينَ. او کسی است که آرامش را در دل های مؤمنان نازل کرد. (۰/۵)

۶) لِيَقُومَ النَّاسُ بِالْقِسْطِ. تا به پا دارند مردم عدل و داد را. (۰/۵)

۷) الَّذِي خَلَقَ الْمَوْتَ وَالْحَيَوَةَ. کسی که مرگ و زندگی را آفرید. (۰/۵)

۸) فَإِذَا قُضِيَتِ الصَّلَاةُ. پس هنگامی که نماز تمام شد. (۰/۵)

۹) وَالِى الْجِبَالِ كَيْفَ نُصِبَتْ. و به کوه ها که چگونگی بر پا داشته شده است. (۰/۵)

یاد آوری:

۱- مبنا در پاسخ دانش آموزان ترجمه ی تحت الفظی آن هاست. از این رو، اگر دانش آموز برخی از کلمه ها -مانند «را» فعل های ربطی (است، هستم...) و ... را در ترجمه ننویسد، نمره ای از او کسر نمی شود. در صورتی که ترجمه روان و صحیح ارائه شده باشد، نیز نمره ی کامل را خواهد داشت.

۲- در صورتی که دانش آموز حروف اضافه را به شکل معنای اولیه و اصلی آن ها معنی کند، صحیح است؛ هر چند که در عبارت مورد سوال، ممکن است بهتر باشد آن حرف به صورت دیگری معنا شود؛ مانند حرف اضافه ی «ب» در عبارت «مَنَامُكُمْ بِاللَّيْلِ وَالنَّهَارِ» که بهتر است، در، معنا شود ولی اگر دانش آموز، به، معنا کند. نمره ای از او کسر نمی شود. هم چنین، حرف اضافه ی «من» که در هر جا «از» معنا شود، صحیح محسوب می شود.

۳- اگر دانش آموز فعلی را که به هر دلیل در کتاب درسی به دو صورت معنا شده است، به هریک از دو معنا بنویسد، نمره ی کامل را خواهد گرفت. برای مثال، برای افعالی که گاهی به تناسب جمله، ماضی و گاهی مضارع معنا می شوند، هر دو معنا صحیح است؛ یا اگر فعل مضارع در جمله ای به صورت مضارع اخباری یا التزامی معنا شود. صحیح است و نمره ای از دانش آموز کسر نمی شود.

۴- در صورتی که فعل مفردی، جمع یا برعکس معنا شود یا فعل ماضی به صورت مضارع یا برعکس معنا شود، در صورت امکان و قابل تقسیم بودن فقط نیمی از نمره ی مربوطه به آن کلمه کسر می شود.

۵- در ترجمه ترکیب ها و عبارت ها به هر میزان که از آن ترکیب یا عبارت معنا شده است، همان مقدار نمره تعلق می گیرد..

۶- فعل مفردی که فاعل آن، اسم ظاهر و جمع است، اگر به جای جمع، مفرد معنا شود، صحیح محسوب شده و نمره ای کسر نمی شود مانند؛ فَسَجَدَ الْمَلَائِكَةُ؛ پس سجده کرد فرشتگان.

همکاران گرامی خسته نباشید.

« باسمه تعالی »

نام:

اداره کل آموزش و پرورش خراسان رضوی

نام خانوادگی:

اداره سنجش آموزش و پرورش

نام آموزشگاه:

سؤالات امتحان هماهنگ نهم متوسطه دوره اول

شماره‌ی داوطلب:

درس: قرآن

نوبت: جبرانی مردادماه

Sanjesh.razavi.medu.ir

تاریخ امتحان: ۹۷/۵/۱
مدت امتحان: ۴۰ دقیقه
ساعت شروع: ۹ صبح
تعداد صفحات: ۲
تعداد سوال: ۷

بارم	سؤال	ردیف
۰/۵	دانش آموزان عزیز: ضمن آرزوی موفقیت برای شما، لطفاً با مطالعه دقیق ۷ سؤال زیر، پاسخ مناسب را در محل های تعیین شده بنویسید. ۱- درستی یا نادرستی ترجمه واژه های قرآنی زیر را مشخص کنید. الف- شرع: مقرر کرد ب- انذر: هشدار می دهد ص <input type="checkbox"/> غ <input type="checkbox"/> ص <input type="checkbox"/> غ <input type="checkbox"/>	
۰/۲۵	۲- ترجمه لغت «قدر» کدام گزینه است؟ الف: سعادت مند <input type="checkbox"/> ب: اندازه گیری کرد <input type="checkbox"/> ج: اندازه <input type="checkbox"/> د: می تواند <input type="checkbox"/>	
۰/۲۵	۳- ترجمه کلمه «ذُئِب» کدام گزینه است؟ الف: گرگ ها <input type="checkbox"/> ب: گناهان <input type="checkbox"/> ج: بیعت <input type="checkbox"/> د: زندگی <input type="checkbox"/>	
۱	۴- ترجمه درست عبارت های زیر را با علامت ضربدر مشخص کنید. ۱) فَاصْلِحُوا : الف- پس اصلاح کنید <input type="checkbox"/> ب- پس آنها اصلاح کردند . <input type="checkbox"/> ۲) اِنَّ اللّٰهَ خَبِيْرٌ مَّا تَعْمَلُوْنَ : الف- قطعاً خداوند به آنچه انجام می دهید تواناست <input type="checkbox"/> ب- قطعاً خداوند به آنچه انجام می دهید آگاه است <input type="checkbox"/>	
۱/۵	۵- با استفاده از کلمات داده شده، ترجمه کلمه های قرآنی را در جای مناسب بنویسید. (دو کلمه اضافه است) یادکن - ازچه - هر کجا - خلق شد - سختی - خانه ها - طولانی - هلاکت أذْكَرُ : خُلِّقْتُ : عَمَّ : حَيْثُ : بَأْسٌ : مَسَاكِنُ	
۲	۶- معنای ترکیب ها و عبارت های قرآنی زیر را بنویسید. (هر عبارت ۰/۵ نمره) ۱) أَفَلَا يَنْظُرُونَ : ۲) فِى جَنّٰتٍ وَعُيُوْنٍ : ۳) لَا تَتَفَرَّقُوْا فِيْهِ : ۴) مِنْ حَيْثُ لَا يَحْتَسِبُ :	

ادامه ی سؤالات در صفحه ی بعد

صفحه ۱

« باسمه تعالی »

تاریخ امتحان : ۹۷/۵/۱
مدت امتحان : ۴۰ دقیقه
ساعت شروع : ۹ صبح
تعداد صفحات : ۲
تعداد سوال : ۷

اداره کل آموزش و پرورش خراسان رضوی
اداره سنجش آموزش و پرورش
سؤالات امتحان هماهنگ نهم متوسطه دوره اول
درس : قرآن
Sanjesh.razavi.medu.ir

نام :
نام خانوادگی :
نام آموزشگاه :
شماره ی داوطلب :
نوبت : جبرانی مردادماه

ردیف	سؤال	بارم
۷-	ترجمه آیات و عبارات قرآنی زیر را کامل کنید. (هر عبارت ۵ / ۰ نمره) (۱) اِنْ اَعْبُدُوا اللَّهَ وَاتَّقَوْهُ وَاَطِيعُوا که خدا را.....و تقوای او را پیشه کنید و مرا..... (۲) يَغْفِرْ لَكُمْ مِنْ ذُنُوبِكُمْبرای شما از..... (۳) تُنْجِيكُمْ مِنْ عَذَابٍاز..... (۴) كَذَّبُوا بِآيَاتِنَا كُذَّابًانشانه های.....همه اش را. (۵) تَجْرِي مِنْ تَحْتِهَا الْأَنْهَارُ خَالِدِينَ فِيهَا .«.....از زیرشان رودها در آن. (۶) لِيَقُومَ النَّاسُ بِالْقِسْطِ . تا به پادارند..... (۷) الَّذِي خَلَقَ الْمَوْتَ وَالْحَيَاةَ . کسی کهو.....را آفرید. (۸) ذَالِكُمْ خَيْرٌ لَكُمْ إِنْ كُنْتُمْ تَعْلَمُونَبهتر است برای شما اگر..... (۹) وَاللِّي الْجِبَالِ كَيْفَ نُصِبَتْ . و به کوهها که	۴/۵

دانش آموزان عزیز و همکاران محترم می توانند با مراجعه به سایت مندرج در سربرگ، سوال و راهنمای تصحیح این درس را مشاهده نمایند.

صفحه ۲		موفق باشید		جمع بarm		۱۰
تصحیح و نمره گذاری		نام و نام خانوادگی مصحح / دبیر		نمره نهایی پس از رسیدگی به اعتراضات		نام و نام خانوادگی مصحح / دبیر
با عدد	با حروف	با عدد	با حروف	با عدد	با حروف	امضاء :
						امضاء :

تاریخ امتحان ۱۳۹۷/۵/۱	باسمه تعالی
اداره سنجش آموزش و پرورش	راهنمای تصحیح سؤالات امتحان هماهنگ پایه نهم متوسطه دوره اول (استان خراسان رضوی) سال تحصیلی: ۹۷-۱۳۹۶ مردادماه
درس: قرآن	
همکار گرامی ضمن عرض سلام: «نظرات مصحح محترم در صحیح یا غلط بودن پاسخ دانش آموزان صائب است»	
۱- الف - ص (۰/۲۵)	ب - غ (۰/۲۵)
۲- ج) اندازه (۰/۲۵)	
۳- ب) گناهان (۰/۲۵)	
۴- ۱) الف (۰/۵)	۲) - ب (۰/۵)
۵- اذکر: یادکن (۰/۲۵)	خلقت: خلق شد (۰/۲۵)
حیث: هر کجا (۲۵.۰)	بأس: سختی (۰/۲۵)
عم: از چه (۰/۲۵)	مساکن: خانه ها (۰/۲۵)
۶- ۱) أَفَلَا يَنْظُرُونَ: پس آیا نگاه نمی کنند (۰/۵) ۲) فِی جَنَاتٍ وَ عُيُونٍ: در بهشت ها و چشمه ها (چشمه سارهایند) (۰/۵)	
۳) لَا تَتَفَرَّقُوا فِيهِ: در آن متفرق نشوید (در آن پراکنده نشوید) (۰/۵) ۴) مِنْ حَيْثُ لَا يَحْتَسِبُ: از آن جا که گمان نمی کند. (۰/۵)	
۷- ۱) أَنْ اعْبُدُوا اللَّهَ وَأَتَقَوْهُ وَأَطِيعُوا: که خدا را عبادت کنید و تقوای او را پیشه کنید. و مرا (از من) اطاعت کنید. (۰/۵)	
۲) يَغْفِرْ لَكُمْ مِنْ ذُنُوبِكُمْ: می آمرزد برای شما از گناهانتان. (۰/۵)	
۳) تُنَجِّبُكُمْ مِنْ عَذَابٍ: نجات می دهد شما را از عذاب. (۰/۵)	
۴) كَذَّبُوا بِآيَاتِنَا كَلِيفًا: تکذیب کردند نشانه های ما همه اش را. (۰/۵)	
۵) تَجْرِي مِنْ تَحْتِهَا الْأَنْهَارُ خَالِدِينَ فِيهَا: روان است (جاری است) از زیرشان رودها جاودانند در آن.. (۰/۵)	
۶) لِيَقُومَ النَّاسُ بِالْقِسْطِ: تا به پا دارند مردم عدل و داد را. (۰/۵)	
۷) آذَى خَلَقَ الْمَوْتَ وَالْحَيَوَةَ: کسی که مرگ و زندگی را آفرید. (۰/۵)	
۸) ذَالِكُمْ خَيْرٌ لَكُمْ إِنْ كُنْتُمْ تَعْلَمُونَ: این (آن) بهتر است برای شما اگر می دانستید (۰/۵)	
۹) وَالِى الْجِبَالِ كَيْفَ نُصِبَتْ: و به کوه ها که چگونه بر پا داشته شده است. (۰/۵)	
یاد آوری:	
۱- مبنا در پاسخ دانش آموزان ترجمه ی تحت الفظی آن هاست. از این رو، اگر دانش آموز برخی از کلمه ها -مانند «را» فعل های ربطی (است، هستم...) و ...	
را در ترجمه ننویسد، نمره ای از او کسر نمی شود. در صورتی که ترجمه روان و صحیح ارائه شده باشد، نیز نمره ی کامل را خواهد داشت.	
۲- در صورتی که دانش آموز حروف اضافه را به شکل معنای اولیه و اصلی آن ها معنی کند، صحیح است؛ هر چند که در عبارت مورد سوال، ممکن است بهتر باشد	
آن حرف به صورت دیگری معنا شود؛ مانند حرف اضافه ی «ب» در عبارت «مَأْمُوكُمْ بِاللَّيْلِ وَالنَّهَارِ» که بهتر است، در، معنا شود ولی اگر دانش آموز، به، معنا	
کند. نمره ای از او کسر نمی شود. هم چنین، حرف اضافه ی «مِنْ» که در هر جا «از» معنا شود، صحیح محسوب می شود.	
۳- اگر دانش آموز فعلی را که به هر دلیل در کتاب درسی به دو صورت معنا شده است، به هر یک از دو معنا بنویسد، نمره ی کامل را خواهد گرفت. برای مثال	
، برای افعالی که گاهی به تناسب جمله، ماضی و گاهی مضارع معنا می شوند، هر دو معنا صحیح است؛ یا اگر فعل مضارع در جمله ای به صورت مضارع اخباری یا	
التزامی معنا شود. صحیح است و نمره ای از دانش آموز کسر نمی شود.	
۴- در صورتی که فعل مفردی، جمع یا برعکس معنا شود یا فعل ماضی به صورت مضارع یا برعکس معنا شود، در صورت امکان و قابل تقسیم بودن فقط نیمی از	
نمره ی مربوطه به آن کلمه کسر می شود.	
۵- در ترجمه ترکیب ها و عبارت ها به هر میزان که از آن ترکیب یا عبارت معنا شده است، همان مقدار نمره تعلق می گیرد..	
۶- فعل مفردی که فاعل آن، اسم ظاهر و جمع است، اگر به جای جمع، مفرد معنا شود، صحیح محسوب شده و نمره ای کسر نمی شود	
مانند: فَسَجَدَ الْمَلَائِكَةُ: پس سجده کرد فرشتگان.	
همکاران گرامی خسته نباشید.	

« باسمه تعالی »

تاریخ امتحان: ۹۷/۰۶/۰۳
مدت امتحان: ۴۰ دقیقه
ساعت شروع: ۹ صبح
تعداد صفحات: ۲
تعداد سوال: ۷

اداره کل آموزش و پرورش خراسان رضوی
اداره سنجش آموزش و پرورش
سؤالات امتحان هماهنگ نهم متوسطه دوره اول
درس: قرآن
Sanjesh.razavi.medu.ir

نام:
نام خانوادگی:
نام آموزشگاه:
شماره‌ی داوطلب:
نوبت: شهریور ماه

ردیف	سؤال	بارم
۱-	دانش آموزان عزیز: ضمن آرزوی موفقیت برای شما، لطفاً با مطالعه دقیق ۷ سؤال زیر، پاسخ مناسب را در محل های تعیین شده بنویسید. درستی یا نادرستی ترجمه‌ی واژه های قرآنی زیر را مشخص کنید. الف - شَرَعَ: مقرر کرد ب - معاش: زندگی می کند ص <input type="checkbox"/> غ <input type="checkbox"/> ص <input type="checkbox"/> غ <input type="checkbox"/>	۰/۵
۲-	ترجمه لغت «اتَّبِعُوا» کدام گزینه است؟ الف: پیروی کردند <input type="checkbox"/> ب: تبعیت کنید <input type="checkbox"/> ج: اطاعت کنید <input type="checkbox"/> د: گمراه کردند <input type="checkbox"/>	۰/۲۵
۳-	ترجمه کلمه «خالدین» کدام گزینه است؟ الف: یاران <input type="checkbox"/> ب: جاودان <input type="checkbox"/> ج: رستگاری <input type="checkbox"/> د: برادران <input type="checkbox"/>	۰/۲۵
۴-	ترجمه درست عبارت های زیر را با علامت ضربدر مشخص کنید. (۱) أَفَرَأَيْتُمْ مَا تَحْرُثُونَ: الف - آیا دیدید آنچه را کاشتید <input type="checkbox"/> ب - پس آیا دقت کردید آنچه را می کارید <input type="checkbox"/> (۲) مَا كُنَّا فِي أَصْحَابِ السَّعِيرِ: الف - از اهل دوزخ نبودیم <input type="checkbox"/> ب - آنچه سزاوار اهل دوزخ می باشد <input type="checkbox"/>	۱
۵-	با استفاده از کلمات داده شده، ترجمه کلمه های قرآنی را در جای مناسب بنویسید. (دو کلمه اضافه است) پیامبران - شتر - هلاکت - فردا - گناهان - دست ها - به پاخیز - قیامت تبار: عَد: ذُنُوب: اِبِل: قُم: اُيُودِي:	۱/۵
۶-	معنای ترکیب ها و عبارت های قرآنی زیر را بنویسید. (هر عبارت ۰/۵ نمره) (۱) أَفَلَا يَنْظُرُونَ: (۲) هَذَا بَصَائِرُ لِلنَّاسِ: (۳) فَانثَرُوا فِي الْأَرْضِ: (۴) قَوْلًا ثَقِيلًا:	۲

« باسمه تعالی »

تاریخ امتحان : ۹۷/۰۶/۰۳
مدت امتحان : ۴۰ دقیقه
ساعت شروع : ۹ صبح
تعداد صفحات : ۲
تعداد سوال : ۷

اداره کل آموزش و پرورش خراسان رضوی
اداره سنجش آموزش و پرورش
سؤالات امتحان هماهنگ نهم متوسطه دوره اول
درس : قرآن
Sanjesh.razavi.medu.ir

نام :
نام خانوادگی :
نام آموزشگاه :
شماره ی داوطلب :
نوبت : شهریور ماه

بارم	سؤال	ردیف
۴/۵	<p>ترجمه آیات و عبارات قرآنی زیر را کامل کنید. (هر عبارت ۵/۰ نمره)</p> <p>(۱) <u>إِنَّا كُنَّا مُنذِرِينَ</u>. قطعا ما.....</p> <p>(۲) <u>لَا يَسْتَوِي أَصْحَابُ النَّارِ وَأَصْحَابُ الْجَنَّةِ</u>. اهل جهنم و اهل بهشت</p> <p>(۳) <u>وَمَا سَاكِنِ طَبِيبُهُ فِي جَنَّاتِ عَدْنٍ</u>. و منازل در بهشت های</p> <p>(۴) <u>فَاصْلَحُوا بَيْنَ أَخْوَيْكُمْ</u>. پس میان برادرانتان .</p> <p>(۵) <u>أَنْ أَقِيمُوا الدِّينَ</u>. دین را.</p> <p>(۶) <u>وَالِى الْأَرْضِ كَيْفَ سُطِحَتْ</u>. و به زمین</p> <p>(۷) <u>وَلَقَدْ يَسَّرْنَا الْقُرْآنَ لِلذِّكْرِ</u>. قطعا قرآن را به خاطر پند گرفتن</p> <p>(۸) <u>وَيُؤَخِّرْكُمْ إِلَى أَجَلٍ مُّسَمًّى</u>. و به شما تا سرآمد معین.</p> <p>(۹) <u>وَجَعَلْنَا نَوْمَكُمْ سُبَاتًا</u>. و خواب شمارا</p>	۷-

دانش آموزان عزیز و همکاران محترم می توانند با مراجعه به سایت مندرج در سربرگ، سوال و راهنمای تصحیح این درس را مشاهده نمایند.

صفحه ۲		موفق باشید		جمع بارم ۱۰	
تصحیح و نمره گذاری	نام و نام خانوادگی مصحح / دبیر	نمره نهایی پس از رسیدگی به اعتراضات	نام و نام خانوادگی مصحح / دبیر	نام و نام خانوادگی مصحح / دبیر	جمع بارم
با عدد	با حروف	با عدد	با حروف	با عدد	با حروف
	امضاء :		امضاء :		امضاء :

تاریخ امتحان ۱۳۹۷/۶/۰۳	باسمه تعالی راهنمای تصحیح سؤالات امتحان هماهنگ پایه نهم متوسطه دوره اول (استان خراسان رضوی)
اداره سنجش آموزش و پرورش	شهریور ماه سال تحصیلی: ۹۷ - ۹۶ درس: قرآن
همکار گرامی ضمن عرض سلام: «نظرات مصحح محترم در صحیح یا غلط بودن پاسخ دانش آموزان صائب است»	
۱- الف - ص (۰/۲۵)	ب - غ (۰/۲۵)
۲- الف - پیروی کردند (۰/۲۵)	
۳- ب - جاودان (۰/۲۵)	
۴- ۱) ب (۰/۵)	۲) - الف (۰/۵)
۵- تبار: هلاکت (۰/۲۵)	عَد: فردا (۰/۲۵)
۶- ایل: شتر (۲۵.۰)	قَم: به پاخیز (۰/۲۵)
۷- ۱) أَقْلًا يَنْظُرُونَ: آیا دقت نمی کنند (۰/۵)	۲) هَذَا بِصَائِرِ اللَّيْلِ: این بصیرت ها (بینش ها) برای مردم است (۰/۵)
۳) فَأَنْتُمْ فِي الْأَرْضِ: پس پراکنده شوید در زمین (۰/۵) ۴) قَوْلًا ثَقِيلًا: گفتار گران بار. (گفتار با ارزش). (۰/۵)	
۷- ۱) إِنْ نَا كُنَّا مُنْذِرِينَ: قطعاً ما بایم دهندگان (هشدار دهنده گان) هستیم (بودیم). (۰/۵)	
۲) لَا يَسْتَوِي اصْحَابُ النَّارِ وَ اصْحَابُ الْجَنَّةِ: اهل جهنم و اهل بهشت مساوی نیستند. (۰/۵)	
۳) وَ مَسَاكِينٍ طَيِّبَةٍ فِي جَنَّاتٍ عَدْنٍ: و منازل پاک در بهشت های جاودان. (۰/۵)	
۴) فَاصْلَحُوا بَيْنَ أَمْوَالِكُمْ. پس اصلاح کنید میان برادرانتان. (۰/۵)	
۵) أَنْ أَقِيمُوا لِلدِّينِ. که به پا دارید دین را. (۰/۵)	
۶) وَ إِلَى الْأَرْضِ كَيْفَ سُطِحَتْ. و به زمین چگونه هموار شد. (گسترده شد). (۰/۵)	
۷) وَ لَقَدْ يَسَّرْنَا الْقُرْآنَ لِلذِّكْرِ. قطعاً قرآن را به خاطر پند گرفتن آسان کردیم. (۰/۵)	
۸) وَ يُؤَخِّرْكُمْ إِلَى أَجَلٍ مُّسَمًّى. و مهلت می دهد به شما تا سرآمد معین. (۰/۵)	
۹) وَ جَعَلْنَا نَوْمَكُمْ سُبَاتًا. و خواب شما را برای تان آرامش و آسایش قرار دادیم. (۰/۵)	
یاد آوری:	
۱- مبنا در پاسخ دانش آموزان ترجمه ی تحت الفظی آن هاست. از این رو، اگر دانش آموز برخی از کلمه ها -مانند «را» فعل های ربطی (است، هستیم...) و ... را در ترجمه ننویسد، نمره ای از او کسر نمی شود. در صورتی که ترجمه روان و صحیح ارائه شده باشد، نیز نمره ی کامل را خواهد داشت.	
۲- در صورتی که دانش آموز حروف اضافه را به شکل معنای اولیه و اصلی آن ها معنی کند، صحیح است؛ هر چند که در عبارت مورد سوال، ممکن است بهتر باشد آن حرف به صورت دیگری معنا شود؛ مانند حرف اضافه ی «ب» در عبارت «مَمَّاكُمْ بِاللَّيْلِ وَالنَّهَارِ» که بهتر است، در، معنا شود ولی اگر دانش آموز، به، معنا کند، نمره ای از او کسر نمی شود. هم چنین، حرف اضافه ی «من» که در هر جا «از» معنا شود، صحیح محسوب می شود.	
۳- اگر دانش آموز فعلی را که به هر دلیل در کتاب درسی به دو صورت معنا شده است، به هریک از دو معنا بنویسد، نمره ی کامل را خواهد گرفت. برای مثال، برای افعالی که گاهی به تناسب جمله، ماضی و گاهی مضارع معنا می شوند، هر دو معنا صحیح است؛ یا اگر فعل مضارع در جمله ای به صورت مضارع اخباری یا التزامی معنا شود، صحیح است و نمره ای از دانش آموز کسر نمی شود.	
۴- در صورتی که فعل مفردی، جمع یا برعکس معنا شود یا فعل ماضی به صورت مضارع یا برعکس معنا شود، در صورت امکان و قابل تقسیم بودن فقط نیمی از نمره ی مربوطه به آن کلمه کسر می شود.	
۵- در ترجمه ترکیب ها و عبارت ها به هر میزان که از آن ترکیب یا عبارت معنا شده است، همان مقدار نمره تعلق می گیرد..	
۶- فعل مفردی که فاعل آن، اسم ظاهر و جمع است، اگر به جای جمع، مفرد معنا شود، صحیح محسوب شده و نمره ای کسر نمی شود مانند؛ فَسَجَدَ الْمَلَائِكَةُ: پس سجده کرد فرشتگان.	
همکاران گرامی خسته نباشید.	

« باسمه تعالی »

تاریخ امتحان : ۹۷ / ۰۳ / ۰۲
مدت امتحان : ۳۰ دقیقه
ساعت شروع : ۱۰ صبح
تعداد صفحات : ۱
تعداد سوال :

اداره کل آموزش و پرورش خراسان رضوی
اداره سنجش آموزش و پرورش
سوالات امتحان هماهنگ نهم (متوسطه اول)
درس : املا ی فارسی
Sanjesh.razavi.medu.ir

نام :
نام خانوادگی :
نام آموزشگاه :
شماره ی داوطلب :
نوبت : خردادماه ۹۷

متن املا ی فارسی

« لطفاً متن املا را دبیران ادبیات بخوانند. »

- ای ابوذر، خداوند به سیمای ظاهر و دارایی‌ها و گفته‌هایت نمی‌نگرد؛ بلکه به دل‌ها و کردارتان می‌نگرد.
- در زمین نگاه کن که چگونه بساط تو ساخته است و جوانب وی فراخ گسترانیده و از زیر سنگ‌های سخت آب‌های لطیف روان کرده تا بر روی زمین می‌رود و به تدریج بیرون می‌آید.
- آدمی باید که بسیار نگوید و سخن دیگری به سخن خود قطع نکند. اگر سؤال از جماعتی کنند که او داخل آن جماعت بود بر ایشان سبقت ننماید.
- امروز همین حسّ مشترک، هم‌جوشی و هم‌کوشی، همزیستی ما را معنا می‌بخشد. به همین سبب است که ملت ایران، یک‌صدا چونان شیر می‌غرند و ندای واحدی را برمی‌آورند.
- روزها می‌گذشت و هر روز، درخت وجود نصیرالدین پربارتر می‌شد؛ اما هرچه بیشتر می‌آموخت، عشق و علاقه‌اش به دانش‌اندوزی بیشتر می‌شد.
- الهی! تو می‌دانی که هوای دل من در موافقت فرمان توست و روشنایی چشم من در خدمت درگاه تو. اگر کار به دست من استی، یک ساعت از خدمتت نیاسودمی.
- نعمت فراموشی در آدمی، اگر تأمل کنی، عظیم‌تر است از نعمت یادآوری. اگر فراموشی در آدمی نبود، هیچ‌کس از مصیبتی آرامش نمی‌یافت و کینه هیچ‌کس از سینه‌اش بیرون نمی‌شد و از هیچ‌یک از نعمت‌ها، بهره‌مند نمی‌شد.
- من و شاهزاده کم‌کم با هم دوست شدیم. من هرروز چیزی از سیّاره و از عزیمت و از مسافرت او می‌فهمیدم. مثلاً پی بردم که شاهزاده در سیّاره خود گلی دارد که به او مهر می‌ورزد.

همکار ارجمند، شایسته است ارزیابی املا ی دانش آموزان، بر اساس «شیوه‌نامه ی املا» مندرج در «دفتر ثبت شاخص‌ها» انجام گیرد.

دانش‌آموزان عزیز و همکاران محترم می‌توانند با مراجعه به سایت مندرج در سربرگ، سوال این درس را مشاهده نمایند.

« باسمه تعالی »

تاریخ امتحان : ۹۷/۰۳/۰۲
مدت امتحان : ۳۰ دقیقه
ساعت شروع : ۱۰ صبح
تعداد صفحات : ۱
تعداد سوال :

اداره کل آموزش و پرورش خراسان رضوی
اداره سنجش آموزش و پرورش
سوالات امتحان هماهنگ نهم (متوسطه اول)
درس : املاي فارسي نقص عضو يدي
Sanjesh.razavi.medu.ir

نام :
نام خانوادگی :
نام آموزشگاه :
شماره ی داوطلب :
نوبت : خردادماه ۹۷

نقص عضو يدي

- ای ابوزر، خداوند به سیمای ظاهر و دارایی ها و گفته های تان نمی نگرد؛ بلکه به دل ها و کردار تان می نگرد.
- در زمین نگاه کن که چگونه بسات تو ساخته است و جوانب وی فراخ گسترانیده و از زیر سنگ های سخت آب های لتیف روان کرده تا بر روی زمین می رود و به تدریج بیرون می آید.
- آدمی باید که بسیار نگوید و سخن دیگری به سخن خود غطع نکند. اگر سؤال از جماعتی کنند که او داخل آن جماعت بود، بر ایشان صبقت ننماید.
- امروز همین حصّ مشترک، هم جوشی و هم کوشی، همزیستی ما را معنا می بخشد. به همین سبب است که ملت ایران، یک صدا چونان شیر می قرند و ندای واحدی را برمی آورند.
- روزها می گذشت و هر روز درخت وجود نسیرالدین پر بارتر می شد؛ اما هرچه بیشتر می آموخت عشق و علاقه اش به دانش اندوزی بیشتر می شد.
- الهی! دل من در موافقت فرمان توست و روشنایی چشم من در خدمت درگاه تو. اگر کار به دست من استی، یک ساعت از خدمتت نیاسودمی.
- نعمت فراموشی در آدمی، اگر تعمل کنی، عظیم تر است از نعمت یادآوری. اگر فراموشی در آدمی نبود، هیچ کس از مسیبتی آرامش نمی یافت و کینه هیچ کس از سینه اش بیرون نمی شد و از هیچ یک از نعمت ها، بحرمند نمی شد.
- من و شاهزاده کم کم با هم دوست شدیم. من هر روز چیزی از سیّاره و از عظیمت و از مصافرت او می فهمیدم. مثلن پی بردم که شاهزاده در سیّاره خود گلی دارد که به او مهر می ورزد.

همکار ارجمند، شایسته است ارزیابی املاي دانش آموزان، بر اساس «شيوه نامه ی املا» مندرج در « دفتر ثبت شاخص ها » انجام گیرد.

دانش آموزان عزیز و همکاران محترم می توانند با مراجعه به سایت مندرج در سربرگ، سوال این درس را مشاهده نمایند.

« باسمه تعالی »

تاریخ امتحان : ۹۷/۰۳/۰۲
مدت امتحان : ۳۰ دقیقه
ساعت شروع : ۱۳ (بعد از ظهر)
تعداد صفحات : ۱
تعداد سوال :

اداره کل آموزش و پرورش خراسان رضوی
اداره سنجش آموزش و پرورش
سوالات امتحان هماهنگ نهم (متوسطه اول)
درس : املا ی فارسی
Sanjesh.razavi.medu.ir

نام :
نام خانوادگی :
نام آموزشگاه :
شماره ی داوطلب :
نوبت : خرداد ماه ۹۷

متن املا ی فارسی

« لطفاً متن املا را دیران ادبیات بخوانند »

- ای ابوذر، مبدا با برادر مسلمانان قهر کنی؛ زیرا کردار شایسته در هنگام قهر، به درگاه پروردگار پذیرفته نمی شود.
- در خواندن متن های توصیفی از لحن توصیفی و آهنگی آرام و لطیف بهره می گیریم. همچنین دقت در مفهوم جمله ها در نوع بیان آهنگ کلام مؤثر است.
- در واقع دوستان در تمام لحظه های خوشی و ناخوشی به ما کمک می کنند. مصاحبت با یک دوست خوب و شکیبا همچون ورزش نسیم دل انگیزی است که احساس آرامش و صفای درون را در ما زنده می سازد.
- دیوان حافظ، نامه زندگی و زندگی نامه ماست. حافظ به ما خوب زیستن و شاد زیستن می آموزد. حافظ حکیمی متفکر و تفکر برانگیز است. فرزانه ای است با اندیشه های عمیق عرفانی و عواطف ژرف انسانی.
- مرد بیمار با کلماتی مقطوع از دوست دانشمندش تمنا کرد که یکی از مسائل علمی را که زمانی با وی در میان گذاشته بود، بازگوید. مرد گفت: ای دوست گرامی، اکنون چه جای این پرسش است؟ بیمار گفت: « بدانم و بمیرم بهتر است یا نادانسته و جاهل درگذرم ».
- داده است خداوند علیم به آدمی آنچه صلاح دین و دنیای او در آن هاست و منع کرده است از آدمی، دانستن امری چند را که در طاقت او نیست دانستن آن ها.
- چیزی که از وجود شاهزاده مرا تا این درجه مفتون خود می سازد، وفای او نسبت به گل است و این تصویر گل سرخ است که در وجود او، حتی به هنگام خواب نیز همچون شعله چراغ می درخشد.

همکار ارجمند، شایسته است ارزیابی املا ی دانش آموزان، بر اساس «شبهه نامه ی املا» مندرج در « دفتر ثبت شاخص ها » انجام گیرد.

دانش آموزان عزیز و همکاران محترم می توانند با مراجعه به سایت مندرج در سربرگ، سوال این درس را مشاهده نمایند.

« باسمه تعالی »

تاریخ امتحان : ۹۷/۰۳/۰۲
مدت امتحان : ۳۰ دقیقه
ساعت شروع : ۱۳ (بعد از ظهر)
تعداد صفحات : ۱
تعداد سوال :

اداره کل آموزش و پرورش خراسان رضوی
اداره سنجش آموزش و پرورش
سوالات امتحان هماهنگ نهم (متوسطه اول)
درس : املا ی فارسی
Sanjesh.razavi.medu.ir

نام :
نام خانوادگی :
نام آموزشگاه :
شماره ی داوطلب :
نوبت : خرداد ماه ۹۷

نقص عضو یدی

- ای ابوذر، مبدا با برادر مسلمانان قهر کنی؛ زیرا کردار شایسته در هنگام قهر، به درگاه پروردگار پذیرفته نمی شود.
- در خواندن متن های توصیفی از لهن توصیفی و آهنگی آرام و لتیف بهره می گیریم. همچنین دقت در مفهوم جمله ها در نوع بیان آهنگ کلام مؤثر است.
- در واقع دوستان در تمام لحظه های خوشی و ناخوشی به ما کمک می کنند. مساحت با یک دوست خوب و شکیبا همچون وزش نسیم دل انگیزی است که احساس آرامش و سفای درون را در ما زنده می سازد.
- دیوان حافظ، نامه زندگی و زندگی نامه ماست. حافظ به ما خوب زیستن و شاد زیستن می آموزد. حافظ حکیمی متفکر و تفکر برانگیز است. فرزانه ای است با اندیشه های امیق عرفانی و اواطف ژرف انسانی.
- مرد بیمار با کلماتی مقتع از دوست دانشمندش تمنا کرد که یکی از مساعل علمی را که زمانی با وی در میان گذاشته بود، باز گوید. مرد گفت: ای دوست گرامی، اکنون چه جای این پرسش است؟ بیمار گفت: « بدانم و بمیرم بهتر است یا نادانسته و جاهل در گزرم».
- داده است خداوند علیم به آدمی آنچه سلاح دین و دنیای او در آن هاست و منع کرده است از آدمی، دانستن امری چند را که در تافت او نیست دانستن آن ها.
- چیزی که از وجود شاهزاده مرا تا این درجه مفطون خود می سازد، وفای او نسبت به گل است و این تسویر گل سرخ است که در وجود او، حتی به هنگام خاب نیز همچون شعله چراق می درخشد.

همکار ارجمند، شایسته است ارزیابی املا ی دانش آموزان، بر اساس «شبهه نامه ی املا» مندرج در « دفتر ثبت شاخص ها» انجام گیرد.

دانش آموزان عزیز و همکاران محترم می توانند با مراجعه به سایت مندرج در سربرگ، سوال این درس را مشاهده نمایند.

« باسمه تعالی »

نام :	اداره کل آموزش و پرورش خراسان رضوی	تاریخ امتحان : ۹۷ / ۰۴ / ۱۲
نام خانوادگی :	اداره سنجش آموزش و پرورش	مدت امتحان : ۳۰ دقیقه
نام آموزشگاه :	سوالات امتحان هماهنگ نهم (متوسطه اول)	ساعت شروع : ۱۳:۳۰ (۱:۳۰ بعد از ظهر)
شماره‌ی داوطلب :	درس : املا ی فارسی	تعداد صفحات : ۱
نوبت : غایبین موجه خرداد	Sanjesh.razavi.medu.ir	تعداد سوال :

متن املا ی فارسی

« لطفاً متن املا را دیران ادبیات بخوانند. »

- به نام خداوند کیوان و گردان سپهر، شروع می کنیم که همه دیدگان او را به چشم دل بینند و همه گوش ها آوای او شنوند.
- تا مل کن ای مفضل در مصلحت پنهان کردن عمر هر کس از او، زیرا که اگر مقدار عمر خود را بداند، اگر عمرش کوتاه باشد، زندگی بر او ناگوار خواهد بود و اگر بداند که عمرش دراز خواهد بود، امید بقا خواهد داشت.
- من احتمالاً حساس و دقیق بودم که به چنین پاسخی اعتنا نکردم؛ تا این که مدت ها پیش، متقاعد شدم که افراد بی نا کم می بینند. و به ندرت از این قابلیت مقدس، کامل ترین بهره را می برند.
- مسجد جامع خرمشهر قلب شهر بود که می تپید و تا بود مظهر ماندن و استقامت بود.
- تمدن بزرگ و درخشان ایران مرهون و مدیون زنان و مردانی است که در موج خیز حادثه بی هیچ هراس به سمت ساحل آرامش و موفقیت شنا کرده اند.
- روباه آهی کشید و گفت : زندگی من یکنواخت است، ولی تو اگر مرا اهلی کنی، زندگی من چون خورشید خواهد درخشید و صدای پای تو چون نغمه ی موسیقی مرا از لانه بیرون خواهد کشید.
- نوجوانی تو لگد دوباره ی انسان است. در این مرحله ی پر تب و تاب، نوجوان افزون بر رابطه با خود، نیازمند رابطه ای دیگر نیز هست؛ نیازمند دو چشم دیگر که نوجوان را ببینند.
- دوستان واقعی، راه نیک بختی را به ما نشان می دهند و همراهان خوبی هستند آنها مثل آینه عیب ها را بی صدا و بی هیاهو باز می گویند، رسم دوستی شکستن آینه نیست درست آن است که خود را اصلاح کنیم.

همکار ارجمند، شایسته است ارزیابی املا ی دانش آموزان، بر اساس «شیوه نامه ی املا» مندرج در «دفتر ثبت شاخص ها» انجام گیرد.

دانش آموزان عزیز و همکاران محترم می توانند با مراجعه به سایت مندرج در سربرگ، سوال این درس را مشاهده نمایند.

« باسمه تعالی »

نام :	اداره کل آموزش و پرورش خراسان رضوی	تاریخ امتحان : ۹۷/۰۴/۱۲
نام خانوادگی :	اداره سنجش آموزش و پرورش	مدت امتحان : ۳۰ دقیقه
نام آموزشگاه :	سوالات امتحان هماهنگ نهم (متوسطه اول)	ساعت شروع : ۱۳:۳۰ (۳:۳۰ بعد از ظهر)
شماره‌ی داوطلب :	درس : املا‌ی فارسی نقص عضو یدی	تعداد صفحات : ۱
نوبت : غایبین موجه خرداد	Sanjesh.razavi.medu.ir	تعداد سوال :

نقص عضو یدی

- به نام خداوند کیوان و گردان صیبر، شروع می کنیم که همه دیده گان او را به چشم دل ببیند و همه گوش ها آوای او شنوند.
- تعمل کن ای مفضل در مصلحت پنهان کردن عمر هر کس از او ، زیرا که اگر مقدار عمر خود را بداند ، اگر عمرش کوتاه باشد ، زندگی بر او ناگوار خواهد بود و اگر بداند که عمرش دراز خواهد بود ، امید بقاع خواهد داشت.
- من احتمالاً حساس و دقیق بودم که به چنین پاسخی اعتنا نکردم ؛ تا این که مدت ها پیش ، متقاعد شدم که افراد بی‌نا کم می بینند. و به ندرت از این غابلیت مقدس ، کامل ترین بهره را می برند.
- مسجد جامه خرمشهر قلب شهر بود که می تپید و تا بود مضحهر ماندن و استغامت بود .
- تمدن بزرگ و درخشان ایران مرحون و مدیون زنان و مردانی است که در موج خیز هادته بی هیچ هراس به سمت ساحل آرامش و موفقیت شنا کرده اند.
- روباه آهی کشید و گفت : زندگی من یکنواخت است ، ولی تو اگر مرا احلی کنی ، زندگی من چون خورشید خواهد درخشید و صدای پای تو چون نغمه ی موسیقی مرا از لانه بیرون خواهد کشید.
- نوجوانی تولد دوباره ی انسان است. در این مرحله ی پر تب و طاب ، نوجوان افزون بر رابطه با خود ، نیازمند رابطه ای دیگر نیز هست ؛ نیازمند دو چشم دیگر که نوجوان را ببیند.
- دوستان واقعی ، راه نیک بختی را به ما نشان می دهند و همراهان خوبی هستند آن ها مثل آینه عیب ها را بی صدا و بی حیا هو باز می گویند ، رسم دوستی شکستن آینه نیست درست آن است که خود را اسلاح کنیم.

همکار ارجمند، شایسته است ارزیابی املا‌ی دانش آموزان، بر اساس «شیوه نامه‌ی املا» مندرج در «دفتر ثبت شاخص‌ها» انجام گیرد.

دانش آموزان عزیز و همکاران محترم می‌توانند با مراجعه به سایت مندرج در سربرگ، سوال این درس را مشاهده نمایند.

« باسمه تعالی »

تاریخ امتحان : ۹۷/۰۵/۰۷
مدت امتحان : ۳۰ دقیقه
ساعت شروع : ۹ صبح
تعداد صفحات : ۱
تعداد سوال :

اداره کل آموزش و پرورش خراسان رضوی
اداره سنجش آموزش و پرورش
سوالات امتحان هماهنگ نهم (متوسطه اول)
درس : املا ی فارسی
Sanjesh.razavi.medu.ir

نام :
نام خانوادگی :
نام آموزشگاه :
شماره ی داوطلب :
نوبت : جبرانی مرداد

متن املا ی فارسی

« لطفاً متن املا را دیران ادبیات بخوانند »

- بدان که خداوند زمین را بساط تو ساخته است تا با تماشای آن چشم باز کنی و عجایب بینی و مدهوش و متحیر شوی .
- خداوندا ، به مؤمنان ما روشنایی و به روشنفکران ما ایمان و به خفتگان ما بیداری ، به بیداران ما اراده و به مسلمانان ما قرآن ، به فرقه های ما وحدت و به مردم ما خود آگاهی و عزت ببخش.
- سخنان سرشار از حکمت پیامبر بزرگوار اسلام (ص)، رمز مکانی و رنگ روزگار ویژه ای ندارد. طنین دلنشین کلام ایشان، فراتر از جغرافیای فرهنگی تاریخ بشری است.
- مصاحبت با یک دوست خوب و شکیبا ، هم چون ورزش نسیم دل انگیزی است که احساس آرامش و سبکی و صفای درون را در ما زنده می سازد .
- ایران ما با همه فراخانی فرهنگی و گستردگی جغرافیایی و گوناگونی گویش ها و رنگارنگی لهجه ها به گلستانی می ماند که در دل و دامن خود عزیزکانی را بی توجه به رنگ و چهره ، نوا و ناله می پروراند .
- امیر خراسان می گوید با خواندن ابیات حنظله بادغیسی به شوکت دولت صفاریان دست یافتیم این دو بیت داعیه ای برای ترقی من شد و مرا به عز و نعمت و جاه رساند.
- سعدی در گلستان آورده است : " هر که با بدان نشیند اگر طبیعت ایشان در او اثر نکند به طریقت ایشان متهم گردد "
- همدم نیکو خصال موهبت های متعددی برای انسان به ارمغان می آورد و باعث خرسندی و خوش حالی ، احساس سبکی و صفای درون ، اثر گذاری در منش و کردار می شود.
- نقل است آن شب که رابعه در وجود آمد ، در خانه پدرش چندان جامه نبود که او را در آن پیچند و چراغ نبود. پدر او را سه دختر بود رابعه چهارم بود.

همکار ارجمند، شایسته است ارزیابی املا ی دانش آموزان، بر اساس «شیوه نامه ی املا» مندرج در « دفتر ثبت شاخص ها» انجام گیرد.

دانش آموزان عزیز و همکاران محترم می توانند با مراجعه به سایت مندرج در سربرگ، سوال این درس را مشاهده نمایند.

« باسمه تعالی »

تاریخ امتحان : ۹۷/۰۵/۰۷
مدت امتحان : ۳۰ دقیقه
ساعت شروع : ۹ صبح
تعداد صفحات : ۱
تعداد سوال :

اداره کل آموزش و پرورش خراسان رضوی
اداره سنجش آموزش و پرورش
سوالات امتحان هماهنگ نهم (متوسطه اول)
درس : املائی فارسی (نقص عضو یدی)
Sanjesh.razavi.medu.ir

نام :
نام خانوادگی :
نام آموزشگاه :
شماره ی داوطلب :
نوبت : جبرانی مرداد

متن املائی نقص عضو یدی

- بدان که خداوند زمین را بصاط تو ساخته است تا با تماشای آن چشم باز کنی و اجایب بینی و مدحوش و متحیر شوی .
- خداوندا ، به مؤمنان ما روشنایی و به روشنفکران ما ایمان و به خفته گان ما بیداری ، به بیداران ما اراده و به مسلمانان ما قرآن، به فرغه های ما وحدت و به مردم ما خود آگاهی و عزت ببخش.
- سخنان سرشار از حکمت پیامبر بزرگوار اسلام (ص)، مرز مکانی و رنگ روزگار ویژه ای ندارد. تنین دلنشین کلام ایشان، فراتر از جغرافیای فرهنگی تاریخ بشری است.
- مصاهبت با یک دوست خوب و شکیبیا ، هم چون وزش نسیم دل انگیزی است که احساس آرامش و سبکی و صفای درون را در ما زنده می سازد .
- ایران ما با همه فراخنای فرهنگی و گسترده گی جغرافیایی و گوناگونی گویش ها و رنگارنگی لوجه ها به گلستانی می ماند که در دل و دامن خود عزیزکانی را بی توجه به رنگ و چهره، نوا و ناله می پروراند .
- امیر خراسان می گوید با خواندن ابیات حنضله بادغیسی به شوکت دولت سفاریان دست یافتم این دو بیت داعیه ای برای ترقی من شد و مرا به عز و نعمت و جاه رساند.
- سعدی در گلستان آورده است : " هر که با بدان نشیند اگر طبیعت ایشان در او اثر نکند به طریقت ایشان متهم گردد "
- همدم نیکو خسال موحبت های متعددی برای انسان به ارمقان می آورد و باعث خورسندی و خوش حالی ، احساس سبکی و صفای درون ، اثر گذاری در منش و کردار می شود.
- نغل است آن شب که رابعه در وجود آمد ، در خانه پدرش چندان جامه نبود که او را در آن پیچند و چراق نبود. پدر او را سه دختر بود رابعه چهارم بود.

همکار ارجمند، شایسته است ارزیابی املائی دانش آموزان، بر اساس «شبیوه نامه ی املا» مندرج در « دفتر ثبت شاخص ها» انجام گیرد.

دانش آموزان عزیز و همکاران محترم می توانند با مراجعه به سایت مندرج در سربرگ، سوال این درس را مشاهده نمایند.

« باسمه تعالی »

تاریخ امتحان : ۹۷/۰۶/۱۱
مدت امتحان : ۳۰ دقیقه
ساعت شروع : ۹ صبح
تعداد صفحات : ۱
تعداد سوال :

اداره کل آموزش و پرورش خراسان رضوی
اداره سنجش آموزش و پرورش
سوالات امتحان هماهنگ نهم (متوسطه اول)
درس : املا ی فارسی
Sanjesh.razavi.medu.ir

نام :
نام خانوادگی :
نام آموزشگاه :
شماره ی داوطلب :
نوبت : شهر یورماه

متن املا ی فارسی

« لطفاً متن املا را دیران ادبیات بخوانند »

- به نام خداوند کیوان و گردان سپهر، شروع می کنیم که اندیشه بدو راه نیابد و با بینندگان او را نبینیم که او برتر از نام و جایگاه است.
- نقاشی من شکل کلاه نبود، بلکه تصویر مار بوأ بود که فیلی را بلعیده بود و هضم می کرد. آدم های بزرگ همیشه نیاز به توضیح دارند .
- برایت آرزومندم که دشمن نیز داشته باشی، نه کم و نه زیاد، درست به اندازه، تا گاهی باورهایت را مورد پرسش قرار دهند، که دست کم یکی از آن ها اعتراضش، به حق باشد. تا زیاده به خودت غره نشوی.
- آری، پول ارباب بدی است؛ اما خدمتگزار خوبی است. فقط باید آشکار شود کدامتان ارباب دیگری هستید.
- ای مفضل درباره آن صفتی که از میان سایر حیوانات، ویژه انسان است تفکر کن که آن حیا است. اگر حیا نمی بود هیچ کس مهمانداری نمی کرد و وفا به وعده ها نمی نمود و ترک معاصی نمی کرد.
- اگر فرهنگ جوان و طرز دید او پایه و مایه ای گرفته باشد، می تواند گشایشی در درون او پدید آورد و به بالش و رویش بینجامد، در غیر این صورت، آشفستگی ذهنی ایجاد می شود.
- ایران ما با همه فراخنای فرهنگی و گستردگی جغرافیایی و گوناگونی گویش ها و رنگارنگی لهجه ها به گلستانی می ماند که در دامان خود، عزیزکانی را می پروراند و شیرۀ جان خویش در کامشان می دارد.
- جنگ بر پا شد تا مرد ترین مردان در حسرت قافله عشق نمانند در پس این ویرانی ها معارجی به سال شصت و یک هجری وجود داشت و بر فراز آن امام عشق، حسین (ع) آغوش برگشوده بود.

همکار ارجمند، شایسته است ارزیابی املا ی دانش آموزان، بر اساس «شیوه نامه ی املا» مندرج در « دفتر ثبت شاخص ها» انجام گیرد.

دانش آموزان عزیز و همکاران محترم می توانند با مراجعه به سایت مندرج در سربرگ، سوال این درس را مشاهده نمایند.

« باسمه تعالی »

تاریخ امتحان : ۹۷/۰۶/۱۱
مدت امتحان : ۳۰ دقیقه
ساعت شروع : ۹ صبح
تعداد صفحات : ۱
تعداد سوال :

اداره کل آموزش و پرورش خراسان رضوی
اداره سنجش آموزش و پرورش
سوالات امتحان هماهنگ نهم (متوسطه اول)
درس : املا ی فارسی
Sanjesh.razavi.medu.ir

نام :
نام خانوادگی :
نام آموزشگاه :
شماره ی داوطلب :
نوبت : شهر پور ماه

نقص عضو یدی

- به نام خداوند کیوان و گردان سپهر، شروع می کنیم که اندیشه بدو راه نیابد و با بیننده گان او را نبینیم که او برتر از نام و جایگاه است.
- نقاشی من شکل کلاه نبود، بلکه تسویر مار بوعا بود که فیلی را بلعیده بود و هزم می کرد. آدم های بزرگ همیشه نیاز به توضیح دارند .
- برایت آرزومندم که دشمن نیز داشته باشی، نه کم و نه زیاد، درست به اندازه، تا گاهی باورهایت را مورد پرسش قرار دهند، که دست کم یکی از آن ها اعتراضش، به حق باشد. تا زیاده به خودت قره نشوی.
- آری، پول ارباب بدی است ؛ اما خدمتگذار خوبی است. فقط باید آشکار شود کدامتان ارباب دیگری هستید.
- ای مفضل درباره آن صفتی که از میان سایر حیوانات، ویژه انسان است تفکر کن که آن حیا است. اگر حیا نمی بود هیچ کس مهمانداری نمی کرد و وفا به وعده ها نمی نمود و ترک معاسی نمی کرد.
- اگر فرهنگ جوان و ترز دید او پایه و مایع ای گرفته باشد، می تواند گشایشی در درون او پدید آورد و به بالش و رویش بیا نجامد، در غیر این صورت، آشفته گی ذهنی ایجاد می شود.
- ایران ما با همه فراخنای فرهنگی و گستردگی جغرافیایی و گوناگونی گویش ها و رنگارنگی لحن ها به گلستانی می ماند که در دامان خود، عزیزکانی را میپروراند و شیرۀ جان خویش در کامشان می دارد.
- جنگ بر پا شد تا مرد ترین مردان در حسرت غافله عشق نمانند در پس این ویرانی ها معارجی به سال شست و یک هجری وجود داشت و بر فراز آن امام عشق، حسین (ع) آقوش برگشوده بود.

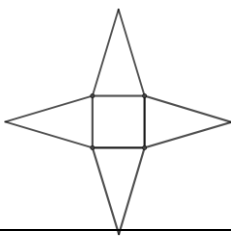
همکار ارجمند، شایسته است ارزیابی املا ی دانش آموزان، بر اساس «شبهه نامه ی املا» مندرج در « دفتر ثبت شاخص ها» انجام گیرد.

دانش آموزان عزیز و همکاران محترم می توانند با مراجعه به سایت مندرج در سربرگ، سوال این درس را مشاهده نمایند.

تاریخ امتحان : ۹۷ / ۰۳ / ۰۵
 مدت امتحان : ۱۰۰ دقیقه
 ساعت شروع : ۱۰ صبح
 تعداد صفحات : ۴
 تعداد سوال : ۱۷

اداره کل آموزش و پرورش خراسان رضوی
 اداره سنجش آموزش و پرورش
 سوالات امتحان هماهنگ نهم
 درس : ریاضی
 Sanjesh.razavi.medu.ir

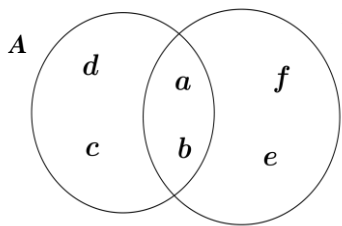

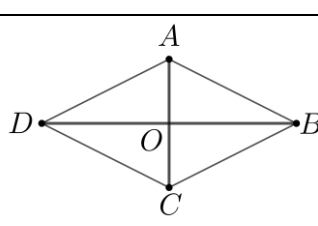
نام :
 نام خانوادگی :
 نام آموزشگاه :
 شماره‌ی داوطلب :
 نوبت : خرداد ماه ۹۷

بارم	سؤالات	ردیف
۱	<p>درستی یا نادرستی هر یک از عبارات های زیر را مشخص کنید.</p> <p>الف) مجموعه $\{\emptyset\}$ دارای یک عضو است.</p> <p>ب) هر دو شکل هم نهشت با هم، متشابه نیز هستند.</p> <p>ج) هر عدد حقیقی، دارای دو ریشه سوم است.</p> <p>د) نمایش اعشاری کسر $\frac{1}{4}$ مختوم است.</p> <p><input type="checkbox"/> ص <input type="checkbox"/> غ</p> <p><input type="checkbox"/> ص <input type="checkbox"/> غ</p> <p><input type="checkbox"/> ص <input type="checkbox"/> غ</p> <p><input type="checkbox"/> ص <input type="checkbox"/> غ</p>	۱-۱
۱	<p>در هر یک از پرسش های زیر گزینه درست را مشخص کنید.</p> <p>الف) کدام یک از عبارات های زیر «تک جمله ای» است ؟</p> <p>(۱) $\sqrt{2}x$ (۲) $\frac{3}{x}$ (۳) 3^x (۴) x</p> <p>ب) درجه « چند جمله ای » $3x^2 + 5x^3y$ نسبت به x و y برابر است با:</p> <p>(۱) ۲ (۲) ۳ (۳) ۴ (۴) ۵</p> <p>ج) خط $6x + 3y = 7$ با کدام یک از خط های زیر موازی است؟</p> <p>(۱) $y = 3x + 7$ (۲) $y = -3x + 7$ (۳) $y = -2x + 5$ (۴) $y = 2x - 5$</p> <p>د) عدد $5 + \sqrt{8}$ بین کدام دو عدد قرار دارد؟</p> <p>(۱) ۷ و ۶ (۲) ۸ و ۷ (۳) ۱۱ و ۱۰ (۴) ۱۳ و ۱۲</p>	۱-۲
۱	<p>در هر یک از قسمت های زیر جای خالی را کامل کنید.</p> <p>الف) اگر خانواده ای دارای ۲ فرزند باشد، احتمال این که هر دو پسر باشند، است.</p> <p>ب) عبارت گویای $\frac{x+6}{x-2}$ به ازای $x = \dots\dots\dots$ تعریف نشده است.</p> <p>ج) حجم هرم با مساحت قاعده S و ارتفاع h برابر است.</p> <p>د) شکل مقابل، گسترده‌ی یک است.</p> 	۱-۳
	ادامه سوالات در صفحه بعد	صفحه ۱

تاریخ امتحان : ۹۷/۰۳/۰۵
 مدت امتحان : ۱۰۰ دقیقه
 ساعت شروع : ۱۰ صبح
 تعداد صفحات : ۴
 تعداد سوال : ۱۷

اداره کل آموزش و پرورش خراسان رضوی
 اداره سنجش آموزش و پرورش
 سوالات امتحان هماهنگ نهم
 درس : ریاضی
 Sanjesh.razavi.medu.ir

نام :
 نام خانوادگی :
 نام آموزشگاه :
 شماره‌ی داوطلب :
 نوبت : خرداد ماه ۹۷

بارم	سؤالات	ردیف
۰/۵ ۰/۷۵	 <p>با توجه به نمودار مقابل ، مجموعه های زیر را با اعضا مشخص کنید.</p> <p>الف) $(A \cap B) =$ ب) $(A \cup B) - A =$</p>	۴-
۰/۵ ۰/۷۵ ۰/۵	<p>الف) بین عددهای $\sqrt{5}$ و $\sqrt{11}$ دو عدد گنگ بنویسید.</p> <p>ب) حاصل عبارت زیر را بدون استفاده از قدر مطلق بنویسید.</p> $ 2 - \pi + -2 =$ <p>ج) مجموعه مقابل را روی محور نمایش دهید.</p> $\{x \in \mathbb{R} x \leq -1\}$ 	۵-
۰/۵	<p>آیا اثبات مسئله زیر معتبر است؟ برای پاسخ خود دلیل بیاورید.</p> <p>مسئله: مجموع زوایای خارجی هر مثلث 360° درجه می باشد.</p> <p>اثبات: یک مثلث متساوی الاضلاع را در نظر می گیریم، چون سه زاویه دارد و هر زاویه ی آن 60° درجه است پس سه زاویه خارجی 120° درجه دارد. بنابراین مجموع زوایای خارجی هر مثلث 360° درجه است.</p>	۶-
۱	 <p>می دانیم هر لوزی یک متوازی الاضلاع است و در همه متوازی الاضلاع ها، قطرهای یک دیگر را نصف می کنند. با استفاده از این موضوع ثابت کنید در یک لوزی قطرهای بر هم عمود هستند.</p>	۷-

« باسمه تعالی »

تاریخ امتحان : ۹۷ / ۰۳ / ۰۵
 مدت امتحان : ۱۰۰ دقیقه
 ساعت شروع : ۱۰ صبح
 تعداد صفحات : ۴
 تعداد سوال : ۱۷

اداره کل آموزش و پرورش خراسان رضوی
 اداره سنجش آموزش و پرورش
 سوالات امتحان هماهنگ نهم
 درس : ریاضی
 Sanjesh.razavi.medu.ir

نام :
 نام خانوادگی :
 نام آموزشگاه :
 شماره‌ی داوطلب :
 نوبت : خرداد ماه ۹۷

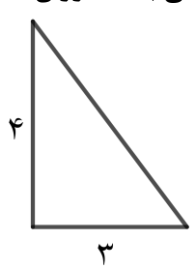
بارم	سؤالات	ردیف
	صفحه ۲ ادامه سوالات در صفحه بعد	
۰/۷۵	الف) حاصل عبارت رو به رو را ساده کنید. $\sqrt{۷۵} + \sqrt{۲۷} =$	۸-
۰/۷۵	ب) عدد $۲۰۰ \times ۱۰^{-۶} \times ۹$ را به صورت نماد علمی بنویسید	
۰/۵	ج) مخرج کسر مقابل را گویا کنید. $\frac{۷}{\sqrt[۳]{۴}} =$	
۰/۵	الف) حاصل عبارت های مقابل را با استفاده از اتحادها به دست آورید. $(x + y)(x - y) =$	۹-
۰/۷۵	ب) عبارت جبری مقابل را تجزیه کنید. $(۲x + ۵)(۲x - ۳) =$	
۰/۷۵	$x^2 + ۱۰x + ۲۵ =$	
۱	نا معادله مقابل را حل کنید. $۵(x - ۱) \leq ۳x + ۳$	۱۰-
۱	دستگاه معادله خطی مقابل را حل کنید. $\begin{cases} ۵x - y = ۳ \\ ۳x + ۲y = ۲۰ \end{cases}$	۱۱-
۰/۵	معادله خطی را بنویسید که موازی محور y ها باشد و از نقطه $\begin{bmatrix} ۵ \\ -۳ \end{bmatrix}$ بگذرد.	۱۲-
۱	باتوجه به نمودار مقابل معادله خط d را بنویسید. 	۱۳-
	صفحه ۳ ادامه سوالات در صفحه بعد	

« باسمه تعالی »

تاریخ امتحان : ۹۷/۰۳/۰۵
مدت امتحان : ۱۰۰ دقیقه
ساعت شروع : ۱۰ صبح
تعداد صفحات : ۴
تعداد سوال : ۱۷

اداره کل آموزش و پرورش خراسان رضوی
اداره سنجش آموزش و پرورش
سوالات امتحان هماهنگ نهم
درس : ریاضی
Sanjesh.razavi.medu.ir

نام :
نام خانوادگی :
نام آموزشگاه :
شماره ی داوطلب :
نوبت : خرداد ماه ۹۷

ردیف	سوالات	بارم
۱۴-	حاصل عبارت های زیر را به دست آورید و نتیجه را تا حد امکان ساده کنید. (مخرج کسرها مخالف صفر فرض شده است)	۱
	الف) $\frac{2x}{6x^2 + 8x} + \frac{5}{3x + 4} =$	۱
	ب) $\frac{x - 3}{x^2 - 7x + 12} \times \frac{x - 4}{2x + 5} =$	۱
۱۵-	تقسیم مقابل را انجام دهید و خارج قسمت و باقی مانده را به دست آورید.	۱
	$x^2 + 7x + 4 \quad \Big \quad x + 2$	
۱۶-	مثلث قائم الزاویه ای به اضلاع قائم ۳ و ۴ سانتی متر را حول ضلعی که اندازه آن ۴ سانتی متر می باشد دوران داده ایم. حجم شکل حاصل را به دست آورید. (نوشتن فرمول الزامی است)	۱
		
۱۷-	مساحت کره ای به شعاع ۷ سانتی متر را به دست آورید (نوشتن فرمول الزامی است)	۱

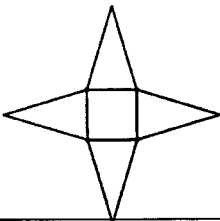
دانش آموزان عزیز و همکاران محترم میتوانند با مراجعه به سایت مندرج در سربرگ، سوال و راهنمای تصحیح این درس را مشاهده نمایند

صفحه ۴	موفق باشید	جمع بarm ۲۰
تصحیح و نمره گذاری	نام و نام خانوادگی مصحح/ دبیر	نمره نهایی پس از رسیدگی به اعتراضات
با عدد	با حروف	با عدد
با حروف	با حروف	با حروف
امضاء :	امضاء :	امضاء :

تاریخ امتحان : ۹۷/۰۳/۰۵
مدت امتحان : ۱۰۰ دقیقه
ساعت شروع : ۱۰ صبح
تعداد صفحات : ۴
تعداد سوال : ۱۷

اداره کل آموزش و پرورش خراسان رضوی
اداره سنجش آموزش و پرورش
راهنمای تصحیح امتحان هماهنگ نهم
درس : ریاضی
Sanjesh.razavi.medu.ir

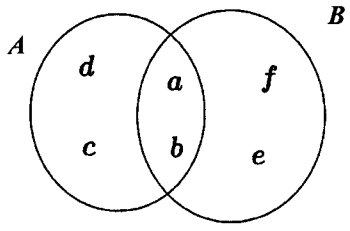
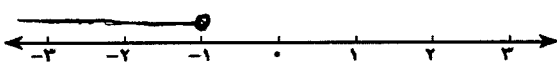
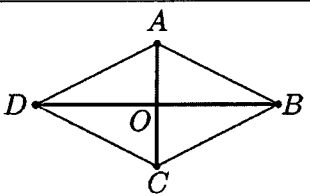
نام :
نام خانوادگی :
نام آموزشگاه :
شماره‌ی داوطلب :
نوبت : خرداد ماه ۹۷

بارم	سؤالات	ردیف
۱	<p>درستی یا نادرستی هر یک از عبارات های زیر را مشخص کنید.</p> <p>الف) مجموعه $\{\emptyset\}$ دارای یک عضو است.</p> <p>ب) هر دو شکل هم نهشت با هم، متشابه نیز هستند.</p> <p>ج) هر عدد حقیقی، دارای دو ریشه سوم است.</p> <p>د) نمایش اعشاری کسر $\frac{1}{4}$ مختوم است.</p> <p><input type="checkbox"/> غ <input checked="" type="checkbox"/> ص</p> <p><input type="checkbox"/> غ <input checked="" type="checkbox"/> ص</p> <p><input checked="" type="checkbox"/> غ <input type="checkbox"/> ص</p> <p><input type="checkbox"/> غ <input checked="" type="checkbox"/> ص</p>	۱-۱
۱	<p>در هر یک از پرسش های زیر گزینه درست را مشخص کنید.</p> <p>الف) کدام یک از عبارات های زیر «تک جمله ای» است ؟</p> <p><input type="checkbox"/> x (۴) <input type="checkbox"/> 3^x (۳) <input type="checkbox"/> $\frac{3}{x}$ (۲) <input checked="" type="checkbox"/> $\sqrt{2x}$ (۱)</p> <p>ب) درجه « چند جمله ای » $3x^2 + 5x^3y$ نسبت به x و y برابر است با:</p> <p><input type="checkbox"/> ۵ (۴) <input checked="" type="checkbox"/> ۴ (۳) <input type="checkbox"/> ۳ (۲) <input type="checkbox"/> ۲ (۱)</p> <p>ج) خط $6x + 3y = 7$ با کدام یک از خط های زیر موازی است ؟</p> <p><input type="checkbox"/> $y = 2x - 5$ (۴) <input checked="" type="checkbox"/> $y = -2x + 5$ (۳) <input type="checkbox"/> $y = -3x + 7$ (۲) <input type="checkbox"/> $y = 3x + 7$ (۱)</p> <p>د) عدد $5 + \sqrt{8}$ بین کدام دو عدد قرار دارد ؟</p> <p><input type="checkbox"/> ۱۳ و ۱۲ (۴) <input type="checkbox"/> ۱۱ و ۱۰ (۳) <input checked="" type="checkbox"/> ۸ و ۷ (۲) <input type="checkbox"/> ۷ و ۶ (۱)</p>	۱-۲
۱	<p>در هر یک از قسمت های زیر جای خالی را کامل کنید.</p> <p>الف) اگر خانواده ای دارای ۲ فرزند باشد، احتمال این که هر دو پسر باشند، است.</p> <p>ب) عبارت گویای $\frac{x+6}{x-2}$ به ازای $x = \dots$ تعریف نشده است.</p> <p>ج) حجم هرم با مساحت قاعده S و ارتفاع h برابر \dots است.</p> <p>د) شکل مقابل، گسترده‌ی یک است.</p> 	۱-۳
	ادامه سوالات در صفحه بعد	صفحه ۱

تاریخ امتحان : ۹۷/۰۳/۰۵
 مدت امتحان : ۱۰۰ دقیقه
 ساعت شروع : ۱۰ صبح
 تعداد صفحات : ۴
 تعداد سوال : ۱۷

اداره کل آموزش و پرورش خراسان رضوی
 اداره سنجش آموزش و پرورش
 راهنمای تصحیح امتحان هماهنگ نهم
 درس : ریاضی
 Sanjesh.razavi.medu.ir

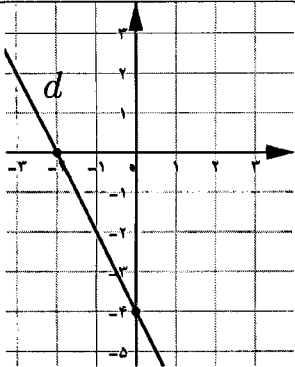
نام :
 نام خانوادگی :
 نام آموزشگاه :
 شماره‌ی داوطلب :
 نوبت : خرداد ماه ۹۷

بارم	سؤالات	ردیف
۰/۱۵ ۰/۱۷۵	 <p>با توجه به نمودار مقابل ، مجموعه های زیر را با اعضا مشخص کنید.</p> <p>الف) $(A \cap B) = \{a, b\}$ ب) $(A \cup B) - A = \{a, b, c, d, e, f\} - \{d, c, a, b\} = \{f, e\}$</p>	۴-
۰/۱۵ ۰/۱۷۵ ۰/۱۵	<p>الف) بین عددهای $\sqrt{5}$ و $\sqrt{11}$ دو عدد گنگ بنویسید. به طوری که: $\sqrt{4} < \sqrt{v} < \sqrt{7}$</p> <p>ب) حاصل عبارت زیر را بدون استفاده از قدر مطلق بنویسید.</p> $ 2 - \pi + -2 = \pi - 2 + 2 = \pi$ <p>ج) مجموعه مقابل را روی محور نمایش دهید.</p>  <p>$\{x \in \mathbb{R} x \leq -1\}$</p>	۵-
۰/۱۵	<p>آیا اثبات مسئله زیر معتبر است؟ برای پاسخ خود دلیل بیاورید.</p> <p>مسئله: مجموع زوایای خارجی هر مثلث 360° درجه می باشد.</p> <p>اثبات: یک مثلث متساوی الاضلاع را در نظر می گیریم، چون سه زاویه دارد و هر زاویه ی آن 60° درجه است پس سه زاویه خارجی 120° درجه دارد. بنابراین مجموع زوایای خارجی هر مثلث 360° درجه است.</p> <p>خبر - زیرا اثبات را بر اساس یک مثال خاص انجام داده است.</p>	۶-
۱	 <p>می دانیم هر لوزی یک متوازی الاضلاع است و در همه متوازی الاضلاع ها، قطرهای یک دیگر را نصف می کنند. با استفاده از این موضوع ثابت کنید در یک لوزی قطرهای بر هم عمود هستند.</p> <p>$\Delta AOB \cong \Delta BOC$ (ض.ش.ش) فرض $\begin{cases} OA = OC \\ OB = OB \\ AB = BC \end{cases}$ ضلع مشترک لوزی $\Rightarrow \hat{O}_1 = \hat{O}_2$ لذا $\hat{O}_1 = \hat{O}_2 = 90^\circ$</p> <p>پس قطرهای عمود بر</p>	۷-

تاریخ امتحان : ۹۷/۰۳/۰۵
مدت امتحان : ۱۰۰ دقیقه
ساعت شروع : ۱۰ صبح
تعداد صفحات : ۴
تعداد سوال : ۱۷

اداره کل آموزش و پرورش خراسان رضوی
اداره سنجش آموزش و پرورش
راهنمای تصحیح امتحان هماهنگ نهم
درس : ریاضی
Sanjesh.razavi.medu.ir

نام :
نام خانوادگی :
نام آموزشگاه :
شماره‌ی داوطلب :
نوبت : خرداد ماه ۹۷

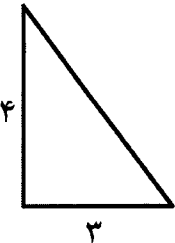
بارم	سوالات	ردیف
۰.۱۷۵	$\sqrt{75} + \sqrt{27} = 5\sqrt{3} + 3\sqrt{3} = 8\sqrt{3}$	۸- الف) حاصل عبارت رو به رو را ساده کنید.
۰.۱۷۵	$1800 \times 10^{-6} = 1,8 \times 10^{-3}$	ب) عدد $9 \times 10^{-6} \times 200$ را به صورت نماد علمی بنویسید
۰.۱۵	$\frac{7}{\sqrt{4}} = \frac{\sqrt[3]{2}}{x\sqrt[3]{3}} = \frac{\sqrt[3]{2}}{2}$	ج) مخرج کسر مقابل را گویا کنید.
۰.۱۵	$(x+y)(x-y) = x^2 - y^2$	۹- الف) حاصل عبارت های مقابل را با استفاده از اتحادها به دست آورید.
۰.۱۷۵	$(2x+5)(2x-3) = 4x^2 + 4x - 15$	ب) عبارت جبری مقابل را تجزیه کنید.
۰.۱۷۵	$x^2 + 10x + 25 = (x+5)(x+5) = (x+5)^2$	
۱	$\Delta(x-1) \leq 3x+3 \Rightarrow \Delta x - \Delta \leq 3x+3 \Rightarrow \Delta x - 3x \leq 3 + \Delta$ $\Rightarrow 2x \leq 4 \Rightarrow x \leq 2$ یا $\{x \mid x \in \mathbb{R}, x \leq 2\}$	۱۰- نا معادله مقابل را حل کنید.
۱	$\begin{cases} \Delta x - y = 3 \\ 3x + 2y = 2. \end{cases} \Rightarrow \begin{cases} \Delta x - y = 3 \\ 3x + 2y = 2. \end{cases}$ $\Rightarrow \begin{cases} 10x - 2y = 4 \\ 3x + 2y = 2. \end{cases} \Rightarrow 13x = 2y \Rightarrow x = 2$ $y = 7$	۱۱- دستگاه معادله خطی مقابل را حل کنید.
۰.۱۵	$x = \Delta$	۱۲- معادله خطی را بنویسید که موازی محور y ها باشد و از نقطه $\begin{bmatrix} 5 \\ -3 \end{bmatrix}$ بگذرد.
۱		۱۳- با توجه به نمودار مقابل معادله خط d را بنویسید.
	$\text{شیب} = \frac{-4}{2} = -2$ $y = -2x - 4$	
	ادامه سوالات در صفحه بعد	صفحه ۳

« باسمه تعالی »

تاریخ امتحان : ۹۷/۰۳/۰۵
مدت امتحان : ۱۰۰ دقیقه
ساعت شروع : ۱۰ صبح
تعداد صفحات : ۴
تعداد سوال : ۱۷

اداره کل آموزش و پرورش خراسان رضوی
اداره سنجش آموزش و پرورش
راهنمای تصحیح امتحان هماهنگ نهم
درس : ریاضی
Sanjesh.razavi.medu.ir

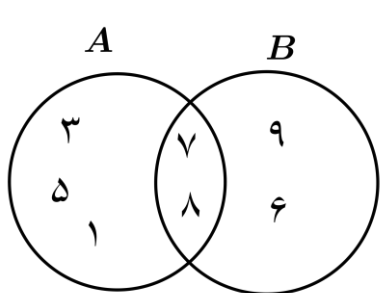
نام :
نام خانوادگی :
نام آموزشگاه :
شماره‌ی داوطلب :
نوبت : خرداد ماه ۹۷

بارم	سؤالات	ردیف	
۱	<p>حاصل عبارت های زیر را به دست آورید و نتیجه را تا حد امکان ساده کنید. (مخرج کسرها مخالف صفر فرض شده است)</p> <p>الف) $\frac{2x}{6x^2 + 8x} + \frac{5}{2x + 4} = \frac{1}{2x} \cdot \frac{1}{(2x + 4)} + \frac{5}{2x + 4} = \frac{4}{2x + 4}$</p> <p>ب) $\frac{x-3}{x^2 - 7x + 12} \times \frac{x-4}{2x+5} = \frac{(x-3)}{(x-3)(x-4)} \times \frac{(x-4)}{2x+5} = \frac{1}{2x+5}$</p>	۱۴	
۱	<p>تقسیم مقابل را انجام دهید و خارج قسمت و باقی مانده را به دست آورید.</p> $\begin{array}{r} x^2 + 7x + 4 \\ - (x^2 + 2x) \\ \hline 5x + 4 \\ - (5x + 10) \\ \hline -6 \end{array}$	۱۵	
۱	<p>مثلث قائم الزاویه ای به اضلاع قائم ۳ و ۴ سانتی متر را حول ضلعی که اندازه آن ۴ سانتی متر می باشد دوران داده ایم. حجم شکل حاصل را به دست آورید. (نوشتن فرمول الزامی است)</p> <p>شکل حاصل مخروط است</p> $\text{حجم مخروط} : \frac{1}{3} \pi r^2 h = \frac{1}{3} \pi (3)^2 \times 4 = \frac{36}{3} \pi = 12\pi \text{ cm}^3$ 	۱۶	
۱	<p>مساحت کره ای به شعاع ۷ سانتی متر را به دست آورید (نوشتن فرمول الزامی است)</p> $\text{مساحت کره} : 4\pi r^2 = 4 \times \pi \times 7^2 = 196\pi \text{ cm}^2$	۱۷	
دانش آموزان عزیز و همکاران محترم میتوانند با مراجعه به سایت مندرج در سربرگ، سوال و راهنمای تصحیح این درس را مشاهده نمایند			
۲۰	جمع بارم	صفحه ۴	
نام و نام خانوادگی مصحح / دبیر		نام و نام خانوادگی مصحح / دبیر	تصحیح و نمره گذاری
نمره نهایی پس از رسیدگی به اعتراضات		با عدد	با حروف
امضاء :		با عدد	با حروف
امضاء :		امضاء :	

تاریخ امتحان : ۹۷/۰۳/۰۵
 مدت امتحان : ۱۰۰ دقیقه
 ساعت شروع : ۱۳ (۱ بعد از ظهر)
 تعداد صفحات : ۴
 تعداد سوال : ۱۹

اداره کل آموزش و پرورش خراسان رضوی
 اداره سنجش آموزش و پرورش
 سوالات امتحان هماهنگ نهم
 درس : ریاضی
 Sanjesh.razavi.medu.ir

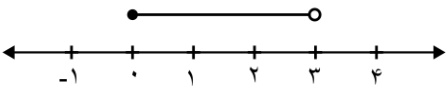
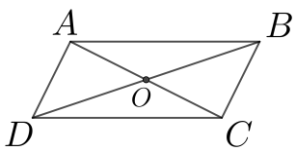
نام :
 نام خانوادگی :
 نام آموزشگاه :
 شماره‌ی داوطلب :
 نوبت : خرداد ماه ۹۷

بارم	سؤالات	ردیف
۱	<p>درستی یا نادرستی هر یک از عبارات های زیر را مشخص کنید.</p> <p>الف) هر دو مربع دلخواه با هم متشابه اند. <input type="checkbox"/> ص <input type="checkbox"/> غ</p> <p>ب) عبارت « سه عدد اول متفاوت » یک مجموعه را مشخص می کند. <input type="checkbox"/> ص <input type="checkbox"/> غ</p> <p>ج) عددی وجود دارد که گویا و گنگ باشد. <input type="checkbox"/> ص <input type="checkbox"/> غ</p> <p>د) حاصل $\sqrt{9}$ برابر با ۳- است. <input type="checkbox"/> ص <input type="checkbox"/> غ</p>	۱-۱
۱	<p>در هر یک از پرسش های زیر گزینه درست را مشخص کنید.</p> <p>الف) کدام یک از گزینه های زیر یک عبارت گویا است؟ <input type="checkbox"/> $\frac{3}{x}$ (۱) <input type="checkbox"/> $\frac{\sqrt{x}}{5}$ (۲) <input type="checkbox"/> $\frac{ x }{3}$ (۳) <input type="checkbox"/> $\frac{7}{3x^2}$ (۴)</p> <p>ب) اطلاعات داده شده در مسئله نامیده می شود. <input type="checkbox"/> اثبات (۱) <input type="checkbox"/> فرض (۲) <input type="checkbox"/> مثال نقض (۳) <input type="checkbox"/> حکم (۴)</p> <p>ج) کدام یک از خط های زیر از مبدأ مختصات عبور می کند؟ <input type="checkbox"/> $y = 3$ (۱) <input type="checkbox"/> $x = 5$ (۲) <input type="checkbox"/> $y = x + 3$ (۳) <input type="checkbox"/> $y = 2x$ (۴)</p> <p>د) از دوران یک مثلث قائم الزاویه، حول یکی از ضلع های قائمه اش کدام یک از شکل های زیر ایجاد می شود؟ <input type="checkbox"/> کره (۱) <input type="checkbox"/> استوانه (۲) <input type="checkbox"/> هرم (۳) <input type="checkbox"/> مخروط (۴)</p>	۲-۲
۰/۷۵	<p>جاهای خالی را با عدد یا عبارت مناسب کامل کنید.</p> <p>الف) احتمال این که در پرتاب یک تاس عدد روشده، مضرب ۳ باشد برابر است.</p> <p>ب) درجه تک جمله ای $5x^3y^2$ نسبت به متغیر y برابر است.</p> <p>ج) مساحت یک کره به شعاع R برابر است.</p>	۳-۳
۱/۵	<p>با توجه به نمودار رو به رو، مجموعه های زیر را با اعضا مشخص کنید.</p>  <p>$(A \cap B) =$ $(A \cup B) =$ $B - A =$</p>	۴-۴
	ادامه سوالات در صفحه بعد	صفحه ۱

تاریخ امتحان : ۹۷/۰۳/۰۵
 مدت امتحان : ۱۰۰ دقیقه
 ساعت شروع : ۱۳ (بعد از ظهر)
 تعداد صفحات : ۴
 تعداد سوال : ۱۹

اداره کل آموزش و پرورش خراسان رضوی
 اداره سنجش آموزش و پرورش
 سوالات امتحان هماهنگ نهم
 درس : ریاضی
 Sanjesh.razavi.medu.ir

نام :
 نام خانوادگی :
 نام آموزشگاه :
 شماره ی داوطلب :
 نوبت : خرداد ماه ۹۷

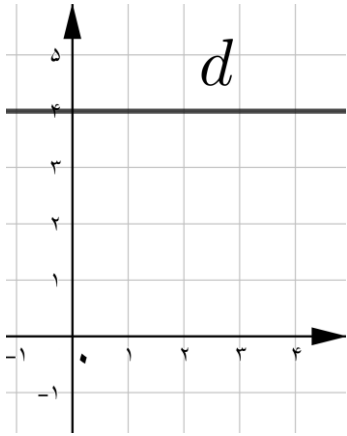
بارم	سؤالات	ردیف				
۰/۵	 <p>باتوجه به محور زیر ، مجموعه متناظر با آن را بنویسید.</p>	۵-				
۰/۵	<p>الف) بین دو عدد ۳ و ۲، یک عدد گنگ و یک عدد گویا بنویسید.</p> <p>ب) عبارت روبرو را ساده کنید.</p> <p>ج) حاصل عبارت مقابل را به دست آورید.</p>	۶-				
۰/۷۵	$\sqrt{50} - \sqrt{18} =$					
۱	$ 3 - \sqrt{13} + \sqrt{(\sqrt{13} - 6)^2} =$					
۰/۵	<p>یک مثال بزنید که جمله زیر را نقص کند. « هر چهار ضلعی که همه اضلاع آن برابر باشد ، مربع است »</p>	۷-				
۱	 <p>در مسئله زیر فرض و حکم را مشخص کنید در هرمتوازی الاضلاع قطرها یک دیگر را نصف می کنند.</p> <table border="1" style="margin-left: auto; margin-right: auto;"> <tr> <td style="padding: 5px;">فرض</td> <td style="border: none;"></td> </tr> <tr> <td style="padding: 5px;">حکم</td> <td style="border: none;"></td> </tr> </table>	فرض		حکم		۸-
فرض						
حکم						
۰/۵	<p>الف) عدد $0/000724$ را به صورت نماد علمی بنویسید.</p> <p>ب) مخرج کسر مقابل را گویا کنید.</p>	۹-				
۰/۵	$\frac{\sqrt{2}}{\sqrt{5}}$					
۰/۵	<p>الف) حاصل عبارت های مقابل را با استفاده از اتحادها به دست آورید.</p>	۱۰-				
۰/۷۵	$(3x + 4)(3x - 4) =$					
۰/۷۵	$(2x - 5)^2 =$					
۰/۷۵	<p>ب) عبارت مقابل را به کمک اتحادها تجزیه کنید.</p> $x^2 - 8x + 15 =$					
	ادامه سوالات در صفحه بعد	صفحه ۲				

« باسمه تعالی »

تاریخ امتحان : ۹۷ / ۰۳ / ۰۵
مدت امتحان : ۱۰۰ دقیقه
ساعت شروع : ۱۳ (بعد از ظهر)
تعداد صفحات : ۴
تعداد سوال : ۱۹

اداره کل آموزش و پرورش خراسان رضوی
اداره سنجش آموزش و پرورش
سوالات امتحان هماهنگ نهم
درس : ریاضی
Sanjesh.razavi.medu.ir

نام :
نام خانوادگی :
نام آموزشگاه :
شماره ی داوطلب :
نوبت : خرداد ماه ۹۷

بارم	سوالات	ردیف
۱	$7(x - 2) \leq 6x - 3$	۱۱- نا معادله ی مقابل را حل کنید.
۰/۵		۱۲- با توجه به شکل مقابل ، معادله خط d را بنویسید.
۰/۷۵		۱۳- معادله خطی را بنویسید که با خط $6x + 2y = 7$ موازی باشد و از مبدأ مختصات بگذرد.
۱	$\begin{cases} 3x + 4y = 7 \\ 6x + 2y = 9 \end{cases}$	۱۴- دستگاه معادله خطی مقابل را حل کنید.
۰/۵	$\frac{5x + 5}{x(x - 5)}$	۱۵- عبارت گویای مقابل به ازای چه مقادیری از x تعریف نشده است؟
	ادامه سوالات در صفحه بعد	صفحه ۳

« باسمه تعالی »

تاریخ امتحان : ۹۷/۰۳/۰۵
مدت امتحان : ۱۰۰ دقیقه
ساعت شروع : ۱۳ (بعد از ظهر)
تعداد صفحات : ۴
تعداد سوال : ۱۹

اداره کل آموزش و پرورش خراسان رضوی
اداره سنجش آموزش و پرورش
سوالات امتحان هماهنگ نهم
درس : ریاضی
Sanjesh.razavi.medu.ir

نام :
نام خانوادگی :
نام آموزشگاه :
شماره ی داوطلب :
نوبت : خرداد ماه ۹۷

بارم	سؤالات	ردیف
۰/۷۵	الف) $\frac{2}{2x+6} + \frac{5}{(x+3)} =$	۱۶-
۱	ب) $\frac{7x+14}{7x} \times \frac{x^2-2x}{x^2-4} =$	
۱	$x^2 + 5x - 13 \mid x - 3$	۱۷-
۱	حجم هرم منتظمی را به دست آورید که قاعده آن یک ۵ ضلعی منتظم به مساحت ۲۰ سانتی متر مربع و ارتفاع آن ۹ سانتی متر باشد. (نوشتن فرمول الزامی است)	۱۸-
۱	حجم کره ای به شعاع ۳ سانتی متر را به دست آورید (نوشتن فرمول الزامی است)	۱۹-

دانش آموزان عزیز و همکاران محترم می توانند با مراجعه به سایت مندرج در سربرگ، سؤال و راهنمای تصحیح این درس را مشاهده نمایند.

۲۰	جمع بارم	موفق باشید	صفحه ۴
نام و نام خانوادگی مصحح / دبیر	نمره نهایی پس از رسیدگی به اعتراضات	نام و نام خانوادگی مصحح / دبیر	تصحیح و نمره گذاری
	با عدد	با حروف	با عدد
	با حروف	با عدد	با حروف
امضاء :		امضاء :	

« باسمه تعالی »

نام :

نام خانوادگی :

نام آموزشگاه :

شماره‌ی داوطلب :

نوبت : خرداد ماه ۹۷

اداره کل آموزش و پرورش خراسان رضوی

اداره سنجش آموزش و پرورش

راهنمای تصحیح امتحان هماهنگ نهم

درس : ریاضی

Sanjesh.razavi.medu.ir

تاریخ امتحان : ۹۷/۰۳/۰۵

مدت امتحان : ۱۰۰ دقیقه

ساعت شروع : ۱۳ (بعد از ظهر)

تعداد صفحات : ۴

تعداد سوال : ۱۹

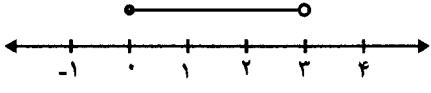
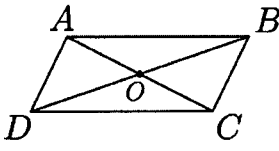
بارم	سؤالات	ردیف
۱	<p>درستی یا نادرستی هر یک از عبارات های زیر را مشخص کنید.</p> <p>الف) هر دو مربع دلخواه با هم متشابه اند. <input type="checkbox"/> ص <input checked="" type="checkbox"/> غ</p> <p>ب) عبارت « سه عدد اول متفاوت » یک مجموعه را مشخص می کند. <input checked="" type="checkbox"/> ص <input type="checkbox"/> غ</p> <p>ج) عددی وجود دارد که گویا و گنگ باشد. <input checked="" type="checkbox"/> ص <input type="checkbox"/> غ</p> <p>د) حاصل $\sqrt{9}$ برابر با ۳- است. <input checked="" type="checkbox"/> ص <input type="checkbox"/> غ</p>	۱-
۱	<p>در هر یک از پرسش های زیر گزینه درست را مشخص کنید.</p> <p>الف) کدام یک از گزینه های زیر یک عبارت گویا است؟</p> <p> <input checked="" type="checkbox"/> $\frac{3}{x}$ (۱) <input type="checkbox"/> $\frac{\sqrt{x}}{5}$ (۲) <input type="checkbox"/> $\frac{ x }{3}$ (۳) <input type="checkbox"/> $\frac{7}{3x}$ (۴) </p> <p>ب) اطلاعات داده شده در مسئله نامیده می شود.</p> <p> <input type="checkbox"/> اثبات (۱) <input checked="" type="checkbox"/> فرض (۲) <input type="checkbox"/> مثال نقض (۳) <input type="checkbox"/> حکم (۴) </p> <p>ج) کدام یک از خط های زیر از مبدأ مختصات عبور می کند؟</p> <p> <input type="checkbox"/> $y = 3$ (۱) <input type="checkbox"/> $x = 5$ (۲) <input type="checkbox"/> $y = x + 3$ (۳) <input checked="" type="checkbox"/> $y = 2x$ (۴) </p> <p>د) از دوران یک مثلث قائم الزاویه، حول یکی از ضلع های قائمه اش کدام یک از شکل های زیر ایجاد می شود؟</p> <p> <input type="checkbox"/> کره (۱) <input type="checkbox"/> استوانه (۲) <input type="checkbox"/> هرم (۳) <input checked="" type="checkbox"/> مخروط (۴) </p>	۲-
۰/۷۵	<p>جاهای خالی را با عدد یا عبارت مناسب کامل کنید.</p> <p>الف) احتمال این که در پرتاب یک تاس عدد روشده، مضرب ۳ باشد برابر است.</p> <p>ب) درجه تک جمله ای $5x^3y^2$ نسبت به متغیر y برابر است.</p> <p>ج) مساحت یک کره به شعاع R برابر است.</p>	۳-
۱/۵	<p>با توجه به نمودار رو به رو، مجموعه های زیر را با اعضا مشخص کنید.</p> <div style="display: flex; align-items: center;"> <div style="margin-right: 20px;"> </div> <div> $(A \cap B) = \{7, 8\}$ $(A \cup B) = \{1, 3, 5, 7, 8, 9, 6\}$ $B - A = \{9, 6\}$ </div> </div>	۴-
	ادامه سوالات در صفحه بعد	صفحه ۱

« باسمه تعالی »

تاریخ امتحان : ۹۷/۰۳/۰۵
مدت امتحان : ۱۰۰ دقیقه
ساعت شروع : ۱۳ (بعد از ظهر)
تعداد صفحات : ۴
تعداد سوال : ۱۹

اداره کل آموزش و پرورش خراسان رضوی
اداره سنجش آموزش و پرورش
راهنمای تصحیح امتحان هماهنگ نهم
درس : ریاضی
Sanjesh.razavi.medu.ir

نام :
نام خانوادگی :
نام آموزشگاه :
شماره‌ی داوطلب :
نوبت : خرداد ماه ۹۷

بارم	سؤالات	ردیف				
۰/۱۵	باتوجه به محور زیر ، مجموعه متناظر با آن را بنویسید.  $\{x \in \mathbb{R} \mid 0 \leq x < 3\}$	-۵				
۰/۱۵	الف) بین دو عدد ۳ و ۲، یک عدد گنگ و یک عدد گویا بنویسید. ب) عبارت روبرو را ساده کنید. $\sqrt{50} - \sqrt{18} = \sqrt{25 \times 2} - \sqrt{9 \times 2} = 5\sqrt{2} - 3\sqrt{2} = 2\sqrt{2}$	-۶				
۰/۱۷۵	ج) حاصل عبارت مقابل را به دست آورید. $ 3 - \sqrt{13} + \sqrt{(\sqrt{13} - 6)^2} = \sqrt{13} - 3 + 6 - \sqrt{13} = 3$					
۰/۱۵	یک مثال بزنید که جمله زیر را نقص کند. « هر چهار ضلعی که همه اضلاع آن برابر باشد ، مربع است » لوزی	-۷				
۱	در مسئله زیر فرض و حکم را مشخص کنید در هر متوازی الاضلاع قطرها یک دیگر را نصف می کنند.  <table border="1" style="margin-left: auto; margin-right: auto;"> <tr> <td>فرض</td> <td>متوازی الاضلاع ABCD</td> </tr> <tr> <td>حکم</td> <td>AO = OC , OB = OD</td> </tr> </table>	فرض	متوازی الاضلاع ABCD	حکم	AO = OC , OB = OD	-۸
فرض	متوازی الاضلاع ABCD					
حکم	AO = OC , OB = OD					
۰/۱۵	الف) عدد ۰/۰۰۰۷۲۴ را به صورت نماد علمی بنویسید. $7,24 \times 10^{-4}$	-۹				
۰/۱۵	ب) مخرج کسر مقابل را گویا کنید. $\frac{\sqrt{2}}{\sqrt{5}} \times \frac{\sqrt{5}}{\sqrt{5}} = \frac{\sqrt{10}}{5}$					
۰/۱۵	الف) حاصل عبارت های مقابل را با استفاده از اتحادها به دست آورید. $(3x+4)(3x-4) = 9x^2 - 16$	-۱۰				
۰/۱۷۵	ب) عبارت مقابل را به کمک اتحادها تجزیه کنید. $(2x-5)^2 = 4x^2 - 20x + 25$					
۰/۱۷۵	$x^2 - 11x + 15 = (x-3)(x-5)$					
	ادامه سوالات در صفحه بعد	صفحه ۲				

« باسمه تعالی »

نام :

نام خانوادگی :

نام آموزشگاه :

شماره‌ی داوطلب :

نوبت : خرداد ماه ۹۷

اداره کل آموزش و پرورش خراسان رضوی

اداره سنجش آموزش و پرورش

راهنمای تصحیح امتحان هماهنگ نهم

درس : ریاضی

Sanjesh.razavi.medu.ir

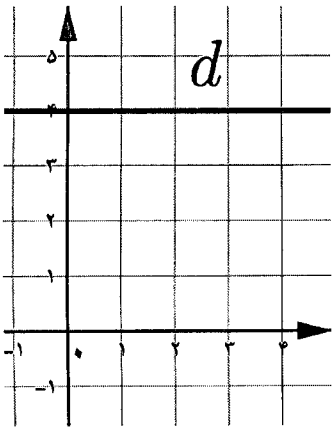
تاریخ امتحان : ۹۷/۰۳/۰۵

مدت امتحان : ۱۰۰ دقیقه

ساعت شروع : ۱۳ (بعد از ظهر)

تعداد صفحات : ۴

تعداد سوال : ۱۹

بارم	سؤالات	ردیف
۱	<p>۱۱- نا معادله‌ی مقابل را حل کنید.</p> $7(x-2) \leq 6x-3$ $7x - 12 \leq 6x - 3 \Rightarrow 7x - 6x \leq 12 - 3 \Rightarrow x \leq 11 \Rightarrow \{x \in \mathbb{R} \mid x \leq 11\}$	
۰/۱۵	<p>۱۲- با توجه به شکل مقابل ، معادله خط d را بنویسید.</p>  <p style="text-align: center;">$y = 2$</p>	
۰/۱۷۵	<p>۱۳- معادله خطی را بنویسید که با خط $6x + 2y = 7$ موازی باشد و از مبدأ مختصات بگذرد.</p> $4x + 2y = 7 \Rightarrow y = -2x + \frac{7}{2} \Rightarrow \text{خط : } -3$ $\boxed{y = -3x}$	
۱	<p>۱۴- دستگاه معادله خطی مقابل را حل کنید.</p> $\begin{cases} 3x + 4y = 7 \\ 6x + 2y = 9 \end{cases} \Rightarrow -2 \begin{cases} 3x + 2y = 7 \\ 3x + y = 9 \end{cases} \Rightarrow \begin{cases} -2x - 4y = -14 \\ 3x + y = 9 \end{cases}$ $\begin{matrix} -2x - 4y = -14 \\ 3x + y = 9 \end{matrix} \Rightarrow \begin{matrix} -2x - 4y = -14 \\ -5y = -5 \end{matrix} \Rightarrow \begin{matrix} x = 1 \\ y = 1 \end{matrix}$ <p style="text-align: center;">$[1]$</p>	
۰/۱۵	<p>۱۵- عبارت گویای مقابل به ازای چه مقادیری از x تعریف نشده است؟</p> $\frac{5x+5}{x(x-5)}$ $x(x-5) = 0 \Rightarrow \begin{cases} x = 0 \\ x = 5 \end{cases}$	
	ادامه سوالات در صفحه بعد	صفحه ۳

« باسمه تعالی »

نام :

اداره کل آموزش و پرورش خراسان رضوی

نام خانوادگی :

اداره سنجش آموزش و پرورش

نام آموزشگاه :

راهنمای تصحیح امتحان هماهنگ نهم

شماره‌ی داوطلب :

درس : ریاضی

نوبت : خرداد ماه ۹۷

Sanjesh.razavi.medu.ir

تاریخ امتحان : ۹۷/۰۳/۰۵

مدت امتحان : ۱۰۰ دقیقه

ساعت شروع : ۱۳ (بعد از ظهر)

تعداد صفحات : ۴

تعداد سوال : ۱۹

بارم	سؤالات	ردیف
۰.۱۷۵	الف) حاصل عبارت های زیر را به دست آورید و نتیجه را تا حد امکان ساده کنید. (مخرج کسرها مخالف صفر فرض شده است) $\frac{2}{2x+6} + \frac{5}{(x+3)} = \frac{2}{2(x+3)} + \frac{5}{(x+3)} = \frac{1}{x+3} + \frac{5}{x+3} = \frac{6}{x+3}$	۱۶-
۱	ب) $\frac{7x+14}{7x} \times \frac{x^2-2x}{x^2-4} = \frac{7(x+2)}{7x} \times \frac{x(x-2)}{(x-2)(x+2)} = \left \right.$	
۱	خارج قسمت و باقی مانده ی تقسیم مقابل را به دست آورید. $\begin{array}{r} x^2 + 5x - 13 \mid x - 3 \\ -x^2 + 3x \quad \quad x + 8 \\ \hline 8x - 13 \\ -8x + 24 \\ \hline 11 \end{array}$	۱۷-
۱	حجم هرم منتظمی را به دست آورید که قاعده آن یک ۵ ضلعی منتظم به مساحت ۲۰ سانتی متر مربع و ارتفاع آن ۹ سانتی متر باشد. (نوشتن فرمول الزامی است) ارتفاع \times مساحت قاعده $\times \frac{1}{3}$ = حجم هرم یا $V = \frac{1}{3} sh \Rightarrow V = \frac{1}{3} \times 20 \times 9 = 60 \text{ cm}^3$	۱۸-
۱	حجم کره ای به شعاع ۳ سانتی متر را به دست آورید (نوشتن فرمول الزامی است) $V = \frac{4}{3} \pi R^3 \Rightarrow V = \frac{4}{3} \pi (3)^3 = 36\pi \text{ cm}^3$	۱۹-
دانش آموزان عزیز و همکاران محترم می توانند با مراجعه به سایت مندرج در سربرگ، سؤال و راهنمای تصحیح این درس را مشاهده نمایند.		
۲۰	جمع بارم	صفحه ۴
موفق باشید		
نام و نام خانوادگی مصحح/ دبیر	نمره نهایی پس از رسیدگی به اعتراضات	نام و نام خانوادگی مصحح/ دبیر
	با عدد	با حروف
امضاء :		امضاء :

تاریخ امتحان : ۱۳۹۷ / ۰۴ / ۰۹

مدت امتحان : ۹۰ دقیقه

ساعت شروع : ۹:۳۰ صبح

تعداد صفحات : ۴

تعداد سؤال : ۱۶

اداره کل آموزش و پرورش خراسان رضوی

اداره سنجش آموزش و پرورش

سوالات امتحان هماهنگ نهم (متوسطه اول)

درس : ریاضیات

Sanjesh.razavi.medu.ir

نام :

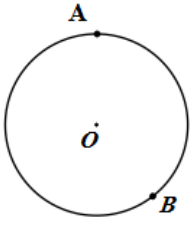
نام خانوادگی :


نام آموزشگاه :

شماره داوطلب :

نوبت : غائبین موجه خردادماه

بارم	سؤال	ردیف
دانش آموزان عزیز : ضمن آرزوی موفقیت برای شما ، لطفاً با مطالعه دقیق ۱۶ سؤال زیر ، پاسخ مناسب را در محل های تعیین شده ، بنویسید .		
۱	<p>درستی یا نادرستی گزاره های زیر را مشخص کنید.</p> <p>الف) مجموعه ی عدد های حقیقی بین ۳ و ۴ یک مجموعه ی تهی را نشان می دهد. ص <input type="checkbox"/> غ <input type="checkbox"/></p> <p>ب) عددی وجود ندارد که صحیح و گویا باشد . ص <input type="checkbox"/> غ <input type="checkbox"/></p> <p>ج) نمایش اعشاری کسر $\frac{5}{6}$ مختوم است. ص <input type="checkbox"/> غ <input type="checkbox"/></p> <p>د) هرمی به قاعده ی پنج ضلعی ، ۶ وجه جانبی دارد. ص <input type="checkbox"/> غ <input type="checkbox"/></p>	۱
۰/۵	<p>در هر یک از پرسش های زیر گزینه درست را مشخص کنید.</p> <p>الف) حاصل $(\mathbb{R} - \mathbb{Q}) \cap \mathbb{Z}$ کدام گزینه است ؟</p> <p>(۱) <input type="checkbox"/> \mathbb{Z} (۲) <input type="checkbox"/> \mathbb{Q} (۳) <input type="checkbox"/> \mathbb{Q}' (۴) <input type="checkbox"/> \mathbb{R}</p> <p>ب) اگر تاسی را دو بار پرتاب کنیم احتمال اینکه هر دو بار عدد های رو شده اول باشد چقدر است؟</p> <p>(۱) <input type="checkbox"/> $\frac{9}{12}$ (۲) <input type="checkbox"/> $\frac{9}{36}$ (۳) <input type="checkbox"/> $\frac{12}{36}$ (۴) <input type="checkbox"/> $\frac{1}{2}$</p>	۲
۰/۷۵	<p>عبارت های سمت راست را به گزینه ی مناسب در سمت چپ وصل کنید. (۳ گزینه در سمت چپ اضافی است).</p> <p>الف) نمایش اعشاری کسر $\frac{5}{18}$ به صورت است. نیمکره</p> <p>ب) از دوران ربع دایره حول شعاع آن بوجود می آید. $x - y$</p> <p>ج) اگر $x > 0$, $y < 0$ حاصل $\sqrt{x^2} + \sqrt{y^2}$ چقدر است؟ مختوم</p> <p>متناوب</p> <p>کره</p> <p>$x + y$</p>	۳
۱	<p>الف) با توجه به مجموعه های $A = \{3, 5, 6, 9\}$, $B = \{2, 5, 6, 9\}$, $C = \{6, 9, 11\}$ هر یک از مجموعه های زیر را با اعضایش بنویسید.</p> <p>الف) $B - A =$ ب) $A \cap C =$</p> <p>ب) مجموعه ی C را با نوشتن عضو ها مشخص کنید.</p> <p>$C = \{k \mid k \in \mathbb{Z}, -1 < k < 2\} =$</p>	۴
۰/۵		
	ادامه سوالات در صفحه بعد	صفحه ۱

بارم	سؤال	ردیف
۱	الف) حاصل عبارت زیر را بدون استفاده از قدر مطلق بنویسید. $\sqrt{1 - \sqrt{3}^2} =$	۵
۰/۵	ب) بین دو عدد ۶ و $\sqrt{3}$ یک عدد گنگ بنویسید.	
۰/۵	ج) مثلث ABC به اضلاع ۴ و ۵ و ۸ سانتی متر با مثلث DEF به اضلاع $x-1$ ، x ، 10 ، $x+7$ با هم متشابه هستند (اندازه ی اضلاع مثلث از کوچک به بزرگ نوشته شده است). مقدار x چقدر است.	
۰/۷۵	الف) حاصل عبارت زیر را به صورت عدد توان دار بنویسید. $\left(\frac{1}{3}\right)^{-4} \times 27^{-3} \times 9^5 =$	۶
۰/۵	ب) حاصل عبارت زیر را به دست آورید. $\frac{\sqrt{54} \times \sqrt{20}}{\sqrt{5}} =$	
۰/۵	الف) مخرج کسر زیر را گویا کنید. $\frac{5}{\sqrt[3]{3}} =$	۷
۰/۵	ب) به صورت نماد علمی بنویسید. $0.0145 \times 10^{-2} =$	
۱	الف) ثابت کنید اگر از نقطه ی M خارج از دایره دو مماس MA, MB را بر دایره رسم کنیم، اندازه ی این دو مماس با هم برابر است. (راهنمایی: از مرکز دایره به نقطه های B, A, M وصل کنید). 	۸
	ادامه سوالات در صفحه بعد	صفحه ۲

بارم	سؤال	ردیف
۰/۷۵	الف) عبارت زیر را با استفاده از اتحاد حل کنید. $\left(ab - \frac{1}{2} \right)^2 =$ ب) عبارات داده شده را تجزیه کنید. ۱) $a^2 - 9a + 14 =$ ۲) $x^2 - y^2 =$	۹
۱	نامعادله ی داده شده را حل کنید و مجموعه جواب را روی محور نشان دهید. $-3x - 1 \geq 2x - 2$ 	۱۰
۰/۵	الف) معادله ی خطی را بنویسید که شیب آن $\frac{2}{3}$ و عرض از مبدا آن ۲- باشد. ب) خط $y = 3x - 1$ را در دستگاه مختصات رسم کنید. ج) شیب و عرض از مبدا خط زیر را مشخص کنید. $y = 3x - 1$	۱۱
۱	دستگاه مقابل را حل کنید. $\begin{cases} x - 3y = 7 \\ 2x - 7y = 15 \end{cases}$	۱۲
	ادامه سوالات در صفحه بعد	صفحه ۳

« باسمه تعالی »

تاریخ امتحان : ۱۳۹۷ / ۰۴ / ۰۹

مدت امتحان : ۹۰ دقیقه

ساعت شروع : ۹:۳۰ صبح

تعداد صفحات : ۴

تعداد سؤال : ۱۶

اداره کل آموزش و پرورش خراسان رضوی

اداره سنجش آموزش و پرورش

سوالات امتحان هماهنگ نهم (متوسطه اول)

درس : ریاضیات

Sanjesh.razavi.medu.ir

نام :

نام خانوادگی :

نام آموزشگاه :

شماره داوطلب :

نوبت : غائبین موجه خردادماه

بارم	سؤال	ردیف
۱	۱) $\frac{4x^2}{x+1} \times \frac{x-1}{x^2-x} =$	۱۳
۱	۲) $\frac{x}{x+y} + \frac{y}{x-y} =$	
۱	$x^2 - 5x - 24 \quad \quad x - 8$	۱۴
۱	قاعده ی یک هرم ، مستطیلی است به ابعاد ۶ و ۵ سانتی متر و ارتفاع این هرم ۱۰ سانتی متر است . حجم این هرم را بدست آورید؟ (نوشتن فرمول الزامی است)	۱۵
۰/۲۵ ۱	مثلث قائم الزاویه ای به اضلاع قائم ۳ و ۴ سانتی متر را حول ضلع ۴ سانتی متر دوران داده ایم . الف) نام شکل حاصل از دوران چیست؟ ب) حجم آن چقدر است؟ (نوشتن فرمول الزامی است)	۱۶

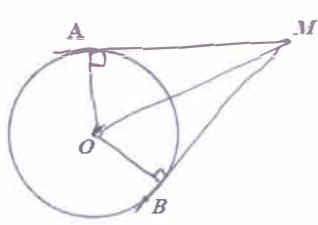
دانش آموزان عزیز و همکاران محترم می توانند با مراجعه به سایت مندرج در سربرگ، سوال و راهنمای تصحیح این درس را مشاهده نمایند.


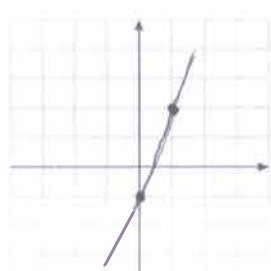
صفحه ۴ موفق باشید جمع بارم ۲۰


دانش آموزان عزیز و همکاران محترم می توانند با مراجعه به سایت مندرج در سربرگ، سوال و راهنمای تصحیح این درس را مشاهده نمایند.

نام و نام خانوادگی مصحح / دبیر	نمره نهایی پس از رسیدگی به اعتراضات	نام و نام خانوادگی مصحح / دبیر	تصحیح و نمره گذاری
	با عدد		با حروف
	با حروف		با عدد
امضاء :		امضاء :	

بارم	ردیف	سؤال
		دانش آموزان عزیز: ضمن آرزوی موفقیت برای شما، لطفاً با مطالعه دقیق ۱۶ سؤال زیر، پاسخ مناسب را در محل‌های تعیین شده، بنویسید.
۱	۱	<p>درستی یا نادرستی گزاره‌های زیر را مشخص کنید.</p> <p>الف) مجموعه‌ی عدد‌های حقیقی بین ۳ و ۴ یک مجموعه‌ی تهی را نشان می‌دهد. ص <input type="checkbox"/> غ <input checked="" type="checkbox"/></p> <p>ب) عددی وجود ندارد که صحیح و گویا باشد. ص <input type="checkbox"/> غ <input checked="" type="checkbox"/></p> <p>ج) نمایش اعشاری کسر $\frac{5}{6}$ مختوم است. ص <input type="checkbox"/> غ <input checked="" type="checkbox"/></p> <p>د) هرمی به قاعده‌ی پنج ضلعی، ۶ وجه جانبی دارد. ص <input type="checkbox"/> غ <input checked="" type="checkbox"/></p>
۰/۵	۲	<p>در هر یک از پرسش‌های زیر گزینه درست را مشخص کنید.</p> <p>الف) حاصل $(\mathbb{R} - \mathbb{Q}) \cap \mathbb{Z}$ کدام گزینه است؟</p> <p>۱) \mathbb{Z} <input checked="" type="checkbox"/> ۲) \mathbb{Q} <input type="checkbox"/> ۳) \mathbb{Q}' <input type="checkbox"/> ۴) \mathbb{R} <input type="checkbox"/></p> <p>ب) اگر تاسی را دو بار پرتاب کنیم احتمال اینکه هر دو بار عدد‌های رو شده اول باشد چقدر است؟</p> <p>۱) $\frac{9}{12}$ <input type="checkbox"/> ۲) $\frac{9}{36}$ <input checked="" type="checkbox"/> ۳) $\frac{12}{36}$ <input type="checkbox"/> ۴) $\frac{1}{2}$ <input type="checkbox"/></p>
۰/۷۵	۳	<p>عبارت‌های سمت راست را به گزینه‌ی مناسب در سمت چپ وصل کنید. (۳ گزینه در سمت چپ اضافی است.)</p> <p>الف) نمایش اعشاری کسر $\frac{5}{18}$ به صورت است. ← نیمکره</p> <p>ب) از دوران ربع دایره حول شعاع آن بوجود می‌آید. ← $x - y$</p> <p>ج) اگر $x > 0$، $y < 0$ حاصل $\sqrt{x^2} + \sqrt{y^2}$ چقدر است؟ ← مختوم</p> <p>← متناوب</p> <p>کره</p> <p>$x + y$</p>
۰/۵	۴	<p>الف) با توجه به مجموعه‌های $A = \{3, 5, 6, 9\}$، $B = \{2, 5, 6, 9\}$، $C = \{6, 9, 11\}$ هر یک از مجموعه‌های زیر را با اعضایش بنویسید.</p> <p>ب) مجموعه‌ی C را با نوشتن عضوها مشخص کنید.</p> <p>الف) $B - A = \{2\}$ ب) $A \cap C = \{4, 9\}$</p> <p>ج) $C = \{4k \mid k \in \mathbb{Z}, -1 < k < 2\} = \{4, 8\}$</p>
		ادامه سؤالات در صفحه بعد
		صفحه ۱

بارم	سؤال	ردیف
۱	الف) حاصل عبارت زیر را بدون استفاده از قدر مطلق بنویسید. $\sqrt{(1-\sqrt{3})^2} = \underbrace{ 1-\sqrt{3} }_{\text{منفی}} = -1 + \sqrt{3}$	۵
۰/۵	ب) بین دو عدد ۶ و $\sqrt{3}$ یک عدد گنگ بنویسید. $\sqrt{5}$	۰/۵
۰/۵	ج) مثلث ABC به اضلاع ۴ و ۵ و ۸ سانتی متر با مثلث DEF به اضلاع $x-1$ ، x ، 10 ، $x+7$ با هم متشابه هستند (اندازه ی اضلاع مثلث از کوچک به بزرگ نوشته شده است). مقدار x چقدر است. $\frac{4}{x-1} = \frac{5}{x} \Rightarrow 5x - 5 = 4x \Rightarrow 5x = 4x + 5 \Rightarrow x = \frac{4x + 5}{5} = 9$	۰/۵
۰/۷۵	الف) حاصل عبارت زیر را به صورت عدد توان دار بنویسید. $\left(\frac{1}{3}\right)^{-4} \times 27^{-3} \times 9^5 = 3^4 \times 3^{-9} \times 3^{10} = 3^5$	۶
۰/۵	ب) حاصل عبارت زیر را به دست آورید. $\frac{\sqrt{54} \times \sqrt{20}}{\sqrt{5}} = \frac{3\sqrt{4} \times 2\sqrt{5}}{\sqrt{5}} = 4\sqrt{4}$	۰/۵
۰/۵	الف) مخرج کسر زیر را گویا کنید. $\frac{5 \times \sqrt{3^2}}{\sqrt{3} \times \sqrt{3^2}} = \frac{5 \sqrt{3^2}}{3}$	۷
۰/۵	ب) به صورت نماد علمی بنویسید. $0.0145 \times 10^{-2} = 1,45 \times 10^{-2} \times 10^{-2} = 1,45 \times 10^{-4}$	۰/۵
۱	الف) ثابت کنید اگر از نقطه ی M خارج از دایره دو مماس MA, MB را بر دایره رسم کنیم، اندازه ی این دو مماس با هم برابر است. (راهنمایی: از مرکز دایره به نقطه های A, B, M وصل کنید).  $OM = OM = \text{وتر مشترک} \quad \left. \begin{array}{l} \text{بنای حالت} \\ \text{وتر و یک ضلع نامان} \end{array} \right\} \Rightarrow MAO \cong MBO$ $OA = OB = \text{شعاع دایره}$ بنابراین اجزای متناظر $MA = MB$	۸
	ادامه سوالات در صفحه بعد	صفحه ۲

بارم	سؤال	ردیف
۰/۷۵	الف) عبارت زیر را با استفاده از اتحاد حل کنید. $\left(ab - \frac{1}{2}\right)^2 = a^2b^2 - ab + \frac{1}{4}$ ب) عبارات داده شده را تجزیه کنید. ۱) $a^2 - 9a + 14 = (a-2)(a-7)$ ۲) $x^2 - y^2 = (x-y)(x+y)$	۹
۱	نامعادله ی داده شده را حل کنید و مجموعه جواب را روی محور نشان دهید. $-3(x-1) \geq 2x-2$ $-3x+3 \geq 2x-2 \Rightarrow -3x-2x \geq -2-3$ $\Rightarrow -5x \geq -5 \Rightarrow x \leq 1$ 	۱۰
۰/۵	الف) معادله ی خطی را بنویسید که شیب آن $\frac{2}{3}$ و عرض از مبدا آن -۲ باشد. $y = \frac{2}{3}x - 2$ ب) خط $y = 3x - 1$ را در دستگاه مختصات رسم کنید.  $\begin{array}{c cc} x & 0 & 1 \\ \hline y & -1 & 2 \end{array}$ $\left[\begin{array}{c c} 3 & -1 \\ \hline 1 & 2 \end{array} \right]$ ج) شیب و عرض از مبدا خط زیر را مشخص کنید. $y = 3x - 1$ $\text{شیب خط} = 3 \quad \text{عرض از مبدا} = -1$	۱۱
۱	دستگاه مقابل را حل کنید. $\begin{cases} x - 3y = 7 \\ 2x - 7y = 15 \end{cases} \Rightarrow \begin{cases} -2x + 4y = -14 \\ 2x - 7y = 15 \end{cases}$ $\hline -y = 1 \Rightarrow y = -1$ $x - 3(-1) = 7 \Rightarrow x + 3 = 7 \Rightarrow x = 7 - 3 = 4$	۱۲
	ادامه سوالات در صفحه بعد	صفحه ۳

بارم	سؤال	ردیف
۱	<p>۱) $\frac{4x^2}{x+1} \times \frac{x-1}{x^2-x} = \frac{4x^2}{x+1} \times \frac{x-1}{x(x-1)} = \frac{4x}{x+1}$</p> <p>۲) $\frac{x}{x+y} + \frac{y}{x-y} = \frac{x(x-y) + y(x+y)}{(x+y)(x-y)} = \frac{x^2 - xy + xy + y^2}{x^2 - y^2} = \frac{x^2 + y^2}{x^2 - y^2}$</p>	۱۳
۱	<p>$x^2 - 5x - 24 \mid x - 8$</p> <p>$-x^2 + 8x$ $x + 3$</p> <p>$3x - 24$</p> <p>$-3x + 24$</p> <p>0</p> <p>خارج قسمت = $x + 3$ باقی مانده = صفر</p>	۱۴
۱	<p>قاعده ی یک هرم ، مستطیلی است به ابعاد ۶ و ۵ سانتی متر و ارتفاع این هرم ۱۰ سانتی متر است . حجم این هرم را بدست آورید؟ (نوشتن فرمول الزامی است)</p> <p>$V_{\text{هرم}} = \frac{1}{3} s \cdot h = \frac{1}{3} \times 5 \times 6 \times 10$</p> <p>$V_{\text{هرم}} = 100 \text{ cm}^3$</p>	۱۵
۰/۲۵ ۱	<p>مثلث قائم الزاویه ای به اضلاع قائم ۳ و ۴ سانتی متر را حول ضلع ۴ سانتی متر دوران داده ایم . الف) نام شکل حاصل از دوران چیست؟ مخروط ب) حجم آن چقدر است؟ (نوشتن فرمول الزامی است)</p> <p>$V_{\text{مخروط}} = \frac{1}{3} \pi r^2 h = \frac{1}{3} \pi \times 9 \times 4 = 12\pi$</p> <p>$= 37,48 \text{ cm}^3$</p> 	۱۶
۲۰	جمع بارم	صفحه ۴
موفق باشید		
دانش آموزان عزیز و همکاران محترم می توانند با مراجعه به سایت مندرج در سربرگ، سؤال و راهنمای تصحیح این درس را مشاهده نمایند.		
نام و نام خانوادگی مصحح/ دبیر	نمره نهایی پس از رسیدگی به اعتراضات	نام و نام خانوادگی مصحح/ دبیر
	با عدد	با حروف
	با حروف	با عدد
امضاء :		امضاء :

تاریخ امتحان : ۱۳۹۷ / ۰۵ / ۰۲
 مدت امتحان : ۱۰۰ دقیقه
 ساعت شروع : ۹ :۰۰ صبح
 تعداد صفحات : ۴
 تعداد سؤال : ۱۴

اداره کل آموزش و پرورش خراسان رضوی
 اداره سنجش آموزش و پرورش
 سؤالات امتحان هماهنگ نهم (متوسطه اول)
 درسی : ریاضیات
 Sanjesh.razavi.medu.ir

نام :
 نام خانوادگی :
 نام آموزشگاه :
 شماره داوطلب :
 نوبت : جبرانی مردادماه

بارم	سؤال	ردیف
دانش آموزان عزیز : ضمن آرزوی موفقیت برای شما ، لطفاً با مطالعه دقیق ۱۴ سؤال زیر ، پاسخ مناسب را در محل‌های تعیین شده ، بنویسید .		
۱	<p>درستی یا نادرستی گزاره های زیر را مشخص کنید.</p> <p>الف) عدد $0/11110011001100001.....$ عددی گنگ است. ص <input type="checkbox"/> غ <input type="checkbox"/></p> <p>ب) مجموع یک عدد گویا و یک عدد گنگ همواره عددی گنگ است. ص <input type="checkbox"/> غ <input type="checkbox"/></p> <p>ج) شیب خط $y = -2x + 2$ عدد $2+$ می باشد. ص <input type="checkbox"/> غ <input type="checkbox"/></p> <p>د) در تقسیم چندجمله ای بر چندجمله ای، درجه ی باقیمانده باید کوچکتر از درجه ی مقسوم علیه باشد. ص <input type="checkbox"/> غ <input type="checkbox"/></p>	۱
۱	<p>در هر یک از پرسش های زیر گزینه درست را مشخص کنید.</p> <p>الف) مجموعه ی $\{\phi\}$ دارای زیر مجموعه می باشد.</p> <p><input type="checkbox"/> ۱ (۲) <input type="checkbox"/> ۲ (۱) <input type="checkbox"/> ۴ (۴) <input type="checkbox"/> صفر (۳)</p> <p>ب) حاصل عبارت $(-5)^{-2}$ کدام گزینه است؟</p> <p><input type="checkbox"/> ۲۵ (۱) <input type="checkbox"/> -۲۵ (۲) <input type="checkbox"/> $\frac{1}{25}$ (۳) <input type="checkbox"/> $-\frac{1}{25}$ (۴)</p> <p>ج) کدام یک از خط های زیر موازی محور طول ها می باشد؟</p> <p><input type="checkbox"/> $y = 3x + 5$ (۲) <input type="checkbox"/> $3y - 2 = 7$ (۱) <input type="checkbox"/> $5x - 2 = 8$ (۴) <input type="checkbox"/> $4x - 3y = 12$ (۳)</p> <p>د) کدام گزینه نمایش مجموعه عدد های طبیعی فرد می باشد؟</p> <p><input type="checkbox"/> $\{2x + 1 x \in \mathbb{N}\}$ (۲) <input type="checkbox"/> $\{2x x \in \mathbb{N}\}$ (۱) <input type="checkbox"/> $\{2x + 1 x \in \mathbb{W}\}$ (۴) <input type="checkbox"/> $\{2x - 1 x \in \mathbb{W}\}$ (۳)</p>	۲
۱	<p>جاهای خالی را با عبارت مناسب کامل کنید.</p> <p>الف) مجموعه ی زیر مجموعه ی همه ی مجموعه هاست.</p> <p>ب) دلیل آوردن و استفاده از دانسته های قبلی برای پیدا کردن مجهول ، نامیده می شود .</p> <p>ج) دو مربع دلخواه همواره هستند .</p> <p>د) در دو چند ضلعی متشابه اضلاع به یک تغییر می کنند.</p>	۳
	ادامه سوالات در صفحه بعد	صفحه ۱

« باسمه تعالی »

تاریخ امتحان : ۱۳۹۷ / ۰۵ / ۰۲

مدت امتحان : ۱۰۰ دقیقه

ساعت شروع : ۹ :۰۰ صبح

تعداد صفحات : ۴

تعداد سؤال : ۱۴

اداره کل آموزش و پرورش خراسان رضوی

اداره سنجش آموزش و پرورش

سؤالات امتحان هماهنگ نهم (متوسطه اول)

درس : ریاضیات

Sanjesh.razavi.medu.ir

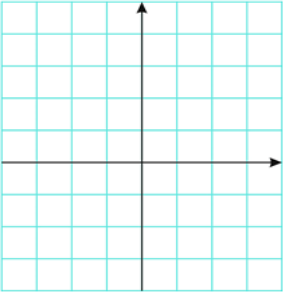
نام :

نام خانوادگی :

نام آموزشگاه :

شماره داوطلب :

نوبت : جبرانی مردادماه

بارم	سؤال	ردیف
۱/۵	$997 \times 1003 =$ $(a-7)(a+5) =$	۸
۱	$4x^2 - 25 =$ $x^2 + 2x - 8 =$	(ب) عبارت مقابل را تجزیه کنید.
۱	$2x - 3 \leq \frac{3}{2}x - 1$	۹
۱		۱۰
۰/۵	<p>(الف) خط $2x - 3y = 6$ را در دستگاه مختصات زیر رسم کنید.</p> <p>(ب) شیب خط و عرض از مبدا آن را بنویسید.</p> <p>(ج) معادله ی خطی را بنویسید که با خط $y = 4x + 1$ موازی باشد و از نقطه ی $A = \begin{bmatrix} 0 \\ -3 \end{bmatrix}$ بگذرد.</p>	
۰/۵		
۱	$\left(\frac{1}{x^2} - \frac{1}{y^2}\right) \div \left(\frac{1}{x} + \frac{1}{y}\right) =$	۱۱
۰/۵	$\frac{y}{x^2 - 4}$	(الف) حاصل عبارت مقابل را بدست آورید.
۰/۵	$\frac{a^2 - 9}{3a + 9} =$	(ب) به ازای کدام مقادیر عبارت مقابل تعریف نشده است؟
		(ج) عبارت مقابل را ساده کنید.
	ادامه سؤالات در صفحه بعد	صفحه ۳

« باسمه تعالی »

تاریخ امتحان : ۱۳۹۷ / ۰۵ / ۰۲

مدت امتحان : ۱۰۰ دقیقه

ساعت شروع : ۹ : ۰۰ صبح

تعداد صفحات : ۴

تعداد سؤال : ۱۴

اداره کل آموزش و پرورش خراسان رضوی

اداره سنجش آموزش و پرورش

سؤالات امتحان هماهنگ نهم (متوسطه اول)

درس : ریاضیات

Sanjesh.razavi.medu.ir

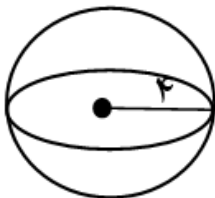
نام :

نام خانوادگی :

نام آموزشگاه :

شماره داوطلب :

نوبت : جبرانی مردادماه

بارم	سؤال	ردیف
۱	$4x^2 - 3x + 2 \mid x - 1$ <p>ج) تقسیم مقابل را انجام دهید. خارج قسمت = باقی مانده =</p>	۱۲
۱	$\begin{cases} 3x + 2y = -12 \\ y = -3x \end{cases}$ <p>دستگاه مقابل را حل کنید.</p>	۱۳
۰/۷۵	<p>الف) اگر حجم هرمی ۱۲۰ سانتی متر مکعب و مساحت قاعده ی آن ۴۵ سانتی متر مربع باشد. ارتفاع هرم چند سانتی متر است. (نوشتن فرمول الزامی است).</p>	۱۴
۰/۷۵	<p>ب) مساحت کره به شعاع ۴ سانتی متر را به دست آورید. (نوشتن فرمول الزامی است).</p> 	
۲۰	جمع بارم	صفحه ۴
موفق باشید		
دانش آموزان عزیز و همکاران محترم می توانند با مراجعه به سایت مندرج در سربرگ، سؤال و راهنمای تصحیح این درس را مشاهده نمایند.		
نام و نام خانوادگی مصحح/ دبیر	نمره نهایی پس از رسیدگی به اعتراضات	نام و نام خانوادگی مصحح/ دبیر
با عدد	با حروف	با عدد
با عدد	با حروف	با عدد
امضاء :		امضاء :

« باسمه تعالی »

تاریخ امتحان : // ۱۳۹۷
مدت امتحان : ۱۰۰ دقیقه
ساعت شروع : : صبح
تعداد صفحات : ۴
تعداد سؤال : ۱۴

اداره کل آموزش و پرورش خراسان رضوی
اداره سنجش آموزش و پرورش
سوالات امتحان هماهنگ نهم (متوسطه اول)
درس : پاسخ نامه ریاضیات

نام :
نام خانوادگی :
نام آموزشگاه :
شماره داوطلب :

نوبت : مردادماه ۱۳۹۷

Sanjesh.razavi.medu.ir

بارم

ردیف

سؤال و پاسخ های در دسترس
سؤال و پاسخ های در دسترس

دانش آموزان عزیز : ضمن آرزوی موفقیت برای شما ، لطفاً با مطالعه دقیق ۱۴ سؤال زیر ، پاسخ مناسب را در محل های تعیین شده ، بنویسید .

۱	<p>درستی یا نادرستی گزاره های زیر را مشخص کنید.</p> <p>الف) عدد$0/11110011001100001$ عددی گنگ است. <input type="checkbox"/> ص <input checked="" type="checkbox"/> غ</p> <p>ب) مجموع یک عدد گویا و یک عدد گنگ همواره عددی گنگ است. <input type="checkbox"/> ص <input checked="" type="checkbox"/> غ</p> <p>ج) شیب خط $y = -2x + 2$ عدد $+2$ می باشد. <input checked="" type="checkbox"/> ص <input type="checkbox"/> غ</p> <p>د) در تقسیم چند جمله ای بر چند جمله ای، درجه ی باقیمانده باید کوچکتر از درجه ی مقسوم علیه باشد. <input type="checkbox"/> ص <input checked="" type="checkbox"/> غ</p>	۱
۱	<p>در هر یک از پرسش های زیر گزینه درست را مشخص کنید.</p> <p>الف) مجموعه ی $\{\phi\}$ دارای زیر مجموعه می باشد.</p> <p><input checked="" type="checkbox"/> ۲ (۱) <input type="checkbox"/> ۱ (۲)</p> <p><input type="checkbox"/> صفر (۳) <input type="checkbox"/> ۴ (۴)</p> <p>ب) حاصل عبارت $(-5)^{-2}$ کدام گزینه است؟</p> <p><input type="checkbox"/> ۲۵ (۱) <input type="checkbox"/> -۲۵ (۲)</p> <p><input checked="" type="checkbox"/> $\frac{1}{25}$ (۳) <input type="checkbox"/> $-\frac{1}{25}$ (۴)</p> <p>ج) کدام یک از خط های زیر موازی محور طول ها می باشد؟</p> <p><input checked="" type="checkbox"/> $3y - 2 = 7$ (۱) <input type="checkbox"/> $y = 3x + 5$ (۲)</p> <p><input type="checkbox"/> $4x - 3y = 12$ (۳) <input type="checkbox"/> $5x - 2 = 8$ (۴)</p> <p>د) کدام گزینه نمایش مجموعه عدد های طبیعی فرد می باشد؟</p> <p><input type="checkbox"/> $\{2x x \in \mathbb{N}\}$ (۱) <input type="checkbox"/> $\{2x + 1 x \in \mathbb{N}\}$ (۲)</p> <p><input type="checkbox"/> $\{2x - 1 x \in \mathbb{W}\}$ (۳) <input checked="" type="checkbox"/> $\{2x + 1 x \in \mathbb{W}\}$ (۴)</p>	۲
۱	<p>جاهای خالی را با عبارت مناسب کامل کنید.</p> <p>الف) مجموعه ی زیر مجموعه ی همه ی مجموعه هاست.</p> <p>ب) دلیل آوردن و استفاده از دانسته های قبلی برای پیدا کردن مجهول ، نامیده می شود.</p> <p>ج) دو مربع دلخواه همواره هستند.</p> <p>د) در دو چند ضلعی متشابه اضلاع به یک تغییر می کنند.</p>	۳
	ادامه سوالات در صفحه بعد	صفحه ۱

تاریخ امتحان: // ۱۳۹۷

مدت امتحان: ۱۰۰ دقیقه

ساعت شروع: : صبح

تعداد صفحات: ۴

تعداد سؤال: ۱۴

اداره گل آموزش و پرورش خراسان رضوی

اداره سنجش آموزش و پرورش

سوالات امتحان هماهنگ نهم (متوسطه اول)

درس: پاسخ نامه ریاضیات

Sanjesh.razavi.medu.ir

نام:

نام خانوادگی:

نام آموزشگاه:

شماره داوطلب:

نوبت: مردادماه ۱۳۹۷

ردیف	سؤال	بارم
۴	الف) با توجه به مجموعه‌های $A = \{x x \in \mathbb{N}, X < 8\}$ و $B = \{4, 6, 8, 10\}$ باشد، حاصل $A - B$ را بدست آورید. $A = \{1, 2, 3, 4, 5, 6, 7\}$ $A - B = \{1, 2, 3, 5, 7\}$ ب) یک تاس و یک سکه را با هم می اندازیم احتمال آنکه سکه رو بیاید و تاس عدد اول باشد چقدر است؟ نوشتن فرمول الزامی است) $n(S) = 12$ $n(A) = 2$ $P(A) = \frac{2}{12} = \frac{1}{6}$	۱
۵	الف) بین $\frac{1}{3}$ و $\frac{2}{3}$ دو کسر بنویسید. به روش مترج درون $\dots, \frac{14}{24}, \frac{13}{24}, \frac{7}{12}$ ب) حاصل عبارت مقابل را بدون قدر مطلق بنویسید. $ 3 - \sqrt{12} = -3 + \sqrt{12}$ ج) نماد علمی 0.00000016 را بنویسید. 1.4×10^{-8}	۰/۵ ۰/۵ ۰/۵
۶	ثابت کنید طول دو مماس وارد بر دایره با هم برابرند. $MO = MO$ وتر مشترک $OA = OB$ شعاع دایره $\Rightarrow MAO \cong MBO$ بنا بر این قضیه $MA = MB$ بنا بر اجزای متناظر	۱
۷	الف) حاصل را به صورت یک عدد توان دار بنویسید. $9^{-5} \times 3^{-2} \div 27 = 3^{-10} \div 3^3 = 3^{-10-3} = 3^{-13}$ ب) حاصل عبارت مقابل را ساده کنید. $\frac{\sqrt{54}}{27 \times 2} - 2\sqrt{\frac{18}{9 \times 2}} + 3\sqrt{\frac{72}{36 \times 2}} + \sqrt{\frac{128}{42 \times 2}} = 3\sqrt{2} - 4\sqrt{2} + 18\sqrt{2} + 4\sqrt{2} = 19\sqrt{2}$ ج) کسر مقابل را گویا کنید. $\frac{-12 \times \sqrt{2}}{\sqrt{2} \times \sqrt{2}} = \frac{-12 \sqrt{2}}{2} = -6\sqrt{2}$	۰/۵ ۰/۵ ۰/۵
	ادامه سوالات در صفحه بعد	
	صفحه ۲	

تاریخ امتحان : // ۱۳۹۷

مدت امتحان : ۱۰۰ دقیقه

ساعت شروع : : صبح

تعداد صفحات : ۴

تعداد سؤال : ۱۴

اداره کل آموزش و پرورش خراسان رضوی

اداره سنجش آموزش و پرورش

سوالات امتحان هماهنگ نهم (متوسطه اول)

درس : پاسخ نامه ریاضیات

Sanjesh.razavi.medu.ir

نام :

نام خانوادگی :

نام آموزشگاه :

شماره داوطلب :

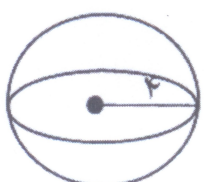
نوبت : مردادماه ۱۳۹۷

بارم	سؤال	ردیف
	الف) به کمک اتحادها پاسخ دهید. $(a-7)(a+5) = a^2 - 2a - 35$ $997 \times 1003 = (1000-3)(1000+3)$ $= 1000^2 - 3^2 = 999991$ ب) عبارت مقابل را تجزیه کنید. $x^2 + 2x - 8 = (x-2)(x+4)$ $4x^2 - 25 = (2x-5)(2x+5)$	۸
	مجموعه ی جواب نامعادله های زیر را بدست آورید. $2x - 3 \leq \frac{3}{2}x - 1 \Rightarrow 4x - 6 \leq 3x - 2 \Rightarrow 4x - 3x \leq -2 + 6$ $\Rightarrow x \leq 4$	۹
۱	الف) خط $2x - 3y = 6$ را در دستگاه مختصات زیر رسم کنید. $\begin{array}{c cc} x & 0 & 3 \\ \hline y & -2 & 0 \end{array}$ $\begin{bmatrix} x \\ y \end{bmatrix} \begin{bmatrix} -2 \\ 0 \end{bmatrix} \begin{bmatrix} 3 \\ 0 \end{bmatrix}$ ب) شیب خط و عرض از مبدا آن را بنویسید. $2x - 3y = 6 \Rightarrow -3y = -2x + 6 \Rightarrow y = \frac{2}{3}x - 2$ شیب $\frac{2}{3}$ و عرض از مبدا -2 ج) معادله ی خطی را بنویسید که با خط $y = 4x + 1$ موازی باشد و از نقطه ی $A = \begin{bmatrix} 0 \\ -3 \end{bmatrix}$ بگذرد. $y = 4x - 3$	۱۰
۱	الف) حاصل عبارت مقابل را بدست آورید. $\left(\frac{1}{x^2} - \frac{1}{y^2}\right) \div \left(\frac{1}{x} + \frac{1}{y}\right) = \frac{y^2 - x^2}{x^2 y^2} \div \frac{y+x}{xy} = \frac{(y-x)(y+x)}{\frac{x^2 y^2}{xy}} \times \frac{xy}{y+x} = \frac{y-x}{xy}$ ب) به ازای کدام مقادیر عبارت مقابل تعریف نشده است؟ $x^2 - 4 = 0 \Rightarrow x^2 = 4 \Rightarrow x = \pm 2$ به ازای $x = -2$ و $x = 2$ عبارت مقابل تعریف نشده است. ج) عبارت مقابل را ساده کنید. $\frac{a^2 - 9}{3a + 9} = \frac{(a-3)(a+3)}{3(a+3)} = \frac{a-3}{3}$	۱۱
	ادامه سوالات در صفحه بعد	صفحه ۳

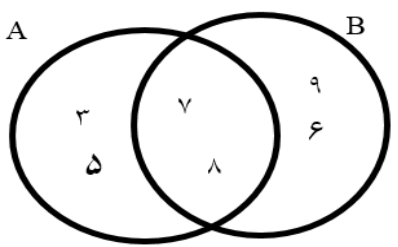
تاریخ امتحان : // ۱۳۹۷
 مدت امتحان : ۱۰۰ دقیقه
 ساعت شروع : : صبح
 تعداد صفحات : ۴
 تعداد سؤال : ۱۴

اداره کل آموزش و پرورش خراسان رضوی
 اداره سنجش آموزش و پرورش
 سوالات امتحان هماهنگ نهم (متوسطه اول)
 درس : پاسخ نامه ریاضیات
 Sanjesh.razavi.medu.ir


نام :
 نام خانوادگی :
 نام آموزشگاه :
 شماره داوطلب :
 نوبت : مردادماه ۱۳۹۷

ردیف	سؤال	بارم
۱۲	ج) تقسیم مقابل را انجام دهید. $\begin{array}{r} 4x^2 - 3x + 2 \quad \quad x - 1 \\ -4x^2 + 4x \quad \quad \quad 4x + 1 \\ \hline 0 + x + 2 \\ -x + 1 \\ \hline +3 \end{array}$ <p>خارج قسمت = $4x + 1$ باقی مانده = $+3$</p>	۱
۱۳	دستگاه مقابل را حل کنید. $\begin{cases} 3x + 2y = -12 \\ y = -3x \end{cases} \quad \begin{cases} 3x + 2y = -12 \\ 3x + y = 0 \end{cases} \quad \begin{cases} -3x + 2y = 12 \\ 3x + y = 0 \end{cases}$ $\begin{aligned} -y &= 12 \Rightarrow y = -12 \\ 3x - 12 &= 0 \Rightarrow 3x = 12 \Rightarrow x = 4 \end{aligned}$	۱
۱۴	الف) اگر حجم هرمی ۱۲۰ سانتی متر مکعب و مساحت قاعده ی آن ۴۵ سانتی متر مربع باشد. ارتفاع هرم چند سانتی متر است. (نوشتن فرمول الزامی است). $V_{\text{هرم}} = \frac{1}{3} S \cdot h \Rightarrow 120 = \frac{1}{3} \times 45 \times h$ $\Rightarrow 120 = 15h \Rightarrow h = \frac{120}{15} = 8 \text{ cm}$	۰/۷۵
۰/۷۵	ب) مساحت کره به شعاع ۴ سانتی متر را به دست آورید. (نوشتن فرمول الزامی است). $\text{مساحت کره} = 4\pi r^2 = 4 \times \pi \times 4^2 = 4 \times \pi \times 16 = 64\pi \text{ cm}^2$ $= 200,96 \text{ cm}^2$ 	۰/۷۵
صفحه ۴	موفق باشید	۲۰ جمع بارم
دانش آموزان عزیز و همکاران محترم می توانند با مراجعه به سایت مندرج در سربرگ، سؤال و راهنمای تصحیح این درس را مشاهده نمایند.		
تصحیح و نمره گذاری	نام و نام خانوادگی مصحح / دبیر	نمره نهایی پس از رسیدگی به اعتراضات
با عدد	با حروف	با عدد
با حروف	با حروف	با حروف
امضاء :	امضاء :	امضاء :

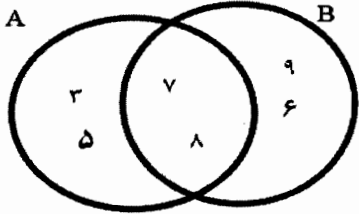
ردیف	سؤال	بارم
دانش آموزان عزیز : ضمن آرزوی موفقیت برای شما ، لطفاً با مطالعه دقیق ۱۹ سؤال زیر ، پاسخ مناسب را در محل های تعیین شده ، بنویسید .		
۱	<p>درستی یا نادرستی هریک از عبارتهای زیر را مشخص کنید:</p> <p>(الف) اجتماع دو مجموعه ؛ زیر مجموعه اشتراک آنها است.</p> <p>(ب) دو مربع ، همواره با هم متشابه هستند.</p> <p>(ج) ریشه های دوم عدد حقیقی مثبت b ، دو عدد \sqrt{b} و $-\sqrt{b}$ هستند.</p> <p>(د) $\sqrt{17}$ بین دو عدد صحیح ۱۶ و ۱۸ قرار دارد.</p>	۱
۱	<p>در هریک از سوالات زیر گزینه درست را مشخص کنید</p> <p>(الف) نمایش اعشاری کدام یک از کسره های زیر مختوم است؟</p> <p>(۱) $\frac{7}{12}$ (۲) $\frac{4}{3}$ (۳) $\frac{5}{8}$ (۴) $\frac{8}{9}$</p> <p>(ب) کدام عبارت زیر، یک جمله ای است؟</p> <p>(۱) $8 x$ (۲) $\frac{4}{x}$ (۳) $x\sqrt{15}$ (۴) 9^x</p> <p>(ج) کدام یک از عبارت های زیر، یک مجموعه ی عضو رانمایش می دهد؟</p> <p>(۱) $\{x \in \mathbb{Q} 3 < x < 5\}$ (۲) $\{x \in \mathbb{R} 3 < x < 5\}$</p> <p>(۳) $\{x \in \mathbb{N} 3 < x < 5\}$ (۴) $\{x \in \mathbb{Q}' 3 < x < 5\}$</p> <p>(د) کدام عدد گنگ است؟</p> <p>(۱) $3/14$ (۲) $0./22272227$ (۳) $0./272272227...$ (۴) $\sqrt{49}$</p>	۱
۳	<p>در هر سوال با عبارت مناسب جای خالی را پر کنید:</p> <p>(الف) در دو شکل متشابه زاویه های نظیر همواره با هم هستند.</p> <p>(ب) در تساوی $\sqrt{8} = 2$ ، مربع همان ریشه عدد ۸ را مشخص می کند.</p> <p>(ج) از دوران 360° درجه یک مثلث قائم الزاویه حول یک ضلع زاویه قائمه اش یک بدست می آید.</p> <p>(د) در پرتاب همزمان دو تاس احتمال آمدن هر دو عدد مثل هم برابر با عدد است.</p>	۱
ادامه سوالات در صفحه بعد		
		صفحه ۱

بارم	سؤال	ردیف
۰/۵	الف) با گذاشتن علامت = یا > یا < مقایسه کنید. $1 \square 3^{-1}$ ب) $ 3-9 \square 3- 9 $	۴
۰/۵	ب) با توجه به مجموعه ی $A = \{x \in \mathbb{Q} \mid \sqrt{3} < x < \sqrt{7}\}$ در عبارات زیر نمادهای \in یا \notin قرار دهید. ا) $\sqrt{5} \square A$ ب) $2 \square A$	۵
۱	با توجه به نمودار داده شده به سوالات زیر پاسخ دهید.  الف) $A \cap B = \{ \}$ ب) $B - A = \{ \}$	۵
۰/۲۵	ج) اجتماع دو مجموعه اعداد گنگ و گویا مجموعه ی اعداد را تشکیل می دهد .	
۰/۵	آیا استدلال زیر درست است؟ برای پاسختان دلیل بیاورید. در هر مربع چهار ضلع با هم برابرند \Leftarrow در چهارضلعی ABCD چهار ضلع باهم برابرند چهار ضلعی ABCD مربع خواهد بود	۶
۰/۵	با توجه به متن داده شده اثبات زیر را کامل کنید. (باید ۶ جای خالی پر شود) (فاصله هر نقطه روی نیمساز زاویه از دو ضلع زاویه به یک اندازه است) $\hat{O}_1 = \dots$ حکم : $\overline{BM} = \dots$ فرض : اثبات : $\begin{cases} \hat{A} = \hat{B} \\ \overline{OM} = \dots \\ \dots = \dots \end{cases} \Rightarrow (\text{بنا به حالت} \dots) \triangle OAM \cong \triangle OBM$	۷
۱	پس با توجه به برابری اجزای متناظر دو شکل هم نهشت حکم نتیجه میشود.	
۰/۷۵	الف) عبارت مقابل را ساده کنید. $7\sqrt{5} - \sqrt{20} =$	۸
۰/۵	ب) مخرج کسر مقابل را گویا کنید. $\frac{4}{\sqrt[3]{\sqrt{2}}} =$	
۰/۵	ج) نماد علمی عدد ۰/۰۰۰۰۴۳۸ را بنویسید. پاسخ:	


بارم	سؤال	ردیف
۰/۵	$\sqrt{(1-\sqrt{2})^2} =$	۹ حاصل عبارت زیر را به دست آورید.
۰/۵ ۰/۵ ۰/۷۵	$(x-3)(x+3) =$ $(a+4)^2 =$ $x^2 + 7x + 10 =$	۱۰ الف) حاصل عبارتهای مقابل را با کمک اتحادها بدست آورید. ب) عبارت مقابل را به کمک اتحادها تجزیه کنید.
۰/۷۵	$2x + 7 \leq 15$	۱۱ نامعادله مقابل را حل کنید.
۰/۵ ۰/۵	<p>الف) معادله خطی را بنویسید که محور عرض را در نقطه +۵ قطع نموده با خط $4y = 8x + 3$ موازی باشد.</p> <p>ب) آیا نقطه $\begin{bmatrix} 1 \\ 2 \end{bmatrix}$ روی خط $2y = x + 3$ قرار دارد؟ چرا؟</p>	۱۲
۰/۷۵		۱۳ با توجه به شکل معادله خط d را بنویسید.
۱	$\begin{cases} 2x - y = 3 \\ x + y = 3 \end{cases}$	۱۴ دستگاه معادله خط زیر را حل کنید.
۰/۵	$\frac{5x + 3}{2x - 4}$	۱۵ عبارت گویای مقابل به ازای چه مقداری از x تعریف نشده است ؟

ردیف	سؤال	بارم
۱۶	الف) حاصل جمع زیر را به ساده ترین شکل ممکن بدست آورید: $\frac{-3x}{2x+4} + \frac{2}{x+2} =$ <p>ب) حاصل ضرب مقابل را به ساده ترین شکل ممکن بدست آورید: $\frac{x+2}{x^2+2x+1} \times \frac{x+1}{3x+6} =$</p>	۰/۷۵
۱۷	خارج قسمت و باقیمانده تقسیم $2x^2 + x + 9$ بر $x - 2$ مشخص کنید. <p>خارج قسمت: باقیمانده:</p> $2x^2 + x + 9 \quad \quad x - 2$	۱
۱۸	حجم هرم با قاعده مربع به ضلع ۳ و ارتفاع هرم برابر با ۱۰ سانتیمتر را با نوشتن فرمول محاسبه حجم هرم بدست آورید.  = فرمول حجم هرم = محاسبه حجم هرم	۱
۱۹	مساحت کره ای به شعاع ۲ سانتی متر را با نوشتن فرمول محاسبه مساحت کره بدست آورید. = فرمول مساحت کره = محاسبه مساحت کره	۱
صفحه ۴	موفق باشید	جمع باریم ۲۰
دانش آموزان عزیز و همکاران محترم می توانند با مراجعه به سایت مندرج در سربرگ، سؤال و راهنمای تصحیح این درس را مشاهده نمایند.		
تصحیح و نمره گذاری	نام و نام خانوادگی مصحح / دبیر	نمره نهایی پس از رسیدگی به اعتراضات
با عدد	با حروف	با عدد
با عدد	با حروف	با حروف
	امضاء :	امضاء :

ردیف	سؤال	بارم
همکار محترم لطفاً برای پاسخ های صحیح و یا ابتکاری دانش آموز نمره منظور گردد.		
۱	<p>درستی یا نادرستی هریک از عبارتهای زیر را مشخص کنید:</p> <p>(الف) اجتماع دو مجموعه ؛ زیر مجموعه ی اشتراک آنها است.</p> <p>(ب) دو مربع ، همواره با هم متشابه هستند.</p> <p>(ج) ریشه های دوم عدد حقیقی مثبت b ، دو عدد \sqrt{b} و $-\sqrt{b}$ هستند.</p> <p>(د) $\sqrt{17}$ بین دو عدد صحیح ۱۶ و ۱۸ قرار دارد.</p>	۱
۲	<p>در هریک از سوالات زیر گزینه درست را مشخص کنید</p> <p>(الف) نمایش اعشاری کدام یک از کسرهایی زیر مختوم است؟</p> <p>(۱) $\frac{7}{12}$ (۲) $\frac{4}{3}$ (۳) $\frac{5}{8}$ (۴) $\frac{8}{9}$</p> <p>(ب) کدام عبارت زیر، یک جمله ای است؟</p> <p>(۱) $x + 8$ (۲) $\frac{4}{x}$ (۳) 9^x (۴) $x\sqrt{15}$</p> <p>(ج) کدام یک از عبارتهای زیر، یک مجموعه ی یک عضوی را نمایش می دهد؟</p> <p>(۱) $\{x \in \mathbb{N} \mid 2 < x < 5\}$ (۲) $\{x \in \mathbb{R} \mid 2 < x < 5\}$</p> <p>(۳) $\{x \in \mathbb{Q} \mid 2 < x < 5\}$ (۴) $\{x \in \mathbb{Q}' \mid 2 < x < 5\}$</p> <p>(د) کدام عدد گنگ است؟</p> <p>(۱) $3/14$ (۲) $0./222722227$ (۳) $0./2727272227...$ (۴) $\sqrt{49}$</p>	۱
۳	<p>در هر سوال با عبارت مناسب جای خالی را پر کنید:</p> <p>(الف) در دو شکل متشابه، زاویه های نظیر همواره با هم برابر هستند.</p> <p>(ب) در تساوی $\sqrt{8} = 2$ ، مربع همان ریشه ... است. عدد ۸ را مشخص می کند.</p> <p>(ج) از دوران ۳۶۰ درجه یک مثلث قائم الزاویه حول یک ضلع زاویه قائمه اش یک ... بدست می آید.</p> <p>(د) در پرتاب همزمان دو تاس احتمال آمدن هر دو عدد مثل هم برابر با عدد $\frac{4}{36}$ است. یا $\frac{1}{9}$</p>	۱

« باسمه تعالی »		نام :
تاریخ امتحان : ۱۳۹۷ / ۰۶ / ۰۴	اداره کل آموزش و پرورش خراسان رضوی	نام خانوادگی :
مدت امتحان : ۱۰۰ دقیقه	اداره سنجش آموزش و پرورش	نام آموزشگاه :
ساعت شروع : ۹ صبح	پاسخنامه امتحان هماهنگ نهم (متوسطه اول)	شماره داوطلب :
تعداد صفحات : ۴	درس : ریاضیات	نوبت : شهریور ماه
تعداد سؤال : ۱۹	Sanjesh.razavi.medu.ir	
بارم	سؤال	ردیف
۰/۵	الف) با گذاشتن علامت = یا > یا < مقایسه کنید. $3^{-1} \begin{cases} > \\ < \end{cases} 1$ (ا) $ 3 - 9 \begin{cases} > \\ < \end{cases} 3 - 9 $ (ب)	۴
۰/۵	ب) با توجه به مجموعه ی $A = \{x \in \mathbb{Q} \mid \sqrt{3} < x < \sqrt{7}\}$ در عبارات زیر نمادهای \in یا \notin قرار دهید. (ا) $\sqrt{5} \notin A$ (ب) $2 \in A$	
۱	با توجه به نمودار داده شده به سوالات زیر پاسخ دهید.  الف) $A \cap B = \{7, 8\}$ ب) $B - A = \{6, 9\}$	۵
۰/۲۵	ج) اجتماع دو مجموعه اعداد گنگ و گویا مجموعه ی اعداد را تشکیل می دهد . حقیقت	
۰/۵	آیا استدلال زیر درست است؟ برای پاسختان دلیل بیاورید. در هر مربع چهار ضلع با هم برابرند \Leftarrow چهار ضلعی ABCD مربع خواهد بود در چهار ضلعی ABCD چهار ضلع با هم برابرند	۶
	پاسخ: خیر. زیرا ممکن است چهار ضلعی ما متدویری چهار ضلع برابر داشته باشد و زوایای آن هر چهار تا نامساوی نباشند.	
۰/۵	با توجه به متن داده شده اثبات زیر را کامل کنید. (باید ۶ جای خالی پر شود) (فاصله هر نقطه روی نیمساز زاویه از دو ضلع زاویه به یک اندازه است) حکم : $\overline{BM} = \overline{AM}$ فرض : $\hat{O}_1 = \hat{O}_2$	۷
۱	اثبات : $\begin{cases} \hat{A} = \hat{B} \\ \overline{OM} = \overline{OM} \end{cases} \Rightarrow O\hat{A}M \cong O\hat{B}M$ (بنا به حالت <u>ضلع و زاویه</u>) بنا بر فرض $\hat{O}_1 = \hat{O}_2$ پس با توجه به برابری اجزای متناظر دو شکل هم نهشت حکم نتیجه میشود.	
۰/۷۵	الف) عبارت مقابل را ساده کنید. $7\sqrt{5} - \sqrt{20} = 7\sqrt{5} - 2\sqrt{5} = 5\sqrt{5}$	۸
۰/۵	ب) مخرج کسر مقابل را گویا کنید. $\frac{4}{\sqrt{2}} = \frac{4}{\sqrt{2}} \times \frac{\sqrt{2}}{\sqrt{2}} = \frac{4\sqrt{2}}{2} = 2\sqrt{2}$	
۰/۵	ج) نماد علمی عدد ۰/۰۰۰۰۴۳۸ را بنویسید. $4,38 \times 10^{-5}$	

ردیف	سؤال	بارم
۹	حاصل عبارت زیر را به دست آورید.	۰/۵
	$\sqrt{(1-\sqrt{2})^2} = -(\sqrt{2}) = \sqrt{2} - 1$	
۱۰	الف) حاصل عبارت‌های مقابل را با کمک اتحادها بدست آورید. ب) عبارت مقابل را به کمک اتحادها تجزیه کنید.	۰/۵ ۰/۵ ۰/۷۵
	$(x-3)(x+3) = x^2 - 9$ $(a+4)^2 = a^2 + 8a + 16$ $x^2 + 7x + 10 = (x+2)(x+5)$	
۱۱	نامعادله مقابل را حل کنید.	۰/۷۵
	$2x + 7 \leq 15$ $2x \leq 15 - 7$ $2x \leq 8 \Rightarrow x \leq \frac{8}{2} \Rightarrow x \leq 4$	
۱۲	الف) معادله خطی را بنویسید که محور عرض را در نقطه ۵ قطع نموده با خط $y = 18x + 3$ موازی باشد. ب) آیا نقطه $\begin{bmatrix} 1 \\ 2 \end{bmatrix}$ روی خط $2y = x + 3$ قرار دارد؟ چرا؟ بلیه. دلیل: $2 \times 2 = 1 + 3$ $4 = 4$ پس $\begin{bmatrix} 1 \\ 2 \end{bmatrix}$ بر خط قرار می‌گیرد.	۰/۵ ۰/۵
	$y = 18x + 3$ (نویس این خط) $y = \frac{1}{18}x + \frac{3}{18}$ (الزامی نسبت) $y = 2x + \frac{3}{2}$	
۱۳	با توجه به شکل معادله خط d را بنویسید.	۰/۷۵
	 $y = 2x - 1$	
۱۴	دستگاه معادله خط زیر را حل کنید.	۱
	$\begin{cases} 2x - y = 3 \\ x + y = 3 \end{cases}$ $3x = 6$ $x = \frac{6}{3} = 2$ $x + y = 3$ $2 + y = 3$ $y = 1$ $\begin{bmatrix} 2 \\ 1 \end{bmatrix}$	
۱۵	عبارت گویای مقابل به ازای چه مقداری از x تعریف نشده است؟ برای $x = 2$ تعریف نشده است $\Rightarrow x = \frac{4}{2} = 2$	۰/۵
	$\frac{5x+3}{2x-4}$ $2x - 4 = 0 \Rightarrow x = \frac{4}{2} = 2$	

نام :		« باسمه تعالی »	
نام خانوادگی :		اداره کل آموزش و پرورش خراسان رضوی	
نام آموزشگاه :		اداره سنجش آموزش و پرورش	
شماره داوطلب :		پاسخنامه امتحان هماهنگ نهم (متوسطه اول)	
نوبت : شهریور ماه		درس : ریاضیات	
		Sanjesh.razavi.medu.ir	
بارم	سؤال	ردیف	
۰۷۵	الف) حاصل جمع زیر را به ساده ترین شکل ممکن بدست آورید: $\frac{-3x}{2x+4} + \frac{2}{x+2} = \frac{-3x}{2(x+2)} + \frac{2}{x+2} = \frac{-3x+2x^2}{2(x+2)} = \frac{-3x+4}{2(x+2)}$ ب) حاصل ضرب مقابل را به ساده ترین شکل ممکن بدست آورید: $\frac{x+2}{x^2+2x+1} \times \frac{x+1}{3x+6} = \frac{\cancel{x+2}}{(x+1)(\cancel{x+1})} \times \frac{(x+1)}{3(x+2)} = \frac{1}{3(x+1)}$	۱۶	
۱	خارج قسمت و باقیمانده تقسیم $2x^2 + x + 9$ بر $x - 2$ مشخص کنید. خارج قسمت: $2x + 5$ باقیمانده: 19 $\begin{array}{r} 2x^2 + x + 9 \quad \quad x - 2 \\ \underline{-2x^2 + 4x} \\ + 5x + 9 \\ \underline{-5x + 10} \\ + 19 \end{array}$	۱۷	
۱	حجم هرم با قاعده مربع به ضلع ۳ و ارتفاع هرم برابر با ۱۰ سانتیمتر را با نوشتن فرمول محاسبه حجم هرم بدست آورید. $\text{فرمول حجم هرم} = \frac{1}{3} \times \text{مساحت قاعده} \times \text{ارتفاع}$ $\text{محاسبه حجم هرم} = \frac{1}{3} \times (3 \times 3) \times 10 = 30 \text{ cm}^3$ 	۱۸	
۱	مساحت کره ای به شعاع ۲ سانتی متر را با نوشتن فرمول محاسبه مساحت کره بدست آورید. $\text{فرمول مساحت کره} = 4\pi r^2$ $\text{محاسبه مساحت کره} = 4\pi \times 2 \times 2 = 16\pi \text{ cm}^2$	۱۹	
۲۰	جمع بارم	صفحه ۴	موفق باشید
دانش آموزان عزیز و همکاران محترم می توانند با مراجعه به سایت مندرج در سربرگ، سؤال و راهنمای تصحیح این درس را مشاهده نمایند.			
نام و نام خانوادگی مصحح / دبیر	نمره نهایی پس از رسیدگی به اعتراضات	نام و نام خانوادگی مصحح / دبیر	تصحیح و نمره گذاری
	با عدد	با عدد	با حروف
امضاء :		امضاء :	

تاریخ امتحان : ۹۷ / ۰۳ / ۱۹
مدت امتحان : ۷۰ دقیقه
ساعت شروع : ۱۰ صبح
تعداد صفحات : ۳
تعداد سوال : ۸

اداره کل آموزش و پرورش خراسان رضوی
اداره سنجش آموزش و پرورش
سوالات امتحان هماهنگ پایه نهم (دوره متوسطه اول)
درس : زبان انگلیسی
Sanjesh.razavi.medu.ir

نام :
نام خانوادگی :
نام آموزشگاه :
شماره‌ی داوطلب :
نوبت : خرداد ماه ۹۷

بارم

سوالات

۱

الف- باتوجه به تصویر کدام دو عبارت در مورد آن قابل استفاده و کاربرد می باشد؟

talk to a receptionist - call the emergency - bus station - check in



1. 2.

۱

ب- برای عرفان شب گذشته حادثه ای رخ داده است. باتوجه به تصویرها متن او را با عبارت های مناسب کامل کنید.



Erfan cut his **(3)** in the kitchen last night. I put a **(4)** on the wound and took care of him. He was at home and rested.

۱

ج- عرفان درمورد سفر خانواده خود، متن زیر را نوشته است. قیدهای زمان مناسب را برای متن انتخاب کنید و بنویسید.



now- last month - every year

My father loves traveling. We go to different places **(5)**..... He is booking a good hotel on the net **(6)** We plan to go to Mashhad by train this summer.

د- با نوشتن شکل صحیح فعل های داخل پرانتز به عرفان کمک نمائید تا متن او که درمورد یک حادثه می باشد، کامل شود.

۱

I like Yalda night. We go to our grandparents' house every Yalda night. Last Yalda night, my brother fell down and broke his head and we **(7)** (stay) at home. But my uncle and his family **(8)** (go) to my grandparents' house that night!



تاریخ امتحان : ۹۷ / ۰۳ / ۱۹
 مدت امتحان : ۷۰ دقیقه
 ساعت شروع : ۱۰ صبح
 تعداد صفحات : ۳
 تعداد سوال : ۸

اداره کل آموزش و پرورش خراسان رضوی
 اداره سنجش آموزش و پرورش
 سوالات امتحان هماهنگ پایه نهم (دوره متوسطه اول)
 درس : زبان انگلیسی
 Sanjesh.razavi.medu.ir

نام :
 نام خانوادگی :
 نام آموزشگاه :
 شماره‌ی داوطلب :
 نوبت : خرداد ماه ۹۷

بارم

سوالات

۰.۵

ه- مکالمه ای بین عرفان و دوست او پرهام در جریان است، عنوان مناسبی در یک عبارت برای آن بنویسید.

(9).....

Parham: What's your favorite media?

Erfan: Mobile! You can call, connect to Internet, play games, send and receive E-mail, take photos, text the message and check your blog.

Parham: That's great. But my favorite media is TV and radio. I like to watch sports news!

Erfan: It's interesting!



و- متن زیر که در باره یک برنامه تلویزیونی می باشد را بخوانید:

Yesterday Parham watched an interview on TV. It was about Mahdi Alavi. He is a student from Tehran and he enjoys working with the computer. He is a clever student. Mahdi studies computer. He lost his parents in an accident when his parents traveled to Yazd.



۱/۵

از متن بالا برای هر کدام از عبارتهای جدول زیر، یک کلمه بنویسید.

Personality	Media	Place
(10)	(11)	(12)

با توجه به متن جمله ی زیر درست است یا غلط؟

۰.۵

13. Mahdi Alavi lives in Yazd. True False

با توجه به متن بالا به سوال زیر پاسخ کامل دهید.

۱

14. What does Mahdi Alavi study?

« باسمه تعالی »

تاریخ امتحان : ۹۷ / ۰۳ / ۱۹
مدت امتحان : ۷۰ دقیقه
ساعت شروع : ۱۰ صبح
تعداد صفحات : ۳
تعداد سوال : ۸

اداره کل آموزش و پرورش خراسان رضوی
اداره سنجش آموزش و پرورش
سوالات امتحان هماهنگ پایه نهم (دوره متوسطه اول)
درس : زبان انگلیسی
Sanjesh.razavi.medu.ir

نام :
نام خانوادگی :
نام آموزشگاه :
شماره ی داوطلب :
نوبت : خرداد ماه ۹۷

بارم

سوالات



ز- مکالمه ی پرهام و عرفان را بخوانید:

Parham: Do you know some services in your city?

Erfan: Yes, they are bank, post office, emergency, police station, and...

Parham: What do the people do in a bank?

Erfan: They open an account or take out money from ATM.

Parham: What about a fire station?

Erfan: Of course there is. My uncle is a fire fighter.

۱ - حال با توجه به مکالمه ی بالا به سوال های زیر در یک عبارت پاسخ دهید.

15. Where do the people open an account?

16. Who works at a fire station?

ح- عرفان چند تصویر را بر روی تخته در مورد حادثه ای که ماه گذشته در مدرسه برای او رخ داده، قرار داده است، برای تصاویر در ۲۰ کلمه یک متن کوتاه بنویسید. (رعایت نکات دستوری، املا ی صحیح و علامت گذاری نمره دارد).


۱/۵



play



break his leg



call



stay

(17) Last month Erfan

.....
.....
.....
.....

موفق باشید

صفحه ۳

دانش آموزان عزیز و همکاران محترم می توانند با مراجعه به سایت مندرج در سربرج، سوال و راهنمای تصحیح این درس را مشاهده نمایند.





نام و نام خانوادگی	نمره نهایی پس از رسیدگی به اعتراضات		نام و نام خانوادگی	تصحیح و نمره گذاری
مصحح / دبیر	با حروف	با عدد	مصحح / دبیر	با حروف
امضاء :			امضاء :	

تاریخ امتحان ۹۷/۳/۱۹	باسمه تعالی	
اداره سنجش آموزش و پرورش	راهنمای تصحیح سوالات امتحان هماهنگ پایه نهم (استان خراسان رضوی)	
	نوبت صبح	درس: زبان انگلیسی
	سال تحصیلی: ۹۷-۱۳۹۶	
1. talk to receptionist(0.5)	2. check in(0.5)	
3. finger(0.5)	4. plaster(0.5)	
5. every year(0.5)	6. now(0.5)	
7. stayed(0.5)	8. went(0.5)	
9. favorite media/talk(ing) about(favorite) media.(0.5)	10. clever(0.5)	
11. (an interview on) TV(0.5)	12. Yazd/Tehran(0.5)	
13. false(0.5)	14. <u>Mahdi Alavi (He)studies computer.</u> .5 / .5	
15. In a bank(0.5)	16. My uncle/His uncle / a fire fighter(0.5)	
۱۷. گرامر نیم نمره / دیکته کلمات نیم نمره / توجه به نشانه گذاری نیم نمره		
در پاسخگویی در صورتیکه کلمه یا عبارتی که پیام و مفهوم سوال را برساند و اشکالی در ساختار و معنی ایجاد ننماید دبیران میتوانند نمره برای آن قسمت در نظر بگیرند.		

تاریخ امتحان : ۹۷ / ۰۳ / ۱۹
مدت امتحان : ۷۰ دقیقه
ساعت شروع : ۱۳ (ابعد از ظهر)
تعداد صفحات : ۳
تعداد سوال : ۸

اداره گل آموزش و پرورش خراسان رضوی
اداره سنجش آموزش و پرورش
سوالات امتحان هماهنگ نهم (دوره متوسطه اول)
درس : زبان انگلیسی
Sanjesh.razavi.medu.ir

نام :
نام خانوادگی :
نام آموزشگاه :
شماره‌ی داوطلب :
نوبت : خرداد ماه ۹۷

بارم	سوالات
۱	<p>الف- باتوجه به تصویر کدام <u>دو</u> عبارت در مورد آن قابل استفاده و کاربرد می باشد؟ <u>emergency - bus station – have an accident – open an account</u></p>  <p>1. 2.</p>
۱	<p>ب- عرفان متنی برای فعالیت های شب عید نوروز نوشته است. با استفاده از تصویرها متن او را با عبارات مناسب کامل کنید.</p>  <p>(3) (4)</p> <p>My father and I wash the carpets and we (3) the house. We go shopping and (4) buy new My sister sets the Haft Seen table and colors the eggs.</p>
۱	<p>ج- عرفان در مورد سفر خود، متن زیر را نوشته است. قیدهای زمان مناسب را برای متن انتخاب کنید و بنویسید.</p>  <p><u>now - last year- every day</u></p> <p>Erfan and Parham take a trip every year. Erfan is booking a hotel (5) They are buying tickets and packing for the trip. They went to Spain by plane and stayed in a nice hotel (6).....</p> <p>د- با نوشتن شکل صحیح فعل های داخل پرانتز به عرفان کمک نمائید تا متن او که در مورد یک مناسبت می باشد، کامل شود.</p> <p>I like Norooz holidays. We visit our grandparents in Norooz. My mother usually (7).....(bake) a special cake. She is kind. Last Norooz, my uncle Reza (8)..... (come) to Iran and he was in my grandparents' house, too.</p> 

تاریخ امتحان : ۹۷ / ۰۳ / ۱۹
مدت امتحان : ۷۰ دقیقه
ساعت شروع : ۱۳ (ابعدازظهر)
تعداد صفحات : ۳
تعداد سوال : ۸

اداره گل آموزش و پرورش خراسان رضوی
اداره سنجش آموزش و پرورش
سوالات امتحان هماهنگ نهم (دوره متوسطه اول)
درس : زبان انگلیسی
Sanjesh.razavi.medu.ir

نام :
نام خانوادگی :
نام آموزشگاه :
شماره‌ی داوطلب :
نوبت : خرداد ماه ۹۷

بارم

سوالات

۱/۵

۵- عنوان مناسبی در یک عبارت برای متن زیر بنویسید.

(9)

I like to be a fire fighter because he puts out fire and saves people's lives. It's a hard job but fire fighters are brave and helpful. They work on shifts. They work at a fire station. They help you when you need them!



۶- متن زیر که در باره من و فناوری می باشد را بخوانید:

Every day I connect to internet. I can't do most of the things without the Internet. Today I can't connect to the Internet. I can't recharge my E-ticket. I usually stay at home and work with my mobile. I think I am a bit lazy!



۷- باتوجه به متن بالا برای هر کدام از عبارتهای جدول زیر، یک کلمه یا عبارت بنویسید.

۱/۵

Media	Personality	Services
10.	11.	12.

۸- با توجه به متن بالا، جمله ی زیر صحیح است یا غلط؟

۱/۵

13. Today, he can connect to the Internet. True False

۹- با توجه به متن بالا به سوال زیر پاسخ کامل دهید. (نمره)

۱

14. Can he recharge his E-ticket?

تاریخ امتحان : ۹۷ / ۰۳ / ۱۹
مدت امتحان : ۷۰ دقیقه
ساعت شروع : ۱۳ (بعد از ظهر)
تعداد صفحات : ۳
تعداد سوال : ۸

اداره گل آموزش و پرورش خراسان رضوی
اداره سنجش آموزش و پرورش
سوالات امتحان هماهنگ نهم (دوره متوسطه اول)
درس : زبان انگلیسی
Sanjesh.razavi.medu.ir

نام :
نام خانوادگی :
نام آموزشگاه :
شماره ی داوطلب :
نوبت : خرداد ماه ۹۷

بارم

سوالات

ز- مکالمه ی پرهام و عرفان را بخوانید:

Parham: Do you watch TV programs?

Erfan: No, I usually go to the cinema.

Parham: Oh! Do you like war movies?

Erfan: Yes, I do. I sometimes attend important festivals.

Parham: Do you like music?

Erfan: Yes, I sometimes download music from the Internet.



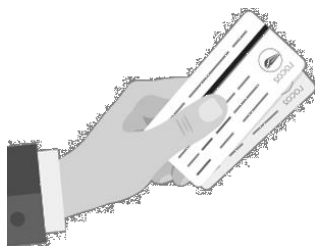
- با توجه به متن بالا به سوال های زیر در یک عبارت پاسخ دهید.

15. Where does Erfan usually go?.....

16. What does Erfan download from the Internet?.....

ح- عرفان چند تصویر را بر روی تخته در مورد سفر خود به تهران که ماه گذشته بوده است قرار داده برای تصویرها در

۲۰ کلمه یک متن کوتاه بنویسید. (رعایت نکات دستوری، املا صحیح و علامت گذاری نمره دارد). (۱/۵ نمره)



buy the tickets



pack for a trip



board the plane



check in

(17) Last month Erfan

.....
.....
.....

دانش آموزان عزیز و همکاران محترم می توانند با مراجعه به سایت مندرج در سربرگ، سوال و راهنمای تصحیح این درس را مشاهده نمایند.

موفق باشید

صفحه ۳

نام و نام خانوادگی مصحح/ دبیر	نمره نهایی پس از رسیدگی به اعتراضات	نام و نام خانوادگی مصحح/ دبیر	تصحیح و نمره گذاری
	با عدد	با حروف	با عدد
امضاء :		امضاء :	

تاریخ امتحان ۹۷/۳/۱۹	باسمه تعالی	
اداره سنجش آموزش و پرورش	راهنمای تصحیح سوالات امتحان هماهنگ پایه نهم (استان خراسان رضوی)	
	نوبت عصر	درس: زبان انگلیسی
	سال تحصیلی: ۹۷-۱۳۹۶	
1. emergency(0.5)	2. have an accident(0.5)	
3. clean(0.5)	4. clothes(0.5)	
5. now(0.5)	6. last year(0.5)	
7. bakes(0.5)	8. came(0.5)	
9. a fire fighter / services(0.5)	10. (connect to) the Internet(0.5)	
11. (a bit)lazy(0.5)	12. recharge(my) E-ticket(0.5)	
13. false(0.5)	14. <u>No, he can't recharge his E-ticket.</u> (1) .5 .5	
15. (go to the) cinema(0.5)	16. (download)music(0.5)	
۱۷. گرامر نیم نمره / دیکته کلمات نیم نمره / توجه به نشانه گذاری نیم نمره		
در پاسخگویی کل آزمون در صورتیکه کلمه یا عبارتی که پیام و مفهوم سوال را برساند و اشکالی در ساختار و معنی ایجاد نماید دیران نمیتوانند نمره برای آن قسمت در نظر بگیرند.		

تاریخ امتحان : ۹۷ / ۰۴ / ۱۲
 مدت امتحان : ۶۰ دقیقه
 ساعت شروع : ۹:۳۰ صبح
 تعداد صفحات : ۳
 تعداد سوال : ۲۲

اداره کل آموزش و پرورش خراسان رضوی
 اداره سنجش آموزش و پرورش
 سوالات امتحان هماهنگ نهم متوسطه (دوره اول)
 درس : زبان خارجی
 Sanjesh.razavi.medu.ir


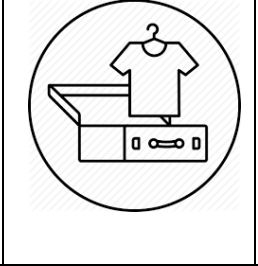


نام :
 نام خانوادگی :
 نام آموزشگاه :
 شماره‌ی داوطلب :
 نوبت : غایبین موجه خرداد

بارم	سؤال	ردیف						
۰.۵	<p>۱. متن زیر را بخوانید و انتخاب کنید که این متن بیشتر مربوط به کدامیک از گزینه های زیر است.</p> <p>Mr. Niknam is a kind and generous man. He does some voluntary works to help other people. He donates blood every year. He always helps charity. Also, he participates in Helal-e-Ahmar first aid classes to help the injured people in wars and accidents. He helps other people to keep the city, jungles, rivers and nature clean too.</p> <p>a. Mr. Niknam's job</p> <p>b. Mr. Niknam's voluntary works</p> <p>c. Mr. Niknam's injuries</p>	الف						
۱.۵	<p>متن زیر را بخوانید و با توجه به متن در صورت نیاز عبارت داخل پرانتز را تغییر دهید و در جای خالی بنویسید.</p> <p>My family and I (۲)..... (go) to International Children Film Festival in Isfahan every year. Last Mehr, we (۳)..... (watch) an interesting movie there and enjoyed it a lot. It (۴) (be) a war movie. They commemorated martyrs in that movie.</p>	ب						
۱.۵	<p>از دانش آموزی خواسته شده است که پاراگرافی راجع به خصوصیات اخلاقی مادرش بنویسد. لطفاً با توجه به متنی که او نوشته است در جاهای خالی صفات مناسب قرار دهید.</p> <p>My mother is a (۵) person. She always keeps the home clean. She is (۶) too, she always tells jokes, she isn't serious. Also, she is very (۷)..... . She always helps me when I need help. Actually, she is my best friend.</p>	ج						
۱.۵	<p>۸. جملات زیر را میخوانیم به صورت یک مکالمه مرتب کنیم. لطفاً این سوال و جواب ها را به ترتیب از ۱-۶ مرتب کنید و شماره مربوطه را در جلوی آنها بنویسید.</p> <table border="1"> <tbody> <tr> <td>How do you go to work every day? ()</td> <td>Because it's fast. ()</td> </tr> <tr> <td>And, how did you recharge your E-ticket? ()</td> <td>I go to work by bus. ()</td> </tr> <tr> <td>Really?! Why do you take bus? ()</td> <td>I do it on-line. ()</td> </tr> </tbody> </table>	How do you go to work every day? ()	Because it's fast. ()	And, how did you recharge your E-ticket? ()	I go to work by bus. ()	Really?! Why do you take bus? ()	I do it on-line. ()	د
How do you go to work every day? ()	Because it's fast. ()							
And, how did you recharge your E-ticket? ()	I go to work by bus. ()							
Really?! Why do you take bus? ()	I do it on-line. ()							

تاریخ امتحان : ۹۷ / ۰۴ / ۱۲
 مدت امتحان : ۶۰ دقیقه
 ساعت شروع : ۹:۳۰ صبح
 تعداد صفحات : ۳
 تعداد سوال : ۲۲

اداره کل آموزش و پرورش خراسان رضوی
 اداره سنجش آموزش و پرورش
 سوالات امتحان هماهنگ نهم متوسطه (دوره اول)
 درس : زبان خارجی
 Sanjesh.razavi.medu.ir


نام :
 نام خانوادگی :
 نام آموزشگاه :
 شماره‌ی داوطلب :
 نوبت : غایبین موجه خرداد

بارم	سؤال	ردیف
۱.۵	<p>علی قصد سفر به مصر را دارد. او میخواهد مدتی را در هتلی در آنجا اقامت کند و پس از مدتی به شهر خود برگردد. با توجه به تصاویر لطفاً به او کمک کنید تا لیست کارهایی که قبل از مسافرت باید انجام دهد را بنویسد. (سه عبارت کافی است).</p> <div style="display: flex; justify-content: space-around; align-items: center;">     </div> <div style="margin-top: 10px;"> <p>۹.</p> <p>۱۰.</p> <p>۱۱.</p> </div>	۵
۲	<p>مهدی در ایمیلی راجع به حادثه‌ای که دیروز شاهدش بود می‌نویسد. اما در برخی جملات نمی‌داند از کدام کلمات استفاده کند. لطفاً به او کمک کنید و جملات او را کامل کنید.</p> <p>I was in a car with my family yesterday. I saw an accident in the street. It was a car (۱۲)..... The man in the car (۱۳) his head on the door. He broke his hand too. My father helped him and brought him to the hospital.</p> <p>اکنون با توجه به متن بالا به سوالات زیر پاسخ دهید.</p> <p>۱۵. What happened in the street?</p> <p>۱۶. Did the man break his leg?</p> <p>به سوال زیر در مورد خودتان پاسخ دهید.</p> <p>۱۷. What do you usually do to help people in the accidents?</p>	و

تاریخ امتحان : ۹۷ / ۰۴ / ۱۲
 مدت امتحان : ۶۰ دقیقه
 ساعت شروع : ۹:۳۰ صبح
 تعداد صفحات : ۳
 تعداد سوال : ۲۲

اداره کل آموزش و پرورش خراسان رضوی
 اداره سنجش آموزش و پرورش
 سوالات امتحان هماهنگ نهم متوسطه (دوره اول)
 درس : زبان خارجی
 Sanjesh.razavi.medu.ir

نام :
 نام خانوادگی :
 نام آموزشگاه :
 شماره‌ی داوطلب :
 نوبت : غایبین موجه خرداد

بارم	سؤال	ردیف
۱.۵	<p>۱۸. در متن زیر بابک می خواهد عید نوروز را به دوستش Tom که در لندن زندگی میکند معرفی کند. او پس از معرفی نوروز در مورد کارهایی که مردم ایران قبل از نوروز انجام می دهند می نویسد. لطفا در حداقل سه جمله نوشته ی او را کامل کنید. در صورت تمایل می توانید از جملات مربوط به تصاویر زیر استفاده کنید.</p>  <p>Iranian people celebrate The first day of spring. They call it Norooz. The celebration continues for two weeks. Before Norooz they</p> <p>.....</p> <p>.....</p> <p>.....</p>	ز
۱۰	موفق باشید	صفحه ۳


نام و نام خانوادگی مصحح/ دبیر	نمره نهایی پس از رسیدگی به اعتراضات	نام و نام خانوادگی مصحح/ دبیر	تصحیح و نمره گذاری
	با عدد		با عدد
امضاء :		امضاء :	

تاریخ امتحان: ۹۷/۴/۱۲	راهنمای تصحیح سوالات امتحان هماهنگ پایه نهم (استان خراسان رضوی)
اداره سنجش آموزش و پرورش	درس: زبان انگلیسی سال تحصیلی: ۹۷-۱۳۹۶ خردادماه (غایبین موجه)
الف: نیم نمره	
۱.b. Mr. Niknam's voluntary works	
ب: هر مورد ۵.۰	
۲.go	
۳. watched	
۴. was	
ج: هر مورد نیم نمره	
۵. neat	
۶.funny	
۷.helpful	
د: هر مورد نیم نمره	
۸. How do you go to work every day?	
I go to work by bus.	
Really?! Why do you take bus?	
Because It's fast.	
And, How do you recharge your E-ticket?	
I do it on-line.	
ه: (م) هر کدام نیم نمره. از بین این چهار پاسخ سه پاسخ ذکر شود کافی است.	
۹-۱۱. Exchange money	
Packing for the trip	
Buy a ticket	
Book a hotel	
و: (ن). سوالات ۱۲-۱۳ هر کدام ۰.۲۵ و سوالات ۱۴ و ۱۵ و ۱۶ هر کدام نیم نمره	
۱۲. crash	
۱۳.hit	
۱۴. There was an accident in the street. Or, There was a car crash in the street.	
۱۵. No, He broke his hand.	
۱۶. Every possible answer is correct including: I call the emergency number.	
ز: ۱.۵ نمره . دانش آموزان مختارند که از تصاویر به عنوان راهنما استفاده کنند و در صورت عدم استفاده از جملات	
مربوط به تصاویر هر جمله ای که مربوط به انجام فعالیت های قبل از عید نوروز باشد قابل قبول است.	
(علامت گذاری ، دیکته صحیح کلمات، و کاربرد شکل صحیح فعل نمره دارد.)	

تاریخ امتحان : ۰۶ / ۰۵ / ۹۷
 مدت امتحان : ۶۰ دقیقه
 ساعت شروع : ۹ صبح
 تعداد صفحات : ۳
 تعداد سوال : ۱۸

اداره کل آموزش و پرورش خراسان رضوی
 اداره سنجش آموزش و پرورش
 سوالات امتحان هماهنگ نهم متوسطه (دوره اول)
 درس : زبان خارجی
 Sanjesh.razavi.medu.ir


نام :
 نام خانوادگی :
 نام آموزشگاه :
 شماره‌ی داوطلب :
 نوبت : جبرانی مرداد

بارم	سؤال	ردیف			
۱.۵	<p>تصاویر زیر مربوط به تماشای مسابقات فوتبال توسط افراد مختلف است. با توجه به حالت چهره‌ی آنها از بین صفت‌ها صفت مناسب هر تصویر را زیر آن بنویسید. (یک صفت اضافی است)</p> <p style="text-align: center; border: 1px solid black; padding: 5px;">Angry - nervous- hardworking- happy</p>  <p style="text-align: center;">(۱)..... (۲)..... (۳).....</p>	الف			
۱.۵	<p>متن زیر را بخوانید و با توجه به متن در صورت نیاز عبارت داخل پرانتز را تغییر دهید و در جای خالی بنویسید.</p> <p>We usually (۴)..... (go) to school trips in spring. My friends and I like school trips and we are (۵) (pack) for the school trip now. But Ali doesn't like it because last year he (۶).....(break) his leg in school trip.</p>	ب			
۱.۵	<p>در متن زیر سه اشکال گرامری وجود دارد. زیر اشکالات خط بکشید و شکل صحیح آن را در جدول زیر به ترتیب بنویسید.</p> <p>My brother download a movie from the internet last night. It was a funny movie about a careless driver. We watched it but I didn't enjoyed it. My brother like funny movies but I don't like.</p> <table border="1" style="width: 100%; border-collapse: collapse;"> <tr> <td style="width: 33%;">۷.</td> <td style="width: 33%;">۸.</td> <td style="width: 33%;">۹.</td> </tr> </table>	۷.	۸.	۹.	ج
۷.	۸.	۹.			
	ادامه سوالات در صفحه بعد	صفحه ۱			

تاریخ امتحان : ۹۷ / ۰۵ / ۰۶
 مدت امتحان : ۶۰ دقیقه
 ساعت شروع : ۹ صبح
 تعداد صفحات : ۳
 تعداد سوال : ۱۸

اداره کل آموزش و پرورش خراسان رضوی
 اداره سنجش آموزش و پرورش
 سوالات امتحان هماهنگ نهم متوسطه (دوره اول)
 درس : زبان خارجی
 Sanjesh.razavi.medu.ir

نام :
 نام خانوادگی :
 نام آموزشگاه :
 شماره‌ی داوطلب :
 نوبت : جبرانی مرداد

بارم	سؤال	ردیف
۰.۵	<p>متن زیر را بخوانید و مناسب ترین عنوان را برای آن بنویسید.</p> <p style="text-align: center;">(۱۰).....</p> <p>Many people work to give services to us in big cities. Workers keep the city clean. Policemen keep the city safe. Bus drivers get people to work. Doctors and nurses help sick people in the hospitals. We thank all these important people.</p>	د
۱	<p>با توجه به تصاویر متن زیر را کامل کنید.</p> <p>Iranian people celebrate last Wednesday of year. They call it “Chaharshanbe suri” . They make big fires. They watch the (۱۱)..... works too. Fire fighters help people to (۱۲)..... their fires.</p> 	ه
۱	<p>به سوالات زیر با دانش خود در یک یا چند کلمه پاسخ کوتاه دهید.</p> <p>۱۳. How do you usually travel?</p> <p>۱۴. What did you do on nature day last year?</p>	و
	ادامه سوالات در صفحه بعد	صفحه ۲

تاریخ امتحان : ۰۶ / ۰۵ / ۹۷
مدت امتحان : ۶۰ دقیقه
ساعت شروع : ۹ صبح
تعداد صفحات : ۳
تعداد سوال : ۱۸

اداره کل آموزش و پرورش خراسان رضوی
اداره سنجش آموزش و پرورش
سوالات امتحان هماهنگ نهم متوسطه (دوره اول)
درس : زبان خارجی
Sanjesh.razavi.medu.ir


نام :
نام خانوادگی :
نام آموزشگاه :
شماره ی داوطلب :
نوبت : جبرانی مرداد

بارم	سؤال	ردیف
۳	<p>مکالمه زیر پیام هایی است که علی به مادرش امروز ارسال کرده است. آنرا با دقت بخوانید.</p> <p>We had an accident, mom</p> <p>Oh, what did happen? Are you ok?</p> <p>It was a car crash. I'm ok but my father's head is bleeding.</p> <p>Where are you now?</p> <p>I am in hospital now. They brought father to the ER.</p> <p>Ok, I'm coming.</p> <p>با توجه به مکالمه بالا به سوالات زیر پاسخ کامل دهید.</p> <p>۱۵. Where is his father now?</p> <p>۱۶. What was wrong with his father?</p> <p>اکنون به موقعیت های زیر توجه کنید و بنویسید اگر شاهد این اتفاق ها باشید بهترین کاری که میتوانید انجام دهید چیست؟ اصطلاح مربوط به آن را بنویسید. (تصاویر میتوانند کمک کننده باشند)</p> <p>۱۷. I cut my finger. <input type="text"/></p> <p>۱۸. A car crash happened in our street. <input type="text"/></p>	ز
۱۰	جمع بارم	صفحه ۳

دانش آموزان عزیز و همکاران محترم می توانند با مراجعه به سایت مندرج در سربرگ، سوال و راهنمای تصحیح این درس را مشاهده نمایند.

نام و نام خانوادگی مصحح / دبیر	نمره نهایی پس از رسیدگی به اعتراضات	نام و نام خانوادگی مصحح / دبیر	تصحیح و نمره گذاری
	با عدد		با عدد
	با حروف		با حروف
امضاء :		امضاء :	

تاریخ امتحان: ۹۷/۰۵/۰۶	راهنمای تصحیح سوالات امتحان هماهنگ پایه نهم (استان خراسان رضوی)	
اداره سنجش آموزش و پرورش	جبرانی مرداد ماه	سال تحصیلی: ۹۷-۱۳۹۶
۱. Nervous ۲. Happy ۳. angry		الف: هر مورد ۰.۵
۴. go ۵. packing ۶. broke		ب: هر مورد ۰.۵
۷. downloaded ۸. enjoy ۹. likes		ج: هر مورد ۰.۵
۱۰. services		د: ۰.۵
۱۱. fire ۱۲. put out		ه: هر قسمت ۰.۵
۱۳. By train, plane, bus,... (by + وسیله نقلیه) ۱۴. Every possible answer is correct including: I go to park, jungle, ... or I play football, ...		و: هر کدام ۰.۵
۱۵. He is in the hospital or he is in the ER. ۱۶. His head is bleeding. ۱۷. Put/ stick a plaster on it. ۱۸. call the emergency.		ز: سوالات ۱۵ و ۱۶ هر کدام ۱ نمره و سوالات ۱۷ و ۱۸ هر کدام ۰.۵

« باسمه تعالی »		
نام :	اداره کل آموزش و پرورش خراسان رضوی	تاریخ امتحان : ۹۷ / ۰۶ / ۰۶
نام خانوادگی :	اداره سنجش آموزش و پرورش	مدت امتحان : ۶۰ دقیقه
نام آموزشگاه :	سوالات امتحان هماهنگ نهم متوسطه	ساعت شروع : ۹ صبح
شماره‌ی داوطلب :	درس : زبان خارجی	تعداد صفحات : ۳
نوبت : شهر یورماه	Sanjesh.razavi.medu.ir	تعداد سوال : ۱۶
ردیف	سؤال	بارم
الف	<p>متن زیر پیامک محسن به دوستش است. لطفا به وی در انتخاب کلمات کمک کنید.</p> <p>Yesterday I (1).....(received- connect) an E-mail. A school invited me to(2).....(install-participate) in an online course. It was good because I can save time and money. I can attend the online classes and work in an office too. That's really nice!</p>	۱
ب	<p>متن زیر راجع به توضیحات حامد درباره عکس خود به مادرش است. با توجه به صفاتی که در قسمت زیر داده شده است متن را کامل کنید.</p>  <div style="border: 1px solid black; padding: 5px; display: inline-block; margin: 10px 0;">clever- lazy- cruel - angry</div> <p>In this picture I was 10 years old. I was(3)..... because I was very bad at my English test. My friend was a (4).....boy. He was good at English. I asked him to help me. I wasn't(5)..... I studied English a lot and now, I am an English teacher.</p>	۱/۵
ج	<p>در متن زیر از سپهر خواستیم که درباره اینکه چگونه به مدرسه می‌رود متنی بنویسد. لطفا اشکالات موجود در متن وی را پیدا کنید و شکل صحیح آن را در قسمت پایین بنویسید.</p> <p>I usually went to school by bus. But today my father is taking me to school because I forget to recharge my E-ticket yesterday. My father is a careful driver. He washes the windows of him car every day. He is neat too.</p> <p>6.....7. 8.</p>	۱/۵
صفحه ۱	ادامه سوالات در صفحه بعد	

« باسمه تعالی »

تاریخ امتحان : ۹۷ / ۰۶ / ۰۶
مدت امتحان : ۶۰ دقیقه
ساعت شروع : ۹ صبح
تعداد صفحات : ۳
تعداد سوال : ۱۶

اداره کل آموزش و پرورش خراسان رضوی
اداره سنجش آموزش و پرورش
سوالات امتحان هماهنگ نهم متوسطه
درس : زبان خارجی
Sanjesh.razavi.medu.ir

نام :
نام خانوادگی :
نام آموزشگاه :
شماره‌ی داوطلب :
نوبت : شهر یورماه





بارم	سؤال	ردیف
۱/۵	<p>متن زیر را با دقت بخوانید و هم معنی عبارتهایی که در قسمت پایین آمده است را در متن پیدا کرده و در مقابل آنها بنویسید.</p> <p>My friend, Mahdi, is very kind. He helps people a lot. He does some voluntary works too. He participated in Helal-E-Ahmar First aid classes to help injured people. Last Norooz his grandparents gave him a new bag and he gave his bag to a poor student. That student was really happy. He is a great man.</p> <p>9. Attend. 10. donate.....</p>	د
۱/۵	<p>متن زیر را بخوانید و با توجه به متن به سوالات پاسخ دهید.</p> <p>Hesam and his family went to the “Mellat” park last Friday. They sat under the big trees. It was a pleasant environment. They watched a war movie in his brother’s laptop. They played volleyball. Hesam wanted to hit the ball but he fell down and he twisted his ankle. His father brought him to the ER. He was so careless.</p> <p>11. What happened to Hesam? 12. Was it Hesam’s laptop?</p> <p>اکنون به سوال زیر با اطلاعات شخصی خود جواب دهید.</p> <p>13. Where do you go on holydays?</p>	ه

« باسمه تعالی »

تاریخ امتحان : ۹۷ / ۰۶ / ۰۶
مدت امتحان : ۶۰ دقیقه
ساعت شروع : ۹ صبح
تعداد صفحات : ۳
تعداد سوال : ۱۶

اداره کل آموزش و پرورش خراسان رضوی
اداره سنجش آموزش و پرورش
سوالات امتحان هماهنگ نهم متوسطه
درس : زبان خارجی
Sanjesh.razavi.medu.ir

نام :
نام خانوادگی :
نام آموزشگاه :
شماره‌ی داوطلب :
نوبت : شهر یورماه

بارم	سؤال	ردیف
۱	به تصاویر نگاه کنید و با توجه به تصاویر یک جمله به جمله نوشته شده اضافه کنید. 14. He broke his leg. 15. Today is Norooz.	۹
۲	تصاویر زیر را علی از لحظات سفر سال قبلشان به کشور ترکیه گرفته است.     Book a hotel Buy a ticket Board the plane Check in با توجه به تصاویر متن زیر را تا حداقل چهار جمله ادامه دهید. (زیبا نویسی، دیکته صحیح کلمات، نشانه گذاری و گرامر صحیح جملات دارای نمره است.) 16. We went to Turkey last year. My father	ز

دانش آموزان عزیز و همکاران محترم می توانند با مراجعه به سایت مندرج در سربرگ، سؤال و راهنمای تصحیح این درس را مشاهده نمایند.

۱۰

موفق باشید

صفحه ۳

نام و نام خانوادگی مصحح / دبیر	نمره نهایی پس از رسیدگی به اعتراضات	نام و نام خانوادگی مصحح / دبیر	تصحیح و نمره گذاری
	با عدد	با حروف	با عدد
امضاء :		امضاء :	با حروف

تاریخ امتحان: ۹۷/۰۶/۰۶	راهنمای تصحیح سوالات امتحان هماهنگ پایه نهم (استان خراسان رضوی) شهریورماه سال تحصیلی: 1396-97
اداره سنجش آموزش و پرورش	درس: زبان انگلیسی
	الف: هر مورد 0/5 نمره
1. recieved	
2. participate	
	ب: هر مورد 0/5 نمره
3. angry	
4. clever	
5. lazy	
	ج: هر مورد 0/5 نمره
6. go	
7. forgot	
8. his	
	د: هر مورد 0/75 نمره
9. participate in	
10. gave	
	ه: هر مورد 0/5 نمره
11. he fell down and he twisted his ankle Watch the fire works	
12. No it was his brother's laptop	
13. We usually go to park/ shopping/ grand parents house , ...	
	و: هر مورد 0/5 نمره
14. You should put it in the cast.	
15. I am setting the Haft Seen table. Let's set the Haft Seen table. Set the Haft Seen table. ...	
	ز. با توجه به عبارت های داده شده حداقل چهار جمله صحیح باید نوشته شود. (علامت گذاری ، دیکته صحیح کلمات، و گرامر صحیح
16.	جملات و زیبا نویسی هر کدام نیم نمره دارد.) 2نمره

تاریخ امتحان : ۹۷/۰۳/۱۳
 مدت امتحان : ۷۰ دقیقه
 ساعت شروع : ۱۰ صبح
 تعداد صفحات : ۴
 تعداد سوال : ۲۰

اداره کل آموزش و پرورش خراسان رضوی
 اداره سنجش آموزش و پرورش
 سوالات امتحان هماهنگ پایه نهم (متوسطه اول)
 درس : علوم تجربی
 Sanjesh.razavi.medu.ir

نام :
 نام خانوادگی :
 نام آموزشگاه :
 شماره‌ی داوطلب :
 نوبت : خرداد ماه ۹۷

بارم | امام علی (ع): اندیشیدن پیش از انجام کار از لغزش در امان ماندن است.

ردیف

۱

در عبارت های زیر جاهای خالی را با انتخاب کلمه مناسب از داخل جدول، کامل کنید.

قارچ - گرم و خشک - برش نفتی - جابجایی - بسپار (پلیمر) - گرم و مرطوب - باکتری - مسافت

(الف) به مخلوطی از چند هیدروکربن که نقطه جوش نزدیک به هم دارند، می گویند.

(ب) به فاصله مستقیم میان نقطه شروع تا پایان حرکت، گفته می شود..

(ج) وجود ذخایر زغال سنگ در یک منطقه، نشان دهنده آب و هوای ، در گذشته آن منطقه است.

(د) لکه های زرد روی برگ گیاهان و سیاه شدن خوشه های گندم، نشان دهنده وجود در این گیاه است.

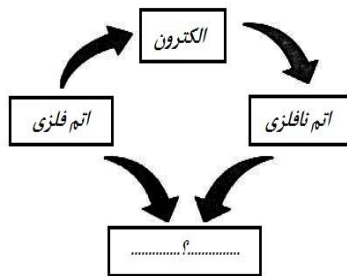
۱

گزینه مناسب را انتخاب کنید.

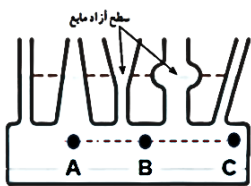
(الف) از مبادله الکترون بین یک اتم فلزی و یک اتم نافلزی در اثر یک تغییر

شیمیایی مطابق شکل، چه ماده ای بوجود می آید ؟

۱. مولکول های چند اتمی
۲. ترکیب اشتراکی
۳. ترکیب یونی
۴. اشتراک الکترونی گسترده



(ب) در شکل ظرف های مرتبط مقابل، فشار مایع در کدام یک از نقاط مشخص شده بیشتر است؟



- ۱) A
- ۲) B
- ۳) C
- ۴) در همه ی نقاط مشخص شده با هم برابر است.

(ج) در سامانه موقعیت یاب جهانی GPS، برای تعیین موقعیت مکانی، حداقل به چند ماهواره نیاز است؟

۱. ۱
۲. ۳
۳. ۱۲
۴. ۲۴

(د) در سه جانور " مار ، ماهی و قورباغه "، کدام ویژگی مشترک است؟

۱. داشتن باله
۲. اسکلت خارجی
۳. ستون مهره
۴. داشتن پا

درست یا نادرست بودن عبارت های زیر مشخص کنید.

۱

(الف) یکی از وظایف یون سدیم در بدن انسان، ایجاد جریان الکتریکی در اعصاب و قلب است. درست نادرست

(ب) فشار هوا در مناطق کوهستانی بیشتر از مناطق ساحلی است. درست نادرست

(ج) پلاتی پوس جزء پستانداران جفت دار است. درست نادرست

(د) آوندهای چوبی، آب و مواد معدنی را از ریشه به اندام های دیگر گیاه می برند. درست نادرست

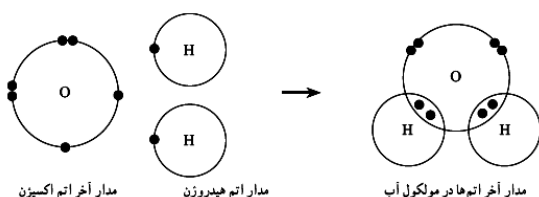
۰/۵

در شکل، ساختار الکترونی اتم های هیدروژن و اکسیژن در مولکول آب نشان داده شده است.

(الف) نوع پیوند را در مولکول آب مشخص کنید؟

(ب) در مدار آخر اتم اکسیژن در مولکول آب،

چند الکترون وجود دارد؟



ادامه سوالات در صفحه بعد

صفحه ۱





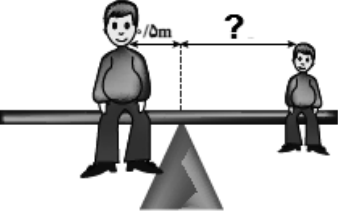

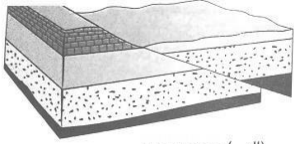

تاریخ امتحان : ۹۷/۰۳/۱۳
 مدت امتحان : ۷۰ دقیقه
 ساعت شروع : ۱۰ صبح
 تعداد صفحات : ۴
 تعداد سوال : ۲۰

اداره کل آموزش و پرورش خراسان رضوی
 اداره سنجش آموزش و پرورش
 سوالات امتحان هماهنگ پایه نهم (متوسطه اول)
 درس : علوم تجربی
 Sanjesh.razavi.medu.ir

نام :
 نام خانوادگی :
 نام آموزشگاه :
 شماره‌ی داوطلب :
 نوبت : خرداد ماه ۹۷

بارم | امام علی (ع): اندیشیدن پیش از انجام کار از لغزش در امان ماندن است.

ردیف

۰/۷۵	<p>در کدام مورد مفهوم سرعت متوسط به درستی نشان داده شده است؟ علت انتخاب خود را توضیح دهید.</p>   <p><input type="checkbox"/> الف) $40 \frac{km}{h}$ (به طرف شرق) <input type="checkbox"/> ب) $50 \frac{km}{h}$</p>	۵
۰/۵	<p>در شکل مقابل گرفتن پونز بین دو انگشت و فشردن آن می تواند سبب آسیب رساندن به یکی از انگشت ها شود. چرا؟</p> 	۶
۰/۷۵	<p>شکل روبرو، نوعی ماشین ساده را نشان می دهد. الف) نام این ماشین چیست؟ ب) مزیت مکانیکی آن چند است؟ ج) با صرف نظر از اصطکاک، با چه نیروی محرکی می توان وزنه ۵۰۰ نیوتنی را بالا برد؟</p> 	۷
۰/۷۵	<p>در شکل مقابل، اگر پدر ۶۰۰ نیوتنی در فاصله ۰/۵ متری تکیه گاه باشد، پسرش با وزن ۱۵۰ نیوتن در چه فاصله ای از تکیه گاه قرار گیرد تا هم چنان در حال تعادل باقی بمانند؟ (نوشتن فرمول الزامی است.)</p> 	۸
۰/۵	<p>برخی مواقع حرکت ورقه های سنگ کره زمین باعث شکستن سنگ ها می شود. شکل های زیر دو نوع شکستگی را نشان می دهند، نام آن دو را بنویسید.</p>   <p>..... الف) ب)</p>	۹
۱/۲۵	<p>بر اساس آنچه در بحث نگاهی به فضا آموختید، به سوالات زیر پاسخ کوتاه دهید. الف) مدار حرکت ماه به دور زمین چه شکلی است؟ ب) تنها ستاره منظومه شمسی چه نام دارد؟ ج) به فاصله ای که نور در مدت زمان یک سال طی می کند، چه می گویند؟ د) کدام سیاره منظومه شمسی، قابلیت بررسی شرایط حیات را دارد؟ ه) نام ابزار نجومی مقابل چیست؟</p> 	۱۰
	ادامه سوالات در صفحه بعد	صفحه ۲

تاریخ امتحان : ۹۷/۰۳/۱۳
 مدت امتحان : ۷۰ دقیقه
 ساعت شروع : ۱۰ صبح
 تعداد صفحات : ۴
 تعداد سوال : ۲۰

اداره کل آموزش و پرورش خراسان رضوی
 اداره سنجش آموزش و پرورش
 سوالات امتحان هماهنگ پایه نهم (متوسطه اول)
 درس : علوم تجربی
 Sanjesh.razavi.medu.ir

نام :
 نام خانوادگی :
 نام آموزشگاه :
 شماره‌ی داوطلب :
 نوبت : خرداد ماه ۹۷

بارم | امام علی (ع): اندیشیدن پیش از انجام کار از لغزش در امان ماندن است.

ردیف

۰/۷۵ | همانگونه که می دانید همه جانداران را در پنج **سلسله** یا گروه اصلی ، طبقه بندی می کنند. بر این اساس هر کدام از جانداران زیر را در سلسله خود قرار دهید.

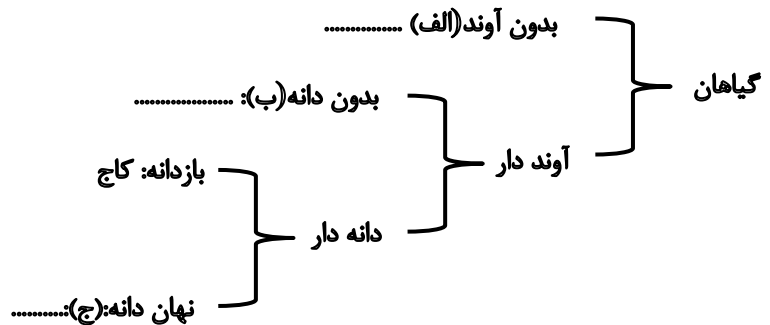
سلسله	الف) (.....)	گیاهان	ب) (.....)	ج) (.....)
نمونه				

۱۱

۰/۵ | پاسخ کوتاه دهید.
 الف) یکی از راه های ورود ویروس ایدز به بدن انسان را بنویسید؟
 ب) این ویروس بدن را دچار چه مشکلی می کند؟

۱۲

۰/۷۵ | **نمودار مفهومی** زیر را با استفاده از کلمات داده شده کامل کنید. (سرخس ها - خزه ها - گل دار)



۱۳

۰/۷۵ | در جدول زیر، مفاهیم ستون (الف) را به عبارت مناسب آن در ستون (ب) با خط متصل کنید (یک مفهوم اضافی است).

الف	ب
تک لپه ای *	<ul style="list-style-type: none"> رشته های ظریفی روی ریشه که آب و مواد معدنی محلول را وارد ریشه می کنند. گیاهانی با ارتفاع کم که پوشش مخمل مانند روی زمین ایجاد می کنند. داشتن رگبرگ های موازی، دانه تک قسمتی و گلبرگ هایی با مضرب ۳ از ویژگی های این گیاهان است.
تار کشنده *	
سرخس *	
خزه *	

۱۴

۱ | هر کدام از عبارت های زیر، ویژگی کدام گروه از **جانوران بی مهره** را بیان می کند.
 الف) گروهی از بندپایان، که بسیاری از آنها به داشتن نیش زهری معروف هستند. (.....)
 ب) ساده ترین کرم ها که تنها یک راه برای ورود مواد دارند و خروج مواد از سطح بدن انجام می شود. (.....)
 ج) ساده ترین جانوران دریازی با بدنی سوراخ دار. (.....)
 د) جانورانی با بدن خاردار که در درون بدن آنها دستگاه گردش آب وجود دارد. (.....)

۱۵

۰/۵ | **من (شکل مقابل) در چه گروهی قرار می گیرم؟**
 " کیسه تنان ، نرم تنان ، بندپایان ،
 علت انتخاب خود را بنویسید؟

۱۶



تاریخ امتحان : ۹۷/۰۳/۱۳
 مدت امتحان : ۷۰ دقیقه
 ساعت شروع : ۱۰ صبح
 تعداد صفحات : ۴
 تعداد سوال : ۲۰

اداره کل آموزش و پرورش خراسان رضوی
 اداره سنجش آموزش و پرورش
 سوالات امتحان هماهنگ پایه نهم (متوسطه اول)
 درس : علوم تجربی
 Sanjesh.razavi.medu.ir

نام :
 نام خانوادگی :
 نام آموزشگاه :
 شماره‌ی داوطلب :
 نوبت : خرداد ماه ۹۷

بارم امام علی (ع): اندیشیدن پیش از انجام کار از لغزش در امان ماندن است.

ردیف

۰/۷۵

متن زیر را بخوانید و به سوالات آن پاسخ دهید.

۱۷

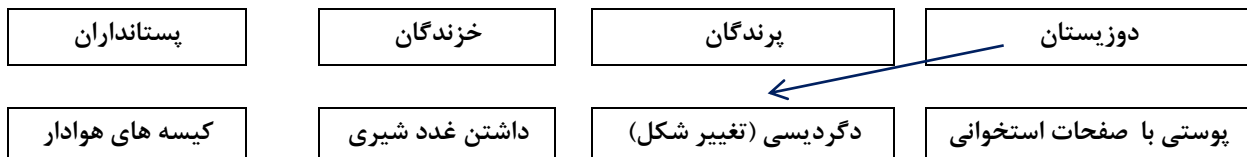
خداوند جانوران متنوعی در روی کره زمین خلق کرده است. یک گروه از آنها، بدنی دوکی، لغزنده و پوشیده از پولک (فلس) دارند و با داشتن باله برای زیستن در آب سازگارند. بیشتر آنها باله های مختلفی دارند. باله ها بر اساس موقعیت قرار گرفتن وظایف مختلفی بر عهده دارند.

الف) متن فوق به معرفی کدام گروه از جانوران می پردازد؟
 ب) جاندار معرفی شده در متن چگونه تنفس می کنند؟
 ج) از انواع باله های بدن این جاندار، باله دمی است. وظیفه باله دمی چیست؟

۰/۷۵

هر یک از جانوران مهره دار را مانند نمونه به ویژگی آن متصل نمایید.

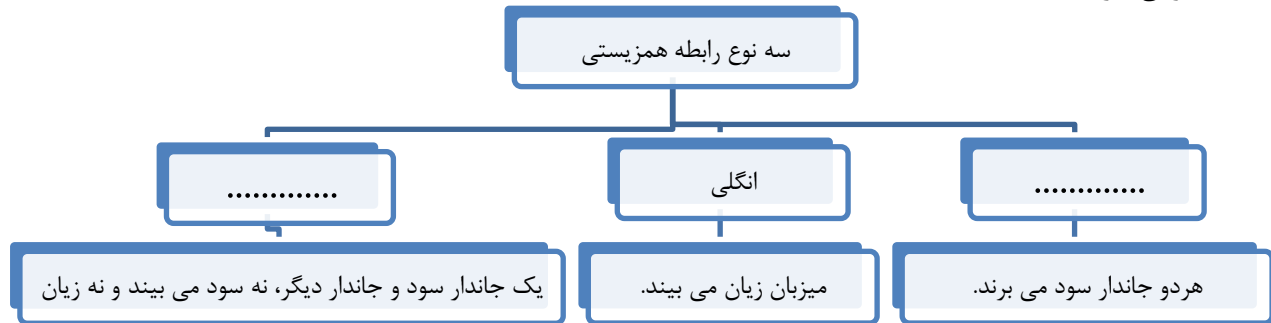
۱۸



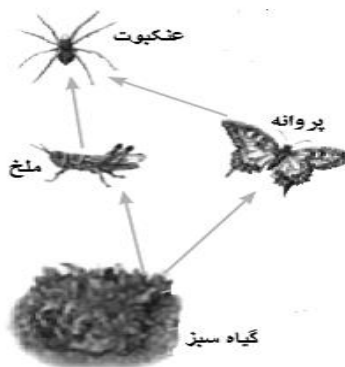
۰/۵

نقشه مفهومی زیر را کامل نمایید.

۱۹



۰/۷۵



بر اساس آنچه در مورد با هم زیستن آموخته اید، به سوالات زیر پاسخ دهید.
 الف) شبکه غذایی که در شکل روبرو مشاهده می کنید، مربوط به چه نوع بوم سازگانی است؟ (خشکی یا آبی)
 ب) چند درصد از ماده و انرژی از گیاه سبزه به ملخ یا پروانه می رسد؟
 ج) با افزایش تعداد ملخ ها در این بوم سازگان، تعداد کدام جاندار افزایش می یابد؟

۲۰

دانش آموزان عزیز و همکاران محترم می توانند با مراجعه به سایت مندرج در سربرگ، سوال و راهنمای تصحیح این درس را مشاهده نمایند.

۱۵

جمع بارم

موفق باشید.

صفحه ۴

نام و نام خانوادگی
 مصحح / دبیر

نمره نهایی پس از رسیدگی به
 اعتراضات

نام و نام خانوادگی
 مصحح / دبیر

تصحیح و نمره گذاری

با حروف

با عدد

با حروف

با عدد

امضاء

امضاء

تاریخ امتحان ۹۷/۰۳/۱۳		باسمه تعالی									
اداره سنجش آموزش و پرورش		راهنمای تصحیح سؤالات امتحان هماهنگ پایه نهم (استان خراسان رضوی)									
		درس : علوم تجربی									
		سال تحصیلی : ۹۶-۹۷									
		نوبت صبح									
		پاسخنامه									
		ردیف									
۱	الف) برش نفتی (۰/۲۵) ب) مسافت (۰/۲۵) ج) گرم و مرطوب (۰/۲۵) د) قارچ (۰/۲۵) در مجموع ۱ نمره										
۲	الف) گزینه ۳ (۰/۲۵) ب) گزینه ۴ (۰/۲۵) ج) گزینه ۲ (۰/۲۵) د) گزینه ۳ (۰/۲۵) در مجموع ۱ نمره										
۳	الف) ص (۰/۲۵) ب) غ (۰/۲۵) ج) غ (۰/۲۵) د) ص (۰/۲۵) در مجموع ۱ نمره										
۴	الف) پیوند اشتراکی (۰/۲۵) ب) ۸ (۰/۲۵) در مجموع ۰/۵ نمره										
۵	الف (۰/۲۵) - زیرا سرعت دو نوع اطلاع را به ما می دهد. ۱- مقدار یا اندازه (۰/۲۵) و دیگری جهت ۰/۲۵ است. در مجموع ۰/۷۵ نمره										
۶	زیرا سطحی که بر آن نیرو وارد می شود، کوچک است (۰/۲۵) و بنابراین فشار بیشتری ایجاد می کند. (۰/۲۵) در مجموع ۰/۵ نمره										
۷	الف) قرقره ثابت (۰/۲۵) ب) ۱ (۰/۲۵) ج) ۵۰۰ نیوتن (۰/۲۵)										
۸	گشتاور نیروی ساعتگرد = گشتاور نیروی پادساعتگرد (۰/۲۵) یا $F_1 \times d_1 = F_2 \times d_2$ $(۰/۲۵) \quad 600 \times 0.5 = 150 \times X$ $(۰/۲۵) \quad X = 2m$ در مجموع ۰/۷۵ نمره										
۹	الف) گسل (۰/۲۵) ب) درزه (۰/۲۵) در مجموع ۰/۵ نمره										
۱۰	الف) بیضی (۰/۲۵) ب) خورشید (۰/۲۵) ج) سال نوری (۰/۲۵) د) مریخ (۰/۲۵) ه) اسطرلاب (۰/۲۵) در مجموع ۱/۲۵ نمره										
۱۱	سلسله نمونه <table border="1"> <tr> <td>الف) آغازیان (۰/۲۵)</td> <td>گیاهان</td> <td>ب) جانوران (۰/۲۵)</td> <td>ج) باکتری ها (۰/۲۵)</td> </tr> <tr> <td></td> <td></td> <td></td> <td></td> </tr> </table> در مجموع ۰/۷۵ نمره	الف) آغازیان (۰/۲۵)	گیاهان	ب) جانوران (۰/۲۵)	ج) باکتری ها (۰/۲۵)						
الف) آغازیان (۰/۲۵)	گیاهان	ب) جانوران (۰/۲۵)	ج) باکتری ها (۰/۲۵)								
											
۱۲	الف) همراه با برخی مایعات مانند خون یا وسایل آلوده (۰/۲۵) یک روش کافی است. ب) در گلبول های سفید تکثیر و سیستم ایمنی بدن را ضعیف می کنند. (۰/۲۵) در مجموع ۰/۵ نمره										
۱۳	الف) خزه ها (۰/۲۵) - سرخس ها (۰/۲۵) - ج) گل دار (۰/۲۵) در مجموع ۰/۷۵ نمره										
۱۴	هر مورد در جای خود ۰/۲۵ <table border="1"> <tr> <th>الف</th> <th>ب</th> </tr> <tr> <td> <ul style="list-style-type: none"> * تک لپه ای * تار کشنده * سرخس * خزه </td> <td> <ul style="list-style-type: none"> رشته های ظریفی روی ریشه که آب و مواد معدنی محلول در آن را به گیاه می رساند. گیاهانی با ارتفاع کم که پوشش مخمل مانند روی زمین ایجاد می کنند. داشتن رگبرگ های موازی، دانه تک قسمتی و گلبرگ هایی با مضرب ۳ از ویژگی های این گیاهان است. </td> </tr> </table> در مجموع ۰/۷۵ نمره	الف	ب	<ul style="list-style-type: none"> * تک لپه ای * تار کشنده * سرخس * خزه 	<ul style="list-style-type: none"> رشته های ظریفی روی ریشه که آب و مواد معدنی محلول در آن را به گیاه می رساند. گیاهانی با ارتفاع کم که پوشش مخمل مانند روی زمین ایجاد می کنند. داشتن رگبرگ های موازی، دانه تک قسمتی و گلبرگ هایی با مضرب ۳ از ویژگی های این گیاهان است. 						
الف	ب										
<ul style="list-style-type: none"> * تک لپه ای * تار کشنده * سرخس * خزه 	<ul style="list-style-type: none"> رشته های ظریفی روی ریشه که آب و مواد معدنی محلول در آن را به گیاه می رساند. گیاهانی با ارتفاع کم که پوشش مخمل مانند روی زمین ایجاد می کنند. داشتن رگبرگ های موازی، دانه تک قسمتی و گلبرگ هایی با مضرب ۳ از ویژگی های این گیاهان است. 										
۱۵	الف) عنکبوتیان (۰/۲۵) ب) کرم های پهن (۰/۲۵) ج) اسفنج (۰/۲۵) د) خارتنان (۰/۲۵) در مجموع ۱ نمره										

۱۶	در گروه بندپایان (۰/۲۵) - بدلیل داشتن قطعات بدنی و پاهای بند بند در این گروه قرار می گیرد. (۰/۲۵) در مجموع ۰/۵ نمره
۱۷	الف) ماهی ها (۰/۲۵) ب) تنفس آبششی (۰/۲۵) ج) برای ایجاد و شروع حرکت (۰/۲۵) در مجموع ۰/۷۵ نمره
۱۸	هر مورد در جای خود ۰/۲۵ ۳ مورد در مجموع ۰/۷۵ نمره
۱۹	
۲۰	الف) بوم سازگان خشکی (۰/۲۵) ب) ۱۰ درصد (۰/۲۵) ج) تعداد عنکبوت ها (۰/۲۵) در مجموع ۰/۷۵ نمره

همکار محترم ضمن عرض خدایقت: به پاسخ های درست بر پایه کتاب درسی نمره منظور فرمایید.

تاریخ امتحان : ۹۷/۰۳/۱۳
 مدت امتحان : ۷۰ دقیقه
 ساعت شروع : ۱۳ (۱ بعد از ظهر)
 تعداد صفحات : ۴
 تعداد سوال : ۲۰

اداره کل آموزش و پرورش خراسان رضوی
 اداره سنجش آموزش و پرورش
 سوالات امتحان هماهنگ پایه نهم (متوسطه اول)
 درس : علوم تجربی
 Sanjesh.razavi.medu.ir

نام :
 نام خانوادگی :
 نام آموزشگاه :
 شماره ی داوطلب :
 نوبت : خرداد ماه ۹۷

بارم	امام علی (ع): اندیشیدن پیش از انجام کار از لغزش در امان ماندن است.	ردیف
------	--	------

۱	<p>در عبارت های زیر جاهای خالی را با انتخاب کلمه مناسب از داخل جدول، کامل کنید.</p> <div style="border: 1px solid black; padding: 10px; text-align: center;"> <p>بازدانه - گسل - تکیه گاه - فلوتور - اندازه نیرو - درزه - نهان دانه - آهن</p> </div> <p>الف) بدن انسان برای ساختن هموگلوبین ، به یون، نیاز دارد. ب) بزرگی گشتاور نیرو به و فاصله نقطه اثر نیرو تا محور چرخش بستگی دارد. ج) اگر سنگ های دو طرف شکستگی، نسبت به هم جابجا شده باشند، را به وجود می آورند. د) بسیاری از گیاهانی که امروزه روی زمین وجود دارند، گیاهان گلدارند. به گیاهان گلدار، می گویند.</p>	۱
---	--	---

۱	<p>گزینه مناسب را انتخاب کنید.</p> <p>الف) شکل مقابل ، ساختار الکترونی اتم های هیدروژن و اکسیژن را در مولکول آب نشان می دهد برای تشکیل یک مولکول آب بین اتم های سازنده، چند پیوند اشتراکی تشکیل می شود؟ ۱. ۱ ۲. ۲ ۳. ۳ ۴. ۴ <input type="checkbox"/></p> <p>ب) دانش آموز سمت راست با نیروی ۵۰ نیوتنی و دانش آموز سمت چپ با نیروی ۱۱۰ نیوتنی جعبه را هل می دهند، مقدار نیروی خالص برابر است با: ۱- ۱۶۰ نیوتن ۲- ۶۰ نیوتن ۳- ۸۰ نیوتن ۴- ۱۱۰ نیوتن <input type="checkbox"/></p> <p>ج) کدامیک از محیط های زیر برای فسیل شدن مناسب تر است؟ ۱- باتلاق ها ۲- معادن نمک ۳- محیط های کم عمق دریا ۴- خاکستر های آتشفشانی <input type="checkbox"/></p> <p>د) متن به معرفی کدام گروه از مهره داران می پردازد؟ "مهره دارانی با بدنی پوشیده از مو یا پشم که از نظر دستگاه های داخلی بدن، پیچیدگی بیشتری دارند." ۱. خزندگان ۲. دوزیستان ۳. ماهی ها ۴. پستانداران <input type="checkbox"/></p>	۲
---	--	---

	<p>درست یا نادرست بودن عبارت های زیر را مشخص کنید.</p>	
۱	<p>الف) اتیلن گلیکول را در رادیاتور خودرو می ریزند تا از یخ زدن آب در زمستان جلوگیری کند. درست <input type="checkbox"/> نادرست <input type="checkbox"/></p> <p>ب) در هرم ماده و انرژی، فقط ۱۰ درصد از ماده و انرژی از یک تراز به تراز بعدی منتقل می شود. درست <input type="checkbox"/> نادرست <input type="checkbox"/></p> <p>ج) طبق اصل پاسکال، در مایعات محصور، فشار بدون ضعیف شدن به بخشهای دیگر مایع و ظرف منتقل می شود. درست <input type="checkbox"/> نادرست <input type="checkbox"/></p> <p>د) آوند های چوبی مواد ساخته شده در اندام های فتوسنتز کننده را به سراسر پیکره گیاه می برند. درست <input type="checkbox"/> نادرست <input type="checkbox"/></p>	۳

۰/۷۵	<p>شکل زیر، نحوه تشکیل پلی اتین را نشان می دهد. الف) عناصر اصلی سازنده پلی اتین را نام ببرید؟ ب) یکی از خواص فیزیکی اتین را با پلی اتین مقایسه کنید.</p> <div style="text-align: center;"> $n \text{C}_2\text{H}_4 \rightarrow (\text{C}_2\text{H}_4)_n$ </div>	۴
------	---	---

	ادامه سوالات در صفحه بعد	صفحه ۱
--	--------------------------	--------

امام علی (ع): اندیشیدن پیش از انجام کار از لغزش در امان ماندن است.

بارم

ردیف

۰/۵

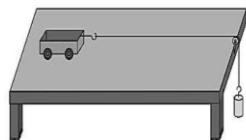
الف) رابطه مقابل، کدام قانون نیوتن را نشان می دهد؟

۵

$$\text{نیرو} \rightarrow F = \frac{F}{m} \leftarrow \text{شتاب}$$

$$\text{جرم} \rightarrow m$$


ب) در شکل، چهار چرخه در حال حرکت است، اگر وزنه ای را روی چهار چرخه قرار دهیم، شتاب حرکت آن چه تغییری می کند؟



۰/۷۵

مکعبی به وزن ۴۰۰۰ نیوتن را مطابق شکل، روی زمین قرار می دهیم، مکعب چه مقدار فشار بر سطح زمین وارد می کند؟ (نوشتن فرمول الزامی است.)


۶



۱

شکل روبرو، نوعی ماشین ساده را نشان می دهد. (نوشتن فرمول مزیت مکانیکی الزامی است.)

۷



الف) نام این ماشین چیست؟

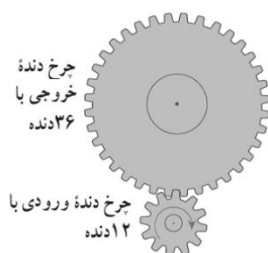
ب) مزیت مکانیکی آن چند است؟

ج) با چه نیروی محرکی می توان وزنه ۲۰۰ نیوتنی را بالا برد؟

۰/۵

در شکل مقابل اگر چرخ دنده ی ورودی را با ۱۲ دنده، ۳ دور کامل و بصورت ساعتگرد بچرخانیم، چرخ دنده ی بزرگ با ۳۶ دنده، چند دور و در چه جهتی می چرخد؟

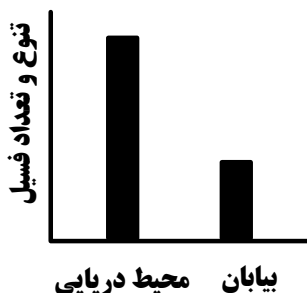
۸



۰/۵

نمودار مقابل را تفسیر کنید.

۹



تاریخ امتحان : ۹۷/۰۳/۱۳
 مدت امتحان : ۷۰ دقیقه
 ساعت شروع : ۱۳ (۱ بعد از ظهر)
 تعداد صفحات : ۴
 تعداد سوال : ۲۰

نام :
 نام خانوادگی :
 نام آموزشگاه :
 شماره‌ی داوطلب :
 نوبت : خرداد ماه ۹۷

اداره کل آموزش و پرورش خراسان رضوی
 اداره سنجش آموزش و پرورش
 سوالات امتحان هماهنگ پایه نهم (متوسطه اول)
 درس : علوم تجربی
 Sanjesh.razavi.medu.ir

ردیف

امام علی (ع): اندیشیدن پیش از انجام کار از لغزش در امان ماندن است.

بارم

۰/۷۵

۱۰

در عبارت های زیر غلط علمی را یافته و درست آن را داخل پرانتز بنویسید.

➤ حدود ۴۰۰ سال پیش گالیله با اختراع اسطرلاب و رصد آسمان، به شناخت دقیق تر جهان پرداخت. (.....)

➤ به جرمی آسمانی که تحت تاثیر نیروی گرانشی به دور یک ستاره می چرخد، قمر می گویند. (.....)

➤ بیش از ۹۰ درصد سیارک ها در ناحیه کمربند سیارکی، که بین مریخ و زمین واقع شده است، تمرکز یافته اند. (.....)

۰/۵

۱۱

دو سیاره منظومه شمسی را نام ببرید که فاصله آن ها تا خورشید کمتر از یک واحد نجومی باشد؟
 و

۱

۱۲

در جدول زیر، مفاهیم ستون (الف) را به عبارت های مناسب آن در ستون (ب) متصل کنید (توجه: یک مفهوم اضافی است).

ب	الف
• ایدز	* عامل سیاه شدن خوشه های گندم
• قارچ	* شناخته شده ترین گروه آغازیان
• جلبک	* نوعی قارچ تک سلولی
• آنفلوآنزا	* نوعی ویروس که با از بین بردن گلبول های سفید، سیستم ایمنی بدن را ضعیف می کند.
• مخمر	

۰/۵

۱۳

در مورد باکتری ها به سوالات زیر پاسخ دهید.

الف) باکتری ها را می توان در کدام گروه قرار داد؟ (هو هسته ای (یوکاریوت) یا پیش هسته ای (پروکاریوت))؟

ب) باکتری ها دیواره یاخته ای دارند ، این ویژگی آنها را شبیه کدام سلسله از جانداران می کند؟ (یک مورد)

۰/۵

۱۴



چیستان !!!

الف) مطابق شکل، برگ هایی با ظاهری شبیه شاخه دارم. در چه گروهی از گیاهان قرار می گیرم؟

" بازدانه ها ، نهان دانه ها ، سرخس ها ، "

ب) پشت برگ هایم برآمدگی های نارنجی و قهوه ای رنگ دارم. نام این برآمدگی ها را بنویسید؟

۰/۵

۱۵

گیاهان در زندگی ما انسانها نقش های گوناگونی دارند، دو مورد از آنها را بیان کنید.

.....

۰/۷۵

۱۶

متن زیر را بخوانید و به سوالات آن پاسخ دهید.

خداوند جانوران متنوعی در روی کره زمین خلق کرده است. یک گروه از آنها، بعنوان ساده ترین جانوران دریازی شناخته می شوند. این جانوران در جای خود ثابت هستند. در پیکر آنها، سوراخ های کوچکی وجود دارد که آب از آنها وارد بدن جانور می شود و از سوراخ بزرگ بالای بدن خارج می شود.

الف) متن فوق به معرفی کدام گروه از جانوران می پردازد؟

ب) جریان آب در بدن این جانوران، در انجام چه کارهای به آنها کمک می کند؟ (دو مورد)


تاریخ امتحان : ۹۷/۰۳/۱۳
 مدت امتحان : ۷۰ دقیقه
 ساعت شروع : ۱۳ (۱ بعد از ظهر)
 تعداد صفحات : ۴
 تعداد سوال : ۲۰

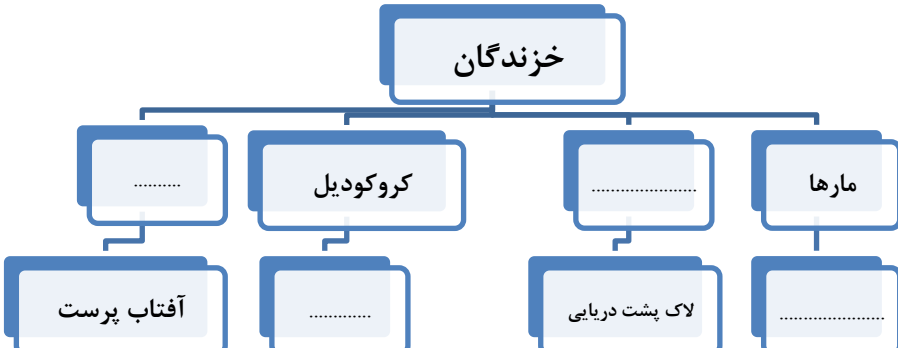
اداره کل آموزش و پرورش خراسان رضوی
 اداره سنجش آموزش و پرورش
 سوالات امتحان هماهنگ پایه نهم (متوسطه اول)
 درس : علوم تجربی
 Sanjesh.razavi.medu.ir

نام :
 نام خانوادگی :
 نام آموزشگاه :
 شماره‌ی داوطلب :
 نوبت : خرداد ماه ۹۷

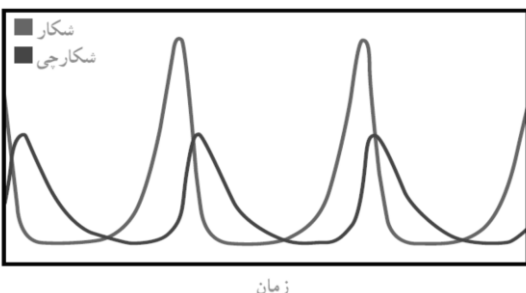
بارم	امام علی (ع): اندیشیدن پیش از انجام کار از لغزش در امان ماندن است.	ردیف
------	--	------

۰/۷۵	به سوالات زیر پاسخ کوتاه دهید. الف) خرخاکی با داشتن ۱۰ عدد پای حرکتی و پوسته سخت، جزء کدام گروه از بندپایان است؟ ب) ساده ترین گروه کرم ها که بدنی پهن و دستگاه های گوارش و عصبی ساده دارند، چه نام دارند؟ ج) حلزون و هشت پا نمونه های از کدام بی مهره ها هستند؟	۱۷
------	--	----

۰/۵	 در مورد این جانور به سوالات زیر پاسخ دهید. الف) این جانور جزء کدام گروه از مهره داران طبقه بندی می شود؟ ب) غذای بیشتر این جانور، حشره است و با داشتن پوستی نازک ، مرطوب و بدون پولک ، علاوه بر تنفس ششی ، تنفس نیز انجام می دهند .	۱۸
-----	--	----

۱	نقشه مفهومی زیر در مورد گروه های عمده خزندگان امروزی است. آن را کامل نمایید. 	۱۹
---	--	----

۱/۲۵	بر اساس آنچه در مورد با هم زیستن آموخته اید به سوالات زیر پاسخ دهید. الف) در زنجیره غذایی زیر، کدام جاندار از مواد معدنی، مواد آلی می سازند؟ دور آن را خط بکشید. گیاه ← ملخ ← عنکبوت ب) از همزیستی قارچ و جلبک، گلسنگ بوجود می آید. نقش قارچ و جلبک در این همزیستی چیست؟ نقش قارچ: نقش جلبک: ج) نمودار مقابل رابطه بین جمعیت یک شکارچی و شکار را در یک منطقه نشان می دهد، آن را تفسیر کنید.	۲۰
------	---	----



دانش آموزان عزیز و همکاران محترم می توانند با مراجعه به سایت مندرج در سربرگ، سوال و راهنمای تصحیح این درس را مشاهده نمایند.

۱۵	جمع بarm	موفق باشید.	
	نام و نام خانوادگی مصحح / دبیر	نمره نهایی پس از رسیدگی به اعتراضات	نام و نام خانوادگی مصحح / دبیر
		با عدد	با حروف
	امضاء		امضاء

تاریخ امتحان ۹۷/۰۳/۱۳		باسمه تعالی													
اداره سنجش آموزش و پرورش		راهنمای تصحیح سؤالات امتحان هماهنگ پایه نهم (استان خراسان رضوی)													
		درس : علوم تجربی													
		سال تحصیلی : ۹۶-۹۷													
		نوبت عصر													
		پاسخنامه													
ردیف	پاسخنامه														
۱	الف) آهن (۰/۲۵) ب) نیرو (۰/۲۵) ج) گسل (۰/۲۵) د) نهان دانه (۰/۲۵)	در مجموع ۱ نمره													
۲	الف) گزینه ۲ (۰/۲۵) ب) گزینه ۲ (۰/۲۵) ج) گزینه ۳ (۰/۲۵) د) گزینه ۴ (۰/۲۵)	در مجموع ۱ نمره													
۳	الف) ص (۰/۲۵) ب) ص (۰/۲۵) ج) ص (۰/۲۵) د) غ (۰/۲۵)	در مجموع ۱ نمره													
۴	الف) کربن ۰/۲۵ و هیدروژن (۰/۲۵) ب) اتن گازی است در حالی که پلی اتن جامد است. (۰/۲۵)	در مجموع ۰/۷۵ نمره													
۵	الف) قانون دوم نیوتن (۰/۲۵) - ب) کاهش می یابد. ۰/۲۵	در مجموع ۰/۵ نمره													
۶	$\frac{۴۰۰۰}{۱۰} = ۴۰۰ \text{ pa} \quad (۰.۲۵)$ $\text{فشار} = \frac{\text{نیرو}}{\text{مساحت سطح}} \quad (۰.۲۵)$	در مجموع ۰/۷۵ نمره													
۷	الف) قرقره متحرک (۰/۲۵) ب) ۲ (۰/۲۵) ج) ۱۰۰ N = نیروی محرک د) مزیت (۰/۲۵) $\frac{\text{نیروی مقاوم}}{\text{نیروی محرک}}$	در مجموع ۱ نمره													
۸	یک دور (۰/۲۵) و پاد ساعتگرد (۰/۲۵)	در مجموع ۰/۵ نمره													
۹	تعداد و تنوع فسیل در محیط های دریایی بیشتر است (۰/۲۵) زیرا شرایط لازم برای فسیل شدن در دریا بهتر است (۰/۲۵)	در مجموع ۰/۵ نمره													
۱۰	در عبارت های زیر غلط های علمی را یافته و درست آن را داخل پرانتز بنویسید. ➤ حدود ۴۰۰ سال پیش گالیله با اختراع <u>اسطرلاب</u> و رصد آسمان، به شناخت دقیق تر جهان پرداخت. (تلسکوپ ۰/۲۵) ➤ به جرمی آسمانی که تحت تاثیر نیروی گرانشی به دور یک ستاره می چرخد، قمر می گویند. (.....۰/۲۵.....) ➤ بیش از ۹۰ درصد سیارک ها در ناحیه کمربند سیارکی، که بین مریخ و زمین واقع شده است، تمرکز یافته اند. (.....مشتری. ۰/۲۵)														
۱۱	زهره ۰/۲۵ - عطارد ۰/۲۵	در مجموع ۰/۵ نمره													
۱۲	<table border="1"> <thead> <tr> <th>الف</th> <th>ب</th> </tr> </thead> <tbody> <tr> <td>عامل سیاه شدن خوشه های گندم</td> <td>ایدز</td> </tr> <tr> <td>شناخته شده ترین گروه آغازیان</td> <td>قارچ</td> </tr> <tr> <td>نوعی قارچ تک سلولی</td> <td>جلبک</td> </tr> <tr> <td>نوعی ویروس که با از بین بردن گلبول های سفید، سیستم ایمنی بدن را ضعیف می کند.</td> <td>آنفلونزا</td> </tr> <tr> <td></td> <td>مخمر</td> </tr> </tbody> </table>	الف	ب	عامل سیاه شدن خوشه های گندم	ایدز	شناخته شده ترین گروه آغازیان	قارچ	نوعی قارچ تک سلولی	جلبک	نوعی ویروس که با از بین بردن گلبول های سفید، سیستم ایمنی بدن را ضعیف می کند.	آنفلونزا		مخمر	در مجموع ۱ نمره	
الف	ب														
عامل سیاه شدن خوشه های گندم	ایدز														
شناخته شده ترین گروه آغازیان	قارچ														
نوعی قارچ تک سلولی	جلبک														
نوعی ویروس که با از بین بردن گلبول های سفید، سیستم ایمنی بدن را ضعیف می کند.	آنفلونزا														
	مخمر														
۱۳	الف) پروکاریوت ۰/۲۵ - ب) گیاهان - یا برخی آغازیان ۰/۲۵	در مجموع ۰/۵ نمره													
۱۴	الف) سرخس ها ۰/۲۵ - ب) هاگدان ۰/۲۵	در مجموع ۰/۵ نمره													
۱۵	فتوستنتز - تهیه کاغذ - بعنوان داروهای قلبی - طب سنتی دو مورد کافی است	در مجموع ۰/۵ نمره													

۱۶	الف) اسفنج (۰/۲۵) - ب) تنفس و گوارش ۰/۵ در مجموع ۰/۷۵ نمره
۱۷	الف) سخت پوستان ۰/۲۵ ب) کرم پهن ۰/۲۵ ج) نرم تنان در مجموع ۰/۷۵ نمره
۱۸	الف) دوزیستان ۰/۲۵ ب) تنفس پوستی ۰/۲۵ در مجموع ۰/۵ نمره
۱۹	<div style="text-align: center;"> <pre> graph TD A[خزندگان] --> B[سوسمارها...] A --> C[کروکودیل ها] A --> D[لاک پشت ها ...] A --> E[مارها] B --> B1[آفتاب پرست] B --> B2[تمساح] D --> D1[لاک پشت دریایی] E --> E1[مار] </pre> </div> <p style="text-align: right;">در مجموع ۱ نمره</p>
۲۰	<p>الف) گیاه ۰/۲۵</p> <p>ب) قارچ، مواد معدنی را برای جلبک فراهم می آورد ۰/۲۵ و جلبک با انجام دادن فتوسنتز، کربوهیدرات های مورد نیاز خود و قارچ را تأمین می کند ۰/۲۵</p> <p>ج) تعداد شکارچینی که می توانند در یک بوم سازگان زندگی کنند، به تعداد جانورانی بستگی دارد که شکار آنها می شوند» ۰/۵</p> <p style="text-align: right;">در مجموع ۱/۲۵ نمره</p>

همکار محترم ضمن عرض خدایوت: به پاسخ های درست بر پایه کتاب درسی نمره منظور فرمایید.

تاریخ امتحان : ۹۷/۰۴/۱۱
مدت امتحان : ۷۵ دقیقه
ساعت شروع : ۹:۳۰ صبح
تعداد صفحات : ۴
تعداد سوال : ۲۰

اداره کل آموزش و پرورش خراسان رضوی
اداره سنجش آموزش و پرورش
سؤالات امتحان هماهنگ نهم متوسطه (دوره اول)
درس : علوم تجربی
Sanjesh.razavi.medu.ir


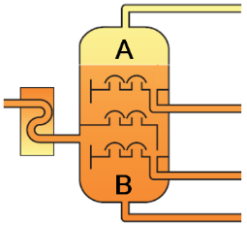
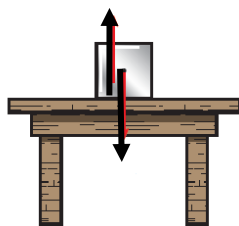


نام خانوادگی :
نام آموزشگاه :
شماره ی داوطلب :
نوبت : غایبین موجه خرداد

بارم	ردیف	امیرالمومنین علیه السلام: اندیشیدن پیش از انجام کار از لغزش در امان ماندن است.
دانش آموز عزیز : ضمن آرزوی موفقیت برای شما لطفا با مطالعه دقیق ۲۰ سوال زیر پاسخ مناسب را در محل های تعیین شده بنویسید .		
۱	۱	<p>عبارتهای زیر را با انتخاب کلمه مناسب از داخل جدول کامل کنید.</p> <p>یوکاریوت- آهن- بردار مسافت- قالب داخلی- بردار جابه جایی - مس - قالب خارجی- پروکاریوت</p> <p>الف) فلز به علت رسانایی زیاد و قابلیت مفتول شدن کاربرد زیادی در زندگی روزمره ما دارد. ب) برداری که نقطه‌ی شروع حرکت را به نقطه‌ی پایان حرکت وصل می کند، نام دارد. ج) اگر فقط آثار و شکل برجستگی‌ها و اجزای سطح خارجی صدف یا اسکلت جاندار در رسوبات برجای بماند و به فسیل تبدیل شود تشکیل می شود. د) ماده‌ی وراثتی در یاخته‌ی بعضی جانداران درون پوششی قرار دارد، در نتیجه هسته تشکیل می شود. این جانداران را می نامند.</p>
۱	۲	<p>گزینه‌ی مناسب را انتخاب کنید.</p> <p>الف) شکل مقابل آرایش الکترونی فلز سدیم با گاز کلر را پیش و پس از انجام واکنش شیمیایی نشان می دهد؟ نوع پیوند و اتمی که الکترون دریافت کرده، کدام است؟</p> <p>۱) اشتراکی- کلر <input type="checkbox"/> ۲) اشتراکی- سدیم <input type="checkbox"/> ۳) یونی- کلر <input type="checkbox"/> ۴) یونی- سدیم <input type="checkbox"/></p> <p>ب) در یک بالابر هیدرولیکی فشار وارد بر نقطه‌ی الف را با فشار بر نقطه‌ی ب مقایسه کنید. ۱) فشار در نقطه‌ی الف بیشتر است. <input type="checkbox"/> ۲) فشار در نقطه‌ی ب بیشتر است. <input type="checkbox"/> ۳) فشار در نقطه‌ی الف و نقطه‌ی ب مساوی است. <input type="checkbox"/> ۴) فشار وارد شده در نقطه‌ی ب دو برابر فشار در نقطه‌ی الف است. <input type="checkbox"/></p> <p>ج) با توجه به شکل مقابل از صورت‌های فلکی دب اکبر و دب اصغر به چه منظوری کمک می گیریم؟ ۱) تعیین فاصله‌ی ستاره تا زمین <input type="checkbox"/> ۲) یافتن ستاره قطبی به منظور یافتن جهت چرخش زمین <input type="checkbox"/> ۳) تعیین مسیر چرخش ستاره <input type="checkbox"/> ۴) تعیین جهت شمال و جنوب جغرافیایی در شب <input type="checkbox"/></p> <p>د) گیاه سرخس و خزه در کدام ویژگی اشتراک دارند؟ ۱) دانه <input type="checkbox"/> ۲) هاگ <input type="checkbox"/> ۳) آوند <input type="checkbox"/> ۴) ریشه <input type="checkbox"/></p>
۱	۳	<p>درست یا نادرست بودن عبارتهای زیر را مشخص کنید.</p> <p>الف) آوندهای آبکش، آب و مواد معدنی را از ریشه به اندام‌های دیگر گیاه می برند. ص <input type="checkbox"/> غ <input type="checkbox"/> ب) پستاندارانی مثل گفتار و شغال با شکار جانوران پیر و ناتوان نقش موثری در جلوگیری از بیماری‌های واگیردار و بقای نسل حیوانات باهوش و قوی ایفا می کنند. ص <input type="checkbox"/> غ <input type="checkbox"/> ج) واکنش پذیری فلز منیزیم از فلز روی کمتر است. ص <input type="checkbox"/> غ <input type="checkbox"/> د) در خودروها، چرخ‌دنده‌ها با تغییر سرعت چرخش، سبب تغییر سرعت خودرو می شوند. ص <input type="checkbox"/> غ <input type="checkbox"/></p>
۰/۵	۴	<p>اگر برای ریختن آب به درون ظرف، به جای درپوش تک سوراخه، از درپوش دو سوراخه استفاده کنیم (شکل ب) پیش بینی کنید چه اتفاقی می افتد؟ چرا؟</p>
		ادامه سوالات در صفحه بعد
		صفحه ۱

تاریخ امتحان : ۹۷/۰۴/۱۱
مدت امتحان : ۷۵ دقیقه
ساعت شروع : ۹:۳۰ صبح
تعداد صفحات : ۴
تعداد سوال : ۲۰

اداره کل آموزش و پرورش خراسان رضوی
اداره سنجش آموزش و پرورش
سؤالات امتحان هماهنگ نهم متوسطه (دوره اول)
درس : علوم تجربی
Sanjesh.razavi.medu.ir

نام :
نام خانوادگی :
نام آموزشگاه :
شماره ی داوطلب :
نوبت : غایبین موجه خرداد

ردیف	پارم	توضیحات
۵	۰/۷۵	<p>امیرالمومنین علیه السلام: اندیشیدن پیش از انجام کار از لغزش در امان ماندن است.</p> <p>راننده‌ای در امتداد مسیری مستقیم سرعت خودرویی را در مدت ۵ ثانیه، از $54 \frac{km}{h}$ به $90 \frac{km}{h}$ رسانده است. شتاب متوسط این اتومبیل را بر حسب متر برمربع ثانیه حساب کنید. (نوشتن فرمول الزامی است)</p> 
۶	۰/۷۵	<p>به هر یک از سؤالات زیر پاسخ کوتاه و کامل دهید.</p> <p>چهار نوع هیدرو کربن « CH_4 ، C_6H_{12} ، $C_{20}H_{42}$ ، $C_{10}H_{22}$ » را به صورت مخلوط وارد برج تقطیر فرضی نموده‌ایم. پس از بررسی شکل : الف) از نقطه A کدام ماده خارج خواهد شد؟ ب) از نقطه B چه ماده‌ای خارج خواهد شد؟ ج) در مولکول متان CH_4 چند پیوند اشتراکی (کووالانسی) وجود دارد؟</p> 
۷	۰/۵	<p>در شکل، بر جسم ساکن روی میز دو نیرو وارد می‌شود. الف) نام نیروی وارد شده از طرف جسم به میز و رو به پایین را بنویسید. ب) نام نیروی وارد شده از طرف میز به جسم و رو به بالا چیست؟</p> 
۸	۰/۷۵	<p>در شکل مقابل؛ الف) اگر مزیت اهرم ۳ باشد و اندازه وزنه $240N$ باشد اندازه نیروی محرک چقدر باشد تا دستگاه در حالت تعادل بماند؟ (نوشتن فرمول الزامی است)</p> 
۹	۰/۷۵	<p>شکل‌های زیر انواع حرکت ورقه‌های سنگ کره را نشان می‌دهد. نوع حرکت هر ورقه را زیر هر شکل بنویسید.</p>  <p>الف) ب) ج)</p>
۱۰	۱/۲۵	<p>بر اساس آنچه در بحث با هم زیستن آموختید، به سؤالات زیر پاسخ دهید. الف) تالاب شادگان جزء کدام دسته از بوم سازگان می‌باشد؟ ب) صرف نظر از این که بوم سازگان از چه نوع و در چه اندازه‌ای باشند؛ فرایندی را که در آن اتفاق می‌افتد بیان کنید. ج) اولین طبقه‌ی هر زنجیره‌ی غذایی چه جاندارانی هستند؟ د) نوع همزیستی قارچ و جلبک را بنویسید. ه) کفش دوزک چگونه به حفظ گیاهان در یک بوم سازگان، کمک می‌کند؟</p>
صفحه ۲	ادامه سؤالات در صفحه بعد	

تاریخ امتحان : ۹۷/۰۴/۱۱
مدت امتحان : ۷۵ دقیقه
ساعت شروع : ۹:۳۰ صبح
تعداد صفحات : ۴
تعداد سوال : ۲۰

اداره کل آموزش و پرورش خراسان رضوی
اداره سنجش آموزش و پرورش
سؤالات امتحان هماهنگ نهم متوسطه (دوره اول)
درس : علوم تجربی
Sanjesh.razavi.medu.ir

نام :
نام خانوادگی :
نام آموزشگاه :
شماره ی داوطلب :
نوبت : غایبین موجه خرداد

بارم	امیرالمومنین علیه السلام: اندیشیدن پیش از انجام کار از لغزش در امان ماندن است.	ردیف										
۰/۷۵	<p>با توجه به کلمات داخل پرانتز، کلمه مربوط به هر تصویر را بنویسید. (باکتری، مخمر، جلبک)</p>    <p>الف (.....) ب (.....) ج (.....)</p>	۱۱										
۰/۲۵ ۰/۵	<p>پاسخ کوتاه بدهید.</p> <p>۱- چرا شرایط تشکیل فسیل در محیط دریایی، مناسب تر از خشکی است؟</p> <p>۲- دانشمندان با استفاده از فسیل ها، نظم حاکم بر خلقت را کشف کردند. آن ها دریافتند که خداوند، ترتیب پیدایش جانداران را چگونه آفریده است؟</p>	۱۲										
۰/۷۵	<p>نقشه ی مفهومی زیر را با استفاده از کلمات داده شده کامل کنید. (نرم تنان، سخت پوستان، کرم ها، خارتنان)</p> 	۱۳										
۰/۷۵	<p>در جدول زیر مفاهیم ستون (الف) را به عبارت مناسب آن در ستون (ب) با خط متصل کنید. (توجه: یک مفهوم اضافی است)</p> <table border="1"> <thead> <tr> <th>الف</th> <th>ب</th> </tr> </thead> <tbody> <tr> <td>• واحد نجومی</td> <td>• مجموعه ای عظیم از ستارگان، گازها، گردوغبار و فضای بین ستاره ای که تحت تأثیر نیروی جاذبه ی گرانشی متقابل در کنار هم جمع شده اند.</td> </tr> <tr> <td>• سال نوری</td> <td>• فاصله ی حدود یکصد و پنجاه میلیون کیلومتری بین زمین و خورشید</td> </tr> <tr> <td>• کهکشان</td> <td>• مجموعه ای از ابرهای عظیم و چرخان، تشکیل شده از گاز و غبار</td> </tr> <tr> <td>• سحابی</td> <td></td> </tr> </tbody> </table>	الف	ب	• واحد نجومی	• مجموعه ای عظیم از ستارگان، گازها، گردوغبار و فضای بین ستاره ای که تحت تأثیر نیروی جاذبه ی گرانشی متقابل در کنار هم جمع شده اند.	• سال نوری	• فاصله ی حدود یکصد و پنجاه میلیون کیلومتری بین زمین و خورشید	• کهکشان	• مجموعه ای از ابرهای عظیم و چرخان، تشکیل شده از گاز و غبار	• سحابی		۱۴
الف	ب											
• واحد نجومی	• مجموعه ای عظیم از ستارگان، گازها، گردوغبار و فضای بین ستاره ای که تحت تأثیر نیروی جاذبه ی گرانشی متقابل در کنار هم جمع شده اند.											
• سال نوری	• فاصله ی حدود یکصد و پنجاه میلیون کیلومتری بین زمین و خورشید											
• کهکشان	• مجموعه ای از ابرهای عظیم و چرخان، تشکیل شده از گاز و غبار											
• سحابی												
۱	<p>هر کدام از عبارت های زیر ویژگی کدام گروه از گیاهان را بیان می کند؟</p> <p>الف) اولین گروه از گیاهان آونددار که دارای ساقه ی زیرزمینی اند.</p> <p>ب) گیاهانی که گل ندارند ولی دانه تولید می کنند.</p> <p>ج) قدیمی ترین گیاهان روی زمین که ارتفاع زیادی ندارند.</p> <p>د) مواد مغذی در ریشه ی این گیاه ذخیره شده است.</p>	۱۵										
۰/۵	<p>من (شکل مقابل) در چه گروهی قرار می گیرم؟</p> <p><input type="checkbox"/> پستانداران <input type="checkbox"/> پرندگان <input type="checkbox"/> دوزیستان</p> <p>علت انتخاب خود را بنویسید.</p> 	۱۶										
	ادامه سؤالات در صفحه بعد	صفحه ۳										

تاریخ امتحان : ۹۷/۰۴/۱۱
مدت امتحان : ۷۵ دقیقه
ساعت شروع : ۹:۳۰ صبح
تعداد صفحات : ۴
تعداد سوال : ۲۰

اداره کل آموزش و پرورش خراسان رضوی
اداره سنجش آموزش و پرورش
سؤالات امتحان هماهنگ نهم متوسطه (دوره اول)
درس : علوم تجربی
Sanjesh.razavi.medu.ir

نام :
نام خانوادگی :
نام آموزشگاه :
شماره ی داوطلب :
نوبت : غایبین موجه خرداد

ردیف	امیرالمومنین علیه السلام: اندیشیدن پیش از انجام کار از لغزش در امان ماندن است.	بارم
۱۷	<p>متن زیر را بخوانید و به سؤالات آن پاسخ دهید.</p> <p>خداوند متعال جانوران زیادی را در روی کره ی زمین خلق کرده است. بدن گروهی از این جانوران با پولک های ضخیم یا صفحات استخوانی، پوشیده شده است. این ساختارها باعث می شود که این موجودات بتوانند در خشکی زندگی کنند و آب بدنشان از دست نرود در نتیجه جانور کمتر به آب نیاز پیدا کند. امروزه این جانوران به چند گروه تقسیم می شوند. دسته ای از این موجودات سم تولید می کنند که کاربرد زیادی دارد.</p> <p>الف) متن فوق به معرفی کدام گروه از جانوران می پردازد؟ (.....)</p> <p>ب) جانوران فوق به چند دسته تقسیم می شوند؟ ذکر دو مورد کافی است. (.....)</p> <p>ج) یک کاربرد از این گروه جانوران را بنویسید. (.....)</p>	۰/۷۵
۱۸	چگونگی حرکت روبه بالای آب در گیاه را توضیح دهید.	۰/۵
۱۹	<p>با در نظر گرفتن صفت های ظاهری، جانوران زیر را طبقه بندی کرده و کلید دو راهی برای آن ها شناسایی کنید.</p> 	۰/۷۵
۲۰	<p>در کدام یک از شکل های مقابل محل ورود و خروج آب در بدن اسفنج به درستی نشان داده شده است؟</p> 	۰/۲۵

دانش آموزان عزیز و همکاران محترم می توانند با مراجعه به سایت مندرج در سربرگ، سوال و راهنمای تصحیح این درس را مشاهده نمایند.

جمع بارم		موفق باشید	
نام و نام خانوادگی مصحح / دبیر	نمره نهایی پس از رسیدگی به اعتراضات	نام و نام خانوادگی مصحح / دبیر	تصحیح و نمره گذاری
	با عدد		با عدد
	با حروف		با حروف
امضاء :		امضاء :	

تاریخ امتحان ۹۷/۰۴/۱۱		باسمه تعالی	
اداره سنجش آموزش و پرورش		راهنمای تصحیح سوالات امتحان هماهنگ پایه نهم (استان خراسان رضوی)	
		نوبت: (غایبین موجه خرداد)	
		سال تحصیلی ۹۷-۱۳۹۶	
همکار گرامی ضمن عرض سلام و خداقوت: لطفاً به مفهوم پاسخ های دانش آموزان توجه کرده و در صورت صحیح بودن، نمره منظور نمایید.			
۱	هر کدام ۰/۲۵ نمره	(د) یوکاریوت	(ج) قالب خارجی
۲	هر کدام ۰/۲۵ نمره	(ج) گزینه ۴ (تعیین جهت شمال و جنوب جغرافیایی در شب)	(ب) گزینه ۳ (یونی-کلر)
۳	هر کدام ۰/۲۵ نمره	(د) ص	(ج) غ
۴	۰/۵	آب راحت تر ریخته می شود زیرا هوای داخل ظرف از طریق سوراخ خارج شده و آب جای آن را می گیرد.	
۵	۰/۷۵	هر قسمت ۰/۲۵ نمره	$90-54=36 \div \frac{36 \text{ km}}{h} = 10 \frac{m}{s}$
۶	۰/۷۵	هر کدام ۰/۲۵ نمره	(ج) چهارتا
۷	۰/۵	(ب) عمود بر سطح	۰/۲۵ نمره
۸	۰/۷۵	فرمول ۰/۲۵ نمره	عدد گذاری ۰/۲۵ نمره
۹	۰/۷۵	نیزمول ۰/۲۵ نمره	جمعاً ۰/۲۵ نمره
۱۰	۱/۲۵	۰/۲۵ نمره	۰/۲۵ نمره
۱۱	۰/۷۵	هر مورد ۰/۲۵ نمره	مخمّر (ج)
۱۲	۰/۷۵	با ساختمان بدنی پیچیده آفریده است. ۰/۵ نمره	با ساختمان بدنی ساده و در ادامه موجودات بعدی را
۱۳	۰/۷۵	هر مورد ۰/۲۵ نمره	کرم ها - نرم تنان - خارتان
۱۴	۰/۷۵	الف	ب
		واحد نجومی	مجموعه ای از ستارگان، گازها، گردوغبار و فضای بین ستاره ای که تحت تأثیر نیروی جاذبه ای گرانشی متقابل در کنار هم جمع شده اند.
		سال نوری	فاصله ای حدود یکصد و پنجاه میلیون کیلومتری بین زمین و خورشید
		کهکشان	مجموعه ای از ابرهای عظیم و چرخان، تشکیل شده از گاز و غبار
		سحابی	
۱۵	۰/۷۵	هر مورد ۰/۲۵ نمره	(د) هویج یا تربیچه
۱۶	۰/۵	پستانداران ۰/۲۵ نمره	چون به بچه ای خودش شیر می دهد ۰/۲۵ نمره
۱۷	۰/۷۵	خزندگان ۰/۲۵ نمره	کروکودیل، مار، سوسمار، لاک پشت (دو مورد کافی است ۰/۲۵ نمره)
۱۸	۰/۵	همه ای آبی که جذب می کند مصرف نمی کند. مقداری از آن را به صورت بخار از روزنه های برگ خارج می شود که این کار نیروی مکشی ایجاد می کند که باعث حرکت آب در طول گیاه می شود.	
۱۹	۰/۷۵	دارد: زنبور و مگس	ندارد: مورچه، سوسک، کرم خاکی پا
		دارد: مورچه، سوسک و عقرب	ندارد: کرم خاکی و حلزون
		دارد: حلزون	ندارد: کرم خاکی
		صدف	
		دارد: کرم خاکی	
		اشاره به هر صفت و تفکیک جانوران ۰/۲۵ نمره	
۲۰	۰/۲۵	شکل الف	

همکاران محترم خسته نباشید

تاریخ امتحان : ۰۸/۰۵/۹۷
مدت امتحان : ۷۵ دقیقه
ساعت شروع : ۹ صبح
تعداد صفحات : ۴
تعداد سؤال : ۲۰

اداره کل آموزش و پرورش خراسان رضوی
اداره سنجش آموزش و پرورش
سؤالات امتحان هماهنگ پایه نهم (متوسطه اول)
درس : علوم تجربی
Sanjesh.razavi.medu.ir

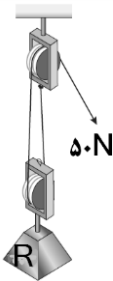
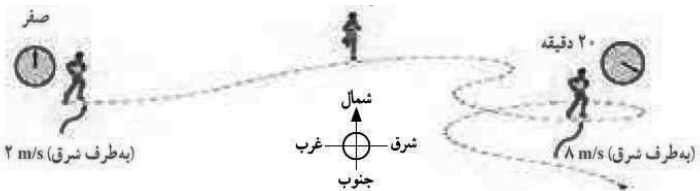


نام و نام خانوادگی:
نام آموزشگاه :
شماره داوطلب :
نوبت: جبرانی مرداد

بارم	امیرالمومنین علیه السلام: اندیشیدن پیش از انجام کار از لغزش در امان ماندن است.	ردیف
دانش آموز عزیز: ضمن آرزوی موفقیت برای شما لطفا با مطالعه دقیق ۲۰ سوال زیر پاسخ مناسب را در محل های تعیین شده بنویسید.		
۱	<p>عبارت‌های زیر را با انتخاب کلمه مناسب از داخل جدول کامل کنید.</p> <p>باکتری - نقطه‌ی ذوب - تندی متوسط - دریایی - ویروس - نقطه‌ی جوش - سرعت متوسط - خشکی</p> <p>الف) در برج تقطیر اجزای نفت خام بر اساس تفاوت در از هم جدا می‌شوند. ب) نسبت مسافت پیموده شده به زمان صرف شده را می‌گویند. ج) بیشترین شرایط تشکیل فسیل در محیط‌های می‌باشد. د) عامل بیماری سرماخوردگی و آنفلوآنزا می‌باشد.</p>	۱
۱	<p>گزینه‌ی مناسب را انتخاب کنید.</p> <p>الف) در شکل مقابل سه سوراخ کوچک در بطری ۱/۵ لیتری که پر آب است، ایجاد کرده‌ایم فشار آب در کدام نقطه، بیش‌تر است؟ <input type="checkbox"/> الف <input type="checkbox"/> ب <input type="checkbox"/> ج <input type="checkbox"/> د (۴) فشار در هر سه نقطه یکسان است ب) با توجه به مدل اتمی بور برای عناصر زیر کدام دو عنصر در یک ستون جدول تناوبی قرار می‌گیرند.</p> <p> <input type="checkbox"/> لیتیم <input type="checkbox"/> نیتروژن <input type="checkbox"/> سدیم <input type="checkbox"/> فسفر <input type="checkbox"/> لیتیم و سدیم <input type="checkbox"/> نیتروژن و سدیم <input type="checkbox"/> لیتیم و فسفر <input type="checkbox"/> ۳) لیتیم و فسفر <input type="checkbox"/> ۴) سدیم و لیتیم ۳) در اثر برخورد ورقه‌ی عربستان با ورقه‌ی ایران کدام پدیده‌ی طبیعی به وجود آمده است؟ الف) رشته کوه البرز <input type="checkbox"/> ب) گسترش بستر خلیج فارس <input type="checkbox"/> ج) رشته کوه زاگرس <input type="checkbox"/> د) آبتاز (سونامی) <input type="checkbox"/> ۴) تجزیه کنندگان اصلی در یک بوم سازگان در کدام یک از گزینه‌های زیر بیان شده‌اند؟ الف) ویروس‌ها و قارچ‌ها <input type="checkbox"/> ب) آغازیان و قارچ‌ها <input type="checkbox"/> ج) باکتری‌ها و آغازیان <input type="checkbox"/> د) قارچ‌ها و باکتری‌ها <input type="checkbox"/></p>	۲
۱	<p>درست یا نادرست بودن عبارت‌های زیر را مشخص کنید.</p> <p>الف) عامل حرکت ورقه‌های سنگ‌کره جریان همرفتی گوشته است. <input type="checkbox"/> ص <input type="checkbox"/> غ ب) فلزها در هنگام ترکیب شدن از نوع پیوند اشتراکی، به یون مثبت (کاتیون) تبدیل می‌شوند. <input type="checkbox"/> ص <input type="checkbox"/> غ ج) خزها اولین گروه از گیاهان آوند دار و دارای ساقه‌ی زیرزمینی‌اند. <input type="checkbox"/> ص <input type="checkbox"/> غ د) قزل‌آلا و شیرماهی از ماهی‌های غضروفی‌اند. <input type="checkbox"/> ص <input type="checkbox"/> غ</p>	۳
۰/۵	<p>در شکل، ساختار الکترونی اتم‌های هیدروژن و کربن در مولکول متان نشان داده شده است.</p> <p>الف) نوع پیوند را در مولکول متان مشخص کنید. ب) در مدار آخر اتم کربن در مولکول متان چند الکترون وجود دارد؟</p> 	۴
۰/۵	<p>خودروهای مسابقه را به گونه‌ای طراحی می‌کنند که دارای موتور قوی و بدنه سبکی باشند، با توجه به قانون دوم نیوتن علت این نوع طراحی را شرح دهید.</p> 	۵

تاریخ امتحان: ۹۷/۰۵/۰۸
مدت امتحان: ۷۵ دقیقه
ساعت شروع: ۹ صبح
تعداد صفحات: ۴
تعداد سؤال: ۲۰

اداره کل آموزش و پرورش خراسان رضوی
اداره سنجش آموزش و پرورش
سوالات امتحان هماهنگ پایه نهم (متوسطه اول)
درس: علوم تجربی
Sanjesh.razavi.medu.ir

نام و نام خانوادگی:
نام آموزشگاه:
شماره داوطلب:
نوبت: جبرانی مرداد

بارم	ردیف	سؤال										
		امیرالمومنین علیه السلام: اندیشیدن پیش از انجام کار از لغزش در امان ماندن است.										
۱	۶	در شکل مقابل بر اساس قانون پایستگی انرژی و با صرف نظر از اصطکاک، اگر طناب توسط شخصی ۲ متر کشیده شود، جابه‌جایی وزنه چقدر خواهد بود؟ 										
۰/۷۵	۷	شکل زیر دنده‌ای را نشان می‌دهد که سرعت آن در شروع حرکت ۲ متر بر ثانیه و ۲۰ دقیقه پس از آن ۸ متر بر ثانیه داده شده است. شتاب متوسط دنده را حساب کنید. 										
۰/۵	۸	با توجه به مفهوم فشار، شکل مقابل را تفسیر کنید. 										
۰/۵	۹	با توجه به شکل نوع حرکت ورقه‌های سنگ‌کره را مشخص کنید. این نوع حرکت بیش‌تر در چه مکان‌هایی رخ می‌دهد؟ 										
۱/۲۵	۱۰	بر اساس آنچه در بحث نگاهی به فضا آموختید، به سوالات زیر پاسخ دهید. الف) منجمان از ابزار نجومی مانند اسطرلاب به چه منظوری استفاده می‌کردند؟ ب) بیشترین درصد گازی که در خورشید وجود دارد، مربوط به کدام ماده است؟ ج) برای جهت‌یابی در شب، از چه چیزهایی کمک می‌گیرند؟ د) جهت قبله در ایران همواره در چه جهتی است؟ ه) بیشتر سخانه‌ها در چه مکانی در روی زمین سقوط می‌کنند؟										
۰/۷۵	۱۱	هر یک از جانداران مقابل در کدام سلسله قرار می‌گیرند؟ (پلاتی‌پوس - سیاهک گندم - مخمر - خزه) <table border="1" data-bbox="375 1724 1236 1825"> <tr> <td>جانوران</td> <td>گیاهان</td> <td>آغازیان</td> <td>قارچ</td> <td>باکتری</td> </tr> <tr> <td>.....</td> <td>خزه</td> <td>.....</td> <td>.....</td> <td>باکتری سل</td> </tr> </table>	جانوران	گیاهان	آغازیان	قارچ	باکتری	خزه	باکتری سل
جانوران	گیاهان	آغازیان	قارچ	باکتری								
.....	خزه	باکتری سل								
۰/۵	۱۲	به سوالات زیر پاسخ کوتاه دهید. الف) توضیح دهید چرا با آچار بلندتر، مهره‌ی محکم را می‌توان آسان‌تر باز کرد؟ ب) علت افزایش کارایی شش پرندگان در جذب اکسیژن چیست؟ 										
۰/۲۵												
	صفحه ۲	ادامه سوالات در صفحه بعد										

تاریخ امتحان : ۰۸ / ۰۵ / ۹۷
 مدت امتحان : ۷۵ دقیقه
 ساعت شروع : ۹ صبح
 تعداد صفحات : ۴
 تعداد سؤال : ۲۰

اداره کل آموزش و پرورش خراسان رضوی
 اداره سنجش آموزش و پرورش
 سؤالات امتحان هماهنگ پایه نهم (متوسطه اول)
 درس : علوم تجربی
 Sanjesh.razavi.medu.ir

نام و نام خانوادگی:
 نام آموزشگاه :
 شماره داوطلب :
 نوبت: جبرانی مرداد

بارم	امیرالمومنین علیه السلام: اندیشیدن پیش از انجام کار از لغزش در امان ماندن است.	ردیف				
۰/۷۵	نقشه‌ی مفهومی مقابل را کامل کنید.	۱۳				
۰/۷۵	در جدول زیر مفاهیم ستون (الف) را به عبارت‌های مناسب آن در ستون (ب) با خط متصل کنید. (توجه: چند مفهوم اضافی است)	۱۴				
	<table border="1"> <thead> <tr> <th>الف</th> <th>ب</th> </tr> </thead> <tbody> <tr> <td> <ul style="list-style-type: none"> • دولپه • تک لپه • حشرات • تار کشنده • عنکبوتیان • روزنه </td> <td> <ul style="list-style-type: none"> • فراوانترین گروه بندپایان • رشته های ظریف روی ریشه گیاه که آب وموادمعدنی به ریشه می رساند. • داشتن رگبرگ‌های موازی- دانه‌ی یک قسمتی و گلبرگ‌هایی با مضرب ۳ از ویژگی‌های این گروه است. </td> </tr> </tbody> </table>	الف	ب	<ul style="list-style-type: none"> • دولپه • تک لپه • حشرات • تار کشنده • عنکبوتیان • روزنه 	<ul style="list-style-type: none"> • فراوانترین گروه بندپایان • رشته های ظریف روی ریشه گیاه که آب وموادمعدنی به ریشه می رساند. • داشتن رگبرگ‌های موازی- دانه‌ی یک قسمتی و گلبرگ‌هایی با مضرب ۳ از ویژگی‌های این گروه است. 	
الف	ب					
<ul style="list-style-type: none"> • دولپه • تک لپه • حشرات • تار کشنده • عنکبوتیان • روزنه 	<ul style="list-style-type: none"> • فراوانترین گروه بندپایان • رشته های ظریف روی ریشه گیاه که آب وموادمعدنی به ریشه می رساند. • داشتن رگبرگ‌های موازی- دانه‌ی یک قسمتی و گلبرگ‌هایی با مضرب ۳ از ویژگی‌های این گروه است. 					
۱	هر یک از عبارت‌های زیر مربوط به کدام گروه از جانوران مهره‌دار است؟ (الف) بدن دوکی شکل دارند، سطح بدنشان لغزنده و از فلس پوشیده شده است. (.....) (ب) قسمتی از زندگی خود را با آب‌شش تنفس می‌کنند و از جلبک‌ها و گیاهان آبی تغذیه می‌کنند. (.....) (ج) پوست بدن این موجودات از پولک‌های ضخیم و سخت و یا صفحات استخوانی پوشیده شده است. (.....) (د) مهره‌دارانی که به بچه‌های خود شیر می‌دهند. بدنشان از پشم یا مو پوشیده شده است. (.....)	۱۵				
۰/۵	این نمودار رابطه‌ی بین جمعیت شکارچی و جمعیت شکار را در یک منطقه نشان می‌دهد. شما دانش آموز باهوش چه تفسیری برای این نمودار می‌توانید ارائه کنید؟ 	۱۶				
	ادامه سؤالات در صفحه بعد	صفحه ۳				

«باسمه تعالی»

تاریخ امتحان : ۰۸ / ۰۵ / ۹۷
 مدت امتحان : ۷۵ دقیقه
 ساعت شروع : ۹ صبح
 تعداد صفحات : ۴
 تعداد سؤال : ۲۰

اداره کل آموزش و پرورش خراسان رضوی
 اداره سنجش آموزش و پرورش
 سؤالات امتحان هماهنگ پایه نهم (متوسطه اول)
 درس : علوم تجربی
 Sanjesh.razavi.medu.ir

نام و نام خانوادگی:
 نام آموزشگاه :
 شماره داوطلب :
 نوبت: جبرانی مرداد

بارم	امیرالمومنین علیه السلام: اندیشیدن پیش از انجام کار از لغزش در امان ماندن است.				ردیف									
۰/۵	<p>متن زیر را بخوانید و به سوالات آن پاسخ دهید.</p> <p>گلسنگ موجودی است که از همزیستی قارچ و جلبک تشکیل می‌شود. در این همزیستی قارچ مواد معدنی را برای جلبک فراهم می‌آورد و جلبک با انجام دادن فتوسنتز، کربوهیدرات مورد نیاز خود و قارچ را تامین می‌کند. گلسنگ‌ها به آلودگی هوا حساس‌اند بنابراین مرگ گلسنگ ممکن است دلیلی برای آلودگی هوا باشد. گلسنگ‌ها غذای گوزن را تشکیل می‌دهند.</p> <p>الف) رابطه‌ی بین جانداران موجود در گلسنگ، از چه نوع همزیستی است؟ ب) یکی دیگر از فواید گلسنگ که در متن بالا به آن اشاره نشده است را بنویسید.</p>				۱۷									
۰/۷۵	<p>هر یک از کاربردهای زیر مربوط به کدام گروه از جانداران است. آن‌ها را مانند نمونه به یکدیگر متصل کنید.</p> <table border="1" style="width: 100%; text-align: center;"> <tr> <td>نرم‌تنان</td> <td>پستانداران</td> <td>گیاهان</td> <td>خزندگان</td> </tr> <tr> <td>با استفاده از آن گروه خونی را شناسایی می‌کنند</td> <td>در پاکسازی طبیعت نقش دارند</td> <td>برخی از انواع آن در تنظیم جمعیت حشرات نقش دارند</td> <td>در تهیه‌ی نخ بخیه استفاده می‌شوند</td> </tr> </table>				نرم‌تنان	پستانداران	گیاهان	خزندگان	با استفاده از آن گروه خونی را شناسایی می‌کنند	در پاکسازی طبیعت نقش دارند	برخی از انواع آن در تنظیم جمعیت حشرات نقش دارند	در تهیه‌ی نخ بخیه استفاده می‌شوند	۱۸	
نرم‌تنان	پستانداران	گیاهان	خزندگان											
با استفاده از آن گروه خونی را شناسایی می‌کنند	در پاکسازی طبیعت نقش دارند	برخی از انواع آن در تنظیم جمعیت حشرات نقش دارند	در تهیه‌ی نخ بخیه استفاده می‌شوند											
۰/۵	<p>نقشه‌ی مفهومی مقابل را کامل کنید.</p> <table border="1" style="width: 100%; text-align: center;"> <tr> <td colspan="3">انواع بوم‌سازگان</td> </tr> <tr> <td>.....</td> <td>.....</td> <td>خشکی</td> </tr> <tr> <td>تالاب شادگان</td> <td>آبزی‌دان</td> <td>جنگل گلستان</td> </tr> </table>				انواع بوم‌سازگان			خشکی	تالاب شادگان	آبزی‌دان	جنگل گلستان	۱۹
انواع بوم‌سازگان														
.....	خشکی												
تالاب شادگان	آبزی‌دان	جنگل گلستان												
۰/۷۵	<p>هر یک از مواد غذایی در هر گیاه در چه اندامی ذخیره شده است؟</p> <div style="display: flex; justify-content: space-around;">    </div>				۲۰									
دانش آموزان عزیز و همکاران محترم می‌توانند با مراجعه به سایت مندرج در سربرگ، سوال و راهنمای تصحیح این درس را مشاهده نمایند.														
۱۵	جمع بارم		موفق باشید											
نام و نام خانوادگی مصحح / دبیر	نمره نهایی پس از رسیدگی به اعتراضات		نام و نام خانوادگی مصحح / دبیر	تصحیح و نمره گذاری										
	با حروف	با عدد		با حروف	با عدد									
امضاء :			امضاء :											

تاریخ امتحان ۹۷/۰۵/۰۸		باسمه تعالی											
اداره سنجش آموزش و پرورش		راهنمای تصحیح سوالات امتحان هماهنگ پایه نهم (استان خراسان رضوی)											
		سال تحصیلی ۹۶-۱۳۹۷		نوبت: (جبرانی مرداد)									
		درس: علوم تجربی											
همکار گرامی ضمن عرض سلام و خداقوت: لطفاً به مفهوم پاسخ های دانش آموزان توجه کرده و در صورت صحیح بودن، نمره منظور نمایید.													
۱	هر کدام ۰/۲۵ نمره	د) ویروس	ج) دریایی	ب) تندی متوسط	الف) نقطه‌ی جوش								
۱	هر کدام ۰/۲۵ نمره	د) گزینہ ۴ (قارچ‌ها و باکتری‌ها)	ج) گزینہ ۳ (رشته کوه زاگرس)	ب) گزینہ ۴ (سدیم و لیتیم)	الف) گزینہ ۳ (ج)								
۱	هر کدام ۰/۲۵ نمره	د) غ	ج) غ	ب) غ	الف) ص								
۰/۵	هر کدام ۰/۲۵ نمره	ب) ۸ تا		الف) اشتراکی (کووالانسی)									
۰/۵	بدنه‌ی سبک باعث افزایش شتاب (۰/۲۵) و نیروی موتور بالا نیز باعث افزایش شتاب می‌شود. (۰/۲۵) نمره												
۱	مزیت مکانیکی		نیروی مقاوم = ۲	X	۱۰۰								
			نیروی محرک	۵۰									
جابه‌جایی نیروی مقاوم × نیروی مقاوم = جابه‌جایی نیروی محرک × نیروی محرک													
$۵۰ \times ۲ = ۱۰۰ \times X$ $X = ۱m$													
فرمول ۰/۲۵ نمره عدد گذاری ۰/۲۵ نمره پاسخ ۰/۲۵ نمره جمعاً ۱ نمره													
۰/۵	سطح تماس در چوب‌های اسکی افزایش یافته (۰/۲۵)، در نتیجه فشار کم می‌شود. (۰/۲۵)												
۰/۷۵	هر قسمت ۰/۲۵ نمره $m = ۰/۰۰۵ \times \frac{۱۲۰۰}{۵۲} = \frac{۶}{۱۲۰۰} = \frac{۸-۲}{۲۰ \times ۶۰ = ۱۲۰۰}$ تغییرات سرعت = شتاب												
۰/۵	الف) امتداد لغز ۰/۲۵ نمره ب) در بستر اقیانوس‌ها هر مورد ۰/۲۵ نمره												
۱/۲۵	الف) برای تعیین زاویه ارتفاع ستارگان (ب) هیدروژن (ج) ستارگان - صورت‌های فلکی (د) جنوب غربی (ه) اقیانوس‌ها هر مورد ۰/۲۵ نمره												
۰/۷۵	قارچ = سیاهک گندم آغازیان = مخمر جانوران = پلاتی پوس هر مورد ۰/۲۵ نمره												
۰/۷۵	الف) زیرا هر چه فاصله‌ی نقطه‌ی اثر نیرو تا محور چرخش بزرگتر باشد مقدار گشتاور نیرو افزایش می‌یابد. ۰/۵ ب) کیسه‌های هوادار ۰/۲۵ نمره												
۰/۷۵	الف) کیسه‌تنان یا (مرجان) ب) خارپوستان د) حلقوی هر مورد ۰/۲۵ نمره												
۰/۷۵	الف) دولپه ب) فراوانترین گروه بندپایان تک لپه رشته‌های ظریف روی ریشه گیاه که آب و مواد معدنی به ریشه می‌رساند. حشرات داشتن رگبرگ‌های موازی - دانه‌ی یک قسمتی و گلبرگ‌هایی با مضر ۳ از تار کشنده ویژگی‌های این گروه است. عنکبوتیان روزنه												
۱	الف) ماهی (ب) دوزیستان (ج) خزندگان (د) پستانداران هر مورد ۰/۲۵ نمره												
۰/۵	تعداد شکارچیانی که می‌توانند در یک بوم سازگان زندگی کنند، به تعداد جانورانی بستگی دارد که شکار آن‌ها می‌شوند.												
۰/۵	الف) همیاری ۰/۲۵ نمره ب) گل‌سنگ سبب تشکیل خاک از سنگ می‌شود/ از گل‌سنگ‌ها مواد رنگی و دارویی استخراج می‌شود (یکی از دو مورد کافی است ۰/۲۵ نمره)												
۰/۷۵	<table border="1"> <tr> <td>خزندگان</td> <td>گیاهان</td> <td>پستانداران</td> <td>نرم‌تنان</td> </tr> <tr> <td>در تهیه‌ی نخ بخیه استفاده می‌شوند</td> <td>برخی از انواع آن در تنظیم جمعیت حشرات نقش دارند</td> <td>در پاکسازی طبیعت نقش دارند</td> <td>با استفاده از آن گروه خونی را شناسایی می‌کنند</td> </tr> </table>					خزندگان	گیاهان	پستانداران	نرم‌تنان	در تهیه‌ی نخ بخیه استفاده می‌شوند	برخی از انواع آن در تنظیم جمعیت حشرات نقش دارند	در پاکسازی طبیعت نقش دارند	با استفاده از آن گروه خونی را شناسایی می‌کنند
خزندگان	گیاهان	پستانداران	نرم‌تنان										
در تهیه‌ی نخ بخیه استفاده می‌شوند	برخی از انواع آن در تنظیم جمعیت حشرات نقش دارند	در پاکسازی طبیعت نقش دارند	با استفاده از آن گروه خونی را شناسایی می‌کنند										
۰/۵	آبزی دان آبی..... تالاب شادگان ...خشکی - آبی....												
۰/۷۵	سیب زمینی = ساقه تربچه = ریشه هویج = ریشه هر مورد ۰/۲۵ نمره												
همکاران محترم خسته نباشید													

تاریخ امتحان : ۹۷/۰۶/۱۰
مدت امتحان : ۷۵ دقیقه
ساعت شروع : ۹ صبح
تعداد صفحات : ۴
تعداد سؤال : ۱۹

اداره کل آموزش و پرورش خراسان رضوی
اداره سنجش آموزش و پرورش
سؤالات امتحان هماهنگ پایه نهم (متوسطه اول)
درس : علوم تجربی
Sanjesh.razavi.medu.ir

نام و نام خانوادگی:
نام آموزشگاه :
شماره داوطلب :
نوبت: شهر یورماه

امیرالمومنین علیه السلام: اندیشیدن پیش از انجام کار از لغزش در امان ماندن است.

بارم

ردیف

دانش آموز عزیز : ضمن آرزوی موفقیت برای شما لطفا با مطالعه دقیق ۱۹ سوال زیر پاسخ مناسب را در محل های تعیین شده بنویسید .

۱

۱

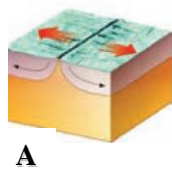
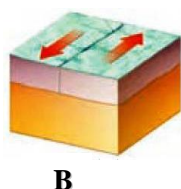
صحیح یا غلط بودن هر یک از عبارتهای زیر را بدون ذکر دلیل مشخص کنید.

- ۱- جهت قبله در ایران همواره به سمت جنوب غربی است. ص غ
- ۲- تغییر در یکی از چرخه های طبیعی کره ی زمین، بر فعالیت های طبیعی چرخه های دیگر اثری ندارد. ص غ
- ۳- طبق رابطه ی $f=ma$ شتاب با نیرو در جهت نیرو نسبت مستقیم و با جرم نسبت وارونه دارد. ص غ
- ۴- وجود ذخایر زغال سنگ در یک منطقه، بیانگر وجود جنگل و آب و هوای سرد و مرطوب در گذشته ی آن منطقه است. ص غ

۱

۲

گزینه ی مناسب را انتخاب کنید .



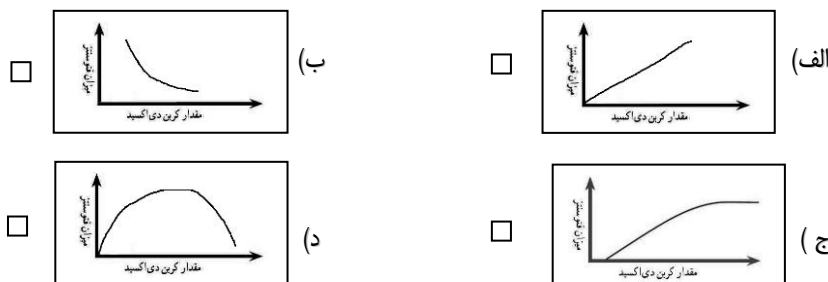
۱- با توجه به شکل A و B مشخص کنید ورقه های زمین نسبت به هم چه حرکتی دارند؟

- الف) دور شونده A دور نزدیک شونده B ب) A امتداد لغز B نزدیک شونده
ج) دور شونده A دور شونده B د) A نزدیک شونده B دور شونده

۲- ستاره ی قطبی جهت شمال را به ما نشان می دهد. این ستاره در کدام صورت فلکی قابل تشخیص است؟

- الف) دب اکبر ب) دب اصغر ج) اسد د) عقرب

۳- کدام نمودار اثر کربن دی اکسید را بر میزان فتوسنتز در بسیاری از گیاهان درست نشان می دهد؟



۴- متحرکی با سرعت 54Km/h چه مسافتی را در مدت زمان یک ثانیه، طی می کند؟

- الف) ۵۴ متر ب) ۱۵ متر ج) ۳۰ متر د) ۱۹۴/۴ متر

۱

۳

عبارتهای علمی زیر را با انتخاب کلمه ی مناسب از داخل پرانتز کامل کنید.

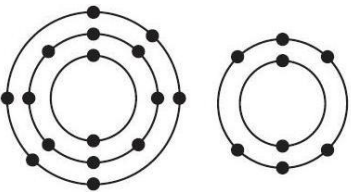

- ۱- نیروهای کنش و واکنش وارد بر یک جسم (در جهت هم- در خلاف جهت هم) هستند.
- ۲- هر چه نیروی ربایش بین ذره های یک ماده (کم تر- بیش تر) باشد، نقطه ی جوش آن ماده بالاتر است.
- ۳- مشتری و زحل در گروه سیاره های (سنگی- گازی) قرار دارند.
- ۴- هنگامی که در (قاره ها- اقیانوس ها) زمین لرزه یا آتشفشان رخ دهد، ممکن است سونامی ایجاد شود.

«باسمه تعالی»

تاریخ امتحان : ۱۰/۰۶/۹۷
مدت امتحان : ۷۵ دقیقه
ساعت شروع : ۹ صبح
تعداد صفحات : ۴
تعداد سؤال : ۱۹

اداره کل آموزش و پرورش خراسان رضوی
اداره سنجش آموزش و پرورش
سوالات امتحان هماهنگ پایه نهم (متوسطه اول)
درس : علوم تجربی
Sanjesh.razavi.medu.ir

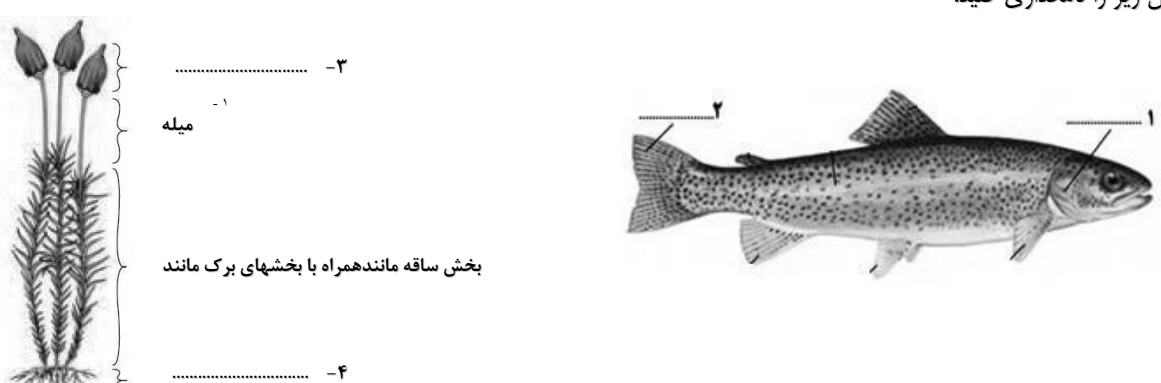

نام و نام خانوادگی:
نام آموزشگاه :
شماره داوطلب :
نوبت: شهر یورماه

بارم	ردیف	امیرالمومنین علیه السلام: اندیشیدن پیش از انجام کار از لغزش در امان ماندن است.
۱/۲۵	۴	به هر یک از سوالات زیر پاسخ کوتاه بدهید الف) تنها ستاره‌ی منظومه‌ی شمسی چه نام دارد؟ ب) علت حرکت ورقه‌های سنگ‌کره چیست؟ ج) بزرگترین گروه کیسه‌تنان که اسکلتی آهکی دارند، چه نامیده می‌شود؟ د) امروزه مهم‌ترین خطر برای کاهش تنوع زیستی و عامل انقراض گونه‌های جانوری و گیاهی چیست؟ ه) پاره‌خط راستی که مبدأ حرکت را به مقصد وصل می‌کند چه نامیده می‌شود؟
۰/۷۵	۵	باکتری‌ها بر چه اساسی طبقه‌بندی می‌شوند؟ دو دسته از آن‌ها را نام ببرید.
۰/۵	۶	چرا بندپایان پوست اندازی می‌کنند؟
۰/۵	۷	شکل‌های زیر مدل اتمی بور برای اتم‌های اکسیژن 8^0 و گوگرد 16^S را نشان می‌دهد. چرا این دو اتم در یک ستون از مدل قرار می‌گیرند؟ 
۰/۵	۸	شرایط لازم برای تشکیل فسیل را بنویسید. (ذکر دو مورد کافی است)
۰/۲۵	۹	سن رگه‌ی آذرین F را با سایر لایه‌ها مقایسه کنید. 
ادامه سوالات در صفحه بعد		صفحه ۲

تاریخ امتحان : ۱۰/۰۶/۹۷
 مدت امتحان : ۷۵ دقیقه
 ساعت شروع : ۹ صبح
 تعداد صفحات : ۴
 تعداد سؤال : ۱۹

اداره کل آموزش و پرورش خراسان رضوی
 اداره سنجش آموزش و پرورش
 سؤالات امتحان هماهنگ پایه نهم (متوسطه اول)
 درس : علوم تجربی
 Sanjesh.razavi.medu.ir

نام و نام خانوادگی:
 نام آموزشگاه :
 شماره داوطلب :
 نوبت: شهر یورماه

بارم	ردیف	سؤال												
۱	۱۰	<p>امیرالمومنین علیه السلام: اندیشیدن پیش از انجام کار از لغزش در امان ماندن است.</p> <p>شکل زیر را نامگذاری کنید.</p>  <p>۱ - میله ۲ - بخش ساقه مانند همراه با بخشهای برگ مانند ۳ - ۴ -</p>												
۰/۷۵	۱۱	<p>جدول زیر را کامل کنید.</p> <table border="1"> <tr> <td rowspan="3">انواع کرمها</td> <td>کرم</td> <td>پلانا ریا</td> </tr> <tr> <td>کرم لوله ای</td> <td>.....</td> </tr> <tr> <td>کرم</td> <td>زالو</td> </tr> </table>	انواع کرمها	کرم	پلانا ریا	کرم لوله ای	کرم	زالو					
انواع کرمها	کرم	پلانا ریا												
	کرم لوله ای												
	کرم	زالو												
۰/۵	۱۲	<p>جدول تفاوت گیاه گندم با عدس را کامل کنید.</p> <table border="1"> <thead> <tr> <th>نام گیاه</th> <th>گیاه</th> <th>برگ</th> <th>دانه</th> </tr> </thead> <tbody> <tr> <td>گندم</td> <td>تک لپه</td> <td>رگبرگ</td> <td>یک قسمتی</td> </tr> <tr> <td>عدس</td> <td>دولپه</td> <td>رگبرگ منشعب</td> <td>.....</td> </tr> </tbody> </table>	نام گیاه	گیاه	برگ	دانه	گندم	تک لپه	رگبرگ	یک قسمتی	عدس	دولپه	رگبرگ منشعب
نام گیاه	گیاه	برگ	دانه											
گندم	تک لپه	رگبرگ	یک قسمتی											
عدس	دولپه	رگبرگ منشعب											
۰/۷۵	۱۳	<p>برای شناسایی جانوران زیر یک کلید دوراهی طراحی کنید. (حلزون - عنکبوت - کرم خاکی - مگس)</p>												
۱/۵	۱۴	<p>دلیل علمی عبارتهای زیر را بیان کنید.</p> <p>الف) هنگامی که مقداری نمک طعام را داخل آب حل می کنیم، محلول آب و نمک رسانای جریان الکتریکی می شود. حال اگر همین مقدار شکر را در آب حل کنیم، این اتفاق نمی افتد، علت چیست؟</p> <p>ب) چرا بادکنک پر از هوا، وقتی از ته استخر پر از آب، به بالا می آید بزرگتر می شود؟</p> <p>ج) وجود مرجانها در سواحل دریاها چه فوایدی دارد؟ (دو مورد)</p> 												

«باسمه تعالی»

تاریخ امتحان : ۹۷/۰۶/۱۰
 مدت امتحان : ۷۵ دقیقه
 ساعت شروع : ۹ صبح
 تعداد صفحات : ۴
 تعداد سؤال : ۱۹

اداره کل آموزش و پرورش خراسان رضوی
 اداره سنجش آموزش و پرورش
 سؤالات امتحان هماهنگ پایه نهم (متوسطه اول)
 درس : علوم تجربی
 Sanjesh.razavi.medu.ir

نام و نام خانوادگی:
 نام آموزشگاه :
 شماره داوطلب :
 نوبت: شهر یورماه

بارم	امیرالمومنین علیه السلام: اندیشیدن پیش از انجام کار از لغزش در امان ماندن است.	ردیف												
۰/۵	هر یک از مثال‌های زیر چه نوع رابطه‌ای را در بین جانداران نشان می‌دهد؟ الف) شیر و آهو ب) قارچ و جلبک	۱۵												
۱	مفاهیم ستون الف را به عبارت‌های مناسب آن در ستون ب متصل کنید. <table border="1" style="width: 100%; text-align: center;"> <tr> <td>الف</td> <td>ب</td> </tr> <tr> <td>● سمندر</td> <td>● سوسمارها</td> </tr> <tr> <td>● کوسه</td> <td>● کروکودیل</td> </tr> <tr> <td>● آفتاب‌پرست</td> <td>● دوزیستان</td> </tr> <tr> <td>● تمساح</td> <td>● ماهی‌ها</td> </tr> <tr> <td></td> <td>● پستانداران</td> </tr> </table>	الف	ب	● سمندر	● سوسمارها	● کوسه	● کروکودیل	● آفتاب‌پرست	● دوزیستان	● تمساح	● ماهی‌ها		● پستانداران	۱۶
الف	ب													
● سمندر	● سوسمارها													
● کوسه	● کروکودیل													
● آفتاب‌پرست	● دوزیستان													
● تمساح	● ماهی‌ها													
	● پستانداران													
۰/۷۵	شبکه‌ی غذایی را با استفاده از موجودات داخل پرانتز کامل کنید. (ذرت، خرگوش، عقاب) 	۱۷												
۰/۷۵	اندازه‌ی نیروی F چقدر باشد تا اهرم در حال تعادل بماند؟ 	۱۸												
۰/۷۵	اتومبیلی با سرعت $25 \frac{m}{s}$ در حال حرکت به طرف شمال است. راننده ترمز می‌کند و اتومبیل با شتاب 5 متر بر مربع ثانیه کاهش سرعت می‌دهد. مدت زمان توقف کامل اتومبیل چند ثانیه است؟ (نوشتن فرمول الزامی است) 	۱۹												

دانش آموزان عزیز و همکاران محترم می‌توانند با مراجعه به سایت مندرج در سربرگ، سوال و راهنمای تصحیح این درس را مشاهده نمایند.

صفحه ۴	موفق باشید	جمع بارم	۱۵
تصحیح و نمره گذاری	نام و نام خانوادگی	نمره نهایی پس از رسیدگی به اعتراضات	نام و نام خانوادگی
با عدد	مصیح / دبیر	با عدد	مصیح / دبیر
با حروف	امضاء :	با حروف	امضاء :

تاریخ امتحان ۹۷/۰۶/۱۰		باسمه تعالی			
اداره سنجش آموزش و پرورش		راهنمای تصحیح سوالات امتحان هماهنگ پایه نهم (استان خراسان رضوی)			
		نوبت: (شهریور)		درس: علوم تجربی	
		سال تحصیلی ۹۷-۱۳۹۶			
همکار گرامی ضمن عرض سلام و خداقوت: لطفاً به مفهوم پاسخ های دانش آموزان توجه کرده و در صورت صحیح بودن، نمره منظور نمایید.					
۱	ص (۱)	غ (۲)	ص (۳)	غ (۴)	هر کدام ۰/۲۵ نمره
۲	(۱) گزینه ج	(۲) گزینه ب	(۳) گزینه ج	(۴) گزینه ب	هر کدام ۰/۲۵ نمره
۳	(۱)خلاف جهت هم	(۲) بیش تر	(۳) گازی	(۴) اقیانوس ها	هر کدام ۰/۲۵ نمره
۴	(الف) خورشید	(ب) جریان همرفتی خمیر کره	(ج) مرجان ها	(د) فعالیت انسانی	(ه) بردار جابه جایی
۵	بر اساس شکل ۰/۲۵ نمره (کروی، میله ای و فنر مانند) دو مورد از سه مورد باید نوشته شود.	هر کدام ۰/۲۵ نمره			
۶	این جانوران اسکلت خارجی و سخت دارند که عضلات به آن متصل است و از اندام های داخلی محافظت می کند. سخت بودن اسکلت خارجی جلوی رشد آن ها را می گیرد به همین دلیل بسیاری از آن ها پوست اندازی می کنند. اسکلت قبلی را از خود جدا کرده و یک اسکلت بزرگتر و جدید برای خود می سازند. (نوشته قسمت زیر خطدار کافی است)				
۷	زیرا تعداد الکترون های لایه ی آخر آن ها با هم برابر است.				
۸	۱- دارای قسمت های سخت مانند استخوان، دندان، صدف یا پوسته ی آهکی یا سیلیسی باشند. ۲- دور ماندن جسد از فاسد شدن فوری ۳- دور ماندن از عوامل تجزیه کننده (ذکر دو مورد کافی است)				
۹	از همه ی لایه ها جوانتر است.				
۱۰	۱- سرپوش آبششی	۲- باله ی دُمی	۳- هاگدان	۴- ریشه سا	هر مورد ۰/۲۵ نمره
۱۱	انواع کرم ها		کرم پهن	پلاناریا	هر مورد ۰/۲۵
			کرم لوله ای	کرم قلاب دار یا آسکاریس یا کرمک	
			کرم حلقوی	زالو	
۱۲	رگبرگ موازی ۰/۲۵ نمره	دانه ی دو قسمتی ۰/۲۵ نمره			
۱۳	دانش آموز می تواند از پا یا بال شروع کند و بعد آن ها را بر اساس پا یا بال به گروه های کوچکتری تقسیم کند. بنابراین جواب ها ممکن است متفاوت باشد. مهم این است که دانش آموز به گروه بندی دست یابد. اشاره به هر صفت و تفکیک جانوران ۰/۲۵ نمره				
	<p>پا } دارد: عنکبوت و مگس</p> <p>ندارد: حلزون و کرم خاکی</p> <p>صدف } ندارد: عنکبوت و کرم خاکی و مگس</p> <p>دارد: حلزون</p> <p>بال } دارد: مگس</p> <p>ندارد: حلزون، عنکبوت و کرم خاکی</p>				
۱۴	الف) زیرا وقتی نمک طعام در آب حل می شود، یون های سازنده ی آن در سراسر محلول پخش می شوند در حالی که مولکول های شکر بار الکتریکی ندارند و جریان برق را عبور نمی دهند. ب) زیرا در مایعات هر چه به طرف عمق برویم، فشار بیشتر شده در نتیجه وقتی از ته استخر به سطح آب می آییم فشار کم شده و بادکنک بزرگتر می شود. ج) وجود مرجان ها در سواحل دریاها ضمن تشکیل زیستگاه برای بسیاری از جانوران دریایی به عنوان موج شکن طبیعی عمل می کند. انرژی امواج را می گیرد و مانع فرسایش بیش تر سواحل می شود. موارد زیر خطدار اهمیت دارد				
۱۵	الف) شکار و شکارچی	ب) همیاری	هر کدام ۰/۲۵ نمره		
۱۶	سمندر = دوزیستان *	کوسه = ماهی ها *	آفتاب پرست = سوسمارها *	تمساح = کروکودیل	۱
۱۷					
۱۸	$F_1 \times d_1 = F_2 \times d_2 = 800 \times 0.5m = F_2 \times 2 \quad F_2 = 200N$ <p>فرمول ۰/۲۵ - عدد گذاری ۰/۲۵ پاسخ ۰/۲۵ نمره</p>				
۱۹	فرمول ۰/۲۵ - عدد گذاری ۰/۲۵ پاسخ ۰/۲۵ نمره				
۱۵	جمع بارم				
همکاران محترم خسته نباشید					

نام خانوادگی :		نام :	
نام آموزشگاه :		نام خانوادگی :	
شماره‌ی داوطلب :		نام آموزشگاه :	
نوبت: خردادماه ۹۷		شماره‌ی داوطلب :	
« باسمه تعالی »		اداره کل آموزش و پرورش خراسان رضوی	
تاریخ امتحان : ۹۷/۰۳/۰۷		اداره سنجش آموزش و پرورش	
مدت امتحان : ۶۰ دقیقه		سوالات امتحان هماهنگ پایه نهم (متوسطه اول)	
ساعت شروع : ۱۰ صبح		درس : پیامهای آسمان	
تعداد صفحات: ۳		Sanjesh.razavi.medu.ir	
تعداد سوال: ۲۲			
ردیف	سؤال	بارم	
ایمان دو نیم است : نیمی صبر و نیمی شکر « پیامبر (ص) »			
دانش آموز عزیز : ضمن آرزوی موفقیت برای شما لطفاً با مطالعه دقیق ۲۲ سوال زیر ، پاسخ مناسب را در محل‌های تعیین شده بنویسید .			
۱-	بر اساس آیه « وَلَا تَهِنُوا وَلَا تَحْزَنُوا وَ أَنْتُمْ الْأَعْلَوْنَ إِنْ كُنْتُمْ مُؤْمِنِينَ » بالاترین ثمره انقلاب اسلامی ایران چیست؟	۰/۵	
پاسخ درست را با گذاشتن علامت × در داخل □ مشخص کنید .			
۲-	مریم با دیدن عظمت کوه، پی به توانایی خداوند برد. او از چه راهی به شناخت صفات خدا رسیده است؟ الف) اندیشه دانشمندان □ ب) تفکر در کتاب آسمانی □ ج) تفکر در خلقت □ د) ایمان □	۰/۵	
۳-	مؤثرترین روش در امر به معروف و نهی از منکر کدام گزینه است؟ الف) تذکر همراه با رفتار احترام آمیز □ ب) ترک محل و نشان دادن ناراحتی خود □ ج) روی برگرداندن و به سردی رفتار کردن □ د) عمل کردن خود به آنچه توصیه می کنیم □	۰/۵	
درست یا نادرست بودن جملات زیر را مشخص کنید .			
۴-	هدف اصلی دشمن از شبیخون فرهنگی، غارت ذخایر اقتصادی است.	۰/۵	درست □ نادرست □
۵-	صفاتی که از مخلوق بودن موجودات سرچشمه می گیرد، در خدای متعال نیست.	۰/۵	درست □ نادرست □
جملات زیر را با کلمات مناسب کامل کنید .			
۶-	حاکمان زورگویی که مردم ناتوان را زیر سلطه خود نگاه داشته و نمی گذارند پیام خدا به آنها برسد،..... نامیده می شوند.	۰/۵	
۷-	نمرود، حضرت(ع) را به خاطر دعوت به یکتاپرستی، به انداختن در آتش و تبعید از وطن تهدید می کرد.	۰/۵	
به سوالات زیر پاسخ کامل دهید .			
۸-	توضیح دهید چرا با اینکه از خوبی برخی کارها آگاهیم، اما آن کارها را انجام نمی دهیم؟	۱	
۹-	همنشین بد در روایات به چه تشبیه شده است؟	۰/۵	
۱۰-	سخن حضرت علی (ع) در مورد ارزش عفت و پاکدامنی را کامل کنید. « پاداش انسان عفیف و پاکدامنی که قدرت انجام گناه را دارد، ولی خود را آلوده نمی کند، »	۱	
۱۱-	سه مورد از آثار ترک امر به معروف و نهی از منکر را بنویسید.	۱/۵	
صفحه ۱		ادامه سؤالات در صفحه ۲	

ردیف	سؤال	بارم
<p>نام : اداره کل آموزش و پرورش خراسان رضوی نام خانوادگی : اداره سنجش آموزش و پرورش نام آموزشگاه : سوالات امتحان هماهنگ پایه نهم (متوسطه اول) شماره‌ی داوطلب : درس : پیامهای آسمان نوبت: خردادماه ۹۷ Sanjesh.razavi.medu.ir</p> <p>تاریخ امتحان : ۹۷/۰۳/۰۷ مدت امتحان : ۶۰ دقیقه ساعت شروع : ۱۰ صبح تعداد صفحات : ۳ تعداد سوال : ۲۲</p>		
۱۲-	<p>از میان عبارات های داخل جدول چهار نمونه از جنگ نرم علیه ملت ایران را بیابید و در محل مشخص شده بنویسید.</p> <p>ترویج بی عفتی - ایجاد تفرقه بین مردم و مسئولان - جنگ نظامی - کم اهمیت جلوه دادن پیشرفت های کشور - تحریم اقتصادی - تولید فیلم های ضد ایرانی - ترور و بمب گذاری</p> <p>۱- ۲- ۳- ۴-</p>	۱
۱۳-	<p>با توجه به عبارات های قرآنی پراکنده زیر، آیه مربوط به انفاق را کامل کنید.</p> <p>وَلَا خَوْفٌ عَلَيْهِمْ وَلَا هُمْ يَحْزَنُونَ سِرًّا وَعَلَانِيَةً فَلَهُمْ أَجْرُهُمْ عِنْدَ رَبِّهِمْ الَّذِينَ يُنْفِقُونَ أَمْوَالَهُمْ بِاللَّيْلِ وَالنَّهَارِ</p> <p>« الَّذِينَ يُنْفِقُونَ أَمْوَالَهُمْ » .</p>	۱
۱۴-	<p>میان روی در دوستی را در چه مواردی باید رعایت کرد؟ سه مورد</p>	۱/۵
۱۵-	<p>نوع جهاد را در نمونه های زیر مشخص کنید.</p> <p>مبارزه نظام اسلامی با گروهک تروریستی منافقین : نبرد سپاه اسلام با حکومت ایران در صدر اسلام: جهاد مردم فلسطین با اشغالگران صهیونیست:</p>	۱/۵
۱۶-	<p>کدام عبارت از ستون « ب » با عبارت ستون « الف » مرتبط است ؟ « یک عبارت از ستون « ب » اضافی است»</p> <p>« الف » ۱. کلید دست یافتن به وعده های بزرگ الهی ۲. توصیه یکدیگر به کار پسندیده ۳. گسترش انفاق در جامعه</p> <p>« ب » <input type="checkbox"/> ریشه کن شدن جرم های ناشی از فقر <input type="checkbox"/> ایمان و استقامت <input type="checkbox"/> دوری از عقاید باطل <input type="checkbox"/> امر به معروف</p>	۱/۵
<p>صفحه ۲</p>		<p>ادامه سؤالات در صفحه ۳</p>

نام خانوادگی : نام آموزشگاه : شماره‌ی داوطلب : نوبت: خردادماه ۹۷	« باسمه تعالی » اداره کل آموزش و پرورش خراسان رضوی اداره سنجش آموزش و پرورش سوالات امتحان هماهنگ پایه نهم (متوسطه اول) درس : پیامهای آسمان Sanjesh.razavi.medu.ir	تاریخ امتحان : ۹۷/۰۳/۰۷ مدت امتحان : ۶۰ دقیقه ساعت شروع : ۱۰ صبح تعداد صفحات: ۳ تعداد سوال: ۲۲
---	--	--

ردیف	سؤال	بارم
سوالات ویژه ی دانشی آموزان شیعه		
۱۷-	آیا بعد از شکست حاکمان ظالم و پیروزی امام زمان (ع)، جهان پایان می یابد و روز قیامت فرا می رسد؟	۱
۱۸-	ولی فقیه کیست و چه وظیفه ای دارد؟	۱
۱۹-	صحیح یا باطل بودن وضو را در نمونه های زیر مشخص کنید: الف) نجس بودن آب را فراموش کرده ایم و با آن وضو می گیریم. ب) بعد از مسح سر، ابتدا روی پای چپ سپس روی پای راست را مسح می کنیم. <input type="checkbox"/> باطل <input type="checkbox"/> صحیح <input type="checkbox"/> باطل <input type="checkbox"/> صحیح	۱
۲۰-	درستی یا نادرستی جملات زیر را مشخص کنید: الف) شک در دو رکعت اول نماز ظهر باعث باطل شدن نماز می گردد. ب) اگر نمازگزار در بین نماز یادش بیاید که وضو نگرفته، نمازش صحیح است. ج) به هم زدن حالت نماز باعث باطل شدن نماز می شود و فرقی بین عمدی و سهوی بودن این کار نیست. <input type="checkbox"/> درست <input type="checkbox"/> نادرست <input type="checkbox"/> درست <input type="checkbox"/> نادرست <input type="checkbox"/> درست <input type="checkbox"/> نادرست	۱/۵
۲۱-	منظور از زکات فطریه چیست؟	۱
۲۲-	من چیستم؟ یکی از انفاق های مستحب هستیم که انسان مالکیت بخشی از دارایی های خود را از اختیار خود خارج و استفاده از آن یا استفاده از درآمد آن را در اختیار دیگران قرار می دهد:	۰/۵

دانش آموزان عزیز و همکاران محترم می توانند با مراجعه به سایت مندرج در سربرگ، سوال و راهنمای تصحیح این درس را مشاهده نمایند.

موفق باشید		صفحه ۳	
جمع بارم ۲۰		جمع بارم ۲۰	
نام و نام خانوادگی مصحح/ دبیر	نمره نهایی پس از رسیدگی به اعتراضات	نام و نام خانوادگی مصحح/ دبیر	تصحیح و نمره گذاری
	با عدد		با عدد
	با حروف		با حروف
امضاء :		امضاء :	

نام : نام خانوادگی : نام آموزشگاه : شماره‌ی داوطلب : نوبت: خردادماه ۹۷		« باسمه تعالی » اداره کل آموزش و پرورش خراسان رضوی اداره سنجش آموزش و پرورش سوالات امتحان هماهنگ پایه نهم (متوسطه اول) درس : پیامهای آسمان (اهل سنت) Sanjesh.razavi.medu.ir	
تاریخ امتحان : ۹۷/۰۳/۰۷ مدت امتحان : ۶۰ دقیقه ساعت شروع : ۱۰ صبح تعداد صفحات: ۳ تعداد سوال: ۲۲			
ردیف	سؤال	بارم	
ایمان دو نیم است : نیمی صبر و نیمی شکر « پیامبر (ص) »			
دانش آموز عزیز : ضمن آرزوی موفقیت برای شما لطفاً با مطالعه دقیق ۲۲ سوال زیر ، پاسخ مناسب را در محل‌های تعیین شده بنویسید .			
۱-	بر اساس آیه « وَلَا تَهِنُوا وَلَا تَحْزَنُوا وَ أَنْتُمْ الْأَعْلَوْنَ إِنْ كُنْتُمْ مُؤْمِنِينَ » بالاترین ثمره انقلاب اسلامی ایران چیست؟	۰/۵	
پاسخ درست را با گذاشتن علامت × در داخل <input type="checkbox"/> مشخص کنید .			
۲-	مریم با دیدن عظمت کوه، پی به توانایی خداوند برد. او از چه راهی به شناخت صفات خدا رسیده است؟ (الف) اندیشه دانشمندان <input type="checkbox"/> (ب) تفکر در کتاب آسمانی <input type="checkbox"/> (ج) تفکر در خلقت <input type="checkbox"/> (د) ایمان <input type="checkbox"/>	۰/۵	
۳-	مؤثرترین روش در امر به معروف و نهی از منکر کدام گزینه است؟ (الف) تذکر همراه با رفتار احترام آمیز <input type="checkbox"/> (ب) ترک محل و نشان دادن ناراحتی خود <input type="checkbox"/> (ج) روی برگرداندن و به سردی رفتار کردن <input type="checkbox"/> (د) عمل کردن خود به آنچه توصیه می کنیم <input type="checkbox"/>	۰/۵	
درست یا نادرست بودن جملات زیر را مشخص کنید .			
۴-	هدف اصلی دشمن از شبیخون فرهنگی، غارت ذخایر اقتصادی است. <input type="checkbox"/> درست <input type="checkbox"/> نادرست	۰/۵	
۵-	صفاتی که از مخلوق بودن موجودات سرچشمه می گیرد، در خدای متعال <u>نیست</u> . <input type="checkbox"/> درست <input type="checkbox"/> نادرست	۰/۵	
جملات زیر را با کلمات مناسب کامل کنید .			
۶-	حاکمان زورگویی که مردم ناتوان را زیر سلطه خود نگاه داشته و نمی گذارند پیام خدا به آنها برسد،..... نامیده می شوند.	۰/۵	
۷-	نمرود، حضرت (ع) را به خاطر دعوت به یکتاپرستی، به انداختن در آتش و تبعید از وطن تهدید می کرد.	۰/۵	
به سوالات زیر پاسخ کامل دهید .			
۸-	توضیح دهید چرا با اینکه از خوبی برخی کارها آگاهیم، اما آن کارها را انجام نمی دهیم؟	۱	
۹-	همنشین بد در روایات به چه تشبیه شده است؟	۰/۵	
۱۰-	سخن حضرت علی (ع) در مورد ارزش عفت و پاکدامنی را کامل کنید. « پاداش انسان عفیف و پاکدامنی که قدرت انجام گناه را دارد، ولی خود را آلوده نمی کند، »	۱	
۱۱-	سه مورد از آثار ترک امر به معروف و نهی از منکر را بنویسید.	۱/۵	
صفحه ۱		ادامه سؤالات در صفحه ۲	

تاریخ امتحان: ۹۷/۰۳/۰۷ مدت امتحان: ۶۰ دقیقه ساعت شروع: ۱۰ صبح تعداد صفحات: ۳ تعداد سوال: ۲۲	« باسمه تعالی » اداره کل آموزش و پرورش خراسان رضوی اداره سنجش آموزش و پرورش سوالات امتحان هماهنگ پایه نهم (متوسطه اول) درس: پیامهای آسمان (اهل سنت) Sanjesh.razavi.medu.ir	نام: نام خانوادگی: نام آموزشگاه: شماره‌ی داوطلب: نوبت: خردادماه ۹۷
---	---	--

بارم	سؤال	ردیف
۱	<p>از میان عبارات های داخل جدول چهار نمونه از جنگ نرم علیه ملت ایران را بیابید و در محل مشخص شده بنویسید.</p> <div style="border: 1px solid black; padding: 5px; margin: 10px auto; width: 80%;"> <p>ترویج بی عفتی - ایجاد تفرقه بین مردم و مسئولان - جنگ نظامی - کم اهمیت جلوه دادن پیشرفت های کشور - تحریم اقتصادی - تولید فیلم های ضد ایرانی - ترور و بمب گذاری</p> </div> <p style="text-align: center;">..... ۱ - ۲ - ۳ - ۴ -</p>	۱۲-
۱	<p>با توجه به عبارات های قرآنی پراکنده زیر، آیه مربوط به انفاق را کامل کنید.</p> <div style="border: 1px solid black; padding: 10px; margin: 10px auto; width: 60%; text-align: center;"> <p>وَلَا خَوْفٌ عَلَيْهِمْ وَلَا هُمْ يَحْزَنُونَ سِرًّا وَعَلَانِيَةً فَلَهُمْ أَجْرُهُمْ عِنْدَ رَبِّهِمْ الَّذِينَ يُنْفِقُونَ أَمْوَالَهُمْ بِاللَّيْلِ وَالنَّهَارِ</p> </div> <p style="text-align: center;">« الَّذِينَ يُنْفِقُونَ أَمْوَالَهُمْ » .</p>	۱۳-
۱/۵	<p>میان روی در دوستی را در چه مواردی باید رعایت کرد؟ سه مورد</p>	۱۴-
۱/۵	<p>نوع جهاد را در نمونه های زیر مشخص کنید.</p> <p>مبارزه نظام اسلامی با گروهک تروریستی منافقین : نبرد سپاه اسلام با حکومت ایران در صدر اسلام: جهاد مردم فلسطین با اشغالگران صهیونیست:</p>	۱۵-
۱/۵	<p>کدام عبارت از ستون « ب » با عبارت ستون « الف » مرتبط است ؟ « یک عبارت از ستون « ب » اضافی است »</p> <div style="display: flex; justify-content: space-between;"> <div style="width: 45%;"> <p style="text-align: center;">« الف »</p> <p>۱. کلید دست یافتن به وعده های بزرگ الهی</p> <p>۲. توصیه یکدیگر به کار پسندیده</p> <p>۳. گسترش انفاق در جامعه</p> </div> <div style="width: 45%;"> <p style="text-align: center;">« ب »</p> <p><input type="checkbox"/> ریشه کن شدن جرم های ناشی از فقر</p> <p><input type="checkbox"/> ایمان و استقامت</p> <p><input type="checkbox"/> دوری از عقاید باطل</p> <p><input type="checkbox"/> امر به معروف</p> </div> </div>	۱۶-

نام : نام خانوادگی : نام آموزشگاه : شماره‌ی داوطلب : نوبت: خردادماه ۹۷	« باسمه تعالی » اداره کل آموزش و پرورش خراسان رضوی اداره سنجش آموزش و پرورش سوالات امتحان هماهنگ پایه نهم (متوسطه اول) درس : پیامهای آسمان (اهل سنت) Sanjesh.razavi.medu.ir	تاریخ امتحان : ۹۷/۰۳/۰۷ مدت امتحان : ۶۰ دقیقه ساعت شروع : ۱۰ صبح تعداد صفحات: ۳ تعداد سوال: ۲۲
--	--	--

ردیف	سؤال	بارم
سوالات ویژه ی دانش آموزان اهل سنت		
۱۷-	محیط خانوادگی عمر بن عبدالعزیز چگونه بود؟	۱
۱۸-	اهداف اصلی و اساسی حکومت اسلامی چیست؟ دو مورد	۱
۱۹-	فرض یا سنت بودن وضو را در موارد زیر مشخص کنید: الف) مسح یک چهارم سر. ب) مقدم داشتن راست بر چپ وقت شستن دست و پا. فرض <input type="checkbox"/> سنت <input type="checkbox"/> فرض <input type="checkbox"/> سنت <input type="checkbox"/>	۱
۲۰-	درستی یا نادرستی جملات زیر را مشخص کنید: الف) چرخاندن چشم به طرف آسمان و چپ و راست باعث باطل شدن نماز می گردد. ب) خنده عمدی که موجب ایجاد دو حرف شود، نماز را باطل می کند. درست <input type="checkbox"/> نادرست <input type="checkbox"/> درست <input type="checkbox"/> نادرست <input type="checkbox"/>	۱
۲۱-	از میان موارد داخل کادر، دارایی هایی که به آن زکات تعلق می گیرد را انتخاب و در محل مشخص شده بنویسید. <div style="border: 1px solid black; padding: 5px; width: fit-content; margin: 10px auto;"> گندم - برنج - شتر - نقره - اسب - انگور </div> ۱- ۲- ۳- ۴-	۱
۲۲-	منظور از صدقه چیست؟	۱

دانش آموزان عزیز و همکاران محترم می توانند با مراجعه به سایت مندرج در سربرگ، سوال و راهنمای تصحیح این درس را مشاهده نمایند.

جمع بارم		موفق باشید		صفحه ۳	
نام و نام خانوادگی مصحح/ دبیر	نمره نهایی پس از رسیدگی به اعتراضات	نام و نام خانوادگی مصحح/ دبیر	تصحیح و نمره گذاری	با عدد	با حروف
	با عدد	با عدد	با حروف		
امضاء:			امضاء:		

تاریخ امتحان ۹۷/۳/۰۷		باسمه تعالی	
اداره سنجش آموزش و پرورش		راهنمای تصحیح سؤالات امتحان هماهنگ پایه نهم (استان خراسان رضوی)	
		درس : پیام های آسمان (نوبت صبح) سال تحصیلی : ۹۷-۹۶ خردادماه	
۰/۵	۱- زنده شدن روحیه خودباوری و احساس عزت و بزرگی		
۰/۵	۲- (ج) تفکر در خلقت		
۰/۵	۳- (د) عمل کردن خود به آنچه توصیه می‌کنیم		
۰/۵	۴- نادرست		
۰/۵	۵- درست		
۰/۵	۶- هواداران شیطان		
۰/۵	۷- ابراهیم (ع)		
۱	۸- تنها شناخت و آگاهی از یک مطلب برای عمل به آن کافی نیست بلکه باید آن شناخت به مرحله ایمان برسد. یعنی به آنچه می‌دانیم، ایمان داشته باشیم. به عبارت دیگر علم و شناخت مانند چراغی است که راه را نشان می‌دهد اما داشتن چراغ به تنهایی انگیزه لازم برای حرکت در آن راه را در انسان ایجاد نمی‌کند. ایمان مشوق و محرک ما برای رفتن به سمت عمل است.		
۰/۵	۹- شمشیر زهرآلود - پاره ای از آتش - ترسناک تر از هر چیز « ذکر یک مورد کافیست »		
۱	۱۰- « پاداش انسان عفیف و پاکدامنی که قدرت انجام گناه را دارد، ولی خود را آلوده نمی‌کند، کمتر از پاداش مجاهد شهید در راه خدا نیست؛ انسان پاکدامن نزدیک است فرشته ای از فرشته ها شود.»		
۱/۵	۱۱- مردم نسبت به سرنوشت هم بی تفاوت می‌شوند. کارهای نادرست و ناپسند در جامعه رواج پیدا می‌کند. تعالیم دین در میان مردم فراموش می‌شود. « سایر موارد ذکر شده در کتاب درسی صحیح است.»		
۱	۱۲- ۱- ترویج بی عفتی ۲- ایجاد تفرقه بین مردم و مسئولان ۳- کم اهمیت جلوه دادن پیشرفت های کشور ۴- تولید فیلم های ضد ایرانی		
۱	۱۳- « الَّذِينَ يُنْفِقُونَ أَمْوَالَهُمْ بِاللَّيْلِ وَ النَّهَارِ سِرًّا وَ عَلَانِيَةً فَلَهُمْ أَجْرُهُمْ عِنْدَ رَبِّهِمْ وَ لَا خَوْفٌ عَلَيْهِمْ وَ لَا هُمْ يَحْزَنُونَ »		
۱/۵	۱۴- پرهیز از گفتن تمامی اسرار به دوست - نداشتن توقع بی جا از دوست - پرهیز از علاقه افراطی		
۱/۵	۱۵- مبارزه نظام اسلامی با گروهک تروریستی منافقین : جهاد با سرکشان یا جهاد دفاعی نبرد سپاه اسلام با حکومت ایران در صدر اسلام: جهاد ابتدایی جهاد مردم فلسطین با اشغالگران صهیونیست: جهاد دفاعی		
۱/۵	۱۶- ۱. کلید دست یافتن به وعده های بزرگ الهی : ایمان و استقامت ۲. توصیه یکدیگر به کار پسندیده : امر به معروف ۳. گسترش انفاق در جامعه : ریشه کن شدن جرم های ناشی از فقر		
سوالات ویژه ی دانش آموزان شیعه			
۱	۱۷- قیام امام برای این است که سرنوشت مردم در دست نیکوکاران و عدالت جویان قرار گیرد و مردم جهان پس از سال ها به خوشبختی و آرامش برسند. بنابراین اگر بلافاصله جهان به پایان برسد، آمدن ایشان چه سودی برای مردم خواهد داشت. در احادیث می‌خوانیم حکومت امام زمان (ع) سال ها ادامه خواهد داشت و پس از ایشان نیز صالحان دیگری اداره جهان را به دست خواهند گرفت.		
۱	۱۸- ولی فقیه، اسلام شناسی است دانا، شجاع، مدیر و مدبر که در هر زمان با در نظر گرفتن مصلحت جامعه اسلامی از تمام توان و امکانات برای پاسداری از دین و اجرای احکام الهی در جامعه استفاده می‌کند و نمی‌گذارد دشمنان اسلام با به خطر انداختن کشور اسلامی مانع اجرای دستورهای خدا شوند.		
۱	۱۹- الف) نجس بودن آب را فراموش کرده ایم و با آن وضو می‌گیریم. باطل ب) بعد از مسح سر، ابتدا روی پای چپ سپس روی پای راست را مسح می‌کنیم. باطل		

۱/۵	الف) شک در دو رکعت اول نماز ظهر باعث باطل شدن نماز می‌گردد. ب) اگر نمازگزار در بین نماز یادش بیاید که وضو نگرفته، نمازش صحیح است. ج) بر هم زدن حالت نماز باعث باطل شدن نماز می‌شود و فرقی بین عمدی و سهوی بودن این کار نیست. درست	۲۰-
۱	کسی که هنگام غروب شب عید فطر، بالغ و عاقل و هشیار باشد و فقیر هم نباشد، باید برای خود و کسانی که او هزینه زندگی آنان را می‌دهد، به ازای هر نفر سه کیلوگرم گندم یا جو یا برنج یا هر غذایی را که در طول ماه مبارک رمضان بیشتر از آن استفاده کرده است، به مستحق بدهد. البته اگر پول آنها را هم بدهد کفایت می‌کند.	۲۱-
۰/۵	وقف	۲۲-
پاسخنامه سوالات دانش آموزان اهل تسنن		
۱	عمرین عبدالعزیز با اینکه از زندگی مرفهی برخوردار بود اما از همان اول سال های عمرش به دین و آموختن آن بسیار علاقمند بود. به همین دلیل با اصرار فراوان از پدرش خواست که وی را برای فراگرفتن تعالیم دین به مدینه بفرستد، مدینه ای که بهترین و با تقواترین دانشمندان اسلامی را در خود جمع کرده بود.	۱۷-
۱	ایجاد عدالت اجتماعی و تامین رفاه عمومی انسان‌ها - استفاده از امکانات مادی و حکومتی برای فراگیر شدن واقعی عبادت خدا در جامعه در جنبه های فردی و اجتماعی	۱۸-
۱	الف - فرض ب - سنت	۱۹-
۱	الف - نادرست ب - درست	۲۰-
۱	گندم - شتر - نقره - انگور	۲۱-
۱	برای مسلمانان شایسته است به عنوان کمک به نیازمندان قسمتی از دارایی های خود را بپردازند. این بخشش صدقه نامیده می‌شود. صدقه از صدق گرفته شده است و به معنای راستی است. صدقه را می‌توان به موسسات خیریه داد تا آنها را به بهترین صورت به نیازمندان برسانند.	۲۲-

ردیف	سؤال	بارم
<p>نام : نام خانوادگی : نام آموزشگاه : شماره‌ی داوطلب : نوبت: خردادماه ۹۷</p> <p>« باسمه تعالی » اداره کل آموزش و پرورش خراسان رضوی اداره سنجش آموزش و پرورش سوالات امتحان هماهنگ پایه نهم (متوسطه اول) درس : پیامهای آسمان Sanjesh.razavi.medu.ir</p> <p>تاریخ امتحان : ۹۷/۰۳/۰۷ مدت امتحان : ۶۰ دقیقه ساعت شروع : ۱۳ (بعد از ظهر) تعداد صفحات : ۳ تعداد سوال : ۲۲</p>		
ایمان دو نیم است : نیمی صبر و نیمی شکر « پیامبر (ص) »		
دانش آموز عزیز : ضمن آرزوی موفقیت برای شما لطفاً با مطالعه دقیق ۲۲ سوال زیر ، پاسخ مناسب را در محل‌های تعیین شده بنویسید .		
۱-	بر اساس آیه « وَلَا يَزَالُونَ يُقَاتِلُونَكُمْ حَتَّى يَرُدَّوَكُمْ عَنْ دِينِكُمْ إِنِ اسْتَطَاعُوا » هدف اصلی دشمن از تحریم اقتصادی، جنگ نظامی و شیخون فرهنگی چیست؟	۰/۵
پاسخ درست را با گذاشتن علامت × در داخل <input type="checkbox"/> مشخص کنید .		
۲-	کدامیک از گزینه های زیر تسبیح خداوند است؟ الف) الحمدلله <input type="checkbox"/> ب) سبحان الله <input type="checkbox"/> ج) یا رب العالمین <input type="checkbox"/> د) یا رحمان یا رحیم <input type="checkbox"/>	۰/۵
۳-	نتیجه علاقه های افراطی در دوستی چیست؟ الف) اعتماد مطلق در دوستی <input type="checkbox"/> ب) اضطراب و پریشانی خاطر <input type="checkbox"/> ج) پایداری رابطه دوستی <input type="checkbox"/> د) احترام در محدوده ادب و اخلاق <input type="checkbox"/>	۰/۵
درست یا نادرست بودن جملات زیر را مشخص کنید .		
۴-	خطرناک ترین سلاح دشمن برای به زانو درآوردن ملت ایران بمب اتمی است. درست <input type="checkbox"/> نادرست <input type="checkbox"/>	۰/۵
۵-	شناخت کامل خدای نامحدود برای انسان امکان دارد. درست <input type="checkbox"/> نادرست <input type="checkbox"/>	۰/۵
جملات زیر را با کلمات مناسب کامل کنید .		
۶-	جهاد مردم یمن با حملات سعودی ها نوعی جهاد است .	۰/۵
۷-	به فرموده امام کاظم (ع) اگر را ترک کنیم، شرورترین افراد جامعه بر ما مسلط خواهند شد.	۰/۵
به سوالات زیر پاسخ کامل دهید .		
۸-	مهمترین دلیلی که باعث می شود انسان های مومن از آرامش روحی برخوردار باشند، چیست؟	۱
۹-	چگونه می توانید برای دوست خود خیر خواه باشید؟	۱
۱۰-	داشتن دوست خردمند و دوراندیش چه تاثیری در زندگی شما دارد؟	۱
۱۱-	دو مورد از ثمرات انقلاب اسلامی ایران را بنویسید.	۱
صفحه ۱		ادامه سؤالات در صفحه ۲

تاریخ امتحان : ۹۷/۰۳/۰۷ مدت امتحان : ۶۰ دقیقه ساعت شروع : ۱۳ (بعد از ظهر) تعداد صفحات : ۳ تعداد سوال : ۲۲	« باسمه تعالی » اداره کل آموزش و پرورش خراسان رضوی اداره سنجش آموزش و پرورش سوالات امتحان هماهنگ پایه نهم (متوسطه اول) درس : پیامهای آسمان Sanjesh.razavi.medu.ir	نام : نام خانوادگی : نام آموزشگاه : شماره ی داوطلب : نوبت : خردادماه ۹۷
---	--	---

بارم	سؤال	ردیف		
۱	اگر در جامعه اسلامی، عده ای به مبارزه با نظام اسلامی بپردازند و امنیت مردم را به خطر بیندازند، مسلمانان چه وظیفه ای دارند؟	۱۲-		
۱	خداوند در قرآن کریم مسلمانان را به کسب آمادگی برای دفاع سفارش کرده است. با توجه به عبارت های قرآنی پراکنده زیر این آیه را کامل کنید. <div style="border: 1px solid black; padding: 10px; margin: 10px auto; width: fit-content;"> <p style="text-align: center;"> مَا اسْتَطَعْتُمْ مِنْ قُوَّةٍ تُرْهِبُونَ بِهِ عَدُوَّ اللَّهِ وَاعِدُوا لَهُمْ وَمِنْ رِبَاطِ الْحَيْلِ وَعَدُّوْكُمْ </p> </div> <p style="text-align: center;">« وَاعِدُوا لَهُمْ »</p>	۱۳-		
۱	نتایج گسترش انفاق در جامعه چیست؟ دو مورد	۱۴-		
۱/۵	برای اینکه فرد خطاکار متوجه اشتباه یا گناهش شود، از چه شیوه هایی استفاده می کنید؟ سه مورد	۱۵-		
۲	کدام عبارت از ستون « ب » با عبارت ستون « الف » مرتبط است ؟ « یک عبارت از ستون « ب » اضافی است » <table style="width: 100%; border: none;"> <tr> <td style="width: 50%; border: none;"> <p style="text-align: center;">« الف »</p> <p>۱. آثار ایمان</p> <p>۲. نتیجه مراجعه به فال گیر</p> <p>۳. بهترین راه شناخت صفات خدا</p> <p>۴. ثمره انقلاب اسلامی</p> </td> <td style="width: 50%; border: none;"> <p style="text-align: center;">« ب »</p> <p><input type="checkbox"/> پیشرفت علم و فناوری</p> <p><input type="checkbox"/> رهایی از سردرگمی</p> <p><input type="checkbox"/> تفکر در کتاب آسمانی</p> <p><input type="checkbox"/> توجه به طبیعت</p> <p><input type="checkbox"/> از هم پاشیده شدن خانواده</p> </td> </tr> </table>	<p style="text-align: center;">« الف »</p> <p>۱. آثار ایمان</p> <p>۲. نتیجه مراجعه به فال گیر</p> <p>۳. بهترین راه شناخت صفات خدا</p> <p>۴. ثمره انقلاب اسلامی</p>	<p style="text-align: center;">« ب »</p> <p><input type="checkbox"/> پیشرفت علم و فناوری</p> <p><input type="checkbox"/> رهایی از سردرگمی</p> <p><input type="checkbox"/> تفکر در کتاب آسمانی</p> <p><input type="checkbox"/> توجه به طبیعت</p> <p><input type="checkbox"/> از هم پاشیده شدن خانواده</p>	۱۶-
<p style="text-align: center;">« الف »</p> <p>۱. آثار ایمان</p> <p>۲. نتیجه مراجعه به فال گیر</p> <p>۳. بهترین راه شناخت صفات خدا</p> <p>۴. ثمره انقلاب اسلامی</p>	<p style="text-align: center;">« ب »</p> <p><input type="checkbox"/> پیشرفت علم و فناوری</p> <p><input type="checkbox"/> رهایی از سردرگمی</p> <p><input type="checkbox"/> تفکر در کتاب آسمانی</p> <p><input type="checkbox"/> توجه به طبیعت</p> <p><input type="checkbox"/> از هم پاشیده شدن خانواده</p>			

نام خانوادگی:	نام:
نام آموزشگاه:	اداره کل آموزش و پرورش خراسان رضوی
شماره‌ی داوطلب:	اداره سنجش آموزش و پرورش
نوبت: خردادماه ۹۷	سوالات امتحان هماهنگ پایه نهم (متوسطه اول)
	درس: پیامهای آسمان
	Sanjesh.razavi.medu.ir
تاریخ امتحان: ۹۷/۰۳/۰۷	«باسمه تعالی»
مدت امتحان: ۶۰ دقیقه	
ساعت شروع: ۱۳ (ابعدازظهر)	
تعداد صفحات: ۳	
تعداد سوال: ۲۲	

ردیف	سؤال	بارم
------	------	------

سوالات ویژه‌ی دانش آموزان شیعه

۱۷-	چگونه می‌توان عمر طولانی حضرت مهدی (ع) را ممکن دانست؟ دو دلیل ذکر کنید.	۱
۱۸-	از نظر امام صادق (ع) فقیهانی که هدایت مردم را در زمان غیبت امام زمان (ع) برعهده دارند، باید دارای چه ویژگی‌هایی باشند؟ دو مورد	۱
۱۹-	واجب یا مستحب بودن وضو را در نمونه‌های زیر مشخص کنید. الف) زیارت حرم‌های امامان «علیهم السلام» ب) هنگام تلاوت قرآن. واجب <input type="checkbox"/> مستحب <input type="checkbox"/> واجب <input type="checkbox"/> مستحب <input type="checkbox"/>	۱
۲۰-	صحیح یا باطل بودن نماز هریک از نمونه‌های زیر را مشخص کنید. الف) نمازگزار بعد از نماز شک می‌کند که هنگام نماز، کاری که نماز را باطل می‌کند، انجام داده یا نه. صحیح <input type="checkbox"/> باطل <input type="checkbox"/> ب) نمازگزار سهواً دو رکوع به جا می‌آورد. صحیح <input type="checkbox"/> باطل <input type="checkbox"/>	۱
۲۱-	از میان موارد داخل کادر، دارایی‌هایی که به آن زکات تعلق می‌گیرد را بیاورد و در محل مشخص شده بنویسید. جو - برنج - گوسفند - روغن - طلا - کشمش ۱- ۲- ۳- ۴-	۱
۲۲-	وقف را تعریف کنید.	۱

دانش آموزان عزیز و همکاران محترم می‌توانند با مراجعه به سایت مندرج در سربرگ، سوال و راهنمای تصحیح این درس را مشاهده نمایند.

صفحه ۳		موفق باشید		جمع بارم ۲۰	
تصحیح و نمره‌گذاری		نام و نام خانوادگی مصحح/ دبیر		نمره نهایی پس از رسیدگی به اعتراضات	
با عدد	با حروف	با عدد	با حروف	با عدد	با حروف
امضاء:		امضاء:		امضاء:	

نام خانوادگی :		نام :	
نام آموزشگاه :		نام خانوادگی :	
شماره‌ی داوطلب :		نام آموزشگاه :	
نوبت: خرداد ۹۷		شماره‌ی داوطلب :	
تاریخ امتحان : ۹۷/۰۳/۰۷		« باسمه تعالی »	
مدت امتحان : ۶۰ دقیقه		اداره کل آموزش و پرورش خراسان رضوی	
ساعت شروع : ۱۳ (ابعد از ظهر)		اداره سنجش آموزش و پرورش	
تعداد صفحات : ۳		سوالات امتحان هماهنگ پایه نهم (متوسطه اول)	
تعداد سوال : ۲۲		درس : پیامهای آسمان (اهل سنت)	
		Sanjesh.razavi.medu.ir	
ردیف	سؤال	بارم	
ایمان دو نیم است : نیمی صبر و نیمی شکر « پیامبر (ص) »			
دانش آموز عزیز : ضمن آرزوی موفقیت برای شما لطفاً با مطالعه دقیق ۲۲ سوال زیر ، پاسخ مناسب را در محل‌های تعیین شده بنویسید .			
۱-	بر اساس آیه « وَلَا يَزَالُونَ يُقَاتِلُونَكُمْ حَتَّىٰ يَرُدُّوكُمْ عَنْ دِينِكُمْ إِنِ اسْتَطَاعُوا » هدف اصلی دشمن از تحریم اقتصادی، جنگ نظامی و شبیخون فرهنگی چیست؟	۰/۵	
پاسخ درست را با گذاشتن علامت × در داخل □ مشخص کنید .			
۲-	کدامیک از گزینه های زیر تسبیح خداوند است؟ الف) الحمدلله □ ب) سبحان الله □ ج) یا رب العالمین □ د) یا رحمان یا رحیم □	۰/۵	
۳-	نتیجه علاقه های افراطی در دوستی چیست؟ الف) اعتماد مطلق در دوستی □ ب) اضطراب و پریشانی خاطر □ ج) پایداری رابطه دوستی □ د) احترام در محدوده ادب و اخلاق □	۰/۵	
درست یا نادرست بودن جملات زیر را مشخص کنید .			
۴-	خطرناک ترین سلاح دشمن برای به زانو درآوردن ملت ایران بمب اتمی است.	درست □ نادرست □	۰/۵
۵-	شناخت کامل خدای نامحدود برای انسان امکان دارد.	درست □ نادرست □	۰/۵
جملات زیر را با کلمات مناسب کامل کنید .			
۶-	جهاد مردم یمن با حملات سعودی ها نوعی جهاد است .		۰/۵
۷-	به فرموده امام کاظم (ع) اگر را ترک کنیم، شرورترین افراد جامعه بر ما مسلط خواهند شد.		۰/۵
به سوالات زیر پاسخ کامل دهید .			
۸-	مهمترین دلیلی که باعث می شود انسان های مومن از آرامش روحی برخوردار باشند، چیست؟	۱	
۹-	چگونه می توانید برای دوست خود خیر خواه باشید؟	۱	
۱۰-	داشتن دوست خردمند و دوراندیش چه تاثیری در زندگی شما دارد؟	۱	
۱۱-	دو مورد از ثمرات انقلاب اسلامی ایران را بنویسید.	۱	
صفحه ۱		ادامه سؤالات در صفحه ۲	

تاریخ امتحان: ۹۷/۰۳/۰۷ مدت امتحان: ۶۰ دقیقه ساعت شروع: ۱۳ (بعد از ظهر) تعداد صفحات: ۳ تعداد سوال: ۲۲	« باسمه تعالی » اداره کل آموزش و پرورش خراسان رضوی اداره سنجش آموزش و پرورش سوالات امتحان هماهنگ پایه نهم (متوسطه اول) درس: پیامهای آسمان (اهل سنت) Sanjesh.razavi.medu.ir	نام: نام خانوادگی: نام آموزشگاه: شماره‌ی داوطلب: نوبت: خرداد ۹۷
--	---	---

ردیف	سؤال	بارم
۱۲-	اگر در جامعه اسلامی، عده ای به مبارزه با نظام اسلامی بپردازند و امنیت مردم را به خطر بیندازند، مسلمانان چه وظیفه ای دارند؟	۱
۱۳-	<p>خداوند در قرآن کریم مسلمانان را به کسب آمادگی برای دفاع سفارش کرده است. با توجه به عبارت های قرآنی پراکنده زیر این آیه را کامل کنید.</p> <div style="border: 1px solid black; padding: 10px; margin: 10px auto; width: fit-content;"> <p style="text-align: center;">مَا اسْتَطَعْتُمْ مِنْ قُوَّةٍ تُرْهِبُونَ بِهِ عَدُوَّ اللَّهِ وَاعِدُوا لَهُمْ وَمِنْ رِبَاطِ الْحَيْلِ وَاعِدُواكُمْ</p> </div> <p style="text-align: right;">« وَاعِدُوا لَهُمْ »</p>	۱
۱۴-	نتایج گسترش انفاق در جامعه چیست؟ دو مورد	۱
۱۵-	برای اینکه فرد خطاکار متوجه اشتباه یا گناهش شود، از چه شیوه هایی استفاده می کنید؟ سه مورد	۱/۵
۱۶-	<p>کدام عبارت از ستون « ب » با عبارت ستون « الف » مرتبط است؟ « یک عبارت از ستون « ب » اضافی است »</p> <div style="display: flex; justify-content: space-between;"> <div style="width: 45%;"> <p style="text-align: center;">« الف »</p> <p>۱. آثار ایمان</p> <p>۲. نتیجه مراجعه به فال گیر</p> <p>۳. بهترین راه شناخت صفات خدا</p> <p>۴. ثمره انقلاب اسلامی</p> </div> <div style="width: 45%;"> <p style="text-align: center;">« ب »</p> <p><input type="checkbox"/> پیشرفت علم و فناوری</p> <p><input type="checkbox"/> رهایی از سردرگمی</p> <p><input type="checkbox"/> تفکر در کتاب آسمانی</p> <p><input type="checkbox"/> توجه به طبیعت</p> <p><input type="checkbox"/> از هم پاشیده شدن خانواده</p> </div> </div>	۲

تاریخ امتحان ۹۷/۳/۰۷		باسمه تعالی
اداره سنجش آموزش و پرورش		راهنمای تصحیح سؤالات امتحان هماهنگ پایه نهم (استان خراسان رضوی)
		درس: پیام های آسمان (نوبت عصر) سال تحصیلی: ۹۷-۹۶ خردادماه
۰/۵	۱	۱- نابودی باورهای دینی مردم و دور کردن آنها از اسلام
۰/۵	۱	۲- (ب) سبحان الله
۰/۵	۱	۳- (ب) اضطراب و پریشانی خاطر
۰/۵	۱	۴- نادرست
۰/۵	۱	۵- نادرست
۰/۵	۱	۶- جهاد دفاعی
۰/۵	۱	۷- امر به معروف و نهی از منکر
۰/۵	۱	۸- خداوند دل و جان آدمی را به گونه ای آفریده که جز با یاد و نام او آرام نمی گیرد. وقتی انسان در این دنیا به هریک از خواسته های دنیایی که سال ها آرزویش را داشته است می رسد، پس از مدتی از آن دلزده می شود؛ زیرا هیچ خواسته ای نمی تواند جای خواسته واقعی قلب را که همان رسیدن به خداست، بگیرد.
۰/۵	۱	۹- دوستان واقعی، خیر یکدیگر را می خواهند. برای همین هر عیبی که از دوستان ببینند، پنهانی به او تذکر می دهند و دوستان را در برطرف کردن این عیوب یاری می کنند، گرچه در این میان ممکن است طرف مقابل متوجه خیرخواهی دوستش نباشد و از این کار ناراحت شود.
۰/۵	۱	۱۰- دوست خردمند ما را در گرفتن تصمیمات درست، کمک می کند و خطر قرار گرفتن در مسیرهای نامناسب را از ما دور می کند. چنین دوستی، بدون فکر و اندیشه راهی را پیش پای دوست خود نمی گذارد و اگر خودش نیز نتواند دوستش را راهنمایی کند، او را به سمت مشورت با افراد آگاه و مطلع سوق می دهد.
۰/۵	۱	۱۱- پیشرفت علم و فناوری - الگو گرفتن ملت های محروم از انقلاب اسلامی - زنده شدن روحیه خودباوری و احساس عزت و بزرگی « ذکر دو مورد کافیست »
۰/۵	۱	۱۲- مسلمانان موظفند با دستور حاکم اسلامی به جهاد و مقابله با این افراد برخیزند و خطر آنان را از جامعه اسلامی دور کنند.
۰/۵	۱	۱۳- « وَاعِدُوا لَهُمْ مَا اسْتَطَعْتُمْ مِنْ قُوَّةٍ وَ مِنْ رِبَاطِ الْحَيْلِ تُرْهِبُونَ بِهِ عَدُوَّ اللَّهِ وَ عَدُوَّكُمْ »
۰/۵	۱	۱۴- ثروت به دست نیازمندان نیز می رسد. فاصله طبقاتی میان ثروتمند و فقیر کمتر می شود. بخش زیادی از گناهان و جرم های ناشی از فقر از جامعه ریشه کن می شود و ... « ذکر دو مورد کافیست. »
۰/۵	۱	۱۵- روی خود را برگردانیم و با فرد خطاکار به سردی رفتار کنیم - گاهی با مهربانی و با برخورد خوب فرد خطاکار را متوجه اشتباهش کنیم - بعضی موارد نیز برای اینکه ناراحتی خود را نشان دهیم باید آنجا را ترک کنیم .
۰/۵	۲	۱۶- ۱. آثار ایمان : رهایی از سردرگمی ۲. نتیجه مراجعه به فال گیر: از هم پاشیده شدن خانواده ۳. بهترین راه شناخت صفات خدا : تفکر در کتاب آسمانی ۴. ثمره انقلاب اسلامی : پیشرفت علم و فناوری
سؤالات ویژه ی دانش آموزان شیعه		
۰/۵	۱	۱۷- با توجه به آیات قرآن کریم، داشتن عمر طولانی برای انسان غیر ممکن نیست. در قرآن مدت حضور حضرت نوح در میان قومش را ۹۵۰ سال ذکر کرده است. از نظر علمی نیز داشتن عمر طولانی ناممکن نیست، اگر کسی بتواند مسائل بهداشتی را رعایت کند، از عمر طولانی تری برخوردار خواهد بود. طولانی بودن عمر آن حضرت امری ممکن است، همان خدایی که آدم را از گل آفرید و آتش سوزنده را بر حضرت ابراهیم (ع) سرد کرد می تواند امام زمان را نیز تا امروز زنده نگه دارد. « ذکر دو دلیل کافیست »
۰/۵	۱	۱۸- پرهیزگار باشند - از دین خود محافظت می کنند - بر خلاف هوای نفس خود رفتار می کنند- مطیع دستور خداوند هستند. « ذکر دو مورد کافیست »

تاریخ امتحان ۹۷/۳/۰۷		باسمه تعالی	
اداره سنجش آموزش و پرورش		راهنمای تصحیح سؤالات امتحان هماهنگ پایه نهم (استان خراسان رضوی)	
		درس: پیام های آسمان (نوبت عصر) سال تحصیلی: ۹۶-۹۷ خردادماه	
۱		الف) مستحب (ب) مستحب	۱۹-
۱		الف) صحیح (ب) باطل	۲۰-
۱		جو - گوسفند - طلا - کشمش	۲۱-
۱	انسان در راه جلب رضایت خداوند مالکیت بخشی از اموال و دارایی هایش را از اختیار خود خارج کند و استفاده از آن یا استفاده از درآمد آن را در اختیار دیگران قرار دهد.		۲۲-
پاسخنامه سؤالات دانش آموزان اهل سنت			
۱	عمرین عبدالعزیز به آبادسازی شهرها و روستاهای قلمرو حکومتش پرداخت - ابتدا مسجدائینی را بازسازی و تعمیر کرد و دسته های سازندگی را به همه مناطق فرستاد.		۱۷-
۱	چون خداوند به تمامی حقایق عالم است، فقط او می تواند بشر را درست راهنمایی کند. قرآن اعلام می کند پیروی کردن از خواسته های فردی و سایر انسان ها در امور زندگی صحیح نیست و همه افراد وظیفه دارند از قوانین خداوند اطاعت کنند.		۱۸-
۱		الف- واجب (ب) مستحب	۱۹-
۱		الف- باطل (ب) صحیح	۲۰-
۱	در شریعت اسلامی به بخشش مقدار مشخصی از دارایی مومن به چند گروه از انسان ها که دین آنها را معین کرده است زکات می گویند. برای واجب شدن زکات شرایط مشخصی در نظر گرفته شده است.		۲۱-
۱	قرض دادن به دیگران کار باارزشی است اما کاری که از خود قرض دادن با ارزش تر است این است که در صورت ناتوانی فرد مقروض، قرض دهنده طلب خود را ببخشد. این کار را ابراء می گویند.		۲۲-
موفق باشید			

نام خانوادگی :		نام :	
نام آموزشگاه :		نام خانوادگی :	
شماره‌ی داوطلب :		نام آموزشگاه :	
نوبت: غایبین موجه خرداد		شماره‌ی داوطلب :	
تاریخ امتحان : ۹۷/۰۴/۱۱		« باسمه تعالی »	
مدت امتحان : ۶۰ دقیقه		اداره کل آموزش و پرورش خراسان رضوی	
ساعت شروع : ۳:۳۰ (۳۰:۱ بعد از ظهر)		اداره سنجش آموزش و پرورش	
تعداد صفحات: ۳		سوالات امتحان هماهنگ پایه نهم (متوسطه اول)	
تعداد سوال: ۲۲		درس : پیامهای آسمان	
		Sanjesh.razavi.medu.ir	
بارم	سؤال	ردیف	
ایمان دو نیم است : نیمی صبر و نیمی شکر « پیامبر (ص) »			
دانش آموز عزیز : ضمن آرزوی موفقیت برای شما لطفاً با مطالعه دقیق ۲۲ سوال زیر ، پاسخ مناسب را در محل‌های تعیین شده بنویسید .			
۱	از آیه « الَّذِينَ يُنْفِقُونَ أَمْوَالَهُمْ بِاللَّيْلِ وَالنَّهَارِ سِرًّا وَعَلَانِيَةً فَلَهُمْ أَجْرُهُمْ عِنْدَ رَبِّهِمْ وَلَا خَوْفٌ عَلَيْهِمْ وَلَا هُمْ يَحْزَنُونَ » چه پیامی دریافت می‌کنید؟	۱-	
پاسخ درست را با گذاشتن علامت × در داخل <input type="checkbox"/> مشخص کنید .			
۰/۵	با تدبر در آیه « إِنَّ اللَّهَ يُحِبُّ التَّوَّابِينَ » به کدام صفت خداوند پی می‌برید؟ الف) بسیار آمرزنده <input type="checkbox"/> ب) دوستدار توبه‌کنندگان <input type="checkbox"/> ج) شدید العقاب <input type="checkbox"/> د) دانای آشکار و نهان <input type="checkbox"/>	۲-	
۰/۵	راهکار جدید دشمن برای به زانو درآوردن ملت ایران چیست؟ الف) تحریم اقتصادی <input type="checkbox"/> ب) جنگ نظامی <input type="checkbox"/> ج) شبیخون فرهنگی <input type="checkbox"/> د) ترور و بمب گذاری <input type="checkbox"/>	۳-	
درست یا نادرست بودن جملات زیر را مشخص کنید .			
۰/۵	لازمه دوستی پایدار، فداکاری نسبت به دوست و برآورده کردن همه خواسته‌های اوست. <input type="checkbox"/> درست <input type="checkbox"/> نادرست	۴-	
۰/۵	میان عمل و ایمان رابطه دوسویه است و هر کدام دیگری را تقویت می‌کند. <input type="checkbox"/> درست <input type="checkbox"/> نادرست	۵-	
جملات زیر را با کلمات مناسب کامل کنید .			
۰/۵	حضرت (ع) علاوه بر دعوت فرعون به یکتاپرستی، خواستار آزادی بنی اسرائیل شد.	۶-	
۰/۵	جهاد مردم فلسطین با اشغالگران صهیونیست نوعی جهاد است.	۷-	
به سوالات زیر پاسخ کامل دهید .			
۱	حمد و تسبیح خداوند به چه معناست؟	۸-	
۱	اگر ایمان را در دل خود تقویت کنید چه آثاری در زندگیتان مشاهده خواهید کرد؟ دو مورد	۹-	
۰/۵	چرا پیامبران الهی در راه انجام دستورات خداوند استقامت فراوانی می‌کردند؟	۱۰-	
۱	چرا در روایات به دوری از دوستی با افراد نادان توصیه شده است؟	۱۱-	
ادامه سوالات در صفحه بعد		صفحه ۱	

بارم	سؤال	ردیف
۱/۵	<p>هریک از احادیث زیر به کدامیک از مفاهیمی که در داخل کادر بیان شده است، ارتباط دارد؟ « یک مورد اضافی است.»</p> <div style="border: 1px solid black; padding: 5px; text-align: center;"> <p>احترام به دوست - نداشتن توقع بیجا از دوست - خیرخواهی - تأثیرپذیری تدریجی از دوست</p> </div> <p>۱- محبوب‌ترین دوستانم نزد من کسی است که عیب‌های مرا به من هدیه دهد:</p> <p>۲- از دوستی با افراد فاسد بهره‌یز که وجودت ناخودآگاه، ناپاکی و بدی را از آنان می‌رباید، درحالی که تو از آن بی‌خبری:</p> <p>۳- به اتکای رابطه صمیمانه و دوستانه، حق برادرت را ضایع مکن، زیرا این عمل رابطه دوستی را از بین می‌برد:</p>	۱۲-
۱	<p>دو مورد از ثمرات انقلاب اسلامی ایران را بنویسید.</p>	۱۳-
۱/۵	<p>درستی یا نادرستی رفتار هر یک از نمونه‌های زیر را در ارتباط با شیوه امر به معروف و نهی از منکر، مشخص کنید.</p> <p>الف) حمید با شرکت در نماز جماعت مدرسه، دوستان خود را به انجام این کار تشویق می‌کند. <input type="checkbox"/> درست <input type="checkbox"/> نادرست</p> <p>ب) مینا اشتباه و خطاهای دوست خود را در مقابل دیگران بازگو می‌کند. <input type="checkbox"/> درست <input type="checkbox"/> نادرست</p> <p>ج) رضا با اینکه خود نسبت به پاکیزگی محیط زیست سهل‌انگاری می‌کند، اما به دیگران در این مورد تذکر می‌دهد. <input type="checkbox"/> درست <input type="checkbox"/> نادرست</p>	۱۴-
۱	<p>منظور از جهاد ابتدایی چیست؟</p>	۱۵-
۱/۵	<p>کدام عبارت از ستون « ب » با عبارت ستون « الف » مرتبط است؟ « یک عبارت از ستون « ب » اضافی است»</p> <p style="text-align: center;">« الف »</p> <p>۱. داشتن آمادگی نظامی</p> <p>۲. ترک امر به معروف و نهی از منکر</p> <p>۳. الگو قرار دادن انسان‌های مؤمن</p> <p style="text-align: center;">« ب »</p> <p><input type="checkbox"/> مستجاب نشدن دعا</p> <p><input type="checkbox"/> تقویت ایمان</p> <p><input type="checkbox"/> کم شدن فاصله طبقاتی ثروتمند و فقیر</p> <p><input type="checkbox"/> جلوگیری از آغاز جنگ</p>	۱۶-
ادامه سؤالات در صفحه بعد		صفحه ۲

« باسمه تعالی » اداره کل آموزش و پرورش خراسان رضوی اداره سنجش آموزش و پرورش سوالات امتحان هماهنگ پایه نهم (متوسطه اول) درس : پیامهای آسمان Sanjesh.razavi.medu.ir	نام : نام خانوادگی : نام آموزشگاه : شماره‌ی داوطلب : نوبت: غایبین موجه خرداد
تاریخ امتحان : ۹۷/۰۴/۱۱ مدت امتحان : ۶۰ دقیقه ساعت شروع : ۳:۳۰ (۳۰: بعد از ظهر) تعداد صفحات: ۳ تعداد سوال: ۲۲	

ردیف	سؤال	بارم
سوالات ویژه ی دانش آموزان شیعه		
۱۷-	با توجه به سخن امام رضا (ع) دو مورد از ویژگی‌های منتظران واقعی امام زمان (ع) را بنویسید.	۰/۵
۱۸-	به چه دلیلی امام مهدی (ع) به دستور خداوند از نظرها غایب شد؟ دو مورد	۱
۱۹-	دو مورد از مواردی که مکلف باید برای نماز تیمم کند را بنویسید.	۱
۲۰-	صحیح یا باطل بودن نماز را در نمونه‌های زیر مشخص کنید: الف) نمازگزار ذکر های نماز را با عجله می گوید طوری که تلفظ آنها صحیح نیست . ب) نمازگزار از روی فراموشی و بدون توجه بین نماز چیزی می گوید اما به خاطر آن دو سجده سهو به جا می آورد. ج) نمازگزار در نماز صبح شک می کند که در رکعت چندم نماز است.	۱/۵
۲۱-	زکات به چه چیزهایی تعلق می گیرد؟ چهار مورد	۱
۲۲-	انفاق مال در قالب قرض چه نتایج را به دنبال دارد؟ دو مورد	۱

دانش آموزان عزیز و همکاران محترم می توانند با مراجعه به سایت مندرج در سربرگ، سوال و راهنمای تصحیح این درس را مشاهده نمایند.

صفحه ۳	موفق باشید		جمع بارم ۲۰
تصحیح و نمره گذاری	نام و نام خانوادگی مصحح / دبیر		نام و نام خانوادگی مصحح / دبیر
با عدد	با حروف	نمره نهایی پس از رسیدگی به اعتراضات	نام و نام خانوادگی مصحح / دبیر
با عدد	با حروف	با عدد	با حروف
امضاء :	امضاء :	امضاء :	امضاء :

نام خانوادگی :		نام :	
نام آموزشگاه :		نام خانوادگی :	
شماره‌ی داوطلب :		نام آموزشگاه :	
نوبت: غایبین موجه خرداد		شماره‌ی داوطلب :	
« باسمه تعالی »		اداره کل آموزش و پرورش خراسان رضوی	
اداره سنجش آموزش و پرورش		اداره کل آموزش و پرورش خراسان رضوی	
سوالات امتحان هماهنگ پایه نهم (متوسطه اول)		اداره سنجش آموزش و پرورش	
درس : پیامهای آسمان (اهل سنت)		سوالات امتحان هماهنگ پایه نهم (متوسطه اول)	
Sanjesh.razavi.medu.ir		درس : پیامهای آسمان (اهل سنت)	
تاریخ امتحان : ۹۷/۰۴/۱۱		تعداد صفحات: ۳	
مدت امتحان : ۶۰ دقیقه		تعداد سوال: ۲۲	
ساعت شروع : ۱۳:۳۰ (۳۰: ابعاد زظهر)			
ردیف	سؤال	بارم	
ایمان دو نیم است : نیمی صبر و نیمی شکر « پیامبر (ص) »			
دانش آموز عزیز : ضمن آرزوی موفقیت برای شما لطفاً با مطالعه دقیق ۲۲ سوال زیر ، پاسخ مناسب را در محل‌های تعیین شده بنویسید .			
۱-	از آیه « الَّذِينَ يُنْفِقُونَ أَمْوَالَهُمْ بِاللَّيْلِ وَالنَّهَارِ سِرًّا وَعَلَانِيَةً فَلَهُمْ أَجْرُهُمْ عِنْدَ رَبِّهِمْ وَلَا خَوْفٌ عَلَيْهِمْ وَلَا هُمْ يَحْزَنُونَ » چه پیامی دریافت می‌کنید؟	۱	
پاسخ درست را با گذاشتن علامت × در داخل <input type="checkbox"/> مشخص کنید .			
۲-	با تدبر در آیه « إِنَّ اللَّهَ يُحِبُّ التَّوَّابِينَ » به کدام صفت خداوند پی می‌برید؟ الف) بسیار آمرزنده <input type="checkbox"/> ب) دوستدار توبه‌کنندگان <input type="checkbox"/> ج) شدید العقاب <input type="checkbox"/> د) دانای آشکار و نهان <input type="checkbox"/>	۰/۵	
۳-	راهکار جدید دشمن برای به زانو درآوردن ملت ایران چیست؟ الف) تحریم اقتصادی <input type="checkbox"/> ب) جنگ نظامی <input type="checkbox"/> ج) شبیخون فرهنگی <input type="checkbox"/> د) ترور و بمب گذاری <input type="checkbox"/>	۰/۵	
درست یا نادرست بودن جملات زیر را مشخص کنید .			
۴-	لازمه دوستی پایدار، فداکاری نسبت به دوست و برآورده کردن همه خواسته‌های اوست. درست <input type="checkbox"/> نادرست <input type="checkbox"/>	۰/۵	
۵-	میان عمل و ایمان رابطه دوسویه است و هر کدام دیگری را تقویت می‌کند. درست <input type="checkbox"/> نادرست <input type="checkbox"/>	۰/۵	
جملات زیر را با کلمات مناسب کامل کنید .			
۶-	حضرت (ع) علاوه بر دعوت فرعون به یکتاپرستی، خواستار آزادی بنی اسرائیل شد.	۰/۵	
۷-	جهاد مردم فلسطین با اشغالگران صهیونیست نوعی جهاد است.	۰/۵	
به سوالات زیر پاسخ کامل دهید .			
۸-	حمد و تسبیح خداوند به چه معناست؟	۱	
۹-	اگر ایمان را در دل خود تقویت کنید چه آثاری در زندگیتان مشاهده خواهید کرد؟ دو مورد	۱	
۱۰-	چرا پیامبران الهی در راه انجام دستورات خداوند استقامت فراوانی می‌کردند؟	۰/۵	
۱۱-	چرا در روایات به دوری از دوستی با افراد نادان توصیه شده است؟	۱	

<p>نام : نام خانوادگی : نام آموزشگاه : شماره‌ی داوطلب : نوبت: غایبین موجه خرداد</p>		<p>« باسمه تعالی » اداره کل آموزش و پرورش خراسان رضوی اداره سنجش آموزش و پرورش سوالات امتحان هماهنگ پایه نهم (متوسطه اول) درس : پیامهای آسمان (اهل سنت) Sanjesh.razavi.medu.ir</p>		<p>تاریخ امتحان : ۹۷/۰۴/۱۱ مدت امتحان : ۶۰ دقیقه ساعت شروع : ۳:۳۰ (۳۰: ابعاد زظهر) تعداد صفحات: ۳ تعداد سوال: ۲۲</p>	
ردیف	سؤال	بارم			
۱۲-	<p>هریک از احادیث زیر به کدامیک از مفاهیمی که در داخل کادر بیان شده است، ارتباط دارد؟ « یک مورد اضافی است.»</p> <div style="border: 1px solid black; padding: 5px; text-align: center;"> <p>احترام به دوست - نداشتن توقع بیجا از دوست - خیرخواهی - تأثیرپذیری تدریجی از دوست</p> </div> <p>۱- محبوب‌ترین دوستانم نزد من کسی است که عیب‌های مرا به من هدیه دهد:</p> <p>۲- از دوستی با افراد فاسد پرهیز که وجودت ناخودآگاه، ناپاکی و بدی را از آنان می‌رباید، درحالی که تو از آن بی‌خبری :</p> <p>۳- به اتکای رابطه صمیمانه و دوستانه، حق برادرت را ضایع مکن، زیرا این عمل رابطه دوستی را از بین می‌برد:</p>	۱/۵			
۱۳-	<p>دو مورد از ثمرات انقلاب اسلامی ایران را بنویسید.</p>	۱			
۱۴-	<p>درستی یا نادرستی رفتار هر یک از نمونه‌های زیر را در ارتباط با شیوه امر به معروف و نهی از منکر، مشخص کنید.</p> <p>الف) حمید با شرکت در نماز جماعت مدرسه، دوستان خود را به انجام این کار تشویق می‌کند. <input type="checkbox"/> درست <input type="checkbox"/> نادرست</p> <p>ب) مینا اشتباه و خطاهای دوست خود را در مقابل دیگران بازگو می‌کند. <input type="checkbox"/> درست <input type="checkbox"/> نادرست</p> <p>ج) رضا با اینکه خود نسبت به پاکیزگی محیط زیست سهل‌انگاری می‌کند، اما به دیگران در این مورد تذکر می‌دهد. <input type="checkbox"/> درست <input type="checkbox"/> نادرست</p>	۱/۵			
۱۵-	<p>منظور از جهاد ابتدایی چیست؟</p>	۱			
۱۶-	<p>کدام عبارت از ستون « ب » با عبارت ستون « الف » مرتبط است؟ « یک عبارت از ستون « ب » اضافی است»</p> <p style="text-align: center;">« الف »</p> <p>۱. داشتن آمادگی نظامی</p> <p>۲. ترک امر به معروف و نهی از منکر</p> <p>۳. الگو قرار دادن انسان‌های مؤمن</p> <p style="text-align: center;">« ب »</p> <p><input type="checkbox"/> مستجاب نشدن دعا</p> <p><input type="checkbox"/> تقویت ایمان</p> <p><input type="checkbox"/> کم شدن فاصله طبقاتی ثروتمند و فقیر</p> <p><input type="checkbox"/> جلوگیری از آغاز جنگ</p>	۱/۵			

<p>نام : نام خانوادگی : نام آموزشگاه : شماره‌ی داوطلب : نوبت: غایبین موجه خرداد</p>	<p>« باسمه تعالی » اداره کل آموزش و پرورش خراسان رضوی اداره سنجش آموزش و پرورش سوالات امتحان هماهنگ پایه نهم (متوسطه اول) درس : پیامهای آسمان (اهل سنت) Sanjesh.razavi.medu.ir</p>	<p>تاریخ امتحان : ۹۷/۰۴/۱۱ مدت امتحان : ۶۰ دقیقه ساعت شروع : ۱۳:۳۰ (۳۰ بعد از ظهر) تعداد صفحات: ۳ تعداد سوال: ۲۲</p>
---	--	--

ردیف	سؤال	بارم
سوالات ویژه ی دانش آموزان اهل سنت		
۱۷-	دو عامل مهمی که بر شخصیت ایمانی و عملی عمر بن عبدالعزیز تأثیر گذاشت، چه بود؟	۰/۵
۱۸-	حکومت اسلامی در مقابل تأمین نیازهای مادی و معنوی مردم و اجرای عدالت، از مردم چه انتظاراتی دارد؟ دو مورد	۱
۱۹-	دو مورد از مواردی که مکلف باید برای نماز تیمم کند را بنویسید.	۱
۲۰-	صحیح یا باطل بودن نماز را در نمونه‌های زیر مشخص کنید: الف) نمازگزار ذکر های نماز را با عجله می گوید طوری که تلفظ آنها صحیح نیست . ب) وضوی نمازگزار بعد از سلام اول باطل می گردد . ج) نمازگزار بین نماز یکی از ارکان نماز را به جا نمی آورد.	۱/۵
۲۱-	زکات به چه چیزهایی تعلق می گیرد؟ چهار مورد	۱
۲۲-	دو نمونه از صدقه جاریه را بنویسید.	۱

دانش آموزان عزیز و همکاران محترم می توانند با مراجعه به سایت مندرج در سربرگ، سوال و راهنمای تصحیح این درس را مشاهده نمایند.

صفحه ۳		موفق باشید		جمع بارم ۲۰	
تصحیح و نمره گذاری	نام و نام خانوادگی مصحح / دبیر	نمره نهایی پس از رسیدگی به اعتراضات	نام و نام خانوادگی مصحح / دبیر	نام و نام خانوادگی مصحح / دبیر	مصحح / دبیر
با عدد	با حروف	با عدد	با حروف	با عدد	با حروف
					امضاء :

تاریخ امتحان ۹۷/۰۴/۱۱		باسمه تعالی	
اداره سنجش آموزش و پرورش		راهنمای تصحیح سؤالات امتحان هماهنگ پایه نهم (استان خراسان رضوی)	
		سال تحصیلی: ۹۷-۹۶	
		غایبین موجه خردادماه	
		درس: پیام های آسمان	
۱	کسانی که اموال خود را انفاق می کنند در شب و روز به صورت پنهانی و آشکارا پاداششان نزد پروردگارشان است. نه ترسی دارند و نه غمگین می شوند. « اگر به مفهوم آیه اشاره شود کافی است »	۱	۱- کسانی که اموال خود را انفاق می کنند در شب و روز به صورت پنهانی و آشکارا پاداششان نزد پروردگارشان است. نه ترسی دارند و نه غمگین می شوند. « اگر به مفهوم آیه اشاره شود کافی است »
۰/۵	(ب) دوستدار توبه کنندگان	۱	۲- (ب) دوستدار توبه کنندگان
۰/۵	(ج) شیخون فرهنگی	۱	۳- (ج) شیخون فرهنگی
۰/۵	نادرست	۱	۴- نادرست
۰/۵	درست	۱	۵- درست
۰/۵	موسی (ع)	۱	۶- موسی (ع)
۰/۵	دفاعی	۱	۷- دفاعی
۱	حمد به معنای ستایش است یعنی وقتی می گوئیم « الحمد لله » می خواهیم بگوئیم هر ستایش برای خداست. در تسبیح وقتی می گوئیم « سبحان الله » ، می خواهیم بگوئیم که خداوند از هر عیب و نقصی منزّه است.	۱	۸- حمد به معنای ستایش است یعنی وقتی می گوئیم « الحمد لله » می خواهیم بگوئیم هر ستایش برای خداست. در تسبیح وقتی می گوئیم « سبحان الله » ، می خواهیم بگوئیم که خداوند از هر عیب و نقصی منزّه است.
۱	آرامش - رهایی از سردرگمی و بی هدفی	۱	۹- آرامش - رهایی از سردرگمی و بی هدفی
۰/۵	آنان اطمینان داشتند که استقامت و ایمان، کلید دست یافتن به وعده های بزرگ الهی است.	۱	۱۰- آنان اطمینان داشتند که استقامت و ایمان، کلید دست یافتن به وعده های بزرگ الهی است.
۱	افراد نادان کارهای خود را نه بر اساس فکر و اندیشه بلکه بر مبنای احساسات زودگذر انجام می دهند که ضررهای زیادی برای ما دارد. این افراد با دادن مشورت های غلط و نادرست به دوستان خود، زمینه های انحراف و لغزش آنان را فراهم می آورند.	۱	۱۱- افراد نادان کارهای خود را نه بر اساس فکر و اندیشه بلکه بر مبنای احساسات زودگذر انجام می دهند که ضررهای زیادی برای ما دارد. این افراد با دادن مشورت های غلط و نادرست به دوستان خود، زمینه های انحراف و لغزش آنان را فراهم می آورند.
۱/۵	۱ - خیرخواهی - ۲- تأثیرپذیری تدریجی از دوست ۳- احترام به دوست	۱/۵	۱۲- ۱ - خیرخواهی - ۲- تأثیرپذیری تدریجی از دوست ۳- احترام به دوست
۱	پیشرفت علم و فناوری - الگوگرفتن ملت های محروم برای رهایی از وابستگی - زنده شدن روحیه خودباوری و احساس عزت و بزرگی « ذکر دو مورد کافی است. »	۱	۱۳- پیشرفت علم و فناوری - الگوگرفتن ملت های محروم برای رهایی از وابستگی - زنده شدن روحیه خودباوری و احساس عزت و بزرگی « ذکر دو مورد کافی است. »
۱/۵	الف) درست ب) نادرست ج) نادرست	۱/۵	۱۴- الف) درست ب) نادرست ج) نادرست
۱	حاکمان زورگو و سرکشی را که مردم ناتوان را زیر سلطه خود نگاه داشته اند و نمی گذارند پیام خداوند به آنها برسد، هواداران شیطان می نامند. در این زمان لشکر اسلام موظف است به دستور پیامبر یا ولی امر مسلمین با حاکمان شیطانی جهاد کند و مردم را از اسارت آنها نجات دهد و پیام خدا را به آنها برساند.	۱	۱۵- حاکمان زورگو و سرکشی را که مردم ناتوان را زیر سلطه خود نگاه داشته اند و نمی گذارند پیام خداوند به آنها برسد، هواداران شیطان می نامند. در این زمان لشکر اسلام موظف است به دستور پیامبر یا ولی امر مسلمین با حاکمان شیطانی جهاد کند و مردم را از اسارت آنها نجات دهد و پیام خدا را به آنها برساند.
۱/۵	۱. داشتن آمادگی نظامی : جلوگیری از آغاز جنگ ۲. ترک امر به معروف و نهی از منکر : مستجاب نشدن دعا ۳. الگو قراردادن انسان های مؤمن : تقویت ایمان	۱/۵	۱۶- ۱. داشتن آمادگی نظامی : جلوگیری از آغاز جنگ ۲. ترک امر به معروف و نهی از منکر : مستجاب نشدن دعا ۳. الگو قراردادن انسان های مؤمن : تقویت ایمان
سوالات ویژه ی دانش آموزان شیعه			
۰/۵	صبربودن، خوش رفتاری، همسایه داری، ترویج کارهای نیک، خودداری از آزار و اذیت دیگران، گشاده رویی، خیرخواهی و مهربانی با مؤمنان « ذکر دو مورد کافی است »	۰/۵	۱۷- صبربودن، خوش رفتاری، همسایه داری، ترویج کارهای نیک، خودداری از آزار و اذیت دیگران، گشاده رویی، خیرخواهی و مهربانی با مؤمنان « ذکر دو مورد کافی است »
۱	از یک طرف حاکمان ظالم و زورگو به شدت امامان را تحت فشار قرار می دادند و فرصت هر اقدامی را از آنان می گرفتند و از سوی دیگر، مردم به دلیل ترس از حاکمان و دل بستن به دنیای زودگذر، وظایف خود را در حمایت و پیروی از امامان انجام نمی دادند.	۱	۱۸- از یک طرف حاکمان ظالم و زورگو به شدت امامان را تحت فشار قرار می دادند و فرصت هر اقدامی را از آنان می گرفتند و از سوی دیگر، مردم به دلیل ترس از حاکمان و دل بستن به دنیای زودگذر، وظایف خود را در حمایت و پیروی از امامان انجام نمی دادند.
۱	۱- آب در دسترس دارد، ولی غضبی، نجس یا خیلی گل آلود است. ۲- آب کمی در اختیار دارد که اگر با آن وضو بگیرد یا غسل کند، از تشنگی به سختی خواهد افتاد.	۱	۱۹- ۱- آب در دسترس دارد، ولی غضبی، نجس یا خیلی گل آلود است. ۲- آب کمی در اختیار دارد که اگر با آن وضو بگیرد یا غسل کند، از تشنگی به سختی خواهد افتاد.
۱/۵	الف) نمازگزار ذکر های نماز را با عجله می گوید طوری که تلفظ آنها صحیح نیست ب) نمازگزار از روی فراموشی و بدون توجه بین نماز چیزی می گوید اما به خاطر آن دو سجده سهو به جا می آورد. ج) نمازگزار در نماز صبح شک می کند که در رکعت چندم نماز است.	۱/۵	۲۰- الف) نمازگزار ذکر های نماز را با عجله می گوید طوری که تلفظ آنها صحیح نیست ب) نمازگزار از روی فراموشی و بدون توجه بین نماز چیزی می گوید اما به خاطر آن دو سجده سهو به جا می آورد. ج) نمازگزار در نماز صبح شک می کند که در رکعت چندم نماز است.
۱	گندم - جو - کشمش - خرما - شتر- گاو - گوسفند - طلا - نقره « ذکر چهارمورد کافی است. »	۱	۲۱- گندم - جو - کشمش - خرما - شتر- گاو - گوسفند - طلا - نقره « ذکر چهارمورد کافی است. »
۱	حفظ آبروی افراد - ایجاد فعالیت و کسب و کار	۱	۲۲- حفظ آبروی افراد - ایجاد فعالیت و کسب و کار
پاسخنامه سوالات دانش آموزان اهل تسنن			
۱	بهره مندی از استادانی مانند صالح بن کیسان و عبیدالله بن عبدالله - اجرای عدالت و درون پاک و تقوای ایشان	۱	۱۷- بهره مندی از استادانی مانند صالح بن کیسان و عبیدالله بن عبدالله - اجرای عدالت و درون پاک و تقوای ایشان
۱	از حکومت اطاعت کنند - نظم و امنیت را رعایت کنند و آن را برهم نزنند.	۱	۱۸- از حکومت اطاعت کنند - نظم و امنیت را رعایت کنند و آن را برهم نزنند.
۱	۱- در صورتی که انسان به آب دسترسی نداشته باشد و یا در موقعیتی است که ۲/۵ کیلومتر و یا بیشتر با آب فاصله دارد و رسیدن به آب برایش مشکل است. ۲- مصرف آب به علت سرمای غیر قابل تحمل و یا بیماری، برایش ضرر دارد.	۱	۱۹- ۱- در صورتی که انسان به آب دسترسی نداشته باشد و یا در موقعیتی است که ۲/۵ کیلومتر و یا بیشتر با آب فاصله دارد و رسیدن به آب برایش مشکل است. ۲- مصرف آب به علت سرمای غیر قابل تحمل و یا بیماری، برایش ضرر دارد.
۱	الف- باطل ب- صحیح ج- باطل	۱	۲۰- الف- باطل ب- صحیح ج- باطل
۱	گندم- جو - خرما- انگور- شتر- گاو - گوسفند - طلا- نقره و پول - دارایی های تجاری « ذکر دو مورد کافی است. »	۱	۲۱- گندم- جو - خرما- انگور- شتر- گاو - گوسفند - طلا- نقره و پول - دارایی های تجاری « ذکر دو مورد کافی است. »
۱	ساختن مسجد - ساختن مراکز علمی یا رفاهی و	۱	۲۲- ساختن مسجد - ساختن مراکز علمی یا رفاهی و
موفق باشید			

نام خانوادگی:	نام:
نام آموزشگاه:	اداره کل آموزش و پرورش خراسان رضوی
شماره‌ی داوطلب:	اداره سنجش آموزش و پرورش
نوبت: جبرانی مردادماه	سوالات امتحان هماهنگ پایه نهم (متوسطه اول)
	درس: پیامهای آسمان
	Sanjesh.razavi.medu.ir
تاریخ امتحان: ۹۷/۰۵/۰۹	«باسمه تعالی»
مدت امتحان: ۶۰ دقیقه	
ساعت شروع: ۹ صبح	
تعداد صفحات: ۳	
تعداد سوال: ۲۱	

ردیف	سؤال	بارم
ایمان دو نیم است: نیمی صبر و نیمی شکر « پیامبر (ص) »		
دانش آموز عزیز: ضمن آرزوی موفقیت برای شما لطفاً با مطالعه دقیق ۲۱ سوال زیر، پاسخ مناسب را در محل‌های تعیین شده بنویسید.		
۱-	بر اساس آیه « وَ يَوْمَ يَعْصِي الظَّالِمُ عَلَى يَدَيْهِ يَقُولُ يَا لَيْتَنِي اتَّخَذْتُ مَعَ الرَّسُولِ سَبِيلًا يَا وَيْلَتَى لَئِنِّي لَمَّ اتَّخَذْتُ فَلَانًا حَلِيلًا لَقَدْ أَضَلَّنِي عَنِ الذِّكْرِ بَعْدَ إِذْ جَاءَنِي » نتیجه انتخاب دوست با معیار نادرست چیست؟	۱
پاسخ درست را با گذاشتن علامت × در داخل <input type="checkbox"/> مشخص کنید.		
۲-	کدام یک از گزینه‌های زیر از راه‌های تقویت ایمان نیست؟ الف) یاد و ذکر خدا <input type="checkbox"/> ب) الگو گرفتن از انسان مؤمن <input type="checkbox"/> ج) رهایی از سردرگمی و پوچی <input type="checkbox"/> د) انجام نیکی و دوری از گناه <input type="checkbox"/>	۰/۵
۳-	کدام یک از گزینه‌های زیر از نمونه‌های جنگ نرم بر علیه ملت و فرهنگ ماست؟ الف) جنگ افروزی <input type="checkbox"/> ب) ترویج بی‌عفتی <input type="checkbox"/> ج) تحریم سیاسی <input type="checkbox"/> د) ایجاد وابستگی به ابرقدرت‌ها <input type="checkbox"/>	۰/۵
درست یا نادرست بودن جملات زیر را مشخص کنید.		
۴-	یکی از راه‌کارهای اسلام برای نجات مردم از فقر، انفاق است. درست <input type="checkbox"/> نادرست <input type="checkbox"/>	۰/۵
۵-	«حمد» یعنی خداوند از هر نقص و عیبی، منزّه است. درست <input type="checkbox"/> نادرست <input type="checkbox"/>	۰/۵
جملات زیر را با کلمات مناسب کامل کنید.		
۶-	حضرت (ع) بارها عموی خود آزر را به یکتاپرستی دعوت می‌کرد و او را به ترک پرستش بت‌ها فرا می‌خواند.	۰/۵
۷-	جهاد در زبان عربی به معنای است.	۰/۵
به سوالات زیر پاسخ کامل دهید.		
۸-	بر اساس سخن پیامبر اکرم(ص) که فرمودند «آن چنان که شایسته معرفت توست، تو را نشناختیم.» آیا می‌توان به شناخت کامل خداوند رسید؟ چرا؟	۱
۹-	عارف با این که از خوبی و فواید ورزش کردن آگاهی دارد اما در انجام آن سهل‌انگاری می‌کند. به نظر شما دلیل این کار چیست؟	۱
۱۰-	سه نمونه از ثمرات انقلاب اسلامی ایران را بنویسید.	۱/۵
صفحه ۱		ادامه سؤالات در صفحه بعد

تاریخ امتحان: ۹۷/۰۵/۰۹ مدت امتحان: ۶۰ دقیقه ساعت شروع: ۹ صبح تعداد صفحات: ۳ تعداد سوال: ۲۱	« باسمه تعالی » اداره کل آموزش و پرورش خراسان رضوی اداره سنجش آموزش و پرورش سوالات امتحان هماهنگ پایه نهم (متوسطه اول) درس: پیامهای آسمان Sanjesh.razavi.medu.ir	نام: نام خانوادگی: نام آموزشگاه: شماره‌ی داوطلب: نوبت: جبرانی مردادماه
--	---	--

بارم	سؤال	ردیف
۱/۵	سه مورد از ویژگی‌ها و معیارهای دوست خوب را بنویسید.	۱۱-
۱/۵	<p>هریک از عبارت‌های داده شده با کدام ویژگی پیامبران ارتباط دارد؟ «یک مورد اضافی است.»</p> <div style="border: 1px solid black; padding: 5px; margin: 10px 0;"> <p>تسلیم در برابر امر خداوند - دوری از گناه و اشتباه - استقامت و پایداری در راه خدا - مبارزه با عقاید باطل و خرافه</p> </div> <p>الف) پیامبران با هر اعتقادی که ریشه در دستورات خداوند ندارد، مبارزه می‌کنند. «</p> <p>ب) پیامبران با وجود مشکلات فراوان، با تمام توان و قدرت به راه خود ادامه می‌دادند. «</p> <p>ج) پیامبران به دستورات الهی به طور کامل عمل می‌کنند. «</p>	۱۲-
۱	با توجه به سخن حضرت علی (ع) جایگاه امر به معروف و نهی از منکر را در میان اعمال نیک بیان کنید.	۱۳-
۱/۵	<p>نوع جهاد را در نمونه‌های زیر مشخص کنید.</p> <p>الف) جنگ احزاب در صدر اسلام: «</p> <p>ب) جنگ حضرت علی (ع) با خوارج نهروان: «</p> <p>ج) نبرد سپاه اسلام با حکومت روم در صدر اسلام: «</p>	۱۴-
۱	<p>نتیجه هر یک از رفتارهای زیر را در یک جمله کوتاه بنویسید.</p> <p>الف) ترک فریضه امر به معروف و نهی از منکر در جامعه:</p> <p>ب) دل‌بستگی و علاقه افراطی در دوستی:</p>	۱۵-

نام خانوادگی:	نام و نام خانوادگی
نام آموزشگاه:	نام آموزشگاه
شماره‌ی داوطلب:	شماره‌ی داوطلب
نوبت: جبرانی مردادماه	نوبت: جبرانی مردادماه
نام:	نام
نام خانوادگی:	نام خانوادگی
نام آموزشگاه:	نام آموزشگاه
شماره‌ی داوطلب:	شماره‌ی داوطلب
نوبت: جبرانی مردادماه	نوبت: جبرانی مردادماه
نام:	نام
نام خانوادگی:	نام خانوادگی
نام آموزشگاه:	نام آموزشگاه
شماره‌ی داوطلب:	شماره‌ی داوطلب
نوبت: جبرانی مردادماه	نوبت: جبرانی مردادماه

« باسمه تعالی »

اداره کل آموزش و پرورش خراسان رضوی
 اداره سنجش آموزش و پرورش
 سوالات امتحان هماهنگ پایه نهم (متوسطه اول)
 درس: پیامهای آسمان
 Sanjesh.razavi.medu.ir

تاریخ امتحان: ۹۷/۰۵/۰۹
 مدت امتحان: ۶۰ دقیقه
 ساعت شروع: ۹ صبح
 تعداد صفحات: ۳
 تعداد سوال: ۲۱

ردیف	سؤال	بارم
سوالات ویژه ی دانش آموزان شیعه		
۱۶-	دوش شرط مهم از شرایط ظهور حضرت مهدی (ع) را بنویسید.	۱
۱۷-	چرا مردم باید از فتوای فقها پیروی کنند؟	۱
۱۸-	واجب یا مستحب بودن وضو را در نمونه های زیر مشخص کنید. الف) وقتی قصد داریم دستمان را به آیات قرآن بزنیم. ب) وقتی قصد داریم به زیارت اهل قبور برویم.	۱
	<input type="checkbox"/> واجب <input type="checkbox"/> مستحب <input type="checkbox"/> واجب <input type="checkbox"/> مستحب	
۱۹-	صحیح یا باطل بودن نماز را در نمونه های زیر مشخص کنید: الف) نماز گزار ذره های ریز غذا که در دهان دارد، در بین نماز فرو می برد. ب) نماز گزار سهواً روی خود را از قبله برمی گرداند.	۱
	<input type="checkbox"/> باطل <input type="checkbox"/> صحیح <input type="checkbox"/> باطل <input type="checkbox"/> صحیح	
۲۰-	خمس به چه کسی پرداخت می شود و در چه راههایی هزینه می شود؟ دو مورد	۱
۲۱-	دو نمونه از انفاق های مستحب را نام ببرید.	۱

دانش آموزان عزیز و همکاران محترم می توانند با مراجعه به سایت مندرج در سربرگ، سوال و راهنمای تصحیح این درس را مشاهده نمایند.

صفحه ۳		موفق باشید		جمع بارم ۲۰	
تصحیح و نمره گذاری	نام و نام خانوادگی مصحح / دبیر	نمره نهایی پس از رسیدگی به اعتراضات	نام و نام خانوادگی مصحح / دبیر	نام و نام خانوادگی مصحح / دبیر	امضاء:
با عدد	با حروف	با عدد	با حروف	با عدد	با حروف
	امضاء:		امضاء:		امضاء:

نام خانوادگی:	نام:
نام آموزشگاه:	اداره کل آموزش و پرورش خراسان رضوی
شماره‌ی داوطلب:	اداره سنجش آموزش و پرورش
نوبت: جبرانی مردادماه	سوالات امتحان هماهنگ پایه نهم (متوسطه اول)
	درس: پیامهای آسمان (اهل سنت)
	Sanjesh.razavi.medu.ir
تاریخ امتحان: ۹۷/۰۵/۰۹	«باسمه تعالی»
مدت امتحان: ۶۰ دقیقه	
ساعت شروع: ۹ صبح	
تعداد صفحات: ۳	
تعداد سوال: ۲۱	

ردیف	سؤال	بارم
ایمان دو نیم است: نیمی صبر و نیمی شکر « پیامبر (ص) »		
دانش آموز عزیز: ضمن آرزوی موفقیت برای شما لطفاً با مطالعه دقیق ۲۱ سوال زیر، پاسخ مناسب را در محل‌های تعیین شده بنویسید.		
۱-۱	بر اساس آیه « وَ يَوْمَ يَعْصِي الظَّالِمُ عَلَى يَدَيْهِ يَقُولُ يَا لَيْتَنِي اتَّخَذْتُ مَعَ الرَّسُولِ سَبِيلًا يَا وَيْلَتَى لَيْتَنِي لَمْ أَتَّخِذْ فُلَانًا خَلِيلًا لَقَدْ أَضَلَّنِي عَنِ الذِّكْرِ بَعْدَ إِذْ جَاءَنِي » نتیجه انتخاب دوست با معیار نادرست چیست؟	۱
پاسخ درست را با گذاشتن علامت × در داخل □ مشخص کنید.		
۲-۲	کدام یک از گزینه‌های زیر از راه‌های تقویت ایمان نیست؟ الف) یاد و ذکر خدا □ ب) الگو گرفتن از انسان مؤمن □ ج) رهایی از سردرگمی و پوچی □ د) انجام نیکی و دوری از گناه □	۰/۵
۳-۳	کدام یک از گزینه‌های زیر از نمونه‌های جنگ نرم بر علیه ملت و فرهنگ ماست؟ الف) جنگ افروزی □ ب) ترویج بی‌عفتی □ ج) تحریم سیاسی □ د) ایجاد وابستگی به ابرقدرت‌ها □	۰/۵
درست یا نادرست بودن جملات زیر را مشخص کنید.		
۴-۴	یکی از راه‌کارهای اسلام برای نجات مردم از فقر، انفاق است. درست □ نادرست □	۰/۵
۵-۵	«حمد» یعنی خداوند از هر نقص و عیبی، منزّه است. درست □ نادرست □	۰/۵
جملات زیر را با کلمات مناسب کامل کنید.		
۶-۶	حضرت (ع) بارها عموی خود آزر را به یکتاپرستی دعوت می‌کرد و او را به ترک پرستش بت‌ها فرا می‌خواند.	۰/۵
۷-۷	جهاد در زبان عربی به معنای است.	۰/۵
به سوالات زیر پاسخ کامل دهید.		
۸-۸	بر اساس سخن پیامبر اکرم(ص) که فرمودند «آن چنان که شایسته معرفت توست، تو را نشناختیم.» آیا می‌توان به شناخت کامل خداوند رسید؟ چرا؟	۱
۹-۹	عارف با این‌که از خوبی و فواید ورزش کردن آگاهی دارد اما در انجام آن سهل‌انگاری می‌کند. به نظر شما دلیل این کار چیست؟	۱
۱۰-۱۰	سه نمونه از ثمرات انقلاب اسلامی ایران را بنویسید.	۱/۵

تاریخ امتحان: ۹۷/۰۵/۰۹ مدت امتحان: ۶۰ دقیقه ساعت شروع: ۹ صبح تعداد صفحات: ۳ تعداد سوال: ۲۱	« باسمه تعالی » اداره کل آموزش و پرورش خراسان رضوی اداره سنجش آموزش و پرورش سوالات امتحان هماهنگ پایه نهم (متوسطه اول) درس: پیامهای آسمان (اهل سنت) Sanjesh.razavi.medu.ir	نام: نام خانوادگی: نام آموزشگاه: شماره‌ی داوطلب: نوبت: جبرانی مردادماه
--	---	--

بارم	سؤال	ردیف
۱/۵	سه مورد از ویژگی‌ها و معیارهای دوست خوب را بنویسید.	۱۱-
۱/۵	<p>هریک از عبارت‌های داده شده با کدام ویژگی پیامبران ارتباط دارد؟ «یک مورد اضافی است.»</p> <div style="border: 1px solid black; padding: 5px; margin: 10px 0;"> <p>تسلیم در برابر امر خداوند - دوری از گناه و اشتباه - استقامت و پایداری در راه خدا - مبارزه با عقاید باطل و خرافه</p> </div> <p>الف) پیامبران با هر اعتقادی که ریشه در دستورات خداوند ندارد، مبارزه می‌کنند. «</p> <p>ب) پیامبران با وجود مشکلات فراوان، با تمام توان و قدرت به راه خود ادامه می‌دادند. «</p> <p>ج) پیامبران به دستورات الهی به طور کامل عمل می‌کنند. «</p>	۱۲-
۱	با توجه به سخن حضرت علی (ع) جایگاه امر به معروف و نهی از منکر را در میان اعمال نیک بیان کنید.	۱۳-
۱/۵	<p>نوع جهاد را در نمونه‌های زیر مشخص کنید.</p> <p>الف) جنگ احزاب در صدر اسلام: «</p> <p>ب) جنگ حضرت علی (ع) با خوارج نهروان: «</p> <p>ج) نبرد سپاه اسلام با حکومت روم در صدر اسلام: «</p>	۱۴-
۱	<p>نتیجه هر یک از رفتارهای زیر را در یک جمله کوتاه بنویسید.</p> <p>الف) ترک فریضه امر به معروف و نهی از منکر در جامعه:</p> <p>ب) دلبستگی و علاقه افراطی در دوستی:</p>	۱۵-

نام خانوادگی:	نام و نام خانوادگی
نام آموزشگاه:	نام آموزشگاه
شماره‌ی داوطلب:	شماره‌ی داوطلب
نوبت: جبرانی مردادماه	نوبت: جبرانی مردادماه
نام:	نام خانوادگی
نام خانوادگی:	نام خانوادگی
نام آموزشگاه:	نام آموزشگاه
شماره‌ی داوطلب:	شماره‌ی داوطلب
نوبت: جبرانی مردادماه	نوبت: جبرانی مردادماه

« باسمه تعالی »

اداره کل آموزش و پرورش خراسان رضوی
 اداره سنجش آموزش و پرورش
 سوالات امتحان هماهنگ پایه نهم (متوسطه اول)
 درس: پیامهای آسمان (اهل سنت)
 Sanjesh.razavi.medu.ir

تاریخ امتحان: ۹۷/۰۵/۰۹
 مدت امتحان: ۶۰ دقیقه
 ساعت شروع: ۹ صبح
 تعداد صفحات: ۳
 تعداد سوال: ۲۱

ردیف	سؤال	بارم
سوالات ویژه ی دانش آموزان اهل سنت		
۱۶-	عمر بن عبدالعزیز در زمان حکومتش چه اقداماتی انجام داد؟ دو مورد	۱
۱۷-	اهداف اصلی و اساسی حکومت اسلامی چیست؟	۱
۱۸-	واجب یا مستحب بودن وضو را در نمونه های زیر مشخص کنید. الف) وقتی قصد داریم دستمان را به آیات قرآن بزنیم. ب) وقتی قصد داریم طواف کعبه را انجام دهیم.	۱
	<input type="checkbox"/> واجب <input type="checkbox"/> مستحب <input type="checkbox"/> واجب <input type="checkbox"/> مستحب	
۱۹-	صحیح یا باطل بودن نماز را در نمونه های زیر مشخص کنید: الف) مبالغه کردن در خم نمودن سر . ب) پشت به قبله کردن یا انحراف از آن.	۱
	<input type="checkbox"/> صحیح <input type="checkbox"/> باطل <input type="checkbox"/> صحیح <input type="checkbox"/> باطل	
۲۰-	شرایط واجب شدن زکات چیست؟	۱
۲۱-	دو نمونه از انفاق های مستحب را نام ببرید.	۱

دانش آموزان عزیز و همکاران محترم می‌توانند با مراجعه به سایت مندرج در سربرگ، سوال و راهنمای تصحیح این درس را مشاهده نمایند.

موفق باشید		صفحه ۳	
نام و نام خانوادگی مصحح/ دبیر	نمره نهایی پس از رسیدگی به اعتراضات	نام و نام خانوادگی مصحح/ دبیر	تصحیح و نمره گذاری
	با عدد		با عدد
	با حروف		با حروف
امضاء:		امضاء:	

تاریخ امتحان : ۱۳۹۷/۰۵/۰۹		به نام خدا	
اداره سنجش آموزش و پرورش		راهنمای تصحیح سؤالات امتحان هماهنگ پایه نهم (استان خراسان رضوی) سال تحصیلی ۹۷-۱۳۹۶ جبرانی مردادماه	
۱	افرادى كه براى انتخاب دوست به معيار هاى درست توجه نمى كنند در آخرت دچار حسرت و پشيمانى مى گردند . « ذكر ترجمه آيه نيز صحيح است.»	۱	-۱
۰/۵	(ج) رهايى از سردرگمى و پوچى	۰/۵	-۲
۰/۵	(ب) ترويج بى عفتى	۰/۵	-۳
۰/۵	درست	۰/۵	-۴
۰/۵	نادرست	۰/۵	-۵
۰/۵	ابراهيم (ع)	۰/۵	-۶
۰/۵	تلاش و كوشش	۰/۵	-۷
۱	خير، انسان به دليل توانايى محدود خود قدرت شناخت كامل خداى نامحدود را ندارد.	۱	-۸
۱	زيرا شناخت و آگاهى از يك مطلب به تنهائى براى عمل به آن كافى نيست و بايد شناخت به مرحله ايمان برسد تا محرک لازم براى عمل به وجود آيد.	۱	-۹
۱/۵	پيشرفت علم و فناورى، الگو گرفتن ملت هاى محروم از انقلاب اسلامى براى رهايى از وابستگى، زنده شدن روحيه خودباورى و احساس عزت و سربلندى	۱/۵	-۱۰
۱/۵	اهل فكر و اندیشه باشد، اهل گناه نباشد و از گناه ديگران نيز ناراحت شود، خير خواه باشد. « ذكر ويژگى هاى ديگر خارج از كتاب درسى نيز صحيح است.»	۱/۵	-۱۱
۱/۵	(الف) مبارزه با عقايد باطل و خرافه، (ب) استقامت و پايدارى در راه خدا، (ج) تسليم در برابر امر خدا	۱/۵	-۱۲
۱	همه كارهاى نيك و حتى جهاد در راه خدا، در مقايسه با امر به معروف و نهى از منكر، مانند قطره در برابر دريايى پهناور و عميق است.	۱	-۱۳
۱/۵	(الف) «دفاعى» (ب) «سركشان يا دفاعى» (ج) «ابتدايى»	۱/۵	-۱۴
۱	(الف) از بين رفتن رحمت و برکت از جامعه (ب) اضطراب و پريشانى خاطر « ذكر هر کدام از موارد موجود در كتاب صحيح است.»	۱	-۱۵
سوالات ويژه ي دانش آموزان شيعه			
۱	آمدگى مردم جهان براى همراهى با قيام امام - وجود ياران باوفايى كه تا پاى جان در راه اهداف و آرمان هاى امام بايستند.	۱	-۱۶
۱	فقيهان در سخنان و راهنمايى هايشان، پيرو سخنان معصومين هستند و در هر مسئله اى نظر پيامبر اکرم و امامان را براى مردم بازگو مى كنند. بنا بر اين پذيرفتن فتواى فقيهان كه برگرفته از قرآن و احاديث معصومين است در واقع پذيرفتن سخنان امامان است و مخالفت با فتواى فقهها، مخالفت با احاديث معصومين است.	۱	-۱۷
۱	(الف) واجب (ب) مستحب	۱	-۱۸
۱	(الف) صحيح (ب) باطل	۱	-۱۹
۱	خمس به حاكم اسلامى يا مرجع تقليد پرداخت مى شود و در راه هاى مانند آشنا كردن مردم با معارف دين، دفاع از كشور هاى اسلامى و تربيت دانشمندان علوم دينى، تأليف و توزيع كتاب هاى دينى و ... صرف مى گردد. « ذكر دو مورد كافى است. »	۱	-۲۰
۱	قرض - وقف	۱	-۲۱

تاریخ امتحان : ۱۳۹۷/۰۵/۰۹		به نام خدا	
اداره سنجش آموزش و پرورش		راهنمای تصحیح سؤالات امتحان هماهنگ پایه نهم (استان خراسان رضوی) درس: پیامهای آسمان سال تحصیلی ۹۷-۱۳۹۶ جبرانی مردادماه	
پاسخنامه سؤالات دانش آموزان اهل تسنن			
۱	۱۶-	آبادسازی شهرها و روستاهای قلمرو حکومتش - بازسازی و تعمیر مسجداًلنبی	
۱	۱۷-	ایجاد عدالت اجتماعی و تأمین رفاه عمومی انسان ها- استفاده از امکانات مادی و حکومتی برای فراگیر شدن عبادت خدا در جامعه در جنبه های فردی و اجتماعی	
۱	۱۸-	الف) واجب ب) واجب	
۱	۱۹-	الف- صحیح ب- باطل	
۱	۲۰-	هرگاه دارایی های فرد مسلمان به محدوده مشخصی برسد و یک سال قمری بر آن دارایی بگذرد، پرداخت زکات واجب می گردد.	
۱	۲۱-	صدقه - بخشیدن طلب یا قرض	
همکار محترم؛ خسته نباشید.			

بارم	سؤال	ردیف
<p>نام : نام خانوادگی : نام آموزشگاه : شماره‌ی داوطلب : نوبت: شهریور ماه</p> <p>« باسمه تعالی » اداره کل آموزش و پرورش خراسان رضوی اداره سنجش آموزش و پرورش سوالات امتحان هماهنگ پایه نهم (متوسطه اول) درس : پیامهای آسمان Sanjesh.razavi.medu.ir</p> <p>تاریخ امتحان : ۹۷/۰۶/۰۷ مدت امتحان : ۶۰ دقیقه ساعت شروع : ۹ صبح تعداد صفحات : ۳ تعداد سوال : ۲۲</p>		
ایمان دو نیم است : نیمی صبر و نیمی شکر « پیامبر (ص) »		
دانش آموز عزیز : ضمن آرزوی موفقیت برای شما لطفاً با مطالعه دقیق ۲۲ سوال زیر ، پاسخ مناسب را در محل‌های تعیین شده بنویسید .		
۱	بر اساس آیه «الَّذِينَ يُنْفِقُونَ أَمْوَالَهُمْ بِاللَّيْلِ وَالنَّهَارِ سِرًّا وَعَلَانِيَةً فَلَهُمْ أَجْرُهُمْ عِنْدَ رَبِّهِمْ وَلَا خَوْفٌ عَلَيْهِمْ وَلَا هُمْ يَحْزَنُونَ» خداوند به انسان چه سفارشی می‌کند؟	۱-
پاسخ درست را با گذاشتن علامت × در داخل <input type="checkbox"/> مشخص کنید .		
۰/۵	رفتار پیامبران الهی در مقابل عقاید خرافی و باطل مشرکان چگونه بود ؟ (الف) آنان را به حال خود رها می‌کردند <input type="checkbox"/> (ب) مشرکان را به اندیشه ورزی و تفکر دعوت می‌کردند <input type="checkbox"/> (ج) برای هدایت آنان دعا می‌کردند <input type="checkbox"/> (د) با ارائه معجزه پیامبری خود را ثابت می‌کردند <input type="checkbox"/>	۲-
۰/۵	از نظر حضرت علی (ع) دو دوست و برادر همراه کدامند؟ (الف) ایمان - شناخت <input type="checkbox"/> (ب) علم - عمل <input type="checkbox"/> (ج) ایمان - عمل <input type="checkbox"/> (د) اعتماد - عمل <input type="checkbox"/>	۳-
درست یا نادرست بودن جملات زیر را مشخص کنید .		
۰/۵	می‌توان هر صفتی را که در مخلوقات است؛ به خدا نسبت داد. <input type="checkbox"/> درست <input type="checkbox"/> نادرست	۴-
۰/۵	علاقه افراطی به دوست باعث صمیمیت بیشتر در دوستی می‌گردد. <input type="checkbox"/> درست <input type="checkbox"/> نادرست	۵-
جمله زیر را با کلمات مناسب کامل کنید .		
۰/۵	جهاد در فرهنگ اسلامی به معنای است.	۶-
۰/۵	بهترین راه برای شناخت صفات خداوند است.	۷-
به سوالات زیر پاسخ کامل دهید .		
۱	هدف خداوند از وضع قوانین و احکام اسلام چیست؟	۸-
۱	هریک از نمونه های زیر از چه راهی ایمان را در قلب خود تقویت کرده اند؟ (الف) مریم از جمع افرادی که مشغول غیبت کردن هستند، خارج می‌شود. « » (ب) علی در رعایت مساوات و عدالت از رفتار حضرت علی (ع) پیروی می‌کند. « »	۹-
۱	برای هر یک از جهاد های زیر یک نمونه بنویسید. (الف) جهاد دفاعی: « » (ب) جهاد ابتدایی: « »	۱۰-
ادامه سؤالات در صفحه بعد		صفحه ۱

<p>نام خانوادگی : نام آموزشگاه : شماره‌ی داوطلب : نوبت: شهریور ماه</p> <p>« باسمه تعالی » اداره کل آموزش و پرورش خراسان رضوی اداره سنجش آموزش و پرورش سوالات امتحان هماهنگ پایه نهم (متوسطه اول) درس : پیامهای آسمان Sanjesh.razavi.medu.ir</p>		
ردیف	سؤال	بارم
۱۱-	چه دوستانی در روایات به شمشیر زهرآلود تشبیه شده اند؟ توضیح دهید.	۱
۱۲-	افراد سرکش در مقابل دعوت پیامبران چگونه رفتار می‌کردند؟	۱
۱۳-	براساس سخن امام کاظم (ع) بین «امربه معروف و نهی از منکر» و «استجابت دعا» چه ارتباطی وجود دارد؟	۱
۱۴-	سه نمونه از اقدام ابرقدرت‌ها برای شکست جمهوری اسلامی ایران را بنویسید.	۱/۵
۱۵-	با توجه به عبارت‌های قرآنی داخل کادر، آیه و ترجمه آن را کامل کنید. « یک عبارت اضافی است.»	۱
<div style="border: 1px solid black; padding: 5px; width: fit-content; margin: 0 auto;"> <p>أَنْتُمْ الْأَعْلَوْنَ - لَا يَزَالُونَ - لَا تَحْزَنُوا - كُنْتُمْ مُؤْمِنِينَ</p> </div> <p>﴿ وَلَا تَهِنُوا وَ وَ إِنْ ﴾</p> <p>« و سست نشوید و غمگین نباشید زیرا که شما برترید اگر داشته باشید. »</p>		
۱۶-	نتیجه هر یک از رفتارهای زیر را از میان کلمات داده شده بیابید و مقابل آن بنویسید: « یک کلمه اضافی است.»	۱/۵
<div style="border: 1px solid black; padding: 5px; width: fit-content; margin: 0 auto;"> <p>ترساندن دشمن - حسرت و پشیمانی در آخرت - پیروزی همیشگی - آرامش روحی</p> </div> <p>الف) گوش سپردن به آیات قرآن :</p> <p>ب) مبارزه در راه خدا :</p> <p>ج) : انتخاب دوست نا مناسب:</p>		
<p>ادامه سؤالات در صفحه بعد</p>		<p>صفحه ۲</p>

نام خانوادگی :	نام : « باسمه تعالی »
نام آموزشگاه :	اداره کل آموزش و پرورش خراسان رضوی
شماره‌ی داوطلب :	اداره سنجش آموزش و پرورش
نوبت: شهریور ماه	سوالات امتحان هماهنگ پایه نهم (متوسطه اول)
	درس : پیامهای آسمان
	Sanjesh.razavi.medu.ir
تاریخ امتحان : ۹۷/۰۶/۰۷	
مدت امتحان : ۶۰ دقیقه	
ساعت شروع : ۹ صبح	
تعداد صفحات: ۳	
تعداد سوال: ۲۲	

ردیف	سؤال	بارم
------	------	------

سوالات ویژه‌ی دانش آموزان شیعه

۱۷-	خمس یکی از راه‌های تأمین نیازهای جامعه است که به پرداخت می‌شود.	۰/۵				
۱۸-	آیا می‌توان زمان دقیق ظهور امام زمان (ع) را معین کرد؟ توضیح دهید.	۱				
۱۹-	ولایت فقیه را تعریف کنید.	۱				
۲۰-	جدول زیر را کامل کنید.	۱				
<table border="1" style="width: 100%; text-align: center;"> <tr> <td>نمونه ای از آب مضاف</td> <td>نمونه ای از آب مطلق</td> </tr> <tr> <td>..... -۱</td> <td>..... -۱</td> </tr> </table>			نمونه ای از آب مضاف	نمونه ای از آب مطلق -۱ -۱
نمونه ای از آب مضاف	نمونه ای از آب مطلق					
..... -۱ -۱					
۲۱-	براساس سخن پیامبر(ص) دو نمونه از کارهایی را نام ببرید که پاداشی آن بعد از مرگ انسان قطع نمی‌شود.	۱				
۲۲-	درستی یا نادرستی جملات زیر مشخص کنید. الف) نمازگزار می‌تواند در حال نماز به دیگران هم سلام کند و هم جواب سلام را بدهد. درست <input type="checkbox"/> نادرست <input type="checkbox"/> ب) سخن گفتن از روی فراموشی نماز را باطل می‌کند. درست <input type="checkbox"/> نادرست <input type="checkbox"/> ج) شکستن نماز برای جلوگیری از ضرر مالی جایز است. درست <input type="checkbox"/> نادرست <input type="checkbox"/>	۱/۵				

دانش آموزان عزیز و همکاران محترم می‌توانند با مراجعه به سایت مندرج در سربرگ، سوال و راهنمای تصحیح این درس را مشاهده نمایند.

صفحه ۳		موفق باشید		جمع بارم ۲۰	
تصحیح و نمره گذاری	نام و نام خانوادگی مصحح/ دبیر	نمره نهایی پس از رسیدگی به اعتراضات	نام و نام خانوادگی مصحح/ دبیر	نام و نام خانوادگی مصحح/ دبیر	
با عدد	با حروف	با عدد	با حروف	با عدد	با حروف
	امضاء :		امضاء :		امضاء :

نام خانوادگی :		نام :	
نام آموزشگاه :		نام خانوادگی :	
شماره‌ی داوطلب :		نام آموزشگاه :	
نوبت: شهریور ماه		شماره‌ی داوطلب :	
تاریخ امتحان: ۹۷/۰۶/۰۷		« باسمه تعالی »	
مدت امتحان: ۶۰ دقیقه		اداره کل آموزش و پرورش خراسان رضوی	
ساعت شروع: ۹ صبح		اداره سنجش آموزش و پرورش	
تعداد صفحات: ۳		سوالات امتحان هماهنگ پایه نهم (متوسطه اول)	
تعداد سوال: ۲۲		درس: پیامهای آسمان (اهل سنت)	
		Sanjesh.razavi.medu.ir	
ردیف	سؤال	بارم	
ایمان دو نیم است: نیمی صبر و نیمی شکر « پیامبر (ص) »			
دانش آموز عزیز: ضمن آرزوی موفقیت برای شما لطفاً با مطالعه دقیق ۲۲ سوال زیر، پاسخ مناسب را در محل‌های تعیین شده بنویسید.			
۱-	بر اساس آیه «الَّذِينَ يُنْفِقُونَ أَمْوَالَهُمْ بِاللَّيْلِ وَالنَّهَارِ سِرًّا وَعَلَانِيَةً فَلَهُمْ أَجْرُهُمْ عِنْدَ رَبِّهِمْ وَلَا خَوْفٌ عَلَيْهِمْ وَلَا هُمْ يَحْزَنُونَ» خداوند به انسان چه سفارشی می‌کند؟	۱	
پاسخ درست را با گذاشتن علامت × در داخل <input type="checkbox"/> مشخص کنید.			
۲-	رفتار پیامبران الهی در مقابل عقاید خرافی و باطل مشرکان چگونه بود؟ الف) آنان را به حال خود رها می‌کردند <input type="checkbox"/> ب) مشرکان را به اندیشه ورزی و تفکر دعوت می‌کردند <input type="checkbox"/> ج) برای هدایت آنان دعا می‌کردند <input type="checkbox"/> د) با ارائه معجزه پیامبری خود را ثابت می‌کردند <input type="checkbox"/>	۰/۵	
۳-	از نظر حضرت علی (ع) دو دوست و برادر همراه کدامند؟ الف) ایمان - شناخت <input type="checkbox"/> ب) علم - عمل <input type="checkbox"/> ج) ایمان - عمل <input type="checkbox"/> د) اعتماد - عمل <input type="checkbox"/>	۰/۵	
درست یا نادرست بودن جملات زیر را مشخص کنید.			
۴-	می‌توان هر صفتی را که در مخلوقات است، به خدا نسبت داد.	درست <input type="checkbox"/> نادرست <input type="checkbox"/>	۰/۵
۵-	علاقه افراطی به دوست باعث صمیمیت بیشتر در دوستی می‌گردد.	درست <input type="checkbox"/> نادرست <input type="checkbox"/>	۰/۵
جمله زیر را با کلمات مناسب کامل کنید.			
۶-	جهاد در فرهنگ اسلامی به معنای است.		۰/۵
۷-	بهترین راه برای شناخت صفات خداوند است.		۰/۵
به سوالات زیر پاسخ کامل دهید.			
۸-	هدف خداوند از وضع قوانین و احکام اسلام چیست؟	۱	
۹-	هریک از نمونه‌های زیر از چه راهی ایمان را در قلب خود تقویت کرده‌اند؟ الف) مریم از جمع افرادی که مشغول غیبت کردن هستند، خارج می‌شود. «.....» ب) علی در رعایت مساوات و عدالت از رفتار حضرت علی (ع) پیروی می‌کند. «.....»	۱	
۱۰-	برای هر یک از جهاد‌های زیر یک نمونه بنویسید. الف) جهاد دفاعی: «.....» ب) جهاد ابتدایی: «.....»	۱	
ادامه سوالات در صفحه بعد			صفحه ۱

بارم	سؤال	ردیف
۱	چه دوستانی در روایات به شمشیر زهرآلود تشبیه شده اند؟ توضیح دهید.	۱۱-
۱	افراد سرکش در مقابل دعوت پیامبران چگونه رفتار می کردند؟	۱۲-
۱	براساس سخن امام کاظم (ع) بین «امربه معروف و نهی از منکر» و «استجابت دعا» چه ارتباطی وجود دارد؟	۱۳-
۱/۵	سه نمونه از اقدام ابرقدرت ها برای شکست جمهوری اسلامی ایران را بنویسید.	۱۴-
۱	با توجه به عبارتهای قرآنی داخل کادر، آیه و ترجمه آن را کامل کنید. « یک عبارت اضافی است.» <div style="border: 1px solid black; padding: 5px; text-align: center;"> <p>أَنْتُمْ الْأَعْلَوْنَ - لَا يَزَالُونَ - لَا تَحْزَنُوا - كُنْتُمْ مُؤْمِنِينَ</p> </div> <p>﴿وَلَا تَهِنُوا وَ..... وَ..... إِنَّ.....﴾ « و سست نشوید و غمگین نباشید زیرا که شما برترید اگر داشته باشید. »</p>	۱۵-
۱/۵	نتیجه هریک از رفتارهای زیر را از میان کلمات داده شده بیابید و مقابل آن بنویسید: « یک کلمه اضافی است.» <div style="border: 1px solid black; padding: 5px; text-align: center;"> <p>ترساندن دشمن - حسرت و پشیمانی در آخرت - پیروزی همیشگی - آرامش روحی</p> </div> <p>الف) گوش سپردن به آیات قرآن : ب) مبارزه در راه خدا : ج) : انتخاب دوست نا مناسب:</p>	۱۶-
ادامه سؤالات در صفحه بعد		صفحه ۲

نام : نام خانوادگی : نام آموزشگاه : شماره‌ی داوطلب : نوبت: شهریور ماه	« باسمه تعالی » اداره کل آموزش و پرورش خراسان رضوی اداره سنجش آموزش و پرورش سوالات امتحان هماهنگ پایه نهم (متوسطه اول) درس : پیامهای آسمان (اهل سنت) Sanjesh.razavi.medu.ir	تاریخ امتحان : ۹۷/۰۶/۰۷ مدت امتحان : ۶۰ دقیقه ساعت شروع : ۹ صبح تعداد صفحات : ۳ تعداد سوال : ۲۲
---	--	---

ردیف	سؤال	بارم
سوالات ویژه‌ی دانش آموزان اهل سنت		
۱۷-	عمرین عبدالعزیز (رحمة الله عليه) در اداره حکومت چه روشی داشت؟	۱
۱۸-	چرا انسان نمی تواند با پیروی کردن از خواسته های شخصی و یا نظر دیگرانسان ها، راه سعادت را پیدا کند؟	۱
۱۹-	سرفه عمدی هنگام نماز در چه وقتی جایز است ؟	۱
۲۰-	فرض یا سنت بودن را در موارد زیر برای وضو مشخص کنید . الف) شستن هر دو دست تا مرفق و آرنج ها ب) مسح کل سر فرض <input type="checkbox"/> سنت <input type="checkbox"/> فرض <input type="checkbox"/> سنت <input type="checkbox"/>	۱
۲۱-	براساس سخن پیامبر(ص) دو نمونه از کارهایی را نام ببرید که پاداش آن بعد از مرگ انسان قطع نمی شود.	۱
۲۲-	مهمترین چیزهایی که زکات به آنها تعلق می گیرد، کدام است؟ (چهار مورد)	۱

دانش آموزان عزیز و همکاران محترم می توانند با مراجعه به سایت مندرج در سربرگ، سوال و راهنمای تصحیح این درس را مشاهده نمایند.

صفحه ۳		موفق باشید		جمع بارم ۲۰	
تصحیح و نمره گذاری		نام و نام خانوادگی مصحح/ دبیر		نام و نام خانوادگی مصحح/ دبیر	
با عدد	با حروف	با عدد	با حروف	با عدد	با حروف
امضاء :		امضاء :		امضاء :	

تاریخ امتحان : ۱۳۹۷/۰۶/۰۷		به نام خدا					
اداره سنجش آموزش و پرورش		راهنمای تصحیح سؤالات امتحان هماهنگ پایه نهم (استان خراسان رضوی)					
		درس: پیامهای آسمان					
		سال تحصیلی ۹۷-۱۳۹۶					
		شهریورماه					
۱	۱	۱-۱	انفاق مال ، کسانی که در شب و روز ، نهانی آشکارا انفاق می کنند پاداششان نزد پروردگار است، نه ترسی دارند و نه غمگین می شوند.				
۰/۵		۱-۲	ب) مشرکان را به اندیشه ورزی و تفکر دعوت می کردند.				
۰/۵		۱-۳	ج) ایمان - عمل				
۰/۵		۱-۴	نادرست				
۰/۵		۱-۵	نادرست				
۰/۵		۱-۶	پیکار و جنگ مسلحانه				
۰/۵		۱-۷	تفکر در کتاب آسمانی/مراجعه به سخن خود او				
۱		۱-۸	خداوند این قوانین را برای هدایت انسان به سمت سعادت و خوشبختی و جلوگیری از گمراهی او قرار داده است.				
۱		۱-۹	الف) دوری از گناهان ب) الگوگرفتن از انسان های مومن				
۱		۱-۱۰	الف) جنگ احزاب در صدر اسلام « هر نوع مثالی که در کتاب در مورد جهاد دفاعی و جهاد با سرکشان آمده است، صحیح می باشد » ب) جنگ سپاه اسلام با حکومت روم در صدر اسلام . « هر مثالی که در کتاب آمده است، صحیح می باشد. »				
۱		۱-۱۱	دوستانی که به راحتی گناهان خود را تعریف می کنند و ما را در انجام آن یا همراهی با خود دعوت می کنند. آنها وقتی اشتباه یا گناهی مرتکب می شویم با خنده از کنار ما می گذرند و حتی ما را به ادامه کار تشویق می کنند.				
۱		۱-۱۲	پیامبران را دروغگو می نامیدند تا مردم پیرو آنان نشوند و اگر در نقشه خود موفق نمی شدند، به قتل پیامبران دست می زدند.				
۱		۱-۱۳	اگر امریه معروف و نهی از منکر را ترک کنیم در این صورت حتی اگر بهترین های ما دعا کنند، دیگر مستجاب نخواهد شد. « ذکر عین حدیث صحیح است. »				
۱/۵		۱-۱۴	محاصره اقتصادی - حمله نظامی - شیخون فرهنگی				
۱		۱-۱۵	«وَلَا تَهِنُوا وَلَا تَحْزِنُوا وَأَنْتُمْ الْأَعْلَوْنَ إِنْ كُنْتُمْ مُؤْمِنِينَ» « و سست نشوید و غمگین نباشید زیرا که شما برترید اگر ایمان داشته باشید. »				
۱/۵		۱-۱۶	الف) آرامش روحی ب) پیروزی همیشگی ج) حسرت و پشیمانی در آخرت				
سوالات ویژه ی دانش آموزان شیعه							
۰/۵		۱-۱۷	حاکم اسلامی یا مرجع تقلید				
۱		۱-۱۸	خیر، در احادیث می خوانیم هر کس برای آمدن ایشان وقتی را معین کند دروغگوست. بنابراین هیچ کس نمی تواند زمان دقیق قیام آن حضرت را مشخص سازد.				
۱		۱-۱۹	به رهبری و هدایت مردم جامعه توسط فقیه جامع الشرائط، ولایت فقیه می گویند.				
۱		۱-۲۰	« ذکر هر مورد از نمونه های کتاب درسی صحیح است. »				
			<table border="1" style="width: 100%; text-align: center;"> <tr> <td>نمونه ای از آب مضاف</td> <td>نمونه ای از آب مطلق</td> </tr> <tr> <td>۱- گلاب</td> <td>۱- آب لوله کشی</td> </tr> </table>	نمونه ای از آب مضاف	نمونه ای از آب مطلق	۱- گلاب	۱- آب لوله کشی
نمونه ای از آب مضاف	نمونه ای از آب مطلق						
۱- گلاب	۱- آب لوله کشی						
۱		۱-۲۱	تربیت فرزند صالح - صدقه جاریه (وقف) - علمی که از خود به یادگار گذاشته ایم. « ذکر دو مورد و همچنین مصداق و نمونه از موارد یاد شده و حتی خارج از کتاب درسی صحیح است. »				
۱/۵		۱-۲۲	الف) نادرست ب) نادرست ج) درست				
پاسخنامه سوالات دانش آموزان اهل تسنن							
۱		۱-۱۷	او ضمن دادن اختیار به عاملان و کارگزاران حکومتی به آنان می گفت که عدالت و عمل کردن به فرمان خدا مهم ترین کار آنها است و به آنها اعلام می کرد فقط در مسائل سخت و پیچیده حکومتی با وی مشورت کنند . او شبانه از خانه خارج می شد و ضمن گشت زنی در کوچه ها ، احوال مردم را با دقت مورد رسیدگی قرار می داد.				
۱		۱-۱۸	چون خداوند با تمامی حقایق عالم است و فقط او می تواند بشر را درست راهنمایی کند. قرآن اعلام می کند پیروی کردن از خواسته های فردی یا سایر انسان ها در امور زندگی صحیح نیست و همه افراد وظیفه دارند از قوانین خدا اطاعت کنند.				
۱		۱-۱۹	سرفه ای که به اجبار و برای صاف کردن گلو انجام شود اشکالی ندارد.				
۱		۱-۲۰	الف) فرض ب) سنت				
۱		۱-۲۱	تربیت فرزند صالح - صدقه جاریه (وقف) - علمی که از خود به یادگار گذاشته ایم. « ذکر دو مورد و همچنین مصداق و نمونه از موارد یاد شده و حتی خارج از کتاب درسی صحیح است. »				
۱		۱-۲۲	دانش آموز اگر به صورت کلی اشاره کند و یا اگر موردی مثلا گندم ، جو، خرما، انگور و ... را بنویسد صحیح است : محصولات زراعی یا میوه ها (گندم، جو، خرما، انگور) ۲- دام ها (شتر، گاو، گوسفند) ۳- نقدینه ها (طلا، نقره، ویا پول) ۴- دارایی های تجارتنی (چیزهایی که خرید و فروش می شوند).				
همکار محترم؛ خسته نباشید.							

نام خانوادگی :	نام : « باسمه تعالی »
نام آموزشگاه :	اداره کل آموزش و پرورش خراسان رضوی
شماره‌ی داوطلب :	اداره سنجش آموزش و پرورش
نوبت: خردادماه ۹۷	سوالات امتحان هماهنگ پایه نهم (متوسطه اول)
	درس : پیامهای آسمان
	Sanjesh.razavi.medu.ir
تاریخ امتحان : ۹۷/۰۳/۰۷	
مدت امتحان : ۶۰ دقیقه	
ساعت شروع : ۱۰ صبح	
تعداد صفحات: ۳	
تعداد سوال: ۲۲	

ردیف	سؤال	بارم
ایمان دو نیم است : نیمی صبر و نیمی شکر « پیامبر (ص) »		
دانش آموز عزیز : ضمن آرزوی موفقیت برای شما لطفاً با مطالعه دقیق ۲۲ سوال زیر ، پاسخ مناسب را در محل‌های تعیین شده بنویسید .		
۱-	بر اساس آیه « وَلَا تَهِنُوا وَلَا تَحْزَنُوا وَ أَنْتُمْ الْأَعْلَوْنَ إِنْ كُنْتُمْ مُؤْمِنِينَ » بالاترین ثمره انقلاب اسلامی ایران چیست؟	۰/۵
پاسخ درست را با گذاشتن علامت × در داخل □ مشخص کنید .		
۲-	مریم با دیدن عظمت کوه، پی به توانایی خداوند برد. او از چه راهی به شناخت صفات خدا رسیده است؟ الف) اندیشه دانشمندان □ ب) تفکر در کتاب آسمانی □ ج) تفکر در خلقت □ د) ایمان □	۰/۵
۳-	مؤثرترین روش در امر به معروف و نهی از منکر کدام گزینه است؟ الف) تذکر همراه با رفتار احترام آمیز □ ب) ترک محل و نشان دادن ناراحتی خود □ ج) روی برگرداندن و به سردی رفتار کردن □ د) عمل کردن خود به آنچه توصیه می کنیم □	۰/۵
درست یا نادرست بودن جملات زیر را مشخص کنید .		
۴-	هدف اصلی دشمن از شبیخون فرهنگی، غارت ذخایر اقتصادی است. درست □ نادرست □	۰/۵
۵-	صفاتی که از مخلوق بودن موجودات سرچشمه می گیرد، در خدای متعال نیست. درست □ نادرست □	۰/۵
جملات زیر را با کلمات مناسب کامل کنید .		
۶-	حاکمان زورگویی که مردم ناتوان را زیر سلطه خود نگاه داشته و نمی گذارند پیام خدا به آنها برسد،..... نامیده می شوند.	۰/۵
۷-	نمرود، حضرت(ع) را به خاطر دعوت به یکتاپرستی، به انداختن در آتش و تبعید از وطن تهدید می کرد.	۰/۵
به سوالات زیر پاسخ کامل دهید .		
۸-	توضیح دهید چرا با اینکه از خوبی برخی کارها آگاهیم، اما آن کارها را انجام نمی دهیم؟	۱
۹-	همنشین بد در روایات به چه تشبیه شده است؟	۰/۵
۱۰-	سخن حضرت علی (ع) در مورد ارزش عفت و پاکدامنی را کامل کنید. « پاداش انسان عفیف و پاکدامنی که قدرت انجام گناه را دارد، ولی خود را آلوده نمی کند، »	۱
۱۱-	سه مورد از آثار ترک امر به معروف و نهی از منکر را بنویسید.	۱/۵

تاریخ امتحان: ۹۷/۰۳/۰۷ مدت امتحان: ۶۰ دقیقه ساعت شروع: ۱۰ صبح تعداد صفحات: ۳ تعداد سوال: ۲۲	« باسمه تعالی » اداره کل آموزش و پرورش خراسان رضوی اداره سنجش آموزش و پرورش سوالات امتحان هماهنگ پایه نهم (متوسطه اول) درس: پیامهای آسمان Sanjesh.razavi.medu.ir	نام: نام خانوادگی: نام آموزشگاه: شماره‌ی داوطلب: نوبت: خردادماه ۹۷
---	---	--

بارم	سؤال	ردیف
۱	<p>از میان عبارات های داخل جدول چهار نمونه از جنگ نرم علیه ملت ایران را بیابید و در محل مشخص شده بنویسید.</p> <div style="border: 1px solid black; padding: 5px; margin: 10px auto; width: 80%;"> <p>ترویج بی عفتی - ایجاد تفرقه بین مردم و مسئولان - جنگ نظامی - کم اهمیت جلوه دادن پیشرفت های کشور - تحریم اقتصادی - تولید فیلم های ضد ایرانی - ترور و بمب گذاری</p> </div> <p style="text-align: center;">..... ۱ - ۲ - ۳ - ۴ -</p>	۱۲-
۱	<p>با توجه به عبارات های قرآنی پراکنده زیر، آیه مربوط به انفاق را کامل کنید.</p> <div style="border: 1px solid black; padding: 10px; margin: 10px auto; width: 60%; text-align: center;"> <p>وَلَا خَوْفٌ عَلَيْهِمْ وَلَا هُمْ يَحْزَنُونَ سِرًّا وَعَلَانِيَةً فَلَهُمْ أَجْرُهُمْ عِنْدَ رَبِّهِمْ الَّذِينَ يُنْفِقُونَ أَمْوَالَهُمْ بِاللَّيْلِ وَالنَّهَارِ</p> </div> <p style="text-align: center;">« الَّذِينَ يُنْفِقُونَ أَمْوَالَهُمْ » .</p>	۱۳-
۱/۵	<p>میان روی در دوستی را در چه مواردی باید رعایت کرد؟ سه مورد</p>	۱۴-
۱/۵	<p>نوع جهاد را در نمونه های زیر مشخص کنید.</p> <p>مبارزه نظام اسلامی با گروهک تروریستی منافقین : نبرد سپاه اسلام با حکومت ایران در صدر اسلام: جهاد مردم فلسطین با اشغالگران صهیونیست:</p>	۱۵-
۱/۵	<p>کدام عبارت از ستون « ب » با عبارت ستون « الف » مرتبط است ؟ « یک عبارت از ستون « ب » اضافی است»</p> <div style="display: flex; justify-content: space-between;"> <div style="width: 45%;"> <p style="text-align: center;">« الف »</p> <p>۱. کلید دست یافتن به وعده های بزرگ الهی</p> <p>۲. توصیه یکدیگر به کار پسندیده</p> <p>۳. گسترش انفاق در جامعه</p> </div> <div style="width: 45%;"> <p style="text-align: center;">« ب »</p> <p><input type="checkbox"/> ریشه کن شدن جرم های ناشی از فقر</p> <p><input type="checkbox"/> ایمان و استقامت</p> <p><input type="checkbox"/> دوری از عقاید باطل</p> <p><input type="checkbox"/> امر به معروف</p> </div> </div>	۱۶-
ادامه سؤالات در صفحه ۳		صفحه ۲

نام : نام خانوادگی : نام آموزشگاه : شماره‌ی داوطلب : نوبت: خردادماه ۹۷	« باسمه تعالی » اداره کل آموزش و پرورش خراسان رضوی اداره سنجش آموزش و پرورش سوالات امتحان هماهنگ پایه نهم (متوسطه اول) درس : پیامهای آسمان Sanjesh.razavi.medu.ir	تاریخ امتحان : ۹۷/۰۳/۰۷ مدت امتحان : ۶۰ دقیقه ساعت شروع : ۱۰ صبح تعداد صفحات: ۳ تعداد سوال: ۲۲
--	--	--

ردیف	سؤال	بارم
سوالات ویژه ی دانشی آموزان شیعه		
۱۷-	آیا بعد از شکست حاکمان ظالم و پیروزی امام زمان (ع)، جهان پایان می یابد و روز قیامت فرا می رسد؟	۱
۱۸-	ولی فقیه کیست و چه وظیفه ای دارد؟	۱
۱۹-	صحیح یا باطل بودن وضو را در نمونه های زیر مشخص کنید: الف) نجس بودن آب را فراموش کرده ایم و با آن وضو می گیریم. ب) بعد از مسح سر، ابتدا روی پای چپ سپس روی پای راست را مسح می کنیم. <input type="checkbox"/> باطل <input type="checkbox"/> صحیح <input type="checkbox"/> باطل <input type="checkbox"/> صحیح	۱
۲۰-	درستی یا نادرستی جملات زیر را مشخص کنید: الف) شک در دو رکعت اول نماز ظهر باعث باطل شدن نماز می گردد. ب) اگر نماز گزار در بین نماز یادش بیاید که وضو نگرفته، نمازش صحیح است. ج) به هم زدن حالت نماز باعث باطل شدن نماز می شود و فرقی بین عمدی و سهوی بودن این کار نیست. <input type="checkbox"/> درست <input type="checkbox"/> نادرست <input type="checkbox"/> درست <input type="checkbox"/> نادرست <input type="checkbox"/> درست <input type="checkbox"/> نادرست	۱/۵
۲۱-	منظور از زکات فطریه چیست؟	۱
۲۲-	من چیستم؟ یکی از انفاق های مستحب هستیم که انسان مالکیت بخشی از دارایی های خود را از اختیار خود خارج و استفاده از آن یا استفاده از درآمد آن را در اختیار دیگران قرار می دهد:	۰/۵

دانش آموزان عزیز و همکاران محترم می توانند با مراجعه به سایت مندرج در سربرگ، سوال و راهنمای تصحیح این درس را مشاهده نمایند.

موفق باشید		صفحه ۳	
جمع بارم ۲۰		جمع بارم ۲۰	
نام و نام خانوادگی مصحح/ دبیر	نمره نهایی پس از رسیدگی به اعتراضات	نام و نام خانوادگی مصحح/ دبیر	تصحیح و نمره گذاری
	با عدد		با عدد
	با حروف		با حروف
امضاء :		امضاء :	

نام خانوادگی :	اداره کل آموزش و پرورش خراسان رضوی
نام آموزشگاه :	اداره سنجش آموزش و پرورش
شماره‌ی داوطلب :	سوالات امتحان هماهنگ پایه نهم (متوسطه اول)
نوبت: خردادماه ۹۷	درس : پیامهای آسمان (اهل سنت) Sanjesh.razavi.medu.ir
تاریخ امتحان : ۹۷/۰۳/۰۷	« باسمه تعالی »
مدت امتحان : ۶۰ دقیقه	
ساعت شروع : ۱۰ صبح	
تعداد صفحات : ۳	
تعداد سوال : ۲۲	

ردیف	سؤال	بارم
ایمان دو نیم است : نیمی صبر و نیمی شکر « پیامبر (ص) »		
دانش آموز عزیز : ضمن آرزوی موفقیت برای شما لطفاً با مطالعه دقیق ۲۲ سوال زیر ، پاسخ مناسب را در محل‌های تعیین شده بنویسید .		
۱-	بر اساس آیه « وَلَا تَهِنُوا وَلَا تَحْزَنُوا وَ أَنْتُمْ الْأَعْلَوْنَ إِنْ كُنْتُمْ مُؤْمِنِينَ » بالاترین ثمره انقلاب اسلامی ایران چیست؟	۰/۵
پاسخ درست را با گذاشتن علامت × در داخل <input type="checkbox"/> مشخص کنید .		
۲-	مریم با دیدن عظمت کوه، پی به توانایی خداوند برد. او از چه راهی به شناخت صفات خدا رسیده است؟ (الف) اندیشه دانشمندان <input type="checkbox"/> (ب) تفکر در کتاب آسمانی <input type="checkbox"/> (ج) تفکر در خلقت <input type="checkbox"/> (د) ایمان <input type="checkbox"/>	۰/۵
۳-	مؤثرترین روش در امر به معروف و نهی از منکر کدام گزینه است؟ (الف) تذکر همراه با رفتار احترام آمیز <input type="checkbox"/> (ب) ترک محل و نشان دادن ناراحتی خود <input type="checkbox"/> (ج) روی برگرداندن و به سردی رفتار کردن <input type="checkbox"/> (د) عمل کردن خود به آنچه توصیه می کنیم <input type="checkbox"/>	۰/۵
درست یا نادرست بودن جملات زیر را مشخص کنید .		
۴-	هدف اصلی دشمن از شبیخون فرهنگی، غارت ذخایر اقتصادی است. درست <input type="checkbox"/> نادرست <input type="checkbox"/>	۰/۵
۵-	صفاتی که از مخلوق بودن موجودات سرچشمه می گیرد، در خدای متعال نیست. درست <input type="checkbox"/> نادرست <input type="checkbox"/>	۰/۵
جملات زیر را با کلمات مناسب کامل کنید .		
۶-	حاکمان زورگویی که مردم ناتوان را زیر سلطه خود نگاه داشته و نمی گذارند پیام خدا به آنها برسد،..... نامیده می شوند.	۰/۵
۷-	نمرود، حضرت (ع) را به خاطر دعوت به یکتاپرستی، به انداختن در آتش و تبعید از وطن تهدید می کرد.	۰/۵
به سوالات زیر پاسخ کامل دهید .		
۸-	توضیح دهید چرا با اینکه از خوبی برخی کارها آگاهیم، اما آن کارها را انجام نمی دهیم؟	۱
۹-	همنشین بد در روایات به چه تشبیه شده است؟	۰/۵
۱۰-	سخن حضرت علی (ع) در مورد ارزش عفت و پاکدامنی را کامل کنید. « پاداش انسان عفیف و پاکدامنی که قدرت انجام گناه را دارد، ولی خود را آلوده نمی کند، »	۱
۱۱-	سه مورد از آثار ترک امر به معروف و نهی از منکر را بنویسید.	۱/۵
ادامه سؤالات در صفحه ۲		صفحه ۱

تاریخ امتحان: ۹۷/۰۳/۰۷ مدت امتحان: ۶۰ دقیقه ساعت شروع: ۱۰ صبح تعداد صفحات: ۳ تعداد سوال: ۲۲	« باسمه تعالی » اداره کل آموزش و پرورش خراسان رضوی اداره سنجش آموزش و پرورش سوالات امتحان هماهنگ پایه نهم (متوسطه اول) درس: پیامهای آسمان (اهل سنت) Sanjesh.razavi.medu.ir	نام: نام خانوادگی: نام آموزشگاه: شماره‌ی داوطلب: نوبت: خردادماه ۹۷
---	---	--

بارم	سؤال	ردیف
۱	<p>از میان عبارات های داخل جدول چهار نمونه از جنگ نرم علیه ملت ایران را بیابید و در محل مشخص شده بنویسید.</p> <div style="border: 1px solid black; padding: 5px; margin: 10px auto; width: 80%;"> <p>ترویج بی عفتی - ایجاد تفرقه بین مردم و مسئولان - جنگ نظامی - کم اهمیت جلوه دادن پیشرفت های کشور - تحریم اقتصادی - تولید فیلم های ضد ایرانی - ترور و بمب گذاری</p> </div> <p style="text-align: center;"> ۱- ۲- ۳- ۴- </p>	۱۲-
۱	<p>با توجه به عبارات های قرآنی پراکنده زیر، آیه مربوط به انفاق را کامل کنید.</p> <div style="border: 1px solid black; padding: 10px; margin: 10px auto; width: 60%; text-align: center;"> <p>وَلَا خَوْفٌ عَلَيْهِمْ وَلَا هُمْ يَحْزَنُونَ سِرًّا وَعَلَانِيَةً فَلَهُمْ أَجْرُهُمْ عِنْدَ رَبِّهِمْ الَّذِينَ يُنْفِقُونَ أَمْوَالَهُمْ بِاللَّيْلِ وَالنَّهَارِ</p> </div> <p style="text-align: center;">« الَّذِينَ يُنْفِقُونَ أَمْوَالَهُمْ » .</p>	۱۳-
۱/۵	<p>میان روی در دوستی را در چه مواردی باید رعایت کرد؟ سه مورد</p>	۱۴-
۱/۵	<p>نوع جهاد را در نمونه های زیر مشخص کنید.</p> <p>مبارزه نظام اسلامی با گروهک تروریستی منافقین : نبرد سپاه اسلام با حکومت ایران در صدر اسلام: جهاد مردم فلسطین با اشغالگران صهیونیست:</p>	۱۵-
۱/۵	<p>کدام عبارت از ستون « ب » با عبارت ستون « الف » مرتبط است ؟ « یک عبارت از ستون « ب » اضافی است»</p> <div style="display: flex; justify-content: space-between;"> <div style="width: 45%;"> <p style="text-align: center;">« الف »</p> <p>۱. کلید دست یافتن به وعده های بزرگ الهی</p> <p>۲. توصیه یکدیگر به کار پسندیده</p> <p>۳. گسترش انفاق در جامعه</p> </div> <div style="width: 45%;"> <p style="text-align: center;">« ب »</p> <p><input type="checkbox"/> ریشه کن شدن جرم های ناشی از فقر</p> <p><input type="checkbox"/> ایمان و استقامت</p> <p><input type="checkbox"/> دوری از عقاید باطل</p> <p><input type="checkbox"/> امر به معروف</p> </div> </div>	۱۶-

نام : نام خانوادگی : نام آموزشگاه : شماره‌ی داوطلب : نوبت: خردادماه ۹۷	« باسمه تعالی » اداره کل آموزش و پرورش خراسان رضوی اداره سنجش آموزش و پرورش سوالات امتحان هماهنگ پایه نهم (متوسطه اول) درس : پیامهای آسمان (اهل سنت) Sanjesh.razavi.medu.ir	تاریخ امتحان : ۹۷/۰۳/۰۷ مدت امتحان : ۶۰ دقیقه ساعت شروع : ۱۰ صبح تعداد صفحات: ۳ تعداد سوال: ۲۲
--	--	--

ردیف	سؤال	بارم
سوالات ویژه ی دانش آموزان اهل سنت		
۱۷-	محیط خانوادگی عمر بن عبدالعزیز چگونه بود؟	۱
۱۸-	اهداف اصلی و اساسی حکومت اسلامی چیست؟ دو مورد	۱
۱۹-	فرض یا سنت بودن وضو را در موارد زیر مشخص کنید: الف) مسح یک چهارم سر. ب) مقدم داشتن راست بر چپ وقت شستن دست و پا. فرض <input type="checkbox"/> سنت <input type="checkbox"/> فرض <input type="checkbox"/> سنت <input type="checkbox"/>	۱
۲۰-	درستی یا نادرستی جملات زیر را مشخص کنید: الف) چرخاندن چشم به طرف آسمان و چپ و راست باعث باطل شدن نماز می گردد. ب) خنده عمدی که موجب ایجاد دو حرف شود، نماز را باطل می کند. درست <input type="checkbox"/> نادرست <input type="checkbox"/> درست <input type="checkbox"/> نادرست <input type="checkbox"/>	۱
۲۱-	از میان موارد داخل کادر، دارایی هایی که به آن زکات تعلق می گیرد را انتخاب و در محل مشخص شده بنویسید. گندم - برنج - شتر - نقره - اسب - انگور ۱- ۲- ۳- ۴-	۱
۲۲-	منظور از صدقه چیست؟	۱

دانش آموزان عزیز و همکاران محترم می توانند با مراجعه به سایت مندرج در سربرگ، سوال و راهنمای تصحیح این درس را مشاهده نمایند.

جمع بارم		موفق باشید		صفحه ۳	
نام و نام خانوادگی مصنخ/ دبیر	نمره نهایی پس از رسیدگی به اعتراضات	نام و نام خانوادگی مصنخ/ دبیر	تصحیح و نمره گذاری	با عدد	با حروف
	با عدد	با عدد	امضاء :	با عدد	با حروف
			امضاء :		

تاریخ امتحان ۹۷/۳/۰۷		باسمه تعالی	
اداره سنجش آموزش و پرورش		راهنمای تصحیح سؤالات امتحان هماهنگ پایه نهم (استان خراسان رضوی)	
		درس : پیام های آسمان (نوبت صبح) سال تحصیلی : ۹۷-۹۶ خردادماه	
۰/۵	زنده شدن روحیه خودباوری و احساس عزت و بزرگی	۱	
۰/۵	ج) تفکر در خلقت	۲	
۰/۵	د) عمل کردن خود به آنچه توصیه می‌کنیم	۳	
۰/۵	نادرست	۴	
۰/۵	درست	۵	
۰/۵	هوداران شیطان	۶	
۰/۵	ابراهیم (ع)	۷	
۱	تنها شناخت و آگاهی از یک مطلب برای عمل به آن کافی نیست بلکه باید آن شناخت به مرحله ایمان برسد. یعنی به آنچه می‌دانیم، ایمان داشته باشیم. به عبارت دیگر علم و شناخت مانند چراغی است که راه را نشان می‌دهد اما داشتن چراغ به تنهایی انگیزه لازم برای حرکت در آن راه را در انسان ایجاد نمی‌کند. ایمان مشوق و محرک ما برای رفتن به سمت عمل است.	۸	
۰/۵	شمشیر زهرآلود - پاره ای از آتش - ترسناک تر از هر چیز « ذکر یک مورد کافیست »	۹	
۱	« پاداش انسان عقیق و پاکدامنی که قدرت انجام گناه را دارد، ولی خود را آلوده نمی‌کند، کمتر از پاداش مجاهد شهید در راه خدا نیست؛ انسان پاکدامن نزدیک است فرشته ای از فرشته ها شود.»	۱۰	
۱/۵	مردم نسبت به سرنوشت هم بی تفاوت می‌شوند. کارهای نادرست و ناپسند در جامعه رواج پیدا می‌کند. تعالیم دین در میان مردم فراموش می‌شود. « سایر موارد ذکر شده در کتاب درسی صحیح است.»	۱۱	
۱	۱- ترویج بی عفتی ۲- ایجاد تفرقه بین مردم و مسئولان ۳- کم اهمیت جلوه دادن پیشرفت های کشور ۴- تولید فیلم های ضد ایرانی	۱۲	
۱	« الَّذِينَ يُنْفِقُونَ أَمْوَالَهُمْ بِاللَّيْلِ وَ النَّهَارِ سِرًّا وَ عَلَانِيَةً فَلَهُمْ أَجْرُهُمْ عِنْدَ رَبِّهِمْ وَ لَا خَوْفٌ عَلَيْهِمْ وَ لَا هُمْ يَحْزَنُونَ »	۱۳	
۱/۵	پرهیز از گفتن تمامی اسرار به دوست - نداشتن توقع بی جا از دوست - پرهیز از علاقه افراطی	۱۴	
۱/۵	مبارزه نظام اسلامی با گروهک تروریستی منافقین : جهاد با سرکشان یا جهاد دفاعی نبرد سپاه اسلام با حکومت ایران در صدر اسلام: جهاد ابتدایی جهاد مردم فلسطین با اشغالگران صهیونیست: جهاد دفاعی	۱۵	
۱/۵	۱. کلید دست یافتن به وعده های بزرگ الهی : ایمان و استقامت ۲. توصیه یکدیگر به کار پسندیده : امر به معروف ۳. گسترش انفاق در جامعه : ریشه کن شدن جرم های ناشی از فقر	۱۶	
سوالات ویژه ی دانش آموزان شیعه			
۱	قیام امام برای این است که سرنوشت مردم در دست نیکوکاران و عدالت جویان قرار گیرد و مردم جهان پس از سال ها به خوشبختی و آرامش برسند. بنابراین اگر بلافاصله جهان به پایان برسد، آمدن ایشان چه سودی برای مردم خواهد داشت. در احادیث می‌خوانیم حکومت امام زمان (ع) سال ها ادامه خواهد داشت و پس از ایشان نیز صالحان دیگری اداره جهان را به دست خواهند گرفت.	۱۷	
۱	ولی فقیه، اسلام شناسی است دانا، شجاع، مدیر و مدبر که در هر زمان با در نظر گرفتن مصلحت جامعه اسلامی از تمام توان و امکانات برای پاسداری از دین و اجرای احکام الهی در جامعه استفاده می کند و نمی‌گذارد دشمنان اسلام با به خطر انداختن کشور اسلامی مانع اجرای دستورهای خدا شوند.	۱۸	
۱	الف) نجس بودن آب را فراموش کرده ایم و با آن وضو می‌گیریم. ب) بعد از مسح سر، ابتدا روی پای چپ سپس روی پای راست را مسح می‌کنیم.	۱۹	

۱/۵	الف) شک در دو رکعت اول نماز ظهر باعث باطل شدن نماز می‌گردد. ب) اگر نمازگزار در بین نماز یادش بیاید که وضو نگرفته، نمازش صحیح است. ج) بر هم زدن حالت نماز باعث باطل شدن نماز می‌شود و فرقی بین عمدی و سهوی بودن این کار نیست. درست	۲۰-
۱	کسی که هنگام غروب شب عید فطر، بالغ و عاقل و هشیار باشد و فقیر هم نباشد، باید برای خود و کسانی که او هزینه زندگی آنان را می‌دهد، به ازای هر نفر سه کیلوگرم گندم یا جو یا برنج یا هر غذایی را که در طول ماه مبارک رمضان بیشتر از آن استفاده کرده است، به مستحق بدهد. البته اگر پول آنها را هم بدهد کفایت می‌کند.	۲۱-
۰/۵	وقف	۲۲-
پاسخنامه سوالات دانش آموزان اهل تسنن		
۱	عمرین عبدالعزیز با اینکه از زندگی مرفهی برخوردار بود اما از همان اول سال های عمرش به دین و آموختن آن بسیار علاقمند بود. به همین دلیل با اصرار فراوان از پدرش خواست که وی را برای فراگرفتن تعالیم دین به مدینه بفرستد، مدینه ای که بهترین و با تقواترین دانشمندان اسلامی را در خود جمع کرده بود.	۱۷-
۱	ایجاد عدالت اجتماعی و تامین رفاه عمومی انسان‌ها - استفاده از امکانات مادی و حکومتی برای فراگیر شدن واقعی عبادت خدا در جامعه در جنبه های فردی و اجتماعی	۱۸-
۱	الف - فرض ب - سنت	۱۹-
۱	الف - نادرست ب - درست	۲۰-
۱	گندم - شتر - نقره - انگور	۲۱-
۱	برای مسلمانان شایسته است به عنوان کمک به نیازمندان قسمتی از دارایی های خود را بپردازند. این بخشش صدقه نامیده می‌شود. صدقه از صدق گرفته شده است و به معنای راستی است. صدقه را می‌توان به موسسات خیریه داد تا آنها را به بهترین صورت به نیازمندان برسانند.	۲۲-

نام : نام خانوادگی : نام آموزشگاه : شماره‌ی داوطلب : نوبت: خردادماه ۹۷	« باسمه تعالی » اداره کل آموزش و پرورش خراسان رضوی اداره سنجش آموزش و پرورش سوالات امتحان هماهنگ پایه نهم (متوسطه اول) درس : پیامهای آسمان Sanjesh.razavi.medu.ir	تاریخ امتحان : ۹۷/۰۳/۰۷ مدت امتحان : ۶۰ دقیقه ساعت شروع : ۱۳ (ابعدازظهر) تعداد صفحات: ۳ تعداد سوال: ۲۲
--	--	--

ردیف	سؤال	بارم
ایمان دو نیم است : نیمی صبر و نیمی شکر « پیامبر (ص) »		
دانش آموز عزیز : ضمن آرزوی موفقیت برای شما لطفاً با مطالعه دقیق ۲۲ سوال زیر ، پاسخ مناسب را در محل‌های تعیین شده بنویسید .		
۱-	بر اساس آیه « وَلَا يَزَالُونَ يُقَاتِلُونَكُمْ حَتَّى يَرُدَّوَكُمْ عَنْ دِينِكُمْ إِنِ اسْتَطَاعُوا » هدف اصلی دشمن از تحریم اقتصادی، جنگ نظامی و شیخون فرهنگی چیست؟	۰/۵
پاسخ درست را با گذاشتن علامت × در داخل <input type="checkbox"/> مشخص کنید .		
۲-	کدامیک از گزینه های زیر تسبیح خداوند است؟ الف) الحمدلله <input type="checkbox"/> ب) سبحان الله <input type="checkbox"/> ج) یا رب العالمین <input type="checkbox"/> د) یا رحمان یا رحیم <input type="checkbox"/>	۰/۵
۳-	نتیجه علاقه های افراطی در دوستی چیست؟ الف) اعتماد مطلق در دوستی <input type="checkbox"/> ب) اضطراب و پریشانی خاطر <input type="checkbox"/> ج) پایداری رابطه دوستی <input type="checkbox"/> د) احترام در محدوده ادب و اخلاق <input type="checkbox"/>	۰/۵
درست یا نادرست بودن جملات زیر را مشخص کنید .		
۴-	خطرناک ترین سلاح دشمن برای به زانو درآوردن ملت ایران بمب اتمی است. درست <input type="checkbox"/> نادرست <input type="checkbox"/>	۰/۵
۵-	شناخت کامل خدای نامحدود برای انسان امکان دارد. درست <input type="checkbox"/> نادرست <input type="checkbox"/>	۰/۵
جملات زیر را با کلمات مناسب کامل کنید .		
۶-	جهاد مردم یمن با حملات سعودی ها نوعی جهاد است .	۰/۵
۷-	به فرموده امام کاظم (ع) اگر را ترک کنیم، شرورترین افراد جامعه بر ما مسلط خواهند شد.	۰/۵
به سوالات زیر پاسخ کامل دهید .		
۸-	مهمترین دلیلی که باعث می شود انسان های مومن از آرامش روحی برخوردار باشند، چیست؟	۱
۹-	چگونه می توانید برای دوست خود خیر خواه باشید؟	۱
۱۰-	داشتن دوست خردمند و دوراندیش چه تاثیری در زندگی شما دارد؟	۱
۱۱-	دو مورد از ثمرات انقلاب اسلامی ایران را بنویسید.	۱
ادامه سؤالات در صفحه ۲		صفحه ۱

تاریخ امتحان : ۹۷/۰۳/۰۷ مدت امتحان : ۶۰ دقیقه ساعت شروع : ۱۳ (بعد از ظهر) تعداد صفحات : ۳ تعداد سوال : ۲۲	« باسمه تعالی » اداره کل آموزش و پرورش خراسان رضوی اداره سنجش آموزش و پرورش سوالات امتحان هماهنگ پایه نهم (متوسطه اول) درس : پیامهای آسمان Sanjesh.razavi.medu.ir	نام : نام خانوادگی : نام آموزشگاه : شماره ی داوطلب : نوبت : خردادماه ۹۷
---	--	---

بارم	سؤال	ردیف		
۱	اگر در جامعه اسلامی، عده ای به مبارزه با نظام اسلامی بپردازند و امنیت مردم را به خطر بیندازند، مسلمانان چه وظیفه ای دارند؟	۱۲-		
۱	خداوند در قرآن کریم مسلمانان را به کسب آمادگی برای دفاع سفارش کرده است. با توجه به عبارت های قرآنی پراکنده زیر این آیه را کامل کنید. <div style="border: 1px solid black; padding: 10px; margin: 10px auto; width: fit-content;"> <p style="text-align: center;">مَا اسْتَطَعْتُمْ مِنْ قُوَّةٍ تُرْهِبُونَ بِهِ عَدُوَّ اللَّهِ وَاعِدُّوا لَهُمْ وَمِنْ رِبَاطِ الْحَيْلِ وَاعِدُّوْكُمْ</p> </div> <p style="text-align: center;">« وَاعِدُّوا لَهُمْ »</p>	۱۳-		
۱	نتایج گسترش انفاق در جامعه چیست؟ دو مورد	۱۴-		
۱/۵	برای اینکه فرد خطاکار متوجه اشتباه یا گناهش شود، از چه شیوه هایی استفاده می کنید؟ سه مورد	۱۵-		
۲	کدام عبارت از ستون « ب » با عبارت ستون « الف » مرتبط است ؟ « یک عبارت از ستون « ب » اضافی است » <table style="width: 100%; border: none;"> <tr> <td style="width: 50%; vertical-align: top;"> <p style="text-align: center;">« الف »</p> <p>۱. آثار ایمان</p> <p>۲. نتیجه مراجعه به فال گیر</p> <p>۳. بهترین راه شناخت صفات خدا</p> <p>۴. ثمره انقلاب اسلامی</p> </td> <td style="width: 50%; vertical-align: top;"> <p style="text-align: center;">« ب »</p> <p><input type="checkbox"/> پیشرفت علم و فناوری</p> <p><input type="checkbox"/> رهایی از سردرگمی</p> <p><input type="checkbox"/> تفکر در کتاب آسمانی</p> <p><input type="checkbox"/> توجه به طبیعت</p> <p><input type="checkbox"/> از هم پاشیده شدن خانواده</p> </td> </tr> </table>	<p style="text-align: center;">« الف »</p> <p>۱. آثار ایمان</p> <p>۲. نتیجه مراجعه به فال گیر</p> <p>۳. بهترین راه شناخت صفات خدا</p> <p>۴. ثمره انقلاب اسلامی</p>	<p style="text-align: center;">« ب »</p> <p><input type="checkbox"/> پیشرفت علم و فناوری</p> <p><input type="checkbox"/> رهایی از سردرگمی</p> <p><input type="checkbox"/> تفکر در کتاب آسمانی</p> <p><input type="checkbox"/> توجه به طبیعت</p> <p><input type="checkbox"/> از هم پاشیده شدن خانواده</p>	۱۶-
<p style="text-align: center;">« الف »</p> <p>۱. آثار ایمان</p> <p>۲. نتیجه مراجعه به فال گیر</p> <p>۳. بهترین راه شناخت صفات خدا</p> <p>۴. ثمره انقلاب اسلامی</p>	<p style="text-align: center;">« ب »</p> <p><input type="checkbox"/> پیشرفت علم و فناوری</p> <p><input type="checkbox"/> رهایی از سردرگمی</p> <p><input type="checkbox"/> تفکر در کتاب آسمانی</p> <p><input type="checkbox"/> توجه به طبیعت</p> <p><input type="checkbox"/> از هم پاشیده شدن خانواده</p>			

نام خانوادگی:	نام:
نام آموزشگاه:	اداره کل آموزش و پرورش خراسان رضوی
شماره‌ی داوطلب:	اداره سنجش آموزش و پرورش
نوبت: خردادماه ۹۷	سوالات امتحان هماهنگ پایه نهم (متوسطه اول)
	درس: پیامهای آسمان
	Sanjesh.razavi.medu.ir
تاریخ امتحان: ۹۷/۰۳/۰۷	«باسمه تعالی»
مدت امتحان: ۶۰ دقیقه	
ساعت شروع: ۱۳ (ابعدازظهر)	
تعداد صفحات: ۳	
تعداد سوال: ۲۲	

ردیف	سؤال	بارم
------	------	------

سوالات ویژه‌ی دانش آموزان شیعه

۱۷-	چگونه می‌توان عمر طولانی حضرت مهدی (ع) را ممکن دانست؟ دو دلیل ذکر کنید.	۱
۱۸-	از نظر امام صادق (ع) فقیهانی که هدایت مردم را در زمان غیبت امام زمان (ع) برعهده دارند، باید دارای چه ویژگی‌هایی باشند؟ دو مورد	۱
۱۹-	واجب یا مستحب بودن وضو را در نمونه‌های زیر مشخص کنید. الف) زیارت حرم‌های امامان «علیهم السلام» ب) هنگام تلاوت قرآن. واجب <input type="checkbox"/> مستحب <input type="checkbox"/> واجب <input type="checkbox"/> مستحب <input type="checkbox"/>	۱
۲۰-	صحیح یا باطل بودن نماز هریک از نمونه‌های زیر را مشخص کنید. الف) نمازگزار بعد از نماز شک می‌کند که هنگام نماز، کاری که نماز را باطل می‌کند، انجام داده یا نه. صحیح <input type="checkbox"/> باطل <input type="checkbox"/> ب) نمازگزار سهواً دو رکوع به جا می‌آورد. صحیح <input type="checkbox"/> باطل <input type="checkbox"/>	۱
۲۱-	از میان موارد داخل کادر، دارایی‌هایی که به آن زکات تعلق می‌گیرد را بیاورد و در محل مشخص شده بنویسید. جو - برنج - گوسفند - روغن - طلا - کشمش ۱- ۲- ۳- ۴-	۱
۲۲-	وقف را تعریف کنید.	۱

دانش آموزان عزیز و همکاران محترم می‌توانند با مراجعه به سایت مندرج در سربرگ، سوال و راهنمای تصحیح این درس را مشاهده نمایند.

صفحه ۳		موفق باشید		جمع بارم ۲۰	
تصحیح و نمره‌گذاری		نام و نام خانوادگی مصحح/ دبیر		نمره نهایی پس از رسیدگی به اعتراضات	
با عدد	با حروف	با عدد	با حروف	با عدد	با حروف
امضاء:		امضاء:		امضاء:	

نام خانوادگی :	نام : « باسمه تعالی »
نام آموزشگاه :	اداره کل آموزش و پرورش خراسان رضوی
شماره‌ی داوطلب :	اداره سنجش آموزش و پرورش
نوبت: خرداد ۹۷	سوالات امتحان هماهنگ پایه نهم (متوسطه اول)
	درس : پیامهای آسمان (اهل سنت)
	Sanjesh.razavi.medu.ir
تاریخ امتحان : ۹۷/۰۳/۰۷	
مدت امتحان : ۶۰ دقیقه	
ساعت شروع : ۱۳ (ابعد از ظهر)	
تعداد صفحات : ۳	
تعداد سوال : ۲۲	

ردیف	سؤال	بارم
ایمان دو نیم است : نیمی صبر و نیمی شکر « پیامبر (ص) »		
دانش آموز عزیز : ضمن آرزوی موفقیت برای شما لطفاً با مطالعه دقیق ۲۲ سوال زیر ، پاسخ مناسب را در محل‌های تعیین شده بنویسید .		
۱-	بر اساس آیه « وَلَا يَزَالُونَ يُقَاتِلُونَكُمْ حَتَّىٰ يَرُدُّوكُمْ عَن دِينِكُمْ إِنِ اسْتَطَاعُوا » هدف اصلی دشمن از تحریم اقتصادی، جنگ نظامی و شبیخون فرهنگی چیست؟	۰/۵
پاسخ درست را با گذاشتن علامت × در داخل □ مشخص کنید .		
۲-	کدامیک از گزینه های زیر تسبیح خداوند است؟ الف) الحمدلله □ ب) سبحان الله □ ج) یا رب العالمین □ د) یا رحمان یا رحیم □	۰/۵
۳-	نتیجه علاقه های افراطی در دوستی چیست؟ الف) اعتماد مطلق در دوستی □ ب) اضطراب و پریشانی خاطر □ ج) پایداری رابطه دوستی □ د) احترام در محدوده ادب و اخلاق □	۰/۵
درست یا نادرست بودن جملات زیر را مشخص کنید .		
۴-	خطرناک ترین سلاح دشمن برای به زانو درآوردن ملت ایران بمب اتمی است. درست □ نادرست □	۰/۵
۵-	شناخت کامل خدای نامحدود برای انسان امکان دارد. درست □ نادرست □	۰/۵
جملات زیر را با کلمات مناسب کامل کنید .		
۶-	جهاد مردم یمن با حملات سعودی ها نوعی جهاد است .	۰/۵
۷-	به فرموده امام کاظم (ع) اگر را ترک کنیم، شرورترین افراد جامعه بر ما مسلط خواهند شد.	۰/۵
به سوالات زیر پاسخ کامل دهید .		
۸-	مهمترین دلیلی که باعث می شود انسان های مومن از آرامش روحی برخوردار باشند، چیست؟	۱
۹-	چگونه می توانید برای دوست خود خیرخواه باشید؟	۱
۱۰-	داشتن دوست خردمند و دوراندیش چه تاثیری در زندگی شما دارد؟	۱
۱۱-	دو مورد از ثمرات انقلاب اسلامی ایران را بنویسید.	۱
صفحه ۱		ادامه سؤالات در صفحه ۲

تاریخ امتحان: ۹۷/۰۳/۰۷ مدت امتحان: ۶۰ دقیقه ساعت شروع: ۱۳ (ابعد از ظهر) تعداد صفحات: ۳ تعداد سوال: ۲۲	« باسمه تعالی » اداره کل آموزش و پرورش خراسان رضوی اداره سنجش آموزش و پرورش سوالات امتحان هماهنگ پایه نهم (متوسطه اول) درس: پیامهای آسمان (اهل سنت) Sanjesh.razavi.medu.ir	نام: نام خانوادگی: نام آموزشگاه: شماره‌ی داوطلب: نوبت: خرداد ۹۷
---	---	---

ردیف	سؤال	بارم
۱۲-	اگر در جامعه اسلامی، عده ای به مبارزه با نظام اسلامی بپردازند و امنیت مردم را به خطر بیندازند، مسلمانان چه وظیفه ای دارند؟	۱
۱۳-	<p>خداوند در قرآن کریم مسلمانان را به کسب آمادگی برای دفاع سفارش کرده است. با توجه به عبارت های قرآنی پراکنده زیر این آیه را کامل کنید.</p> <div style="border: 1px solid black; padding: 10px; margin: 10px auto; width: 60%; text-align: center;"> <p>مَا اسْتَطَعْتُمْ مِنْ قُوَّةٍ تُرْهِبُونَ بِهِ عَدُوَّ اللَّهِ وَاعِدُوا لَهُمْ وَمِنْ رِبَاطِ الْحَيْلِ وَاعِدُواكُمْ</p> </div> <p style="text-align: right;">« وَاعِدُوا لَهُمْ »</p>	۱
۱۴-	نتایج گسترش انفاق در جامعه چیست؟ دو مورد	۱
۱۵-	برای اینکه فرد خطاکار متوجه اشتباه یا گناهش شود، از چه شیوه هایی استفاده می کنید؟ سه مورد	۱/۵
۱۶-	<p>کدام عبارت از ستون « ب » با عبارت ستون « الف » مرتبط است؟ « یک عبارت از ستون « ب » اضافی است »</p> <div style="display: flex; justify-content: space-between;"> <div style="width: 45%;"> <p style="text-align: center;">« الف »</p> <p>۱. آثار ایمان</p> <p>۲. نتیجه مراجعه به فال گیر</p> <p>۳. بهترین راه شناخت صفات خدا</p> <p>۴. ثمره انقلاب اسلامی</p> </div> <div style="width: 45%;"> <p style="text-align: center;">« ب »</p> <p><input type="checkbox"/> پیشرفت علم و فناوری</p> <p><input type="checkbox"/> رهایی از سردرگمی</p> <p><input type="checkbox"/> تفکر در کتاب آسمانی</p> <p><input type="checkbox"/> توجه به طبیعت</p> <p><input type="checkbox"/> از هم پاشیده شدن خانواده</p> </div> </div>	۲
صفحه ۲		ادامه سؤالات در صفحه ۳

نام خانوادگی : نام آموزشگاه : شماره‌ی داوطلب : نوبت: خرداد ۹۷	« باسمه تعالی » اداره کل آموزش و پرورش خراسان رضوی اداره سنجش آموزش و پرورش سوالات امتحان هماهنگ پایه نهم (متوسطه اول) درس : پیامهای آسمان (اهل سنت) Sanjesh.razavi.medu.ir	تاریخ امتحان : ۹۷/۰۳/۰۷ مدت امتحان : ۶۰ دقیقه ساعت شروع : ۱۳ (ابعد از ظهر) تعداد صفحات: ۳ تعداد سوال: ۲۲
--	--	--

ردیف	سؤال	بارم
سوالات ویژه ی دانش آموزان اهل سنت		
۱۷-	دو مورد از اقدامات عمر بن عبدالعزیز در زمان خلافتش را بنویسید.	۱
۱۸-	چرا انسان نمی تواند با پیروی کردن از خواسته های شخصی و یا نظر دیگر انسان ها، راه سعادت را پیدا کند؟	۱
۱۹-	واجب یا مستحب بودن وضو را در نمونه های زیر مشخص کنید: الف) هنگام طواف کعبه. <input type="checkbox"/> واجب <input type="checkbox"/> مستحب ب) هنگام ذکر خداوند. <input type="checkbox"/> واجب <input type="checkbox"/> مستحب	۱
۲۰-	صحیح یا باطل بودن نماز هریک از نمونه های زیر را مشخص کنید: الف) سخن گفتن عمدی در بین نماز . <input type="checkbox"/> صحیح <input type="checkbox"/> باطل ب) اشک ریختن بدون صدای اضافی. <input type="checkbox"/> صحیح <input type="checkbox"/> باطل	۱
۲۱-	زکات مال در شریعت اسلامی به چه معناست؟	۱
۲۲-	علی فکر می کند در اسلام قرض دادن از ابراء ارزش بیشتری دارد. شما با این نظر موافقید؟ توضیح دهید.	۱

دانش آموزان عزیز و همکاران محترم می توانند با مراجعه به سایت مندرج در سربرگ، سوال و راهنمای تصحیح این درس را مشاهده نمایند.

موفق باشید		جمع بارم		صفحه ۳	
نام و نام خانوادگی مصحح/ دبیر	نمره نهایی پس از رسیدگی به اعتراضات	نام و نام خانوادگی مصحح/ دبیر	تصحیح و نمره گذاری	با عدد	با حروف
	با عدد	با عدد	با حروف	با عدد	با حروف
امضاء:		امضاء:			

تاریخ امتحان ۹۷/۳/۰۷		باسمه تعالی
اداره سنجش آموزش و پرورش		راهنمای تصحیح سؤالات امتحان هماهنگ پایه نهم (استان خراسان رضوی)
		درس: پیام های آسمان (نوبت عصر) سال تحصیلی: ۹۷-۹۶ خردادماه
۰/۵	۱	۱- نابودی باورهای دینی مردم و دور کردن آنها از اسلام
۰/۵	۲	۲- (ب) سبحان الله
۰/۵	۳	۳- (ب) اضطراب و پریشانی خاطر
۰/۵	۴	۴- نادرست
۰/۵	۵	۵- نادرست
۰/۵	۶	۶- جهاد دفاعی
۰/۵	۷	۷- امر به معروف و نهی از منکر
۰/۵	۸	۸- خداوند دل و جان آدمی را به گونه ای آفریده که جز با یاد و نام او آرام نمی گیرد. وقتی انسان در این دنیا به هریک از خواسته های دنیایی که سال ها آرزویش را داشته است می رسد، پس از مدتی از آن دلزده می شود؛ زیرا هیچ خواسته ای نمی تواند جای خواسته واقعی قلب را که همان رسیدن به خداست، بگیرد.
۰/۵	۹	۹- دوستان واقعی، خیر یکدیگر را می خواهند. برای همین هر عیبی که از دوستان ببینند، پنهانی به او تذکر می دهند و دوستان را در برطرف کردن این عیوب یاری می کنند، گرچه در این میان ممکن است طرف مقابل متوجه خیرخواهی دوستش نباشد و از این کار ناراحت شود.
۰/۵	۱۰	۱۰- دوست خردمند ما را در گرفتن تصمیمات درست، کمک می کند و خطر قرار گرفتن در مسیرهای نامناسب را از ما دور می کند. چنین دوستی، بدون فکر و اندیشه راهی را پیش پای دوست خود نمی گذارد و اگر خودش نیز نتواند دوستش را راهنمایی کند، او را به سمت مشورت با افراد آگاه و مطلع سوق می دهد.
۰/۵	۱۱	۱۱- پیشرفت علم و فناوری - الگو گرفتن ملت های محروم از انقلاب اسلامی - زنده شدن روحیه خودباوری و احساس عزت و بزرگی « ذکر دو مورد کافیست»
۰/۵	۱۲	۱۲- مسلمانان موظفند با دستور حاکم اسلامی به جهاد و مقابله با این افراد برخیزند و خطر آنان را از جامعه اسلامی دور کنند.
۰/۵	۱۳	۱۳- « وَأَعِدُّوا لَهُمْ مَا اسْتَطَعْتُمْ مِنْ قُوَّةٍ وَمِنْ رِبَاطِ الْحَيْلِ تُرْهِبُونَ بِهِ عَدُوَّ اللَّهِ وَعَدُوَّكُمْ
۰/۵	۱۴	۱۴- ثروت به دست نیازمندان نیز می رسد. فاصله طبقاتی میان ثروتمند و فقیر کمتر می شود. بخش زیادی از گناهان و جرم های ناشی از فقر از جامعه ریشه کن می شود و ... « ذکر دو مورد کافیست.»
۱/۵	۱۵	۱۵- روی خود را برگردانیم و با فرد خطاکار به سردی رفتار کنیم - گاهی با مهربانی و با برخورد خوب فرد خطاکار را متوجه اشتباهش کنیم - در بعضی موارد نیز برای اینکه ناراحتی خود را نشان دهیم باید آنجا را ترک کنیم.
۲	۱۶	۱۶- ۱. آثار ایمان : رهایی از سردرگمی ۲. نتیجه مراجعه به فال گیر: از هم پاشیده شدن خانواده ۳. بهترین راه شناخت صفات خدا : تفکر در کتاب آسمانی ۴. ثمره انقلاب اسلامی : پیشرفت علم و فناوری
سؤالات ویژه ی دانش آموزان شیعه		
۱	۱۷	۱۷- با توجه به آیات قرآن کریم، داشتن عمر طولانی برای انسان غیر ممکن نیست. در قرآن مدت حضور حضرت نوح در میان قومش را ۹۵۰ سال ذکر کرده است. از نظر علمی نیز داشتن عمر طولانی ناممکن نیست، اگر کسی بتواند مسائل بهداشتی را رعایت کند، از عمر طولانی تری برخوردار خواهد بود. طولانی بودن عمر آن حضرت امری ممکن است، همان خدایی که آدم را از گل آفرید و آتش سوزنده را بر حضرت ابراهیم (ع) سرد کرد می تواند امام زمان را نیز تا امروز زنده نگه دارد. « ذکر دو دلیل کافیست»
۱	۱۸	۱۸- پرهیزگار باشند - از دین خود محافظت می کنند - بر خلاف هوای نفس خود رفتار می کنند- مطیع دستور خداوند هستند. « ذکر دو مورد کافیست»

تاریخ امتحان ۹۷/۳/۰۷		باسمه تعالی	
اداره سنجش آموزش و پرورش		راهنمای تصحیح سؤالات امتحان هماهنگ پایه نهم (استان خراسان رضوی)	
		درس: پیام های آسمان (نوبت عصر) سال تحصیلی: ۹۶-۹۷ خردادماه	
۱		الف) مستحب ب) مستحب	۱۹-
۱		الف) صحیح ب) باطل	۲۰-
۱		جو - گوسفند - طلا - کشمش	۲۱-
۱	انسان در راه جلب رضایت خداوند مالکیت بخشی از اموال و دارایی هایش را از اختیار خود خارج کند و استفاده از آن یا استفاده از درآمد آن را در اختیار دیگران قرار دهد.		۲۲-
پاسخنامه سؤالات دانش آموزان اهل سنت			
۱	عمرین عبدالعزیز به آبادسازی شهرها و روستاهای قلمرو حکومتش پرداخت - ابتدا مسجدائینی را بازسازی و تعمیر کرد و دسته های سازندگی را به همه مناطق فرستاد.		۱۷-
۱	چون خداوند به تمامی حقایق عالم است، فقط او می تواند بشر را درست راهنمایی کند. قرآن اعلام می کند پیروی کردن از خواسته های فردی و سایر انسان ها در امور زندگی صحیح نیست و همه افراد وظیفه دارند از قوانین خداوند اطاعت کنند.		۱۸-
۱		الف- واجب ب- مستحب	۱۹-
۱		الف- باطل ب- صحیح	۲۰-
۱	در شریعت اسلامی به بخشش مقدار مشخصی از دارایی مومن به چند گروه از انسان ها که دین آنها را معین کرده است زکات می گویند. برای واجب شدن زکات شرایط مشخصی در نظر گرفته شده است.		۲۱-
۱	قرض دادن به دیگران کار باارزشی است اما کاری که از خود قرض دادن با ارزش تر است این است که در صورت ناتوانی فرد مقروض، قرض دهنده طلب خود را ببخشد. این کار را ابراء می گویند.		۲۲-
موفق باشید			

نام خانوادگی :		نام :	
نام آموزشگاه :		نام خانوادگی :	
شماره‌ی داوطلب :		نام آموزشگاه :	
نوبت: غایبین موجه خرداد		شماره‌ی داوطلب :	
درس : پیامهای آسمان		نام خانوادگی :	
Sanjesh.razavi.medu.ir		نام آموزشگاه :	
تاریخ امتحان : ۹۷/۰۴/۱۱		شماره‌ی داوطلب :	
مدت امتحان : ۶۰ دقیقه		نوبت: غایبین موجه خرداد	
ساعات شروع : ۳:۳۰ (۳۰:۱ بعد از ظهر)		نام خانوادگی :	
تعداد صفحات: ۳		نام آموزشگاه :	
تعداد سوال: ۲۲		شماره‌ی داوطلب :	
درس : پیامهای آسمان		نام خانوادگی :	
Sanjesh.razavi.medu.ir		نام آموزشگاه :	
ردیف	سؤال	بارم	
ایمان دو نیم است : نیمی صبر و نیمی شکر « پیامبر (ص) »			
دانش آموز عزیز : ضمن آرزوی موفقیت برای شما لطفاً با مطالعه دقیق ۲۲ سوال زیر ، پاسخ مناسب را در محل‌های تعیین شده بنویسید .			
۱	از آیه « الَّذِينَ يُنْفِقُونَ أَمْوَالَهُمْ بِاللَّيْلِ وَالنَّهَارِ سِرًّا وَعَلَانِيَةً فَلَهُمْ أَجْرُهُمْ عِنْدَ رَبِّهِمْ وَلَا خَوْفٌ عَلَيْهِمْ وَلَا هُمْ يَحْزَنُونَ » چه پیامی دریافت می‌کنید؟		۱
پاسخ درست را با گذاشتن علامت × در داخل □ مشخص کنید .			
۲	با تدبر در آیه « إِنَّ اللَّهَ يُحِبُّ التَّوَّابِينَ » به کدام صفت خداوند پی می‌برید؟ الف) بسیار آمرزنده □ ب) دوستدار توبه‌کنندگان □ ج) شدید العقاب □ د) دانای آشکار و نهان □	۰/۵	
۳	راهکار جدید دشمن برای به زانو درآوردن ملت ایران چیست؟ الف) تحریم اقتصادی □ ب) جنگ نظامی □ ج) شبیخون فرهنگی □ د) ترور و بمب گذاری □	۰/۵	
درست یا نادرست بودن جملات زیر را مشخص کنید .			
۴	لازمه دوستی پایدار، فداکاری نسبت به دوست و برآورده کردن همه خواسته‌های اوست.	درست □ نادرست □	۰/۵
۵	میان عمل و ایمان رابطه دوسویه است و هر کدام دیگری را تقویت می‌کند.	درست □ نادرست □	۰/۵
جملات زیر را با کلمات مناسب کامل کنید .			
۶	حضرت (ع) علاوه بر دعوت فرعون به یکتاپرستی، خواستار آزادی بنی اسرائیل شد.		۰/۵
۷	جهاد مردم فلسطین با اشغالگران صهیونیست نوعی جهاد است.		۰/۵
به سوالات زیر پاسخ کامل دهید .			
۸	حمد و تسبیح خداوند به چه معناست؟		۱
۹	اگر ایمان را در دل خود تقویت کنید چه آثاری در زندگیتان مشاهده خواهید کرد؟ دو مورد		۱
۱۰	چرا پیامبران الهی در راه انجام دستورات خداوند استقامت فراوانی می‌کردند؟		۰/۵
۱۱	چرا در روایات به دوری از دوستی با افراد نادان توصیه شده است؟		۱
ادامه سؤالات در صفحه بعد			صفحه ۱

بارم	سؤال	ردیف
۱/۵	<p>هریک از احادیث زیر به کدامیک از مفاهیمی که در داخل کادر بیان شده است، ارتباط دارد؟ « یک مورد اضافی است.»</p> <div style="border: 1px solid black; padding: 5px; text-align: center;"> <p>احترام به دوست - نداشتن توقع بیجا از دوست - خیرخواهی - تأثیرپذیری تدریجی از دوست</p> </div> <p>۱- محبوب‌ترین دوستانم نزد من کسی است که عیب‌های مرا به من هدیه دهد:</p> <p>۲- از دوستی با افراد فاسد پرهیز که وجودت ناخودآگاه، ناپاکی و بدی را از آنان می‌رباید، درحالی که تو از آن بی‌خبری:</p> <p>۳- به اتکای رابطه صمیمانه و دوستانه، حق برادرت را ضایع مکن، زیرا این عمل رابطه دوستی را از بین می‌برد:</p>	۱۲-
۱	<p>دو مورد از ثمرات انقلاب اسلامی ایران را بنویسید.</p>	۱۳-
۱/۵	<p>درستی یا نادرستی رفتار هر یک از نمونه‌های زیر را در ارتباط با شیوه امر به معروف و نهی از منکر، مشخص کنید.</p> <p>الف) حمید با شرکت در نماز جماعت مدرسه، دوستان خود را به انجام این کار تشویق می‌کند. <input type="checkbox"/> درست <input type="checkbox"/> نادرست</p> <p>ب) مینا اشتباه و خطاهای دوست خود را در مقابل دیگران بازگو می‌کند. <input type="checkbox"/> درست <input type="checkbox"/> نادرست</p> <p>ج) رضا با اینکه خود نسبت به پاکیزگی محیط زیست سهل‌انگاری می‌کند، اما به دیگران در این مورد تذکر می‌دهد. <input type="checkbox"/> درست <input type="checkbox"/> نادرست</p>	۱۴-
۱	<p>منظور از جهاد ابتدایی چیست؟</p>	۱۵-
۱/۵	<p>کدام عبارت از ستون «ب» با عبارت ستون «الف» مرتبط است؟ «یک عبارت از ستون «ب» اضافی است»</p> <p style="text-align: center;">«الف»</p> <p>۱. داشتن آمادگی نظامی</p> <p>۲. ترک امر به معروف و نهی از منکر</p> <p>۳. الگو قرار دادن انسان‌های مؤمن</p> <p style="text-align: center;">«ب»</p> <p><input type="checkbox"/> مستجاب نشدن دعا</p> <p><input type="checkbox"/> تقویت ایمان</p> <p><input type="checkbox"/> کم شدن فاصله طبقاتی ثروتمند و فقیر</p> <p><input type="checkbox"/> جلوگیری از آغاز جنگ</p>	۱۶-
ادامه سؤالات در صفحه بعد		صفحه ۲

« باسمه تعالی » اداره کل آموزش و پرورش خراسان رضوی اداره سنجش آموزش و پرورش سوالات امتحان هماهنگ پایه نهم (متوسطه اول) درس : پیامهای آسمان Sanjesh.razavi.medu.ir	نام : نام خانوادگی : نام آموزشگاه : شماره ی داوطلب : نوبت: غایبین موجه خرداد
تاریخ امتحان : ۹۷/۰۴/۱۱ مدت امتحان : ۶۰ دقیقه ساعت شروع : ۳:۳۰ (۳۰: بعد از ظهر) تعداد صفحات: ۳ تعداد سوال: ۲۲	

ردیف	سؤال	بارم
سوالات ویژه ی دانش آموزان شیعه		
۱۷-	با توجه به سخن امام رضا (ع) دو مورد از ویژگی های منتظران واقعی امام زمان (ع) را بنویسید.	۰/۵
۱۸-	به چه دلیلی امام مهدی (ع) به دستور خداوند از نظرها غایب شد؟ دو مورد	۱
۱۹-	دو مورد از مواردی که مکلف باید برای نماز تیمم کند را بنویسید.	۱
۲۰-	صحیح یا باطل بودن نماز را در نمونه های زیر مشخص کنید: الف) نماز گزار ذکر های نماز را با عجله می گوید طوری که تلفظ آنها صحیح نیست . ب) نماز گزار از روی فراموشی و بدون توجه بین نماز چیزی می گوید اما به خاطر آن دو سجده سهو به جا می آورد. ج) نماز گزار در نماز صبح شک می کند که در رکعت چندم نماز است.	۱/۵
۲۱-	زکات به چه چیزهایی تعلق می گیرد؟ چهار مورد	۱
۲۲-	انفاق مال در قالب قرض چه نتایج را به دنبال دارد؟ دو مورد	۱

دانش آموزان عزیز و همکاران محترم می توانند با مراجعه به سایت مندرج در سربرگ، سوال و راهنمای تصحیح این درس را مشاهده نمایند.

صفحه ۳	موفق باشید	جمع بارم ۲۰
تصحیح و نمره گذاری	نام و نام خانوادگی مصحح / دبیر	نام و نام خانوادگی مصحح / دبیر
با عدد	با حروف	با عدد
با عدد	با حروف	با حروف
امضاء :	امضاء :	امضاء :

نام خانوادگی:	نام:
نام آموزشگاه:	اداره کل آموزش و پرورش خراسان رضوی
شماره‌ی داوطلب:	اداره سنجش آموزش و پرورش
نوبت: غایبین موجه خرداد	سوالات امتحان هماهنگ پایه نهم (متوسطه اول)
	درس: پیامهای آسمان (اهل سنت)
	Sanjesh.razavi.medu.ir
تاریخ امتحان: ۹۷/۰۴/۱۱	« باسمه تعالی »
مدت امتحان: ۶۰ دقیقه	
ساعت شروع: ۱۳:۳۰ (۳۰ بعد از ظهر)	
تعداد صفحات: ۳	
تعداد سوال: ۲۲	

ردیف	سؤال	بارم
ایمان دو نیم است: نیمی صبر و نیمی شکر « پیامبر (ص) »		
دانش آموز عزیز: ضمن آرزوی موفقیت برای شما لطفاً با مطالعه دقیق ۲۲ سوال زیر، پاسخ مناسب را در محل‌های تعیین شده بنویسید.		
۱-	از آیه « الَّذِينَ يُنْفِقُونَ أَمْوَالَهُمْ بِاللَّيْلِ وَالنَّهَارِ سِرًّا وَعَلَانِيَةً فَلَهُمْ أَجْرُهُمْ عِنْدَ رَبِّهِمْ وَلَا خَوْفٌ عَلَيْهِمْ وَلَا هُمْ يَحْزَنُونَ » چه پیامی دریافت می‌کنید؟	۱
پاسخ درست را با گذاشتن علامت × در داخل □ مشخص کنید.		
۲-	با تدبر در آیه « إِنَّ اللَّهَ يُحِبُّ التَّوَّابِينَ » به کدام صفت خداوند پی می‌برید؟ الف) بسیار آمرزنده □ ب) دوستدار توبه‌کنندگان □ ج) شدید العقاب □ د) دانای آشکار و نهان □	۰/۵
۳-	راهکار جدید دشمن برای به زانو درآوردن ملت ایران چیست؟ الف) تحریم اقتصادی □ ب) جنگ نظامی □ ج) شبیخون فرهنگی □ د) ترور و بمب‌گذاری □	۰/۵
درست یا نادرست بودن جملات زیر را مشخص کنید.		
۴-	لازمه دوستی پایدار، فداکاری نسبت به دوست و برآورده کردن همه خواسته‌های اوست. درست □ نادرست □	۰/۵
۵-	میان عمل و ایمان رابطه دوسویه است و هر کدام دیگری را تقویت می‌کند. درست □ نادرست □	۰/۵
جملات زیر را با کلمات مناسب کامل کنید.		
۶-	حضرت (ع) علاوه بر دعوت فرعون به یکتاپرستی، خواستار آزادی بنی اسرائیل شد.	۰/۵
۷-	جهاد مردم فلسطین با اشغالگران صهیونیست نوعی جهاد است.	۰/۵
به سوالات زیر پاسخ کامل دهید.		
۸-	حمد و تسبیح خداوند به چه معناست؟	۱
۹-	اگر ایمان را در دل خود تقویت کنید چه آثاری در زندگیتان مشاهده خواهید کرد؟ دو مورد	۱
۱۰-	چرا پیامبران الهی در راه انجام دستورات خداوند استقامت فراوانی می‌کردند؟	۰/۵
۱۱-	چرا در روایات به دوری از دوستی با افراد نادان توصیه شده است؟	۱

<p>نام خانوادگی : نام آموزشگاه : شماره‌ی داوطلب : نوبت: غایبین موجه خرداد</p>		<p>« باسمه تعالی » اداره کل آموزش و پرورش خراسان رضوی اداره سنجش آموزش و پرورش سوالات امتحان هماهنگ پایه نهم (متوسطه اول) درس : پیامهای آسمان (اهل سنت) Sanjesh.razavi.medu.ir</p>	
<p>تاریخ امتحان : ۹۷/۰۴/۱۱ مدت امتحان : ۶۰ دقیقه ساعت شروع : ۳:۳۰ (۳۰: ابعاد زظهر) تعداد صفحات: ۳ تعداد سوال: ۲۲</p>			
ردیف	سؤال	بارم	
۱۲-	<p>هریک از احادیث زیر به کدامیک از مفاهیمی که در داخل کادر بیان شده است، ارتباط دارد؟ « یک مورد اضافی است.»</p> <div style="border: 1px solid black; padding: 5px; text-align: center;"> <p>احترام به دوست - نداشتن توقع بیجا از دوست - خیرخواهی - تأثیرپذیری تدریجی از دوست</p> </div> <p>۱- محبوب‌ترین دوستانم نزد من کسی است که عیب‌های مرا به من هدیه دهد:</p> <p>۲- از دوستی با افراد فاسد پرهیز که وجودت ناخودآگاه، ناپاکی و بدی را از آنان می‌رباید، درحالی که تو از آن بی‌خبری :</p> <p>۳- به اتکای رابطه صمیمانه و دوستانه، حق برادرت را ضایع مکن، زیرا این عمل رابطه دوستی را از بین می‌برد:</p>	۱/۵	
۱۳-	<p>دو مورد از ثمرات انقلاب اسلامی ایران را بنویسید.</p>	۱	
۱۴-	<p>درستی یا نادرستی رفتار هر یک از نمونه‌های زیر را در ارتباط با شیوه امر به معروف و نهی از منکر، مشخص کنید.</p> <p>الف) حمید با شرکت در نماز جماعت مدرسه، دوستان خود را به انجام این کار تشویق می‌کند. <input type="checkbox"/> درست <input type="checkbox"/> نادرست</p> <p>ب) مینا اشتباه و خطاهای دوست خود را در مقابل دیگران بازگو می‌کند. <input type="checkbox"/> درست <input type="checkbox"/> نادرست</p> <p>ج) رضا با اینکه خود نسبت به پاکیزگی محیط زیست سهل‌انگاری می‌کند، اما به دیگران در این مورد تذکر می‌دهد. <input type="checkbox"/> درست <input type="checkbox"/> نادرست</p>	۱/۵	
۱۵-	<p>منظور از جهاد ابتدایی چیست؟</p>	۱	
۱۶-	<p>کدام عبارت از ستون « ب » با عبارت ستون « الف » مرتبط است؟ « یک عبارت از ستون « ب » اضافی است»</p> <p style="text-align: center;">« الف »</p> <p>۱. داشتن آمادگی نظامی</p> <p>۲. ترک امر به معروف و نهی از منکر</p> <p>۳. الگو قرار دادن انسان‌های مؤمن</p> <p style="text-align: center;">« ب »</p> <p><input type="checkbox"/> مستجاب نشدن دعا</p> <p><input type="checkbox"/> تقویت ایمان</p> <p><input type="checkbox"/> کم شدن فاصله طبقاتی ثروتمند و فقیر</p> <p><input type="checkbox"/> جلوگیری از آغاز جنگ</p>	۱/۵	

<p>نام خانوادگی : نام آموزشگاه : شماره‌ی داوطلب : نوبت: غایبین موجه خرداد</p>	<p>« باسمه تعالی » اداره کل آموزش و پرورش خراسان رضوی اداره سنجش آموزش و پرورش سوالات امتحان هماهنگ پایه نهم (متوسطه اول) درس : پیامهای آسمان (اهل سنت) Sanjesh.razavi.medu.ir</p>	<p>تاریخ امتحان : ۹۷/۰۴/۱۱ مدت امتحان : ۶۰ دقیقه ساعت شروع : ۱۳:۳۰ (۳۰ بعد از ظهر) تعداد صفحات: ۳ تعداد سوال: ۲۲</p>
---	--	--

ردیف	سؤال	بارم
سوالات ویژه ی دانش آموزان اهل سنت		
۱۷-	دو عامل مهمی که بر شخصیت ایمانی و عملی عمر بن عبدالعزیز تأثیر گذاشت، چه بود؟	۰/۵
۱۸-	حکومت اسلامی در مقابل تأمین نیازهای مادی و معنوی مردم و اجرای عدالت، از مردم چه انتظاراتی دارد؟ دو مورد	۱
۱۹-	دو مورد از مواردی که مکلف باید برای نماز تیمم کند را بنویسید.	۱
۲۰-	صحیح یا باطل بودن نماز را در نمونه‌های زیر مشخص کنید: الف) نمازگزار ذکر های نماز را با عجله می گوید طوری که تلفظ آنها صحیح نیست . ب) وضوی نمازگزار بعد از سلام اول باطل می گردد . ج) نمازگزار بین نماز یکی از ارکان نماز را به جا نمی آورد.	۱/۵
۲۱-	زکات به چه چیزهایی تعلق می گیرد؟ چهار مورد	۱
۲۲-	دو نمونه از صدقه جاریه را بنویسید.	۱

دانش آموزان عزیز و همکاران محترم می توانند با مراجعه به سایت مندرج در سربرگ، سوال و راهنمای تصحیح این درس را مشاهده نمایند.

صفحه ۳		موفق باشید		جمع بارم ۲۰	
تصحیح و نمره گذاری	نام و نام خانوادگی مصحح / دبیر	نمره نهایی پس از رسیدگی به اعتراضات	نام و نام خانوادگی مصحح / دبیر	با عدد	با حروف
				با عدد	با حروف
	امضاء :		امضاء :		

تاریخ امتحان ۹۷/۰۴/۱۱		باسمه تعالی	
اداره سنجش آموزش و پرورش		راهنمای تصحیح سؤالات امتحان هماهنگ پایه نهم (استان خراسان رضوی)	
		سال تحصیلی: ۹۷-۹۶	
		غایبین موجه خردادماه	
		درس: پیام های آسمان	
۱	کسانی که اموال خود را انفاق می کنند در شب و روز به صورت پنهانی و آشکارا پاداششان نزد پروردگارشان است. نه ترسی دارند و نه غمگین می شوند. « اگر به مفهوم آیه اشاره شود کافی است »	۱	۱- کسانی که اموال خود را انفاق می کنند در شب و روز به صورت پنهانی و آشکارا پاداششان نزد پروردگارشان است. نه ترسی دارند و نه غمگین می شوند. « اگر به مفهوم آیه اشاره شود کافی است »
۰/۵	(ب) دوستدار توبه کنندگان	۱	۲- (ب) دوستدار توبه کنندگان
۰/۵	(ج) شیخون فرهنگی	۱	۳- (ج) شیخون فرهنگی
۰/۵	نادرست	۱	۴- نادرست
۰/۵	درست	۱	۵- درست
۰/۵	موسی (ع)	۱	۶- موسی (ع)
۰/۵	دفاعی	۱	۷- دفاعی
۱	حمد به معنای ستایش است یعنی وقتی می گوئیم « الحمد لله » می خواهیم بگوئیم هر ستایش برای خداست. در تسبیح وقتی می گوئیم « سبحان الله » ، می خواهیم بگوئیم که خداوند از هر عیب و نقصی منزّه است.	۱	۸- حمد به معنای ستایش است یعنی وقتی می گوئیم « الحمد لله » می خواهیم بگوئیم هر ستایش برای خداست. در تسبیح وقتی می گوئیم « سبحان الله » ، می خواهیم بگوئیم که خداوند از هر عیب و نقصی منزّه است.
۱	آرامش - رهایی از سردرگمی و بی هدفی	۱	۹- آرامش - رهایی از سردرگمی و بی هدفی
۰/۵	آنان اطمینان داشتند که استقامت و ایمان، کلید دست یافتن به وعده های بزرگ الهی است.	۱	۱۰- آنان اطمینان داشتند که استقامت و ایمان، کلید دست یافتن به وعده های بزرگ الهی است.
۱	افراد نادان کارهای خود را نه بر اساس فکر و اندیشه بلکه بر مبنای احساسات زودگذر انجام می دهند که ضررهای زیادی برای ما دارد. این افراد با دادن مشورت های غلط و نادرست به دوستان خود، زمینه های انحراف و لغزش آنان را فراهم می آورند.	۱	۱۱- افراد نادان کارهای خود را نه بر اساس فکر و اندیشه بلکه بر مبنای احساسات زودگذر انجام می دهند که ضررهای زیادی برای ما دارد. این افراد با دادن مشورت های غلط و نادرست به دوستان خود، زمینه های انحراف و لغزش آنان را فراهم می آورند.
۱/۵	۱ - خیرخواهی - ۲ - تأثیرپذیری تدریجی از دوست ۳ - احترام به دوست	۱	۱۲- ۱ - خیرخواهی - ۲ - تأثیرپذیری تدریجی از دوست ۳ - احترام به دوست
۱	پیشرفت علم و فناوری - الگوگرفتن ملت های محروم برای رهایی از وابستگی - زنده شدن روحیه خودباوری و احساس عزت و بزرگی « ذکر دو مورد کافی است. »	۱	۱۳- پیشرفت علم و فناوری - الگوگرفتن ملت های محروم برای رهایی از وابستگی - زنده شدن روحیه خودباوری و احساس عزت و بزرگی « ذکر دو مورد کافی است. »
۱/۵	الف) درست ب) نادرست ج) نادرست	۱	۱۴- الف) درست ب) نادرست ج) نادرست
۱	حاکمان زورگو و سرکشی را که مردم ناتوان را زیر سلطه خود نگاه داشته اند و نمی گذارند پیام خداوند به آنها برسد، هواداران شیطان می نامند. در این زمان لشکر اسلام موظف است به دستور پیامبر یا ولی امر مسلمین با حاکمان شیطانی جهاد کند و مردم را از اسارت آنها نجات دهد و پیام خدا را به آنها برساند.	۱	۱۵- حاکمان زورگو و سرکشی را که مردم ناتوان را زیر سلطه خود نگاه داشته اند و نمی گذارند پیام خداوند به آنها برسد، هواداران شیطان می نامند. در این زمان لشکر اسلام موظف است به دستور پیامبر یا ولی امر مسلمین با حاکمان شیطانی جهاد کند و مردم را از اسارت آنها نجات دهد و پیام خدا را به آنها برساند.
۱/۵	۱. داشتن آمادگی نظامی : جلوگیری از آغاز جنگ ۲. ترک امر به معروف و نهی از منکر : مستجاب نشدن دعا ۳. الگو قراردادن انسان های مؤمن : تقویت ایمان	۱	۱۶- ۱. داشتن آمادگی نظامی : جلوگیری از آغاز جنگ ۲. ترک امر به معروف و نهی از منکر : مستجاب نشدن دعا ۳. الگو قراردادن انسان های مؤمن : تقویت ایمان
سوالات ویژه ی دانش آموزان شیعه			
۰/۵	صبربودن، خوش رفتاری، همسایه داری، ترویج کارهای نیک، خودداری از آزار و اذیت دیگران، گشاده رویی، خیرخواهی و مهربانی با مؤمنان « ذکر دو مورد کافی است »	۰/۵	۱۷- صبربودن، خوش رفتاری، همسایه داری، ترویج کارهای نیک، خودداری از آزار و اذیت دیگران، گشاده رویی، خیرخواهی و مهربانی با مؤمنان « ذکر دو مورد کافی است »
۱	از یک طرف حاکمان ظالم و زورگو به شدت امامان را تحت فشار قرار می دادند و فرصت هر اقدامی را از آنان می گرفتند و از سوی دیگر، مردم به دلیل ترس از حاکمان و دل بستن به دنیای زودگذر، وظایف خود را در حمایت و پیروی از امامان انجام نمی دادند.	۱	۱۸- از یک طرف حاکمان ظالم و زورگو به شدت امامان را تحت فشار قرار می دادند و فرصت هر اقدامی را از آنان می گرفتند و از سوی دیگر، مردم به دلیل ترس از حاکمان و دل بستن به دنیای زودگذر، وظایف خود را در حمایت و پیروی از امامان انجام نمی دادند.
۱	۱- آب در دسترس دارد، ولی غضبی، نجس یا خیلی گل آلود است. ۲- آب کمی در اختیار دارد که اگر با آن وضو بگیرد یا غسل کند، از تشنگی به سختی خواهد افتاد.	۱	۱۹- ۱- آب در دسترس دارد، ولی غضبی، نجس یا خیلی گل آلود است. ۲- آب کمی در اختیار دارد که اگر با آن وضو بگیرد یا غسل کند، از تشنگی به سختی خواهد افتاد.
۱/۵	الف) نمازگزار ذکر های نماز را با عجله می گوید طوری که تلفظ آنها صحیح نیست ب) نمازگزار از روی فراموشی و بدون توجه بین نماز چیزی می گوید اما به خاطر آن دو سجده سهو به جا می آورد. ج) نمازگزار در نماز صبح شک می کند که در رکعت چندم نماز است.	۱/۵	۲۰- الف) نمازگزار ذکر های نماز را با عجله می گوید طوری که تلفظ آنها صحیح نیست ب) نمازگزار از روی فراموشی و بدون توجه بین نماز چیزی می گوید اما به خاطر آن دو سجده سهو به جا می آورد. ج) نمازگزار در نماز صبح شک می کند که در رکعت چندم نماز است.
۱	گندم - جو - کشمش - خرما - شتر - گاو - گوسفند - طلا - نقره « ذکر چهارمورد کافی است. »	۱	۲۱- گندم - جو - کشمش - خرما - شتر - گاو - گوسفند - طلا - نقره « ذکر چهارمورد کافی است. »
۱	حفظ آبروی افراد - ایجاد فعالیت و کسب و کار	۱	۲۲- حفظ آبروی افراد - ایجاد فعالیت و کسب و کار
پاسخنامه سوالات دانش آموزان اهل تسنن			
۱	بهره مندی از استادانی مانند صالح بن کیسان و عبیدالله بن عبدالله - اجرای عدالت و درون پاک و تقوای ایشان	۱	۱۷- بهره مندی از استادانی مانند صالح بن کیسان و عبیدالله بن عبدالله - اجرای عدالت و درون پاک و تقوای ایشان
۱	از حکومت اطاعت کنند - نظم و امنیت را رعایت کنند و آن را برهم نزنند.	۱	۱۸- از حکومت اطاعت کنند - نظم و امنیت را رعایت کنند و آن را برهم نزنند.
۱	۱- در صورتی که انسان به آب دسترسی نداشته باشد و یا در موقعیتی است که ۲/۵ کیلومتر و یا بیشتر با آب فاصله دارد و رسیدن به آب برایش مشکل است. ۲- مصرف آب به علت سرمایه غیر قابل تحمل و یا بیماری، برایش ضرر دارد.	۱	۱۹- ۱- در صورتی که انسان به آب دسترسی نداشته باشد و یا در موقعیتی است که ۲/۵ کیلومتر و یا بیشتر با آب فاصله دارد و رسیدن به آب برایش مشکل است. ۲- مصرف آب به علت سرمایه غیر قابل تحمل و یا بیماری، برایش ضرر دارد.
۱	الف - باطل ب - صحیح ج - باطل	۱	۲۰- الف - باطل ب - صحیح ج - باطل
۱	گندم - جو - خرما - انگور - شتر - گاو - گوسفند - طلا - نقره و پول - دارایی های تجاری « ذکر دو مورد کافی است. »	۱	۲۱- گندم - جو - خرما - انگور - شتر - گاو - گوسفند - طلا - نقره و پول - دارایی های تجاری « ذکر دو مورد کافی است. »
۱	ساختن مسجد - ساختن مراکز علمی یا رفاهی و ...	۱	۲۲- ساختن مسجد - ساختن مراکز علمی یا رفاهی و ...
موفق باشید			

نام خانوادگی:	نام:
نام آموزشگاه:	اداره کل آموزش و پرورش خراسان رضوی
شماره‌ی داوطلب:	اداره سنجش آموزش و پرورش
نوبت: جبرانی مردادماه	سوالات امتحان هماهنگ پایه نهم (متوسطه اول)
	درس: پیامهای آسمان
	Sanjesh.razavi.medu.ir
تاریخ امتحان: ۹۷/۰۵/۰۹	«باسمه تعالی»
مدت امتحان: ۶۰ دقیقه	
ساعت شروع: ۹ صبح	
تعداد صفحات: ۳	
تعداد سوال: ۲۱	

ردیف	سؤال	بارم
ایمان دو نیم است: نیمی صبر و نیمی شکر « پیامبر (ص) »		
دانش آموز عزیز: ضمن آرزوی موفقیت برای شما لطفاً با مطالعه دقیق ۲۱ سوال زیر، پاسخ مناسب را در محل‌های تعیین شده بنویسید.		
۱-	بر اساس آیه « وَ يَوْمَ يَعْصِي الظَّالِمُ عَلَى يَدَيْهِ يَقُولُ يَا لَيْتَنِي اتَّخَذْتُ مَعَ الرَّسُولِ سَبِيلًا يَا وَيْلَتَى لَئِنِّي لَمَّ اتَّخَذْتُ فَلَانًا حَلِيلًا لَقَدْ أَضَلَّنِي عَنِ الذِّكْرِ بَعْدَ إِذْ جَاءَنِي » نتیجه انتخاب دوست با معیار نادرست چیست؟	۱
پاسخ درست را با گذاشتن علامت × در داخل <input type="checkbox"/> مشخص کنید.		
۲-	کدام یک از گزینه‌های زیر از راه‌های تقویت ایمان نیست؟ الف) یاد و ذکر خدا <input type="checkbox"/> ب) الگو گرفتن از انسان مؤمن <input type="checkbox"/> ج) رهایی از سردرگمی و پوچی <input type="checkbox"/> د) انجام نیکی و دوری از گناه <input type="checkbox"/>	۰/۵
۳-	کدام یک از گزینه‌های زیر از نمونه‌های جنگ نرم بر علیه ملت و فرهنگ ماست؟ الف) جنگ افروزی <input type="checkbox"/> ب) ترویج بی‌عفتی <input type="checkbox"/> ج) تحریم سیاسی <input type="checkbox"/> د) ایجاد وابستگی به ابرقدرت‌ها <input type="checkbox"/>	۰/۵
درست یا نادرست بودن جملات زیر را مشخص کنید.		
۴-	یکی از راه‌کارهای اسلام برای نجات مردم از فقر، انفاق است. درست <input type="checkbox"/> نادرست <input type="checkbox"/>	۰/۵
۵-	«حمد» یعنی خداوند از هر نقص و عیبی، منزّه است. درست <input type="checkbox"/> نادرست <input type="checkbox"/>	۰/۵
جملات زیر را با کلمات مناسب کامل کنید.		
۶-	حضرت (ع) بارها عموی خود آزر را به یکتاپرستی دعوت می‌کرد و او را به ترک پرستش بت‌ها فرا می‌خواند.	۰/۵
۷-	جهاد در زبان عربی به معنای است.	۰/۵
به سوالات زیر پاسخ کامل دهید.		
۸-	بر اساس سخن پیامبر اکرم(ص) که فرمودند «آن چنان که شایسته معرفت توست، تو را نشناختیم.» آیا می‌توان به شناخت کامل خداوند رسید؟ چرا؟	۱
۹-	عارف با این که از خوبی و فواید ورزش کردن آگاهی دارد اما در انجام آن سهل‌انگاری می‌کند. به نظر شما دلیل این کار چیست؟	۱
۱۰-	سه نمونه از ثمرات انقلاب اسلامی ایران را بنویسید.	۱/۵
صفحه ۱		ادامه سؤالات در صفحه بعد

بارم	سؤال	ردیف
۹۷/۰۵/۰۹	تاریخ امتحان : مدت امتحان : ۶۰ دقیقه ساعت شروع : ۹ صبح تعداد صفحات : ۳ تعداد سوال : ۲۱	نام : نام خانوادگی : نام آموزشگاه : شماره‌ی داوطلب : نوبت: جبرانی مردادماه
	« باسمه تعالی » اداره کل آموزش و پرورش خراسان رضوی اداره سنجش آموزش و پرورش سوالات امتحان هماهنگ پایه نهم (متوسطه اول) درس : پیامهای آسمان Sanjesh.razavi.medu.ir	
۱/۵	سه مورد از ویژگی ها و معیارهای دوست خوب را بنویسید.	۱۱-
۱/۵	هریک از عبارت‌های داده شده با کدام ویژگی پیامبران ارتباط دارد؟ «یک مورد اضافی است.» <div style="border: 1px solid black; padding: 5px; margin: 10px 0;">تسلیم در برابر امر خداوند - دوری از گناه و اشتباه - استقامت و پایداری در راه خدا - مبارزه با عقاید باطل و خرافه</div> الف) پیامبران با هر اعتقادی که ریشه در دستورات خداوند ندارد، مبارزه می‌کنند. « » ب) پیامبران با وجود مشکلات فراوان، با تمام توان و قدرت به راه خود ادامه می‌دادند. « » ج) پیامبران به دستورات الهی به طور کامل عمل می‌کنند. « »	۱۲-
۱	با توجه به سخن حضرت علی (ع) جایگاه امر به معروف و نهی از منکر را در میان اعمال نیک بیان کنید.	۱۳-
۱/۵	نوع جهاد را در نمونه های زیر مشخص کنید. الف) جنگ احزاب در صدر اسلام: « » ب) جنگ حضرت علی (ع) با خوارج نهروان: « » ج) نبرد سپاه اسلام با حکومت روم در صدر اسلام: « »	۱۴-
۱	نتیجه هر یک از رفتارهای زیر را در یک جمله کوتاه بنویسید. الف) ترک فریضه امر به معروف و نهی از منکر در جامعه: ب) دلبستگی و علاقه افراطی در دوستی:	۱۵-
ادامه سؤالات در صفحه بعد		صفحه ۲

نام خانوادگی:	نام و نام خانوادگی
نام آموزشگاه:	نام آموزشگاه
شماره‌ی داوطلب:	شماره‌ی داوطلب
نوبت: جبرانی مردادماه	نوبت: جبرانی مردادماه
نام:	نام
نام خانوادگی:	نام خانوادگی
نام آموزشگاه:	نام آموزشگاه
شماره‌ی داوطلب:	شماره‌ی داوطلب
نوبت: جبرانی مردادماه	نوبت: جبرانی مردادماه
نام:	نام
نام خانوادگی:	نام خانوادگی
نام آموزشگاه:	نام آموزشگاه
شماره‌ی داوطلب:	شماره‌ی داوطلب
نوبت: جبرانی مردادماه	نوبت: جبرانی مردادماه

« باسمه تعالی »

اداره کل آموزش و پرورش خراسان رضوی
 اداره سنجش آموزش و پرورش
 سوالات امتحان هماهنگ پایه نهم (متوسطه اول)
 درس: پیامهای آسمان
 Sanjesh.razavi.medu.ir

تاریخ امتحان: ۹۷/۰۵/۰۹
 مدت امتحان: ۶۰ دقیقه
 ساعت شروع: ۹ صبح
 تعداد صفحات: ۳
 تعداد سوال: ۲۱

ردیف	سؤال	بارم
سوالات ویژه ی دانشی آموزان شیعه		
۱۶-	دو شرط مهم از شرایط ظهور حضرت مهدی (ع) را بنویسید.	۱
۱۷-	چرا مردم باید از فتوای فقها پیروی کنند؟	۱
۱۸-	واجب یا مستحب بودن وضو را در نمونه های زیر مشخص کنید. الف) وقتی قصد داریم دستمان را به آیات قرآن بزنیم. ب) وقتی قصد داریم به زیارت اهل قبور برویم.	۱
	<input type="checkbox"/> واجب <input type="checkbox"/> مستحب <input type="checkbox"/> واجب <input type="checkbox"/> مستحب	
۱۹-	صحیح یا باطل بودن نماز را در نمونه های زیر مشخص کنید: الف) نمازگزار ذره های ریز غذا که در دهان دارد، در بین نماز فرو می برد. ب) نمازگزار سهواً روی خود را از قبله برمی گرداند.	۱
	<input type="checkbox"/> صحیح <input type="checkbox"/> باطل <input type="checkbox"/> صحیح <input type="checkbox"/> باطل	
۲۰-	خمس به چه کسی پرداخت می شود و در چه راههایی هزینه می شود؟ دو مورد	۱
۲۱-	دو نمونه از انفاق های مستحب را نام ببرید.	۱

دانش آموزان عزیز و همکاران محترم می توانند با مراجعه به سایت مندرج در سربرگ، سوال و راهنمای تصحیح این درس را مشاهده نمایند.

موفق باشید		صفحه ۳	
جمع بارم ۲۰		جمع بارم ۲۰	
نام و نام خانوادگی مصحح/ دبیر	نمره نهایی پس از رسیدگی به اعتراضات	نام و نام خانوادگی مصحح/ دبیر	تصحیح و نمره گذاری
	با عدد		با عدد
	با حروف		با حروف
امضاء:		امضاء:	

نام خانوادگی :		نام :	
نام آموزشگاه :		نام خانوادگی :	
شماره‌ی داوطلب :		نام آموزشگاه :	
نوبت: جبرانی مردادماه		شماره‌ی داوطلب :	
« باسمه تعالی »		اداره کل آموزش و پرورش خراسان رضوی	
اداره سنجش آموزش و پرورش		اداره کل آموزش و پرورش خراسان رضوی	
سوالات امتحان هماهنگ پایه نهم (متوسطه اول)		اداره سنجش آموزش و پرورش	
درس : پیامهای آسمان (اهل سنت)		سوالات امتحان هماهنگ پایه نهم (متوسطه اول)	
Sanjesh.razavi.medu.ir		درس : پیامهای آسمان (اهل سنت)	
تاریخ امتحان : ۹۷/۰۵/۰۹		شماره‌ی داوطلب :	
مدت امتحان : ۶۰ دقیقه		نوبت: جبرانی مردادماه	
ساعت شروع : ۹ صبح		نام آموزشگاه :	
تعداد صفحات: ۳		شماره‌ی داوطلب :	
تعداد سوال: ۲۱		نوبت: جبرانی مردادماه	
ردیف	سؤال	بارم	
ایمان دو نیم است : نیمی صبر و نیمی شکر « پیامبر (ص) »			
دانش آموز عزیز : ضمن آرزوی موفقیت برای شما لطفاً با مطالعه دقیق ۲۱ سوال زیر ، پاسخ مناسب را در محل‌های تعیین شده بنویسید .			
۱-۱	بر اساس آیه « وَ يَوْمَ يَعْصِي الظَّالِمُ عَلَى يَدَيْهِ يَقُولُ يَا لَيْتَنِي اتَّخَذْتُ مَعَ الرَّسُولِ سَبِيلًا يَا وَيْلَتَى لَيْتَنِي لَمْ أَتَّخِذْ فُلَانًا خَلِيلًا لَقَدْ أَضَلَّنِي عَنِ الذِّكْرِ بَعْدَ إِذْ جَاءَنِي » نتیجه انتخاب دوست با معیار نادرست چیست؟	۱	
پاسخ درست را با گذاشتن علامت × در داخل □ مشخص کنید .			
۲-۲	کدام یک از گزینه های زیر از راههای تقویت ایمان نیست؟ الف) یاد و ذکر خدا □ ب) الگو گرفتن از انسان مؤمن □ ج) رهایی از سردرگمی و پوچی □ د) انجام نیکی و دوری از گناه □	۰/۵	
۳-۳	کدام یک از گزینه‌های زیر از نمونه های جنگ نرم بر علیه ملت و فرهنگ ماست ؟ الف) جنگ افروزی □ ب) ترویج بی عفتی □ ج) تحریم سیاسی □ د) ایجاد وابستگی به ابرقدرت‌ها □	۰/۵	
درست یا نادرست بودن جملات زیر را مشخص کنید .			
۴-۴	یکی از راه کارهای اسلام برای نجات مردم از فقر، انفاق است.	۰/۵	درست □ نادرست □
۵-۵	«حمد» یعنی خداوند از هر نقص و عیبی، منزّه است.	۰/۵	درست □ نادرست □
جملات زیر را با کلمات مناسب کامل کنید .			
۶-۶	حضرت (ع) بارها عموی خود آزر را به یکتاپرستی دعوت می کرد و او را به ترک پرستش بت‌ها فرا می خواند.	۰/۵	
۷-۷	جهاد در زبان عربی به معنای است.	۰/۵	
به سوالات زیر پاسخ کامل دهید .			
۸-۸	بر اساس سخن پیامبر اکرم(ص) که فرمودند« آن چنان که شایسته معرفت توست، تو را نشناختیم.» آیا می توان به شناخت کامل خداوند رسید؟ چرا؟	۱	
۹-۹	عارف با این که از خوبی و فواید ورزش کردن آگاهی دارد اما در انجام آن سهل انگاری می کند. به نظر شما دلیل این کار چیست؟	۱	
۱۰-۱۰	سه نمونه از ثمرات انقلاب اسلامی ایران را بنویسید.	۱/۵	
صفحه ۱		ادامه سؤالات در صفحه بعد	

تاریخ امتحان: ۹۷/۰۵/۰۹ مدت امتحان: ۶۰ دقیقه ساعت شروع: ۹ صبح تعداد صفحات: ۳ تعداد سوال: ۲۱	« باسمه تعالی » اداره کل آموزش و پرورش خراسان رضوی اداره سنجش آموزش و پرورش سوالات امتحان هماهنگ پایه نهم (متوسطه اول) درس: پیامهای آسمان (اهل سنت) Sanjesh.razavi.medu.ir	نام: نام خانوادگی: نام آموزشگاه: شماره‌ی داوطلب: نوبت: جبرانی مردادماه
--	---	--

بارم	سؤال	ردیف
۱/۵	سه مورد از ویژگی‌ها و معیارهای دوست خوب را بنویسید.	۱۱-
۱/۵	<p>هریک از عبارت‌های داده شده با کدام ویژگی پیامبران ارتباط دارد؟ «یک مورد اضافی است.»</p> <div style="border: 1px solid black; padding: 5px; margin: 10px 0;"> <p>تسلیم در برابر امر خداوند - دوری از گناه و اشتباه - استقامت و پایداری در راه خدا - مبارزه با عقاید باطل و خرافه</p> </div> <p>الف) پیامبران با هر اعتقادی که ریشه در دستورات خداوند ندارد، مبارزه می‌کنند. «</p> <p>ب) پیامبران با وجود مشکلات فراوان، با تمام توان و قدرت به راه خود ادامه می‌دادند. «</p> <p>ج) پیامبران به دستورات الهی به طور کامل عمل می‌کنند. «</p>	۱۲-
۱	با توجه به سخن حضرت علی (ع) جایگاه امر به معروف و نهی از منکر را در میان اعمال نیک بیان کنید.	۱۳-
۱/۵	<p>نوع جهاد را در نمونه‌های زیر مشخص کنید.</p> <p>الف) جنگ احزاب در صدر اسلام: «</p> <p>ب) جنگ حضرت علی (ع) با خوارج نهروان: «</p> <p>ج) نبرد سپاه اسلام با حکومت روم در صدر اسلام: «</p>	۱۴-
۱	<p>نتیجه هر یک از رفتارهای زیر را در یک جمله کوتاه بنویسید.</p> <p>الف) ترک فریضه امر به معروف و نهی از منکر در جامعه:</p> <p>ب) دلبستگی و علاقه افراطی در دوستی:</p>	۱۵-

نام خانوادگی:	نام و نام خانوادگی
نام آموزشگاه:	نام آموزشگاه
شماره‌ی داوطلب:	شماره‌ی داوطلب
نوبت: جبرانی مردادماه	نوبت: جبرانی مردادماه
نام:	نام
«باسمه تعالی»	«باسمه تعالی»
اداره کل آموزش و پرورش خراسان رضوی	اداره کل آموزش و پرورش خراسان رضوی
اداره سنجش آموزش و پرورش	اداره سنجش آموزش و پرورش
سوالات امتحان هماهنگ پایه نهم (متوسطه اول)	سوالات امتحان هماهنگ پایه نهم (متوسطه اول)
درس: پیامهای آسمان (اهل سنت)	درس: پیامهای آسمان (اهل سنت)
Sanjesh.razavi.medu.ir	Sanjesh.razavi.medu.ir
تاریخ امتحان: ۹۷/۰۵/۰۹	تاریخ امتحان: ۹۷/۰۵/۰۹
مدت امتحان: ۶۰ دقیقه	مدت امتحان: ۶۰ دقیقه
ساعت شروع: ۹ صبح	ساعت شروع: ۹ صبح
تعداد صفحات: ۳	تعداد صفحات: ۳
تعداد سوال: ۲۱	تعداد سوال: ۲۱

ردیف	سؤال	بارم
سوالات ویژه ی دانش آموزان اهل سنت		
۱۶-	عمر بن عبدالعزیز در زمان حکومتش چه اقداماتی انجام داد؟ دو مورد	۱
۱۷-	اهداف اصلی و اساسی حکومت اسلامی چیست؟	۱
۱۸-	واجب یا مستحب بودن وضو را در نمونه های زیر مشخص کنید. الف) وقتی قصد داریم دستمان را به آیات قرآن بزنیم. ب) وقتی قصد داریم طواف کعبه را انجام دهیم.	۱
	<input type="checkbox"/> واجب <input type="checkbox"/> مستحب <input type="checkbox"/> واجب <input type="checkbox"/> مستحب	
۱۹-	صحیح یا باطل بودن نماز را در نمونه های زیر مشخص کنید: الف) مبالغه کردن در خم نمودن سر. ب) پشت به قبله کردن یا انحراف از آن.	۱
	<input type="checkbox"/> صحیح <input type="checkbox"/> باطل <input type="checkbox"/> صحیح <input type="checkbox"/> باطل	
۲۰-	شرایط واجب شدن زکات چیست؟	۱
۲۱-	دو نمونه از انفاق های مستحب را نام ببرید.	۱

دانش آموزان عزیز و همکاران محترم می‌توانند با مراجعه به سایت مندرج در سربرگ، سوال و راهنمای تصحیح این درس را مشاهده نمایند.

موفق باشید		صفحه ۳	
نام و نام خانوادگی مصحح / دبیر	نمره نهایی پس از رسیدگی به اعتراضات	نام و نام خانوادگی مصحح / دبیر	تصحیح و نمره گذاری
	با عدد		با عدد
	با حروف		با حروف
امضاء:		امضاء:	

تاریخ امتحان : ۱۳۹۷/۰۵/۰۹		به نام خدا	
اداره سنجش آموزش و پرورش		راهنمای تصحیح سؤالات امتحان هماهنگ پایه نهم (استان خراسان رضوی) سال تحصیلی ۹۷-۱۳۹۶ جبرانی مردادماه	
۱	افرادى كه براى انتخاب دوست به معيار هاى درست توجه نمى كنند در آخرت دچار حسرت و پشيمانى مى گردند . « ذكر ترجمه آيه نيز صحيح است.»	۱	-۱
۰/۵	(ج) رهايى از سردرگمى و پوچى	۰/۵	-۲
۰/۵	(ب) ترويج بى عفتى	۰/۵	-۳
۰/۵	درست	۰/۵	-۴
۰/۵	نادرست	۰/۵	-۵
۰/۵	ابراهيم (ع)	۰/۵	-۶
۰/۵	تلاش و كوشش	۰/۵	-۷
۱	خير، انسان به دليل توانايى محدود خود قدرت شناخت كامل خداى نامحدود را ندارد.	۱	-۸
۱	زيرا شناخت و آگاهى از يك مطلب به تنهائى براى عمل به آن كافى نيست و بايد شناخت به مرحله ايمان برسد تا محرک لازم براى عمل به وجود آيد.	۱	-۹
۱/۵	پيشرفت علم و فناورى، الگو گرفتن ملت هاى محروم از انقلاب اسلامى براى رهايى از وابستگى، زنده شدن روحيه خودباورى و احساس عزت و سربلندى	۱/۵	-۱۰
۱/۵	اهل فكر و اندیشه باشد، اهل گناه نباشد و از گناه ديگران نيز ناراحت شود، خير خواه باشد. « ذكر ويژگى هاى ديگر خارج از كتاب درسى نيز صحيح است.»	۱/۵	-۱۱
۱/۵	(الف) مبارزه با عقايد باطل و خرافه، (ب) استقامت و پايدارى در راه خدا، (ج) تسليم در برابر امر خدا	۱/۵	-۱۲
۱	همه كارهاى نيك و حتى جهاد در راه خدا، در مقايسه با امر به معروف و نهى از منكر، مانند قطره در برابر دريايى پهناور و عميق است.	۱	-۱۳
۱/۵	(الف) «دفاعى» (ب) «سركشان يا دفاعى» (ج) «ابتدايى»	۱/۵	-۱۴
۱	(الف) از بين رفتن رحمت و برکت از جامعه (ب) اضطراب و پريشاني خاطر « ذكر هر کدام از موارد موجود در كتاب صحيح است.»	۱	-۱۵
سوالات ويژه ي دانش آموزان شيعه			
۱	آمادگى مردم جهان براى همراهى با قيام امام - وجود ياران باوفايى كه تا پاى جان در راه اهداف و آرمان هاى امام بايستند.	۱	-۱۶
۱	فقيهان در سخنان و راهنمايى هايشان، پيرو سخنان معصومين هستند و در هر مسئله اى نظر پيامبر اکرم و امامان را براى مردم بازگو مى كنند. بنا بر اين پذيرفتن فتواى فقيهان كه برگرفته از قرآن و احاديث معصومين است در واقع پذيرفتن سخنان امامان است و مخالفت با فتواى فقهها، مخالفت با احاديث معصومين است.	۱	-۱۷
۱	(الف) واجب (ب) مستحب	۱	-۱۸
۱	(الف) صحيح (ب) باطل	۱	-۱۹
۱	خمس به حاكم اسلامى يا مرجع تقليد پرداخت مى شود و در راه هاى مانند آشنا كردن مردم با معارف دين، دفاع از كشور هاى اسلامى و تربيت دانشمندان علوم دينى، تأليف و توزيع كتاب هاى دينى و ... صرف مى گردد. « ذكر دو مورد كافى است. »	۱	-۲۰
۱	قرض - وقف	۱	-۲۱

تاریخ امتحان : ۱۳۹۷/۰۵/۰۹		به نام خدا	
اداره سنجش آموزش و پرورش		راهنمای تصحیح سؤالات امتحان هماهنگ پایه نهم (استان خراسان رضوی) درس: پیامهای آسمان سال تحصیلی ۹۷-۱۳۹۶ جبرانی مردادماه	
پاسخنامه سؤالات دانش آموزان اهل تسنن			
۱	آبادسازی شهرها و روستاهای قلمرو حکومتش - بازسازی و تعمیر مسجدالنبی	۱۶-	
۱	ایجاد عدالت اجتماعی و تأمین رفاه عمومی انسان ها- استفاده از امکانات مادی و حکومتی برای فراگیر شدن عبادت خدا در جامعه در جنبه های فردی و اجتماعی	۱۷-	
۱	الف) واجب ب) واجب	۱۸-	
۱	الف- صحیح ب- باطل	۱۹-	
۱	هرگاه دارایی های فرد مسلمان به محدوده مشخصی برسد و یک سال قمری بر آن دارایی بگذرد، پرداخت زکات واجب می گردد.	۲۰-	
۱	صدقه - بخشیدن طلب یا قرض	۲۱-	
همکار محترم؛ خسته نباشید.			

نام خانوادگی :		نام :	
نام آموزشگاه :		نام خانوادگی :	
شماره‌ی داوطلب :		نام آموزشگاه :	
نوبت: شهریور ماه		شماره‌ی داوطلب :	
درس : پیامهای آسمان		نام خانوادگی :	
Sanjesh.razavi.medu.ir		نام آموزشگاه :	
تعداد صفحات: ۳		نام خانوادگی :	
تعداد سوال: ۲۲		نام آموزشگاه :	
تاریخ امتحان : ۹۷/۰۶/۰۷		نام خانوادگی :	
مدت امتحان : ۶۰ دقیقه		نام آموزشگاه :	
ساعت شروع : ۹ صبح		نام آموزشگاه :	
تعداد صفحات: ۳		شماره‌ی داوطلب :	
تعداد سوال: ۲۲		نوبت: شهریور ماه	
« باسمه تعالی »		نام :	
اداره کل آموزش و پرورش خراسان رضوی		نام خانوادگی :	
اداره سنجش آموزش و پرورش		نام آموزشگاه :	
سوالات امتحان هماهنگ پایه نهم (متوسطه اول)		شماره‌ی داوطلب :	
درس : پیامهای آسمان		نوبت: شهریور ماه	
Sanjesh.razavi.medu.ir		نام خانوادگی :	
تعداد صفحات: ۳		نام آموزشگاه :	
تعداد سوال: ۲۲		شماره‌ی داوطلب :	
تاریخ امتحان : ۹۷/۰۶/۰۷		نام خانوادگی :	
مدت امتحان : ۶۰ دقیقه		نام آموزشگاه :	
ساعت شروع : ۹ صبح		نام آموزشگاه :	
تعداد صفحات: ۳		شماره‌ی داوطلب :	
تعداد سوال: ۲۲		نوبت: شهریور ماه	
ردیف	سؤال	بارم	
ایمان دو نیم است : نیمی صبر و نیمی شکر « پیامبر (ص) »			
دانش آموز عزیز : ضمن آرزوی موفقیت برای شما لطفاً با مطالعه دقیق ۲۲ سوال زیر ، پاسخ مناسب را در محل‌های تعیین شده بنویسید .			
۱-	بر اساس آیه «الَّذِينَ يُنْفِقُونَ أَمْوَالَهُمْ بِاللَّيْلِ وَالنَّهَارِ سِرًّا وَعَلَانِيَةً فَلَهُمْ أَجْرُهُمْ عِنْدَ رَبِّهِمْ وَلَا خَوْفٌ عَلَيْهِمْ وَلَا هُمْ يَحْزَنُونَ» خداوند به انسان چه سفارشی می‌کند؟	۱	
پاسخ درست را با گذاشتن علامت × در داخل <input type="checkbox"/> مشخص کنید .			
۲-	رفتار پیامبران الهی در مقابل عقاید خرافی و باطل مشرکان چگونه بود ؟ الف) آنان را به حال خود رها می‌کردند <input type="checkbox"/> ب) مشرکان را به اندیشه ورزی و تفکر دعوت می‌کردند <input type="checkbox"/> ج) برای هدایت آنان دعا می‌کردند <input type="checkbox"/> د) با ارائه معجزه پیامبری خود را ثابت می‌کردند <input type="checkbox"/>	۰/۵	
۳-	از نظر حضرت علی (ع) دو دوست و برادر همراه کدامند؟ الف) ایمان - شناخت <input type="checkbox"/> ب) علم - عمل <input type="checkbox"/> ج) ایمان - عمل <input type="checkbox"/> د) اعتماد - عمل <input type="checkbox"/>	۰/۵	
درست یا نادرست بودن جملات زیر را مشخص کنید .			
۴-	می‌توان هر صفتی را که در مخلوقات است؛ به خدا نسبت داد.	درست <input type="checkbox"/> نادرست <input type="checkbox"/>	۰/۵
۵-	علاقه افراطی به دوست باعث صمیمیت بیشتر در دوستی می‌گردد.	درست <input type="checkbox"/> نادرست <input type="checkbox"/>	۰/۵
جمله زیر را با کلمات مناسب کامل کنید .			
۶-	جهاد در فرهنگ اسلامی به معنای است.		۰/۵
۷-	بهترین راه برای شناخت صفات خداوند است.		۰/۵
به سوالات زیر پاسخ کامل دهید .			
۸-	هدف خداوند از وضع قوانین و احکام اسلام چیست؟	۱	
۹-	هریک از نمونه های زیر از چه راهی ایمان را در قلب خود تقویت کرده اند؟ الف) مریم از جمع افرادی که مشغول غیبت کردن هستند، خارج می‌شود. « » ب) علی در رعایت مساوات و عدالت از رفتار حضرت علی (ع) پیروی می‌کند. « »	۱	
۱۰-	برای هر یک از جهاد های زیر یک نمونه بنویسید. الف) جهاد دفاعی: « » ب) جهاد ابتدایی: « »	۱	
ادامه سؤالات در صفحه بعد		صفحه ۱	

<p>نام خانوادگی : نام آموزشگاه : شماره‌ی داوطلب : نوبت: شهریور ماه</p> <p>« باسمه تعالی » اداره کل آموزش و پرورش خراسان رضوی اداره سنجش آموزش و پرورش سوالات امتحان هماهنگ پایه نهم (متوسطه اول) درس : پیامهای آسمان Sanjesh.razavi.medu.ir</p>		
ردیف	سؤال	بارم
۱۱-	چه دوستانی در روایات به شمشیر زهرآلود تشبیه شده اند؟ توضیح دهید.	۱
۱۲-	افراد سرکش در مقابل دعوت پیامبران چگونه رفتار می‌کردند؟	۱
۱۳-	براساس سخن امام کاظم (ع) بین «امربه معروف و نهی از منکر» و «استجابت دعا» چه ارتباطی وجود دارد؟	۱
۱۴-	سه نمونه از اقدام ابرقدرت‌ها برای شکست جمهوری اسلامی ایران را بنویسید.	۱/۵
۱۵-	با توجه به عبارت‌های قرآنی داخل کادر، آیه و ترجمه آن را کامل کنید. « یک عبارت اضافی است.»	۱
<div style="border: 1px solid black; padding: 5px; width: fit-content; margin: 0 auto;"> <p>أَنْتُمْ الْأَعْلَوْنَ - لَا يَزَالُونَ - لَا تَحْزَنُوا - كُنْتُمْ مُؤْمِنِينَ</p> </div> <p>﴿ وَلَا تَهِنُوا وَ وَ إِنْ ﴾</p> <p>« و سست نشوید و غمگین نباشید زیرا که شما برترید اگر داشته باشید. »</p>		
۱۶-	نتیجه هر یک از رفتارهای زیر را از میان کلمات داده شده بیابید و مقابل آن بنویسید: « یک کلمه اضافی است.»	۱/۵
<div style="border: 1px solid black; padding: 5px; width: fit-content; margin: 0 auto;"> <p>ترساندن دشمن - حسرت و پشیمانی در آخرت - پیروزی همیشگی - آرامش روحی</p> </div> <p>الف) گوش سپردن به آیات قرآن :</p> <p>ب) مبارزه در راه خدا :</p> <p>ج) : انتخاب دوست نا مناسب:</p>		
ادامه سؤالات در صفحه بعد		صفحه ۲

نام خانوادگی :	نام : اداره کل آموزش و پرورش خراسان رضوی
نام آموزشگاه :	اداره سنجش آموزش و پرورش
شماره‌ی داوطلب :	سوالات امتحان هماهنگ پایه نهم (متوسطه اول)
نوبت: شهریور ماه	درس : پیامهای آسمان
	Sanjesh.razavi.medu.ir
تاریخ امتحان : ۹۷/۰۶/۰۷	« باسمه تعالی »
مدت امتحان : ۶۰ دقیقه	
ساعت شروع : ۹ صبح	
تعداد صفحات: ۳	
تعداد سوال: ۲۲	

ردیف	سؤال	بارم
------	------	------

سوالات ویژه‌ی دانش آموزان شیعه

۱۷-	خمس یکی از راه‌های تأمین نیازهای جامعه است که به پرداخت می‌شود.	۰/۵				
۱۸-	آیا می‌توان زمان دقیق ظهور امام زمان (ع) را معین کرد؟ توضیح دهید.	۱				
۱۹-	ولایت فقیه را تعریف کنید.	۱				
۲۰-	جدول زیر را کامل کنید.	۱				
<table border="1" style="width: 100%; text-align: center;"> <tr> <td>نمونه ای از آب مضاف</td> <td>نمونه ای از آب مطلق</td> </tr> <tr> <td>..... -۱</td> <td>..... -۱</td> </tr> </table>			نمونه ای از آب مضاف	نمونه ای از آب مطلق -۱ -۱
نمونه ای از آب مضاف	نمونه ای از آب مطلق					
..... -۱ -۱					
۲۱-	بر اساس سخن پیامبر(ص) دو نمونه از کارهایی را نام ببرید که پاداشی آن بعد از مرگ انسان قطع نمی‌شود.	۱				
۲۲-	درستی یا نادرستی جملات زیر مشخص کنید. الف) نمازگزار می‌تواند در حال نماز به دیگران هم سلام کند و هم جواب سلام را بدهد. درست <input type="checkbox"/> نادرست <input type="checkbox"/> ب) سخن گفتن از روی فراموشی نماز را باطل می‌کند. درست <input type="checkbox"/> نادرست <input type="checkbox"/> ج) شکستن نماز برای جلوگیری از ضرر مالی جایز است. درست <input type="checkbox"/> نادرست <input type="checkbox"/>	۱/۵				

دانش آموزان عزیز و همکاران محترم می‌توانند با مراجعه به سایت مندرج در سربرگ، سوال و راهنمای تصحیح این درس را مشاهده نمایند.

صفحه ۳		موفق باشید		جمع بارم ۲۰	
تصحیح و نمره گذاری	نام و نام خانوادگی مصحح/ دبیر	نمره نهایی پس از رسیدگی به اعتراضات	نام و نام خانوادگی مصحح/ دبیر	نام و نام خانوادگی مصحح/ دبیر	
با عدد	با حروف	با عدد	با حروف	با عدد	با حروف
	امضاء :		امضاء :		امضاء :

نام خانوادگی :		نام :	
نام آموزشگاه :		نام خانوادگی :	
شماره‌ی داوطلب :		نام آموزشگاه :	
نوبت: شهریور ماه		شماره‌ی داوطلب :	
تاریخ امتحان: ۹۷/۰۶/۰۷		« باسمه تعالی »	
مدت امتحان: ۶۰ دقیقه		اداره کل آموزش و پرورش خراسان رضوی	
ساعت شروع: ۹ صبح		اداره سنجش آموزش و پرورش	
تعداد صفحات: ۳		سوالات امتحان هماهنگ پایه نهم (متوسطه اول)	
تعداد سوال: ۲۲		درس: پیامهای آسمان (اهل سنت)	
		Sanjesh.razavi.medu.ir	
ردیف	سؤال	بارم	
ایمان دو نیم است: نیمی صبر و نیمی شکر « پیامبر (ص) »			
دانش آموز عزیز: ضمن آرزوی موفقیت برای شما لطفاً با مطالعه دقیق ۲۲ سوال زیر، پاسخ مناسب را در محل‌های تعیین شده بنویسید.			
۱-	بر اساس آیه «الَّذِينَ يُنْفِقُونَ أَمْوَالَهُمْ بِاللَّيْلِ وَالنَّهَارِ سِرًّا وَعَلَانِيَةً فَلَهُمْ أَجْرُهُمْ عِنْدَ رَبِّهِمْ وَلَا خَوْفٌ عَلَيْهِمْ وَلَا هُمْ يَحْزَنُونَ» خداوند به انسان چه سفارشی می‌کند؟	۱	
پاسخ درست را با گذاشتن علامت × در داخل <input type="checkbox"/> مشخص کنید.			
۲-	رفتار پیامبران الهی در مقابل عقاید خرافی و باطل مشرکان چگونه بود؟ الف) آنان را به حال خود رها می‌کردند <input type="checkbox"/> ب) مشرکان را به اندیشه ورزی و تفکر دعوت می‌کردند <input type="checkbox"/> ج) برای هدایت آنان دعا می‌کردند <input type="checkbox"/> د) با ارائه معجزه پیامبری خود را ثابت می‌کردند <input type="checkbox"/>	۰/۵	
۳-	از نظر حضرت علی (ع) دو دوست و برادر همراه کدامند؟ الف) ایمان - شناخت <input type="checkbox"/> ب) علم - عمل <input type="checkbox"/> ج) ایمان - عمل <input type="checkbox"/> د) اعتماد - عمل <input type="checkbox"/>	۰/۵	
درست یا نادرست بودن جملات زیر را مشخص کنید.			
۴-	می‌توان هر صفتی را که در مخلوقات است، به خدا نسبت داد.	درست <input type="checkbox"/> نادرست <input type="checkbox"/>	۰/۵
۵-	علاقه افراطی به دوست باعث صمیمیت بیشتر در دوستی می‌گردد.	درست <input type="checkbox"/> نادرست <input type="checkbox"/>	۰/۵
جمله زیر را با کلمات مناسب کامل کنید.			
۶-	جهاد در فرهنگ اسلامی به معنای است.		۰/۵
۷-	بهترین راه برای شناخت صفات خداوند است.		۰/۵
به سوالات زیر پاسخ کامل دهید.			
۸-	هدف خداوند از وضع قوانین و احکام اسلام چیست؟	۱	
۹-	هریک از نمونه‌های زیر از چه راهی ایمان را در قلب خود تقویت کرده‌اند؟ الف) مریم از جمع افرادی که مشغول غیبت کردن هستند، خارج می‌شود. «.....» ب) علی در رعایت مساوات و عدالت از رفتار حضرت علی (ع) پیروی می‌کند. «.....»	۱	
۱۰-	برای هر یک از جهاد‌های زیر یک نمونه بنویسید. الف) جهاد دفاعی: «.....» ب) جهاد ابتدایی: «.....»	۱	
ادامه سؤالات در صفحه بعد			
			صفحه ۱

بارم	سؤال	ردیف
۱	چه دوستانی در روایات به شمشیر زهرآلود تشبیه شده اند؟ توضیح دهید.	۱۱-
۱	افراد سرکش در مقابل دعوت پیامبران چگونه رفتار می کردند؟	۱۲-
۱	براساس سخن امام کاظم (ع) بین «امربه معروف و نهی از منکر» و «استجابت دعا» چه ارتباطی وجود دارد؟	۱۳-
۱/۵	سه نمونه از اقدام ابرقدرت ها برای شکست جمهوری اسلامی ایران را بنویسید.	۱۴-
۱	با توجه به عبارت های قرآنی داخل کادر، آیه و ترجمه آن را کامل کنید. « یک عبارت اضافی است.» <div style="border: 1px solid black; padding: 5px; text-align: center;"> <p>أَنْتُمْ الْأَعْلَوْنَ - لَا يَزَالُونَ - لَا تَحْزَنُوا - كُنْتُمْ مُؤْمِنِينَ</p> </div> <p>﴿وَلَا تَهِنُوا وَ..... وَ..... إِنَّ.....﴾ « و سست نشوید و غمگین نباشید زیرا که شما برترید اگر داشته باشید. »</p>	۱۵-
۱/۵	نتیجه هریک از رفتارهای زیر را از میان کلمات داده شده بیابید و مقابل آن بنویسید: « یک کلمه اضافی است.» <div style="border: 1px solid black; padding: 5px; text-align: center;"> <p>ترساندن دشمن - حسرت و پشیمانی در آخرت - پیروزی همیشگی - آرامش روحی</p> </div> <p>الف) گوش سپردن به آیات قرآن : ب) مبارزه در راه خدا : ج) : انتخاب دوست نا مناسب:</p>	۱۶-
ادامه سؤالات در صفحه بعد		صفحه ۲

نام : نام خانوادگی : نام آموزشگاه : شماره‌ی داوطلب : نوبت: شهریور ماه	« باسمه تعالی » اداره کل آموزش و پرورش خراسان رضوی اداره سنجش آموزش و پرورش سوالات امتحان هماهنگ پایه نهم (متوسطه اول) درس : پیامهای آسمان (اهل سنت) Sanjesh.razavi.medu.ir	تاریخ امتحان : ۹۷/۰۶/۰۷ مدت امتحان : ۶۰ دقیقه ساعت شروع : ۹ صبح تعداد صفحات : ۳ تعداد سوال : ۲۲
---	--	---

ردیف	سؤال	بارم
سوالات ویژه ی دانش آموزان اهل سنت		
۱۷-	عمرین عبدالعزیز (رحمه الله علیه) در اداره حکومت چه روشی داشت؟	۱
۱۸-	چرا انسان نمی تواند با پیروی کردن از خواسته های شخصی و یا نظر دیگرانسان ها، راه سعادت را پیدا کند؟	۱
۱۹-	سرفه عمدی هنگام نماز در چه وقتی جایز است ؟	۱
۲۰-	فرض یا سنت بودن را در موارد زیر برای وضو مشخص کنید . الف) شستن هر دو دست تا مرفق و آرنج ها ب) مسح کل سر فرض <input type="checkbox"/> سنت <input type="checkbox"/> فرض <input type="checkbox"/> سنت <input type="checkbox"/>	۱
۲۱-	براساس سخن پیامبر(ص) دو نمونه از کارهایی را نام ببرید که پاداش آن بعد از مرگ انسان قطع نمی شود.	۱
۲۲-	مهمترین چیزهایی که زکات به آنها تعلق می گیرد، کدام است؟ (چهار مورد)	۱

دانش آموزان عزیز و همکاران محترم می توانند با مراجعه به سایت مندرج در سربرگ، سوال و راهنمای تصحیح این درس را مشاهده نمایند.

صفحه ۳		موفق باشید		جمع بارم ۲۰	
تصحیح و نمره گذاری		نام و نام خانوادگی مصحح / دبیر		نام و نام خانوادگی مصحح / دبیر	
با عدد	با حروف	با عدد	با حروف	با عدد	با حروف
امضاء :		امضاء :		امضاء :	

تاریخ امتحان : ۱۳۹۷/۰۶/۰۷		به نام خدا					
اداره سنجش آموزش و پرورش		راهنمای تصحیح سؤالات امتحان هماهنگ پایه نهم (استان خراسان رضوی)					
		درس: پیامهای آسمان					
		سال تحصیلی ۹۷-۱۳۹۶					
		شهریورماه					
۱	۱	۱-۱	انفاق مال ، کسانی که در شب و روز ، نهانی آشکارا انفاق می کنند پاداششان نزد پروردگار است، نه ترسی دارند و نه غمگین می شوند.				
۰/۵		۱-۲	ب) مشرکان را به اندیشه ورزی و تفکر دعوت می کردند.				
۰/۵		۱-۳	ج) ایمان - عمل				
۰/۵		۱-۴	نادرست				
۰/۵		۱-۵	نادرست				
۰/۵		۱-۶	پیکار و جنگ مسلحانه				
۰/۵		۱-۷	تفکر در کتاب آسمانی/مراجعه به سخن خود او				
۱		۱-۸	خداوند این قوانین را برای هدایت انسان به سمت سعادت و خوشبختی و جلوگیری از گمراهی او قرار داده است.				
۱		۱-۹	الف) دوری از گناهان ب) الگوگرفتن از انسان های مومن				
۱		۱-۱۰	الف) جنگ احزاب در صدر اسلام « هر نوع مثالی که در کتاب در مورد جهاد دفاعی و جهاد با سرکشان آمده است، صحیح می باشد » ب) جنگ سپاه اسلام با حکومت روم در صدر اسلام . « هر مثالی که در کتاب آمده است، صحیح می باشد.»				
۱		۱-۱۱	دوستانی که به راحتی گناهان خود را تعریف می کنند و ما را در انجام آن یا همراهی با خود دعوت می کنند. آنها وقتی اشتباه یا گناهی مرتکب می شویم با خنده از کنار ما می گذرند و حتی ما را به ادامه کار تشویق می کنند.				
۱		۱-۱۲	پیامبران را دروغگو می نامیدند تا مردم پیرو آنان نشوند و اگر در نقشه خود موفق نمی شدند، به قتل پیامبران دست می زدند.				
۱		۱-۱۳	اگر امر به معروف و نهی از منکر را ترک کنیم در این صورت حتی اگر بهترین های ما دعا کنند، دیگر مستجاب نخواهد شد. « ذکر عین حدیث صحیح است.»				
۱/۵		۱-۱۴	محاصره اقتصادی - حمله نظامی - شیخون فرهنگی				
۱		۱-۱۵	«وَلَا تَهِنُوا وَلَا تَحْزِنُوا وَأَنْتُمْ الْأَعْلَوْنَ إِنْ كُنْتُمْ مُؤْمِنِينَ» « و سست نشوید و غمگین نباشید زیرا که شما برترید اگر ایمان داشته باشید. »				
۱/۵		۱-۱۶	الف) آرامش روحی ب) پیروزی همیشگی ج) حسرت و پشیمانی در آخرت				
سوالات ویژه ی دانش آموزان شیعه							
۰/۵		۱-۱۷	حاکم اسلامی یا مرجع تقلید				
۱		۱-۱۸	خیر، در احادیث می خوانیم هر کس برای آمدن ایشان وقتی را معین کند دروغگوست. بنابراین هیچ کس نمی تواند زمان دقیق قیام آن حضرت را مشخص سازد.				
۱		۱-۱۹	به رهبری و هدایت مردم جامعه توسط فقیه جامع الشرائط، ولایت فقیه می گویند.				
۱		۱-۲۰	« ذکر هر مورد از نمونه های کتاب درسی صحیح است.»				
			<table border="1" style="width: 100%; text-align: center;"> <tr> <td>نمونه ای از آب مضاف</td> <td>نمونه ای از آب مطلق</td> </tr> <tr> <td>۱- گلاب</td> <td>۱- آب لوله کشی</td> </tr> </table>	نمونه ای از آب مضاف	نمونه ای از آب مطلق	۱- گلاب	۱- آب لوله کشی
نمونه ای از آب مضاف	نمونه ای از آب مطلق						
۱- گلاب	۱- آب لوله کشی						
۱		۱-۲۱	تربیت فرزند صالح - صدقه جاریه (وقف) - علمی که از خود به یادگار گذاشته ایم. « ذکر دو مورد و همچنین مصداق و نمونه از موارد یاد شده و حتی خارج از کتاب درسی صحیح است. »				
۱/۵		۱-۲۲	الف) نادرست ب) نادرست ج) درست				
پاسخنامه سوالات دانش آموزان اهل تسنن							
۱		۱-۱۷	او ضمن دادن اختیار به عاملان و کارگزاران حکومتی به آنان می گفت که عدالت و عمل کردن به فرمان خدا مهم ترین کار آنها است و به آنها اعلام می کرد فقط در مسائل سخت و پیچیده حکومتی با وی مشورت کنند . او شبانه از خانه خارج می شد و ضمن گشت زنی در کوچه ها ، احوال مردم را با دقت مورد رسیدگی قرار می داد.				
۱		۱-۱۸	چون خداوند با تمامی حقایق عالم است و فقط او می تواند بشر را درست راهنمایی کند. قرآن اعلام می کند پیروی کردن از خواسته های فردی یا سایر انسان ها در امور زندگی صحیح نیست و همه افراد وظیفه دارند از قوانین خدا اطاعت کنند.				
۱		۱-۱۹	سرفه ای که به اجبار و برای صاف کردن گلو انجام شود اشکالی ندارد.				
۱		۱-۲۰	الف) فرض ب) سنت				
۱		۱-۲۱	تربیت فرزند صالح - صدقه جاریه (وقف) - علمی که از خود به یادگار گذاشته ایم. « ذکر دو مورد و همچنین مصداق و نمونه از موارد یاد شده و حتی خارج از کتاب درسی صحیح است. »				
۱		۱-۲۲	دانش آموز اگر به صورت کلی اشاره کند و یا اگر موردی مثلا گندم ، جو، خرما، انگور و ... را بنویسد صحیح است : محصولات زراعی یا میوه ها (گندم، جو، خرما، انگور) ۲- دام ها (شتر، گاو، گوسفند) ۳- نقدینه ها (طلا، نقره، ویا پول) ۴- دارایی های تجارته (چیزهایی که خرید و فروش می شوند).				
همکار محترم؛ خسته نباشید.							



نام :		« باسمه تعالی »	
نام خانوادگی :		اداره کل آموزش و پرورش خراسان رضوی	
نام آموزشگاه :		اداره سنجش آموزش و پرورش	
شماره‌ی داوطلب :		سوالات امتحان هماهنگ پایه نهم (متوسطه اول)	
نوبت: خردادما ۹۷ه		درس : عربی	
		Sanjesh.razavi.medu.ir	
بارم	سؤال	ردیف	
دانش آموز عزیز : ضمن آرزوی موفقیت برای شما لطفاً با مطالعه دقیق ۱۳ سوال زیر ، پاسخ مناسب را در محل‌های تعیین شده بنویسید .			
واژه شناسی (۲ نمره)			
۰/۵	با توجه به کلمات داده شده، نام هر تصویر را بیابید و زیر آن بنویسید. « دو کلمه اضافی است » « حاسوب، شباب، طیار، مَطْعَم »	 (ب) «.....»	 (الف) «.....»
۰/۵	فقط واژه های مشخص شده را ترجمه نمایید.	(الف) هُمْ يَحْمِلُونَ حَقَائِبَهُمْ.	(ب) مَكَانٌ مُّجَهَّزٌ لِفَحْصِ الْمَرْضَى.
۰/۵	کلمات متضاد و مترادف را با گذاشتن علامت = یا ≠ مشخص کنید.	(الف) « حَرْبٌ صُلْحٌ »	(ب) « نَامٌ رَقَدَ »
۰/۵	کدام گزینه از نظر معنایی با کلمه داده شده هماهنگ است؟	(الف) «الطَّارِحُ»: أَلْسَمَاءُ □ أَلْحَلِيبُ □ أَلْسَحَابُ □ أَلْسَعِي □	(ب) «الْحَطْبُ»: إِحْتِرَاقٌ □ صِعَابٌ □ مَصِيرٌ □ رِيَّاحٌ □
مهارت ترجمه (۷ نمره)			
۰/۷۵ ۰/۷۵ ۱	سخنان حکیمانه ی زیر را ترجمه نمایید. (الف) أَلْسَخَاءُ حَسَنٌ وَلَكِنَّ فِي الْأَغْنِيَاءِ أَحْسَنٌ . (ب) أَلْعِلْمُ وَ الْمَالُ يَسْتُرَانِ كُلَّ عَيْبٍ . (ج) أَحَبُّ بِيُوتِكُمْ إِلَيَّ اللهُ بَيْتٌ فِيهِ يَتِيمٌ مَكْرَمٌ.		
۰/۷۵ ۰/۷۵ ۱ ۱	جملات داده شده را به فارسی ترجمه کنید. (الف) يَا زُمَّلَائِي، عَلَيكُمْ بِالْمُحَاوَلَةِ. (ب) يَتَسَتَّى الْعِرَالَةُ وَ بَقِيَّتْ فِي مَكَانِهَا. (ج) سَاعَدَتْ أُخْتِي الْكَبِيرَةَ جَدَّتْنَا. (د) كَانَ الثَّلَامِيذُ يَرْكَبُونَ حَافِلَةَ الْمَدْرَسَةِ.		
ادامه در صفحه بعد		صفحه ۱	

نام خانوادگی :		نام :	
نام آموزشگاه :		شماره‌ی داوطلب :	
نوبت: خردادما ۹۷ه		Sanjesh.razavi.medu.ir	
تاریخ امتحان : ۹۷/۰۳/۰۹		« باسمه تعالی »	
مدت امتحان : ۶۰ دقیقه		اداره کل آموزش و پرورش خراسان رضوی	
ساعت شروع : ۱۰ صبح		اداره سنجش آموزش و پرورش	
تعداد صفحات : ۳		سوالات امتحان هماهنگ پایه نهم (متوسطه اول)	
تعداد سوال : ۱۳		درس : عربی	
بارم	سؤال	ردیف	
۰/۵	ترجمه ناقص هر یک از جمله های زیر را کامل کنید.	۷-	
۰/۵	الف) يَنْهَضُ حَامِدٌ صَبَاحًا فِي السَّاعَةِ السَّابِعَةِ إِلَّا رُبْعًا.		
۰/۵	حامد در ساعت صبح		
	ب) وَ بَعْدَ مُدَّةٍ، اسْتَلَمَتِ الْمُدْرَسَةُ رِسَالَةَ أُخْرَى .		
	و پس از مدتی معلم دیگری را		
مهارت شناخت و کاربرد قواعد (۲ نمره)			
۰/۵	وزن کلمه « تَعَامَلٌ » و حروف اصلی کلمه « مَضْرُوبٌ » را بنویسید.	۸-	
	وزن کلمه « تَعَامَلٌ » :		
	حروف اصلی کلمه « مَضْرُوبٌ » :		
۰/۵	نوع فعل های مشخص شده را بنویسید.	۹-	
	الف) ﴿ لَا تَقْرَبُوا هَذِهِ الشَّجَرَةَ ﴾		
	ب) ﴿ رَبِّ إِنِّي ظَلَمْتُ نَفْسِي ﴾		
۰/۲۵	با توجه به کلمات داخل پرانتز ، در جای خالی فعل مناسب قرار دهید.	۱۰-	
۰/۲۵	الف) الْشَّرِطِيُّ مِنْ مَمَرِ الْمَشَاةِ . (عَبَّرَ - عَبَّرَتَ)		
۰/۲۵	ب) النَّسَاءُ بَعْضَ الْأَشْيَاءِ الصَّرُورِيَّةِ . (تَطْبُخْنَ - يَجْلِبْنَ)		
۰/۲۵	ج) يَا صَدِيقَانِ، هَذِهِ الْمِنْضَدَةُ . (إِحْمِلَا - إِحْمِلِي)		
۰/۲۵	د) يَا طَلَّابُ، عُيُوبَ أَصْدِقَائِكُمْ . (لَا تَكْشِفْ - لَا تَكْشِفُوا)		
مهارت درک و فهم (۳ نمره)			
۱	در جای خالی هر جمله کلمه مناسب از میان کلمات زیر بنویسید. « دو کلمه اضافی است »	۱۱-	
	« دَلِيلٌ، مَصْنَعٌ، مُهَدَّدَةٌ، مَلْعَبٌ، الْبَيْرُ، حِدَارِيَّةٌ »		
	الف) كَتَبَ الطَّبِيبُ لِلْمَرِيضِ حُبُوبًا لِمُعَالَجَةِ صُدَاعِهِ.		
	ب) اسْتَخْرَجَ الْفَلَّاحُونَ مَاءً مِنْ لِلزَّرَاعَةِ .		
	ج) فَاطِمَةُ مَشْغُولَةٌ بِتَهْيِئَةِ صَحِيفَةٍ		
	د) جَارُنَا يَعْمَلُ فِي الْكِرَاسِيِّ .		
ادامه در صفحه بعد		صفحه ۲	

نام خانوادگی:	نام:
نام آموزشگاه:	اداره کل آموزش و پرورش خراسان رضوی
شماره‌ی داوطلب:	اداره سنجش آموزش و پرورش
نوبت: خردادما ۹۷ه	سوالات امتحان هماهنگ پایه نهم (متوسطه اول)
	درس: عربی
	Sanjesh.razavi.medu.ir
تاریخ امتحان: ۹۷/۰۳/۰۹	« باسمه تعالی »
مدت امتحان: ۶۰ دقیقه	
ساعت شروع: ۱۰ صبح	
تعداد صفحات: ۳	
تعداد سوال: ۱۳	

ردیف	سؤال	بارم
۱۲-	<p>با توجه به متن زیر به سوالات داده شده، پاسخ کوتاه دهید.</p> <p>«أَرَادَ مُسَافِرٌ تَسْلِيمَ نُقُودِهِ إِلَى شَخْصٍ أَمِينٍ. فَذَهَبَ إِلَى قَاضِي بَلَدِهِ وَ قَالَ لَهُ: «إِنِّي سَوْفَ أُسَافِرُ وَأُرِيدُ تَسْلِيمَ نُقُودِي عِنْدَكَ.» فَقَالَ الْقَاضِي: «لَا بَأْسَ، اجْعَلْ نُقُودَكَ فِي ذَلِكَ الصُّنْدُوقِ.» فَوَضَعَ الرَّجُلُ نُقُودَهُ فِي الصُّنْدُوقِ. «وَلَمَّا رَجَعَ مِنَ السَّفَرِ؛ طَلَبَ مِنْهُ الْأَمَانَةَ، فَقَالَ الْقَاضِي: «إِنِّي لَا أَعْرِفُكَ.»</p> <p>الف) ماذا أَرَادَ المُسَافِرُ؟</p> <p>ب) أَيْنَ وَضَعَ الرَّجُلُ نُقُودَهُ؟</p> <p>ج) مَتَى طَلَبَ الرَّجُلُ الْأَمَانَةَ مِنَ الْقَاضِي؟</p> <p>د) هَلْ اسْتَرَجَعَ الرَّجُلُ نُقُودَهُ مِنَ الْقَاضِي؟</p>	۲

مهارت مکالمه (۱ نمره)

۱۳-	<p>با توجه به تصاویر زیر، پاسخ کوتاه دهید.</p>	۱
		
		
	الف) يَمَّ يَلْعَبُ عَلِيٌّ؟	ب) الْيَوْمُ، يَوْمٌ

پرسش شفاهی (۵ نمره)

۱۴-	روانخوانی	۳
۱۵-	مکالمه	۲

دانش آموزان عزیز و همکاران محترم می توانند با مراجعه به سایت مندرج در سربرگ، سوال و راهنمای تصحیح این درس را مشاهده نمایند.

صفحه ۳		موفق باشید		جمع بارم ۲۰	
تصحیح و نمره گذاری		نام و نام خانوادگی مصحح/ دبیر		نام و نام خانوادگی مصحح/ دبیر	
با عدد	با حروف	با عدد	با حروف	با عدد	با حروف
					امضاء:

تاریخ امتحان ۹۷/۳/۹		باسمه تعالی	
اداره سنجش آموزش و پرورش		راهنمای تصحیح سؤالات امتحان هماهنگ پایه نهم (استان خراسان رضوی)	
		درس : عربی (نوبت صبح)	
		سال تحصیلی : ۹۶-۹۷	
		خردادماه	
۰/۵		الف) طَبَّار ب) حاسوب	-۱
۰/۵		الف) کیف ها ب) معاینه	-۲
۰/۵		الف) « حَرْبٌ ≠ صُلْحٌ » ب) « نَامٌ = رَقْدٌ »	-۳
۰/۵		الف) اَلْحَلِيبُ ب) اِحْتِرَاقٌ	-۴
۰/۷۵		الف) سخاوت (بخشنده) نیکوست اما در ثروتمندان نیکوتر است. (بهرتر است)	-۵
۰/۷۵		ب) علم و مال هر عیبی را می پوشاند.	
۱		ج) محبوب ترین خانه های شما نزد خدا خانه ای است که در آن یتیمی گرامی داشته شود.	
۰/۷۵		الف) ای همشاگردی های من، شما باید تلاش کنید. (تلاش کردن بر شما لازم است)	-۶
۰/۷۵		ب) آهونا امید شد و در جایش باقی ماند.	
۱		ج) خواهر بزرگم به مادربزرگمان کمک کرد.	
۱		د) دانش آموزان سوار اتوبوس مدرسه می شدند.	
۰/۵		الف) حامد در ساعت یک ربع به هفت صبح برمی خیزد.	-۷
۰/۵		ب) و پس از مدتی معلم نامه دیگری را دریافت کرد.	
۰/۵		وزن کلمه « تَعَامَلٌ » : تَفَاعَلٌ حروف اصلي کلمه « مَضْرُوبٌ » : ضَرْبٌ	-۸
۰/۵		الف) ﴿ لَا تَقْرَبُوا هَذِهِ الشَّجَرَةَ ﴾ فعل نهی ب) ﴿ رَبِّ اِنِّي ظَلَمْتُ نَفْسِي ﴾ فعل ماضی	-۹
۱		الف) عَبَّرَ ب) يَجْلِبْنَ ج) اِحْمِلَا د) لَا تَكْشِفُوا	-۱۰
۱		الف) مُهَدَّئَةٌ ب) البئرِ ج) جِدَارِيَّةٌ د) مَصْنَعٌ	-۱۱
۲		الف) تَسْلِيمٌ نُقُوْدِهِ اِلَى شَخِصٍ اَمِيْنٍ ب) فِي الصُّنْدُوْقِ ج) لَمَّا رَجَعَ مِنَ السَّفَرِ د) لَا	-۱۲
۱		الف) بِالْكُرَّةِ ب) اَلْيَوْمِ، يَوْمُ الْاَرْبَعَاءِ	-۱۳

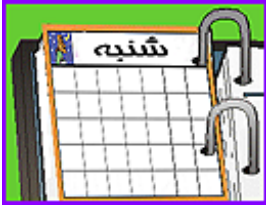

نام خانوادگی :	نام : « باسمه تعالی »
نام آموزشگاه :	اداره کل آموزش و پرورش خراسان رضوی
شماره‌ی داوطلب :	اداره سنجش آموزش و پرورش
نوبت: خردادماه ۹۷	سوالات امتحان هماهنگ پایه نهم (متوسطه اول)
	درس : عربی
	Sanjesh.razavi.medu.ir
تاریخ امتحان : ۹۷/۰۳/۰۹	
مدت امتحان : ۶۰ دقیقه	
ساعت شروع : ۱۳ (بعد از ظهر)	
تعداد صفحات: ۳	
تعداد سوال: ۱۳	

ردیف	سؤال	بارم
۷-	ترجمه ناقص هر یک از جمله های زیر را کامل کنید. الف) كَانَ دَلِيلَ السَّفَرِ يُسَاعِدُ حُجَّاجَ الْقَافِلَةِ. سفر، قافله حجاج را ب) وَ فِي مِلْفِ السَّنَةِ الثَّالِثَةِ: هِيَ فَقَدَتْ وَالِدَتَهَا. و در سال : او مادرش را از دست داد.	۰/۵ ۰/۵
مهارت شناخت و کاربرد قواعد (۲ نمره)		
۸-	وزن کلمه « اِشْتِغَالَ » و حروف اصلی کلمه « فَاتِح » را بنویسید. وزن کلمه « اِشْتِغَالَ » : حروف اصلی کلمه « فَاتِح » :	۰/۵
۹-	نوع فعل های مشخص شده را بنویسید. الف) أَنْتِ فَائِزَةٌ. سَتَنْجَحِينَ قَرِيبًا. ب) ﴿لَا تَحْزَنْ إِنَّ اللَّهَ مَعَنَا﴾	۰/۵
۱۰-	با توجه به کلمات داخل پرانتز ، در جای خالی فعل مناسب قرار دهید. الف) الْمُؤَظَّفُ فِي الْإِدَارَةِ. (يَعْمَلُ - عَمِلَتْ) ب) الْمُهَنْدِسُونَ جِسْرًا لِعُبُورِ السَّيَّارَاتِ. (تَصْنَعُونَ - صَنَعُوا) ج) يَا زَمِيلَانِ، بِصَوْتٍ مُرْتَفِعٍ. (لَا تَضْحَكِي - لَا تَضْحَكَ) د) يَا أَخَوَاتِي، نِعْمَةَ اللَّهِ. (أَشْكُرُ - أَشْكُرْنَ)	۰/۲۵ ۰/۲۵ ۰/۲۵ ۰/۲۵
مهارت درک و فهم (۳ نمره)		
۱۱-	در جای خالی هر جمله کلمه مناسبی از میان کلمات زیر بنویسید. « دو کلمه اضافی است » « عَضْبَانٌ ، مَلَابِسٌ ، رَيْسِي ، رِيَاضَةٌ ، تَمُوتُ ، قَبَّلَ » الف) كُرَّةُ الْقَدَمِ يَلْعَبُ فِيهَا أَحَدٌ عَشَرَ لَاعِبًا. ب) يَجْلِبُ الْبَائِعُ جَدِيدَةً إِلَى دُكَّانِهِ لِالْبَيْعِ. ج) وَ اعْمَلْ لِأَخْرَجِكَ كَأَنَّكَ عَدَاً. د) ظَلَمْتَ صَدِيقَكَ فَهُوَ عَلَيْكَ.	۱
صفحه ۲		ادامه در صفحه بعد

نام خانوادگی:	اداره کل آموزش و پرورش خراسان رضوی	نام: ۹۷/۰۳/۰۹
نام آموزشگاه:	اداره سنجش آموزش و پرورش	مدت امتحان: ۶۰ دقیقه
شماره‌ی داوطلب:	سوالات امتحان هماهنگ پایه نهم (متوسطه اول)	ساعت شروع: ۱۳ (بعد از ظهر)
نوبت: خرداد ماه ۹۷	درس: عربی	تعداد صفحات: ۳
	Sanjesh.razavi.medu.ir	تعداد سوال: ۱۳

ردیف	سؤال	بارم
۱۲-	با توجه به متن زیر به سوالات داده شده، پاسخ کوتاه دهید. «يَعْتَقِدُ بَعْضُ الْعُلَمَاءِ أَنَّ لِلْأَلْوَانِ تَأْثِيرًا عَلَيْنَا. إِنَّ أَحَبَّ الْأَلْوَانِ إِلَى الْعَيْنِ، الْأَلْوَانَ الطَّبِيعِيَّةَ الَّتِي نَشَاهِدُهَا حَوْلَنَا فِي اللَّيْلِ وَ النَّهَارِ وَ هِيَ اللَّوْنُ الْأَخْضَرُ وَ اللَّوْنُ الْأَزْرَقُ السَّمَاوِيُّ ثُمَّ اللَّوْنُ الْأَصْفَرُ مِثْلُ لَوْنِ بَعْضِ أَوْرَاقِ الْحَرْيفِ.» الف) ماذا يَعْتَقِدُ بَعْضُ الْعُلَمَاءِ؟ ب) ما هِيَ الْأَلْوَانُ الطَّبِيعِيَّةُ؟ ج) ما لَوْنُ أَوْرَاقِ الْحَرْيفِ؟ د) هل الْأَلْوَانُ الطَّبِيعِيَّةُ مُفِيدَةٌ لِلْعَيْنِ؟	۲

مهارت مکالمه (۱ نمره)

۱۳-	با توجه به تصاویر زیر، پاسخ کوتاه دهید.	۱
	 	
	الف) مَنْ هُوَ؟	ب) آيَوْمَ، يَوْمٌ

پرسش شفاهی (۵ نمره)

۱۴-	روانخوانی	۳
۱۵-	مکالمه	۲

دانش آموزان عزیز و همکاران محترم می توانند با مراجعه به سایت مندرج در سربرگ، سوال و راهنمای تصحیح این درس را مشاهده نمایند.

صفحه ۳		موفق باشید		جمع بارم ۲۰	
تصحیح و نمره گذاری	نام و نام خانوادگی	نمره نهایی پس از رسیدگی به اعتراضات	نام و نام خانوادگی	مصحح / دبیر	نام و نام خانوادگی
با عدد	با حروف	با عدد	با حروف	امضاء:	امضاء:

تاریخ امتحان ۹۷/۳/۰۹		باسمه تعالی	
اداره سنجش آموزش و پرورش		راهنمای تصحیح سؤالات امتحان هماهنگ پایه نهم (استان خراسان رضوی)	
		درس : عربی (نوبت عصر)	
		سال تحصیلی : ۹۶-۹۷	
		خردادماه	
۰/۵		الف) عَرَبَة (ب) بَدِين	۱-
۰/۵		الف) گریه/گریه کردن (ب) مردود	۲-
۰/۵		الف) «إِعْطَاءٌ ≠ أَخْذٌ» (ب) «طَوِيلٌ ≠ قَصِيرٌ»	۳-
۰/۵		الف) سَحَاب (ب) جَمَاعَة	۴-
۰/۷۵		الف) به راستگویی و امانتداری نگاه کنید.	۵-
۰/۷۵	۱	ب) هرکس (کسی که) در خردسالی اش پیرسد (پرسید) در بزرگی اش (بزرگسالی اش) پاسخ می‌دهد (پاسخ داد)	
	۱	ج) ناتوان ترین مردم کسی است که در (از) به دست آوردن دوستان (برادران) ناتوان باشد. (ناتوان است)	
۰/۷۵		الف) و کسی برای نجاتشان نیامد.	۶-
۰/۷۵		ب) روباه برای خروج بار دیگر تلاش کرد.	
	۱	ج) برادر کوچکترم را برای نوشتن تکالیفش صدا زد.	
	۱	د) شامت را در ساعت هشت و ربع شب می‌خوری.	
۰/۵		الف) راهنمای سفر، قافله حجاج را کمک می‌کرد.	۷-
۰/۵		ب) و در پرونده سال سوم : او مادرش را از دست داد.	
۰/۵		وزن کلمه « اِشْتِغَالٌ » : اِفْتِعال حروف اصلي کلمه « فَاتِحٌ » : فَتْح	۸-
۰/۵		الف) أَنْتِ فَائِزَةٌ. سَتَنْجَحِينَ قَرِيبًا. مستقبل (ب) ﴿لَا تَحْزَنُ إِنَّ اللَّهَ مَعَنَا﴾ نهي	۹-
	۱	الف) يَعْمَلُ (ب) صَنَعُوا (ج) لَا تَضْحَكُوا (د) أَشْكُرَنَّ	۱۰-
	۱	الف) رِيَاضَةٌ (ب) مَلَابِسَ (ج) تَمَوْتُ (د) عَضْبَانُ	۱۱-
	۲	الف) أَنَّ لِلْأَلْوَانِ تَأْثِيرًا عَلَيْنَا ب) هِيَ اللَّوْنُ الْأَخْضَرُ وَالْأَزْرَقُ السَّمَاوِيُّ ج) اللَّوْنُ الْأَصْفَرُ د) نعم	۱۲-
	۱	الف) السَّائِقُ (الرَّجُلُ) (ب) الْيَوْمُ، يَوْمُ السَّبْتِ	۱۳-

موفق باشید

نام:	اداره کل آموزش و پرورش خراسان رضوی	بسمه تعالی
نام خانوادگی:	اداره سنجش آموزش و پرورش	تاریخ امتحان ۹۷/۴/۱۳
نام آموزشگاه:	سوالات امتحان هماهنگ پایه نهم (متوسطه اول)	مدت امتحان: ۶۰ دقیقه
شماره ی داوطلب:	درس: عربی	ساعت شروع: ۹:۳۰
نوبت: غایبین موجه خرداد	sanjesh.razavi.medu.ir	تعداد صفحات: ۳
		تعداد سوال: ۱۳

ردیف	سؤال	بارم
مهارت ترجمه (۷ نمره)		
۱	آیات واحادیث شریفه ی داده شده رابه فارسی ترجمه کنید. الف) عَلِيكَ بِذِكْرِ اللَّهِ فَاِنَّهُ نُوْرُ الْقَلْبِ ب) «رَبِّ اِنِّي ظَلَمْتُ نَفْسِي فَاغْفِرْ لِي»	۲ نمره
۲	ترجمه ی درست هر عبارت را انتخاب نمایید. الف) لَا تَكْشِفُوا عِيُوْبَ اَصْدِقَائِكُمْ. ب) اِصْنَعْ جِدَارًا خَشِيْبًا بَيْنَنَا ۱- عیب های دوستانتان را آشکار نکنید <input type="checkbox"/> ۲- عیب های دوستانتان را آشکار نمی کنید <input type="checkbox"/> ۱- بین ما دیواری چوبی بساز <input type="checkbox"/> ۲- بین ما دیواری چوبی ساخت <input type="checkbox"/>	۰/۵
۳	عبارات داده شده را به فارسی ترجمه کنید. الف) الْمُدْرَسَةُ لَا مَتَّ نَفْسَهَا وَغَيَّرَتْ مَصِيْرَهَا. ۱ نمره..... ب) اَشْكُرْكَ عَلٰى عَمَلِكَ الصَّالِحِ ۰/۷۵..... ج) كَانَ فَرِيْقٌ مِنْهُمْ يَسْمَعُوْنَ كَلَامَ اللّٰهِ. ۰/۷۵ نمره..... د) يُوْجَدُ هٰذَا الْفِيْتَامِيْنَ فِي الْحَلِيْبِ الطَّازِجِ. ۰/۷۵..... ه) ثُمَّ اَمْرٌ بَعَزَلِهٖ ۰/۷۵..... و) سَتَنْجِحِيْنَ قَرِيْبًا ۰/۵.....	۴/۵
مهارت واژه شناسی (۲ نمره)		
۴	نام هر تصویر را در عبارت داده شده بیابید و در کنار آن بنویسید. (یک تصویر اضافه است) (التَّلْبُ حَيْوَانٌ مَّكَارٌ. هُوَ يَعِيْشُ فِي الْحَدِيْقَةِ الرَّمَانِ)	۰/۵
	  	

بسمه تعالی	
نام:	اداره کل آموزش و پرورش خراسان رضوی
نام خانوادگی:	اداره سنجش آموزش و پرورش
نام آموزشگاه:	سوالات امتحان هماهنگ پایه نهم (متوسطه اول)
شماره ی داوطلب:	درس: عربی
نوبت: غایبین موجه خرداد	sanjesh.razavi.medu.ir
تاریخ امتحان ۹۷/۴/۱۳	
مدت امتحان: ۶۰ دقیقه	
ساعت شروع: ۹:۳۰	
تعداد صفحات: ۳	
تعداد سوال: ۱۳	
ردیف	سؤال
۵	فقط کلماتی که زیر آنها خط کشیده شده است را ترجمه کنید. ما رأیتَ الْمُتَحَفَّ حَتَّى الْآنَ. مَا عِنْدِي فُرْصَةٌ
۶	کلمه ی ناهماهنگ را در هر دسته از کلمات مشخص کنید. («الف» از نظر مفهوم و «ب» از نظر ساختار و قواعد) الف) راقِد - المُسْتَشْفَى - المُمْرِض - راسِب ب) أترکوا - اِحْمِلنَ - یَرْجِعُ - اجْلِسنَ
۷	در عبارات «الف» یک متضاد و در عبارات «ب» یک مترادف بیابید و بنویسید. الف) مَنْ كَثَرَ خَطْوَهُ قَلَّ حَيَاؤُهُ. ب) هِيَ فَرِحَتْ مِنْ نَجَاحِهَا وَ ضَحِكَتْ #.....=.....
مهارت شناخت و کاربرد قواعد (۲ نمره)	
۸	باتوجه به عبارت داده شده موارد خواسته شده را بنویسید. إِنَّ أَحَبَّ عِبَادِ اللَّهِ إِلَيَّ اللَّهُ أَنْصَحَهُمْ لِعِبَادِهِ. وزن کلمه «عباد» (.....) حروف اصلی کلمه «أَنْصَحَهُمْ» (.....)
۹	جاهای خالی را باتوجه به کلمات داخل پرانتز کامل کنید الف) يا طَالِبَتَانِ عَنْ مَوَادِّ غِذَائِيَّةٍ. (اِبْحَثَا - اِبْحَثْنَ) ب) يا طِفْلَةٌ وَ لَا تَصْرُخِي (اُسْكُتْ - اُسْكُتِي) ج) يَاطْلُبُ إِلَى نُزُولِ الْمَطْرِ. (اُنْظُرُوا - اُنْظُرْنَ) د) يا حَبِيبَتِي حَقِيبَتِكَ. (لا تَجْعَلْ - لا تَجْعَلِي) ه) التَّلَامِيذُ صَحِيفَةَ جِدَارِيَّةٍ. (رَسَمُوا - رَسَمْنَ) و) اللَّهُ الَّذِينَ آمَنُوا مِنْكُمْ. (يَرْفَعُ - تَرْفَعُ)
مهارت درک و فهم (۱ نمره)	
۱۰	جمله ی بهم ریخته ی عربی داده شده را مرتب کنید. (لا - لِنَجَاحَتِكَ - رِجَاءٌ)
۱۱	برای هر توضیح یک کلمه ی مناسب انتخاب کنید. الف) شَبَابٌ يَدْرِسُونَ فِي الْجَامِعَاتِ الشَّرْطِيُّ <input type="checkbox"/> الطَّلَابُ <input type="checkbox"/> ب) مَنْ يَعْمَلُ فِي زِرَاعَةِ الْأَرْضِ الْفَلَّاحُ <input type="checkbox"/> الْمَطَرُ <input type="checkbox"/>
ادامه سوالات در صفحه بعد	



نام:	اداره کل آموزش و پرورش خراسان رضوی	بسمه تعالی
نام خانوادگی:	اداره سنجش آموزش و پرورش	تاریخ امتحان ۹۷/۴/۱۳
نام آموزشگاه:	سوالات امتحان هماهنگ پایه نهم (متوسطه اول)	مدت امتحان: ۶۰ دقیقه
شماره ی داوطلب:	درس: عربی	ساعت شروع: ۹:۳۰
نوبت: غایبین موجه خرداد	sanjesh.razavi.medu.ir	تعداد صفحات: ۳
		تعداد سوال: ۱۳

ردیف	سؤال	بارم
------	------	------

درک مطلب (۲ نمره)

۱۲	<p>باتوجه به متن داده شده به سوالات ذیل پاسخ دهید.</p> <p>مِن فَوَائِدِ فَيْتَامِينِ A زِيَادَةِ وَزَنِ الْأَطْفَالِ وَهُوَ مُفِيدٌ لِلْعَيْنِ وَكَانَ الطَّيَّارُونَ فِي الْحَرْبِ الْعَالَمِيَّةِ الثَّانِيَةِ يَتَنَاوَلُونَهُ قَبْلَ ابْتِدَاءِ الْغَارَاتِ اللَّيْلِيَّةِ. وَهَذَا الْفَيْتَامِينُ مَوْجُودٌ فِي النَّبَاتَاتِ وَالْفَوَاكِهِ بِاللَّوْنِ الْأَصْفَرِ كَالْمِشْمِشِ وَالْجَزْرِ وَقَشْرِ الْبُرْتُقَالِ.</p> <p>الف) مَتَى كَانَ يَتَنَاوَلُ الطَّيَّارُونَ هَذَا الْفَيْتَامِينِ؟</p> <p>ب) مَا فَائِدَةُ فَيْتَامِينِ A ؟</p> <p>ج) هَذَا الْفَيْتَامِينُ مَوْجُودٌ فِي التُّفَاحِ .</p> <p>د) هَلْ فَيْتَامِينِ A مُفِيدٌ لِلْعَيْنِ ؟</p> <p> <input type="checkbox"/> نادرست <input type="checkbox"/> درست <input type="checkbox"/> لا <input type="checkbox"/> نَعَمْ </p>	۲
----	--	---

مهارت مکالمه (۱ نمره)

۱۳	<p>با توجه به تصاویر به پرسشهای زیر پاسخ کوتاه دهید</p> <div style="display: flex; justify-content: space-around; align-items: center;">   </div> <p>الف) ماذا في الصورة؟</p> <p>ب) كم الساعة الان؟</p>	۱
----	---	---

پرسش شفاهی (۵ نمره)

روانخوانی	۳
مکالمه	۲

دانش آموزان عزیز و همکاران محترم می توانند با مراجعه به سایت مندرج در سربرگ، سوال و راهنمای تصحیح این درس را مشاهده نمایند.

صفحه ۳	موفق باشید	جمع نمرات	۲۰
--------	------------	-----------	----

نام و نام خانوادگی	نمره نهایی پس از رسیدگی به اعتراضات	نام و نام خانوادگی	تصحیح و نمره گذاری
مصحح/ادبیر		مصحح/ادبیر	
با حروف	با عدد	با حروف	با عدد

تاریخ امتحان ۹۷/۰۴/۱۳		باسمه تعالی	
اداره سنجش آموزش و پرورش		راهنمای تصحیح سؤالات امتحان هماهنگ پایه نهم (استان خراسان رضوی)	
		درس : عربی	سال تحصیلی : ۹۶-۹۷
		غایبین موجه خردادماه	
ردیف	سؤالات	بارم	
مهارت ترجمه (۷ نمره)			
۱	آیات واحادیث شریفه ی داده شده رابه فارسی ترجمه کنید. الف)توبایدخدا را یاد کنی پس قطعاً آن روشنائی قلب (دل)است ب)پروردگارا قطعاً من به خودم ظلم کردم	۲	نمره ۲
۲	ترجمه ی درست هر عبارت را انتخاب نمایید. الف) ۱ ب) ۱	۵/۰	نمره ۵/۰
۳	عبارات داده شده را به فارسی ترجمه کنید. الف) معلم خودش را سرزنش کرد و سرنوشتش را تغییر داد ب) به خاطر کارنیکت از تو تشکر میکنم ج) گروهی از آنها سخن خدا را می شنیدند د) این ویتامین در شیر تازه یافت می شود ه) سپس دستور به برکناریش را داد و) به زودی موفق خواهی شد	۵/۴	نمره ۴/۵
مهارت واژه شناسی ۲ نمره			
۴	نام هر تصویر را در عبارت داده شده بیابید و در کنار آن بنویسید. (التَّلْبُ حیوانٌ مَكَارٌ. هُوَ یَعِیشُ فی الحَدِیقَةِ الرُّمَانِ)	۵/۰	نمره ۵/۰
	  		
	التَّلْبُ الرُّمَانُ اضافه		
۵	موزه - ندارم	۵/۰	نمره ۵/۰
۶	کلمه ی ناهماهنگ را در هر دسته از کلمات مشخص کنید. (الف از نظر مفهوم و ب از نظر ساختار و قواعد) الف) راسب ب) یَرَجِعُ	۵/۰	نمره ۵/۰
۷	در عبارت «الف» یک متضاد و در عبارت «ب» یک مترادف بیابید و بنویسید کَثُرَ # قَلَّ فَرَحَتْ = ضَحَّكَتْ	۵/۰	نمره ۵/۰
مهارت شناخت . کاربرد قواعد (۲ نمره)			
۸	باتوجه به عبارت داده شده موارد خواسته شده را بنویسید. وزن کلمه «عباد» (..... فِعَالٌ) حروف اصلی کلمه « أَنْصَحَهُمْ » (..... ن - ص - ح)	۵/۰	نمره ۵/۰

۱/۵ نمره	جاهای خالی را با توجه به کلمات داخل پرانتز کامل کنید (۶مورد) الف) (إِبْحَثَا) (ب) (أَسْكُنِي) ج (أَنْظُرُوا) د) لَا تَجْعَلِي (ه) (رَسَمُوا) و) (يَرْفَعُ)	۹
مهارت درک و فهم (۳ نمره)		
۰/۵	لا رَجَاءَ لِنَجَاتِكِ	۱۰
۰/۵	الف) الطَّلَابُ (ب) الفَّلَاحُ	۱۱
برای هر توضیح یک کلمه ی مناسب انتخاب کنید.		

درک مطلب		
۲ نمره	باتوجه به متن داده شده به سوالات ذیل پاسخ دهید. الف) قَبْلَ ابْتِدَاءِ الْغَارَاتِ الْيَلِيَةِ (ب) زِيَادَةُ وَزْنِ الْاِطْفَالِ وَهُوَ مُقَيَّدَةٌ لِلْعَيْنِ (ذکر یک مورد کافی است) ج) درست د) نَعَمْ	۱۲
مهارت مکالمه (نمره)		
	با توجه به تصاویر به پرسشهای زیر پاسخ کوتاه دهید	۱۳
	 الف) الجِسرُ ویا هذا جِسرُ	 ب) السَّادِسَةُ الْاَلْا رُبْعاً

همکار گرامی خسته نباشید

بسمه تعالی		نام:
اداره کل آموزش و پرورش خراسان رضوی		نام خانوادگی:
اداره سنجش آموزش و پرورش		نام آموزشگاه:
سوالات امتحان هماهنگ پایه نهم (متوسطه اول)		شماره ی داوطلب:
درس: عربی		نوبت: جبرانی مرداد
sanjesh.razavi.medu.ir		
بارم	سؤال	ردیف
مهارت ترجمه (۷ نمره)		
۲ نمره	<p>آیات واحادیث شریفه ی داده شده رابه فارسی ترجمه کنید.</p> <p>الف) خَيْرُ النَّاسِ مَنْ نَفَعَ النَّاسِ.</p> <p>ب) أَحَبُّ الْأَعْمَالِ إِلَى اللَّهِ حِفْظُ اللِّسَانِ.</p>	۱
۰/۵	<p>ترجمه ی درست هر عبارت را انتخاب نمایید.</p> <p>الف) البینتانِ کانتا تکتبانِ واجباتها.</p> <p>۱- دختران تکالیفشان رانوشتند <input type="checkbox"/> ۲- دختران تکالیفشان را می نوشتند <input type="checkbox"/></p> <p>ب) العلمُ کثر عظیم.</p> <p>۱- علم گنجی بزرگ است <input type="checkbox"/> ۲- علم دریایی بزرگ است <input type="checkbox"/></p>	۲
۴/۵	<p>عبارات داده شده را به فارسی ترجمه کنید.</p> <p>الف) هَلْ تَقْبَلُ التُّقُوذَ الْإِيرَانِيَّةَ ۱. نمره.....</p> <p>ب) كَتَبَ صَحِيفَةً أُسْبُوعِيَّةً. ۰/۷۵.....</p> <p>ج) الْمُدْرَسَةُ عَطَّرَتْ نَفْسَهَا. ۰/۷۵. نمره.....</p> <p>د) لَا شُكْرَ عَلَيَّ الْوَاجِبَ. ۰/۷۵.....</p> <p>ه) تُشَجِّعُهُ عَلَى الْخُرُوجِ ۰/۷۵.....</p> <p>و) فَقَدْنَا سَفِينَتَنَا ۰/۵.....</p>	۳
مهارت واژه شناسی (۲ نمره)		
۰/۵	<p>نام هر تصویر را در کلمات داده شده بیابید و در کنار آن بنویسید. (یک تصویر اضافه است)</p> <p>(السَّمَكَةُ - الْأَسَدُ - الْجَزَرُ)</p> <div style="display: flex; justify-content: space-around; align-items: center;"> <div style="text-align: center;">  </div> <div style="text-align: center;">  </div> </div>	۴

نام:	اداره کل آموزش و پرورش خراسان رضوی	بسمه تعالی
نام خانوادگی:	اداره سنجش آموزش و پرورش	
نام آموزشگاه:	سوالات امتحان هماهنگ پایه نهم (متوسطه اول)	تاریخ امتحان: ۹۷/۰۵/۰۴
شماره ی داوطلب:	درس: عربی	مدت امتحان: ۶۰ دقیقه
نوبت: جبرانی مراد	sanjesh.razavi.medu.ir	ساعت شروع: ۹ صبح
		تعداد صفحات: ۳
		تعداد سوال: ۱۳

ردیف	سؤال	بارم
۵	فقط کلماتی که زیر آنها خط کشیده شده است را ترجمه کنید. أَنَّ أَلْوَانَ لَتَلْوِينُ أَوْ لِلرَّسْمِ أَوْ لِلتَّرْزِينِ.	۰/۵
۶	کلمه ی ناهماهنگ را در هر دسته از کلمات مشخص کنید. الف) يَصْنَعُونَ - يَكْتُبُ - يَشْتَعِلُ - سَمِعُوا ب) لَيْمُونٌ - الْبُرْتُقَالُ - مِشْمِشٌ - طَارِحٌ	۰/۵
۷	از بین کلمات داده شده متضاد و مترادف را مشخص کنید. (صَعْبٌ - جَمِيلٌ - سَهْلٌ - وَضَعٌ - جَعَلَ) #.....=.....	۰/۵

مهارت شناخت و کاربرد قواعد (۲ نمره)

۸	باتوجه به کلمات داده شده موارد خواسته شده را بنویسید. وزن کلمه « فاتح » (.....) حروف اصلی کلمه « معلوم » (.....)	۰/۵
۹	جاهای خالی را با توجه به کلمات داخل پرانتز کامل کنید الف) یا سَعِيدٌ دُرُوسِكُمْ. (اُكْتُبُ - اُكْتُبِي) ب) فِي حَيَاتِكَ . (اُصْدِقُ - لَا تُصْدِقُ) ج) یا زَمِيلَانِ (لَا تَنْزِلُوا - لَا تَنْزِلَا) د) أَنْتِ حَيَاتِي . (غَيَّرْتِ - غَيَّرْتِ) ه) الطُّلَابُ كَلَامَ الْمُعَلِّمِهِمْ . (يَسْمَعُ - يَسْمَعُونَ) و) الْكَلْبُ الْأَمْوَالِ . (يَحْرُسُ - تَحْرُسُ)	۱/۵

مهارت درک و فهم (۱ نمره)

۱۰	جمله ی بهم ریخته ی عربی داده شده را مرتب کنید. (فَأَسْكُتُ - إِذَا - غَضِبْتُ)	۰/۵
۱۱	برای هر توضیح یک کلمه ی مناسب انتخاب کنید. الف) الَّذِي لَا يَسْمَعُ جَيِّدًا. ثَقِيلُ السَّمْعِ <input type="checkbox"/> الزَّارِعِ <input type="checkbox"/> ب) حَيَّوَانٌ نَجِيبٌ. الْفَرَسِ <input type="checkbox"/> الْعُصْفُورِ <input type="checkbox"/>	۰/۵

ادامه سوالات در صفحه بعد

صفحه ۲

بسمه تعالی

تاریخ امتحان: ۹۷/۰۵/۰۴

مدت امتحان: ۶۰ دقیقه

ساعت شروع: ۹ صبح

تعداد صفحات: ۳

تعداد سوال: ۱۳

اداره کل آموزش و پرورش خراسان رضوی

اداره سنجش آموزش و پرورش

سوالات امتحان هماهنگ پایه نهم (متوسطه اول)

درس: عربی

sanjesh.razavi.medu.ir

نام:

نام خانوادگی:

نام آموزشگاه:

شماره ی داوطلب:

نوبت: جبرانی مرداد

ردیف	سؤال	بارم		
درک مطلب (۲ نمره)				
۱۲	<p>باتوجه به متن داده شده به سوالات ذیل پاسخ دهید.</p> <p>أَرَادَ مُسَافِرٌ تَسْلِيمَ نُقُودِهِ إِلَى شَخْصٍ أَمِينٍ. فَذَهَبَ إِلَى قَاضِي بَلَدِهِ وَقَالَ لَهُ: «إِنِّي سَوْفَ أَسَافِرُ وَأُرِيدُ تَسْلِيمَ نُقُودِي عِنْدَكَ أَمَانَةً وَ سَوْفَ أَسْتَلِمُهَا مِنْكَ بَعْدَ رُجُوعِي.» فَوَضَعَ الرَّجُلُ نُقُودَهُ فِي الصُّنْدُوقِ.</p> <p>الف) أَيْنَ وَضَعَ الرَّجُلُ نُقُودَهُ؟ ب) لِمَنْ أَرَادَ مُسَافِرٌ تَسْلِيمَ نُقُودِهِ؟ ج) ذَهَبَ إِلَى الْقَاضِي بَلَدِهِ. درست <input type="checkbox"/> نادرست <input type="checkbox"/> د) هَلْ قَاضِي شَخْصٍ أَمِينٍ؟ نَعَمْ <input type="checkbox"/> لَا <input type="checkbox"/></p>	۲		
مهارت مکالمه (۱ نمره)				
۱۳	<p>با توجه به تصاویر به پرسشهای زیر پاسخ کوتاه دهید</p> <div style="display: flex; justify-content: space-around;"><div style="text-align: center;"><p>ب) بِمِ يَلْعَبُ عَلِيٌّ؟</p></div><div style="text-align: center;"><p>الف) ماذا في هذه الصورة؟</p></div></div>	۱		
پرسش شفاهی (۵ نمره)				
۳	روانخوانی			
۲	مکالمه			
دانش آموزان عزیز و همکاران محترم می توانند با مراجعه به سایت مندرج در سربرگ، سوال و راهنمای تصحیح این درس را مشاهده نمایند.				
۲۰	جمع نمرات	موفق باشید		
صفحه ۳				
نام و نام خانوادگی	نمره نهایی پس از رسیدگی به اعتراضات	نام و نام خانوادگی	تصحیح و نمره گذاری	
مصحح/ادبیر		مصحح/ادبیر		
	با حروف	با عدد	با حروف	با عدد

تاریخ امتحان ۹۷/۰۵/۰۴		باسمه تعالی	
اداره سنجش آموزش و پرورش		راهنمای تصحیح سوالات امتحان هماهنگ پایه نهم (استان خراسان رضوی)	
		درس: عربی	نوبت: (جبرانی مرداد)
		سال تحصیلی ۱۳۹۷	
آمره	۱	الف) بهترین مردم کسی است که به مردم سود برساند. ب) دوستداشتنی کارها نزد خدا حفظ زبان است.	
۰/۵	۲	الف) البینتان کانتا تکتبان واجباتها. ۲- دختران تکالیفشان را می نوشتند ب) العلم کنز عظیم. ۱- علم گنجی بزرگ است	
۴/۵	۳	الف) آیا پولهای (پول) ایرانی را قبول می کنی ۱۰ نمره. ب) روزنامه هفتگی نوشت. ۰/۷۵. ج) معلم خودش را عطرزد ۰/۷۵ نمره. د) انجام وظیفه بود؛ تشکر لازم نیست ۰/۷۵. ه) او را به خارج شدن (بیرون رفتن) تشویق میکند ۰/۷۵. و) کشتیمان را گم کردیم ۰/۵	
۰/۵	۴	الأسد - الجزر	
۰/۵	۵	رنگ آمیزی - نقاشی .	
۰/۵	۶	الف) سمعوا ب) طازج	
۰/۵	۷صعب.....#.....سهل.....وَضِع.....=.....جَعَلَ.....	
۰/۵	۸	وزن کلمه « فاتح » (فاعل) حروف اصلی کلمه « معلوم » (ع ل م)	
۱/۵	۹	الف) (اُكْتُبْ) ب) (اُصْدُق) ج) (لا تَنْزِلَا) د) (غَيَّرْتِ) ه) (يَسْمَعُونَ) و) (يَحْرُسُ)	
۰/۵	۱۰	إذا غَضِبْتَ فَاسْكُتْ	
۰/۵	۱۱	الف) تَقِيلُ السَّمْعَ ب) الفَرَسَ	
۲	۱۲	الف) في الصُّنْدُوقِ ب) شَخْصٍ اَمِينٍ ج) درست د) لا	
۱	۱۳	الف) هذا الرُّمَانُ يا الرُّمَانُ ب) الحاسوب	

بسمه تعالی

تاریخ امتحان: ۹۷/۰۶/۱۲
مدت امتحان: ۶۰ دقیقه
ساعت شروع: ۹ صبح
تعداد صفحات: ۳
تعداد سوال: ۱۲

اداره کل آموزش و پرورش خراسان رضوی
اداره سنجش آموزش و پرورش
سوالات امتحان هماهنگ پایه نهم (متوسطه اول)
درس: عربی
sanjesh.razavi.medu.ir

نام:
نام خانوادگی:
نام آموزشگاه:
شماره ی داوطلب:
نوبت: شهر یور

بارم	سؤال	ردیف
مهارت ترجمه (۷ نمره)		
۲	آیات واحادیث شریفه ی داده شده رابه فارسی ترجمه کنید. الف) إِنَّ اللَّهَ عَالِمُ غَيْبِ السَّمَاوَاتِ وَالْأَرْضِ. ب) لَا قَرَرَ كَالْجَهْلِ وَلَا مِيرَاثَ كَالْأَدَبِ.	۱
۰/۵	ترجمه ی ناقص هریک از جمله های زیررا کامل کنید. الف) دَلِيلُ الْمُتَحَفِّ يَشْتَغِلُ فِي مَصْنَعِ الْأَبْوَابِ وَ النَّوَاذِ. ب) اِشْتَرَى وَالِدُهُ حَاسِبًا لَهُ. راهنمای درکارگاه درهاوپنجره ها کارمی کند. پدرش برایش خرید.	۲
۴/۵	عبارات داده شده را به فارسی ترجمه کنید. الف) يَا بِنْتِي، اِضْحَكِي لِلْحَيَاةِ لَا تَحْزَنِي. ۱۰ نمره..... ب) كُنْتُ أَشْتَغِلُ فِي الْمَزْرَعَةِ ۰/۷۵..... ج) عِنْدَمَا عَجَزَتْ أُسْرَتُهُ ۰/۷۵ نمره..... د) فَصَارَتْ تَلْمِيزَةً مِثَالِيَّةً. ۰/۷۵..... ه) وَلَكِنَّ التَّلْعَبُ حَاوِلٌ كَثِيرًا. ۰/۷۵..... و) عَصَفَتْ رِيَاخٌ ۰/ ۵.....	۳
مهارت واژه شناسی (۲ نمره)		
۰/۵	باتوجه به کلمات داده شده نام هر تصویررا بیابید وزیرآن بنویسید. (دوکلمه اضافه است) (السَّمَكَةُ - مِصْبَاحٌ - الْفَرَسُ - مَمَرُ الْمُشَاةِ)  	۴
ادامه سوالات درصفحه بعد		صفحه ۱

بسمه تعالی		
نام:	اداره کل آموزش و پرورش خراسان رضوی	تاریخ امتحان: ۹۷/۰۶/۱۲
نام خانوادگی:	اداره سنجش آموزش و پرورش	مدت امتحان: ۶۰ دقیقه
نام آموزشگاه:	سوالات امتحان هماهنگ پایه نهم (متوسطه اول)	ساعت شروع: ۹ صبح
شماره ی داوطلب:	درس: عربی	تعداد صفحات: ۳
نوبت: شهر یور	sanjesh.razavi.medu.ir	تعداد سوال: ۱۲
ردیف	سؤال	بارم
۵	فقط کلماتی که زیر آنها خط کشیده شده است را ترجمه کنید. كَتَبَ صَحِيفَةً أُسْبُوعِيَّةً وَ طَبَعَهَا فِي الْقِطَارِ.	۰/۵
۶	کلمه ی ناهماهنگ را در هر دسته از کلمات مشخص کنید. الف) أَلْسِمَاءُ - الرَّعْدُ - أَلْسَحَابُ - مَخَزَنٌ ب) يَخْرُجُ - نَصْرْتُمْ - يَكْتُبُ - تَجْلِسُونَ	۰/۵
۷	کلمات متضاد و مترادف را با گذاشتن علامت مشخص کنید. كَلِمَاتٌ قَلِيلَةٌ.....كَثِيرَةٌ طَالِبٌ.....تَلْمِيزٌ	۰/۵
مهارت شناخت و کاربرد قواعد (۲ نمره)		
۸	باتوجه به موارد خواسته شده جاهای خالی را بنویسید. وزن کلمه «مظلوم» (.....) حروف اصلی کلمه « يَشْكُرُ » (.....)	۰/۵
۹	جاهای خالی را با توجه به کلمات داخل پرانتز کامل کنید الف) انتَ.....النُّقُودَ الْإِيرَانِيَّةَ . (تَقْبَلُ - يَقْبَلُ) ب).....الْعَامَ الدَّرَاسِيَّ الْجَدِيدُ. (اِبْتَدَأُ - نَبَتَدَأُ) ج) اَنْتِ.....حَيَاتِي . (غَيَّرْتِ - غَيَّرْتَ) د) يَا حَبِيبَتِي حَقِيبَتِكَ . (لَا تَجْعَلُ - لَا تَجْعَلِي) ه) التَّلَامِيذُ.....إِلَى سَفَرَةٍ عِلْمِيَّةٍ . (ذَهَبُوا - ذَهَبْنَ) و) يَا زَمِيلَاتِي (اِصْعَدْنَ - اِصْعَدُوا)	۱/۵
مهارت درک و فهم (۱ نمره)		
۱۰	در جای خالی هر جمله کلمه مناسب از میان کلمات زیر بنویسید. « دو کلمه اضافه است » « أَنْقَذَ - نَفَقَاتٌ - تَمَائِيلٌ - الصَّحِيفَةُ - دَلِيلٌ - نُقُودٌ » الف) كَانَتْ الْجَامِعَةِ غَالِيَةً. ب)..... إِدِيسُونٌ طِفْلاً مِنْ تَحْتِ الْقِطَارِ ج) يَبْدَأُ وَالِدِي يَوْمَهُ بِقِرَاءَةِ دَائِماً. د) حُجَّاجُ الْقَافِلَةِ بِحَاجَةٍ إِلَى السَّفَرِ.	۱

نام:	اداره کل آموزش و پرورش خراسان رضوی	تاریخ امتحان: ۹۷/۰۶/۱۲
نام خانوادگی:	اداره سنجش آموزش و پرورش	مدت امتحان: ۶۰ دقیقه
نام آموزشگاه:	سوالات امتحان هماهنگ پایه نهم (متوسطه اول)	ساعت شروع: ۹ صبح
شماره ی داوطلب:	درس: عربی	تعداد صفحات: ۳
نوبت: شهر یور	sanjesh.razavi.medu.ir	تعداد سوال: ۱۲

ردیف	سؤال	بارم
------	------	------

درک مطلب (۲ نمره)

۱۱	<p>كَانَ إِدِيسُونُ فِي السَّابِعَةِ مِنْ عُمْرِهِ، عِنْدَمَا عَجَزَتْ أُسْرَتُهُ عَنْ دَفْعِ نَقَاطِ دِرَاسَتِهِ؛ فَطَرَدَهُ مُدِيرُ مَدْرَسَتِهِ مِنَ الْمَدْرَسَةِ وَقَالَ عَنْهُ: إِنَّهُ تَلْمِيزٌ أَحْمَقٌ. وَ لَكِنَّهُ مَا تَرَكَ الدِّرَاسَةَ؛ بَلْ دَرَسَ بِمُسَاعَدَةِ أُمِّهِ؛ هِيَ سَاعَدَتْهُ كَثِيرًا.</p> <p>الف) كم عمر إديسون؟</p> <p>ب) لماذا طرده مدير مدرسته؟</p> <p>ج) هل ترك إديسون الدراسة؟</p> <p>د) من ساعدت إديسون؟</p>	۲
----	--	---

مهارت مکالمه (۱ نمره)

۱۲	<p>با توجه به تصاویر به پرشهای زیر پاسخ کوتاه دهید</p> <div style="display: flex; justify-content: space-around;"> <div style="text-align: center;">  <p>..... ماذا في الصورة؟</p> </div> <div style="text-align: center;">  <p>الف) أين العصفور؟</p> </div> </div>	۱
----	--	---

پرش شفاهی (۵ نمره)

روانخوانی	۳
مکالمه	۲

دانش آموزان عزیز و همکاران محترم می توانند با مراجعه به سایت مندرج در سربریگ، سوال و راهنمای تصحیح این درس را مشاهده نمایند.

صفحه ۳	موفق باشید	جمع نمرات	۲۰
--------	------------	-----------	----

نام و نام خانوادگی	نمره نهایی پس از رسیدگی به اعتراضات	نام و نام خانوادگی	تصحیح و نمره گذاری
مصصح/دبیر		مصصح/دبیر	
	با حروف	با عدد	با حروف
			با عدد

تاریخ امتحان ۱۳۹۷/۶/۱۲		باسمه تعالی	
اداره سنجش آموزش و پرورش		راهنمای تصحیح سؤالات امتحان هماهنگ پایه نهم متوسطه دوره اول (استان خراسان رضوی)	
		شهریور ماه	سال تحصیلی: ۹۷ - ۹۶
		درس: عربی	
۲	الف) قطعا خداوند به پنهان زمین و آسمانها آگاه است. (ب) هیچ فقری مانند نادانی و هیچ میراثی مانند ادب نیست.	۱	
۰/۵	الف) موزه (ب) رایانه ای	۲	
۴/۵	الف) ای دخترم به زندگی بخند ناراحت نباش ۱ نمره (ب) درمزرعه کار می‌کردم ۰/۷۵ ج) هنگامی که خانواده اش ناتوان شد ۰/۷۵ نمره (د) پس دانش آموز نمونه ای شد ۰/۷۵ ه) ولی روپاه بسیار تلاش کرد ۰/۷۵ (و) پادها وزیدند ۰/۵	۳	
۰/۵	(السَّمَكَةُ - مِصْبَاح - الْفَرَس - مَمَرُ الْمَشَاة)	۴	
	السَّمَكَةُ مَمَرُ الْمَشَاة		
۰/۵	چاپ یا چاپش هردو صحیح می باشد.	۵	هفتگی
۰/۵	الف) مَخَزَن (ب) نَصْرْتُمْ	۶	
۰/۵	فَلَيْلَةٌ.....#.....كَثِيرَةٌ طالب.....=.....تَلْمِيز	۷	
۰/۵	وزن کلمه (مفعول) حروف اصلی (ش ک ر)	۸	
۱/۵	الف) تَقَبَّلُ (ب) اِبْتَدَأُ (ج) غَيَّرَتْ (د) لَا تَجْعَلِي (ه) ذَهَبُوا	۹	
۱	الف) نَفَقَات (ب) اُنْقَذَ (ج) الصَّحِيفَةُ (د) دَلِيل	۱۰	
۲	الف) فِي السَّابِعَةِ (ب) لِأَنَّ عَجَزَتُ أَسْرَتَهُ عَن دَفْعِ نَفَقَاتِ دِرَاسَتِهِ (ج) لَا (د) أُمُّهُ	۱۱	
۱	الف) عَلَى الْعُصْنِ يَا عَلَى الشَّجَرَةِ الْفَرَس	۱۲	

همکاران گرامی خسته نباشید.

تاریخ امتحان : ۹۷ / ۰۳ / ۲۰
 مدت امتحان : ۷۵ دقیقه
 ساعت شروع : ۱۰ صبح
 تعداد صفحات : ۲
 تعداد سوال :

اداره کل آموزش و پرورش خراسان رضوی
 اداره سنجش آموزش و پرورش
 سوالات امتحان هماهنگ نهم (متوسطه اول)
 درس : انشای فارسی
 Sanjesh.razavi.medu.ir

نام :
 نام خانوادگی :
 نام آموزشگاه :
 شماره‌ی داوطلب :
 نوبت : خرداد ماه ۹۷

دانش‌آموز عزیز، با توجه به سنجه‌های ارزیابی انشا که در جدول پایین آمده، یکی از موضوع‌های داده شده را برگزیده، درباره‌اش انشا بنویسید. نخست در برگه‌ی پیش‌نویس و پس از بازخوانی و ویرایش، با رعایت بخش «هنجارهای نگارشی جدول»، پاک‌نویس نمایید.

موضوع‌های انشا:

- ۱- روزه چگونه در پاکسازی نفس تأثیر می‌گذارد؟
- ۲- محبت از درخت آموز که سایه از سر هیزم شکن هم بر نمی‌دارد.
- ۳- رایانه سکوی پرش به آینده یا قاتل فرصت‌های طلایی
- ۴- درختان ریه‌های فعال زمین

بارم	سنجه‌های ارزشیابی	موضوع
۲	۱. ساختار بیرونی (داشتن مقدمه، تنه، نتیجه)	الف) ساختار
۲	۲. ساختار زبانی (زبان نوشته ساده، جمله‌های کوتاه)	
۲	۱. خوش‌آغازی (جذابیت و گیرایی - نشان دادن نمایی کلی از محتوای نوشته) ۲. پرورش موضوع	ب) محتوا
۳	* شیوه بیان نوشته (بیان ساده و صمیمی - بیان احساس متناسب با موضوع)	
۳	* سیر منطقی نوشته (پرداختن به جنبه‌های مختلف موضوع - انسجام نوشته)	
۳	* فکر و نگاه نو (نگاه به موضوع از زاویه‌ای متفاوت)	
۲	۳. خوش‌فرجامی (جمع‌بندی مطالب - تاثیرگذاری و تفکر برانگیز بودن)	
۱	۱. نشانه‌های نگارشی (نشانه‌گذاری به تناسب آموخته‌ها و نیازهای متن)	پ) هنجارهای نگارشی
۱	۲. املاي واژگان (نداشتن غلط املايي)	
۱	۳. پاکیزه‌نویسی (حاشیه‌گذاری و حُسنِ سلیقه)	

تاریخ امتحان : ۹۷ / ۰۳ / ۲۰
 مدت امتحان : ۷۵ دقیقه
 ساعت شروع : ۱۳ (بعد از ظهر)
 تعداد صفحات : ۲
 تعداد سوال :

اداره کل آموزش و پرورش خراسان رضوی
 اداره سنجش آموزش و پرورش
 سوالات امتحان هماهنگ نهم (متوسطه اول)
 درس : انشای فارسی
 Sanjesh.razavi.medu.ir

نام :
 نام خانوادگی :
 نام آموزشگاه :
 شماره‌ی داوطلب :
 نوبت : خرداد ماه ۹۷

دانش‌آموز عزیز، با توجه به سنجه‌های ارزیابی انشا که در جدول پایین آمده، یکی از موضوع‌های داده شده را برگزیده، درباره‌اش انشا بنویسید. نخست در برگه‌ی پیش‌نویس و پس از بازخوانی و ویرایش، با رعایت بخش «هنجارهای نگارشی جدول»، پاک‌نویس نمایید.

موضوع‌های انشا:

- ۱- ساده زیستی حضرت علی(ع) چه تأثیری در زندگی ما باید داشته باشد؟
- ۲- آسمان شب دریایی از سؤالات بی‌پاسخ من
- ۳- شکست پلی برای موفقیت
- ۴- با توجه به سال حمایت از کالای ایرانی درباره‌ی بیت زیر توضیح دهید.
 «دست در دست هم دهیم به مهر / میهن خویش را کنیم آباد»

بارم	سنجه‌های ارزشیابی	موضوع
۲	۱. ساختار بیرونی (داشتن مقدمه، تنه، نتیجه)	الف) ساختار
۲	۲. ساختار زبانی (زبان نوشته ساده، جمله‌های کوتاه)	
۲	۱. خوش‌آغازی (جذابیت و گیرایی - نشان دادن نمایی کلی از محتوای نوشته) ۲. پرورش موضوع	ب) محتوا
۳	* شیوه بیان نوشته (بیان ساده و صمیمی - بیان احساس متناسب با موضوع)	
۳	* سیر منطقی نوشته (پرداختن به جنبه‌های مختلف موضوع - انسجام نوشته)	
۳	* فکر و نگاه نو (نگاه به موضوع از زاویه‌ای متفاوت)	
۲	۳. خوش‌فرجامی (جمع‌بندی مطالب - تاثیرگذاری و تفکر برانگیز بودن)	
۱	۱. نشانه‌های نگارشی (نشانه‌گذاری به تناسب آموخته‌ها و نیازهای متن)	پ) هنجارهای نگارشی
۱	۲. املائی واژگان (نداشتن غلط‌املائی)	
۱	۳. پاکیزه‌نویسی (حاشیه‌گذاری و حسن سلیقه)	

نام :	اداره کل آموزش و پرورش خراسان رضوی	تاریخ امتحان : ۹۷/۰۴/۱۰
نام خانوادگی :	اداره سنجش آموزش و پرورش	مدت امتحان : ۷۵ دقیقه
نام آموزشگاه :	سوالات امتحان هماهنگ نهم (متوسطه اول)	ساعت شروع : ۱۳:۳۰ (۳۰ بعد از ظهر)
شماره‌ی داوطلب :	درس : انشای فارسی	تعداد صفحات : ۲
نوبت : غایبین موجه خرداد	Sanjesh.razavi.medu.ir	تعداد سوال :

دانش‌آموز عزیز، با توجه به سنجه‌های ارزیابی انشا که در جدول پایین آمده، یکی از موضوع‌های داده شده را برگزیده، درباره‌اش انشا بنویسید. نخست در برگه‌ی پیش‌نویس و پس از بازخوانی و ویرایش، با رعایت بخش «هنجارهای نگارشی جدول»، پاک‌نویس نمایید.

موضوع‌های انشا:

۱- حکایت زیر را بخوانید و به زبان ساده باز نویسی کنید.

یکی از بزرگان گفت پارسایی را: «چه گویی در حق فلان عابد که دیگران در حق وی به طعنه سخن ها گفته اند.» گفت: « بر ظاهرش عیب نمی بینم و در باطنش غیب نمی دانم. » (گلستان سعدی)

۲- از زبان کارگری بنویسید که به دلیل تعطیل شدن تولیدی بیکار شده است

۳- در مورد یکی از ابیات زیر انشایی زیبا بنویسید.

الف- گر نباشی به سان نخل کریم باش باری به مثل سرو آزاد (میرزا حبیب خراسانی)
ب- زنده باد آن کس که هست از جان هوادار وطن هم وطن غم خوار او ، هم هست غم خوار وطن

موضوع	سنجه‌های ارزشیابی	بارم
الف) ساختار	۱. ساختار بیرونی (داشتن مقدمه، تنه، نتیجه)	۲
	۲. ساختار زبانی (زبان نوشته ساده، جمله‌های کوتاه)	۲
ب) محتوا	۱. خوش آغازی (جذابیت و گیرایی - نشان دادن نمایی کلی از محتوای نوشته)	۲
	۲. پرورش موضوع	
	* شیوه بیان نوشته (بیان ساده و صمیمی - بیان احساس متناسب با موضوع)	۳
	* سیر منطقی نوشته (پرداختن به جنبه‌های مختلف موضوع - انسجام نوشته)	۳
	* فکر و نگاه نو (نگاه به موضوع از زاویه‌ای متفاوت)	۳
	۳. خوش فرجامی (جمع‌بندی مطالب - تاثیرگذاری و تفکر برانگیز بودن)	۲
پ) هنجارهای نگارشی	۱. نشانه‌های نگارشی (نشانه‌گذاری به تناسب آموخته‌ها و نیازهای متن)	۱
	۲. املاي واژگان (نداشتن غلط املايي)	۱
	۳. پاکیزه‌نویسی (حاشیه‌گذاری و حُسن سلیقه)	۱

تاریخ امتحان : ۹۷/۰۵/۰۳
مدت امتحان : ۷۵ دقیقه
ساعت شروع : ۹ صبح
تعداد صفحات : ۲
تعداد سوال :

اداره کل آموزش و پرورش خراسان رضوی
اداره سنجش آموزش و پرورش
سوالات امتحان هماهنگ نهم (متوسطه اول)
درس : انشای فارسی
Sanjesh.razavi.medu.ir

نام :
نام خانوادگی :
نام آموزشگاه :
شماره‌ی داوطلب :
نوبت : جبرانی مرداد

دانش‌آموز عزیز، با توجه به سنجه‌های ارزیابی انشا که در جدول پایین آمده، یکی از موضوع‌های داده شده را برگزیده، درباره‌اش انشا بنویسید. نخست در برگه‌ی پیش‌نویس و پس از بازخوانی و ویرایش، با رعایت بخش «هنجارهای نگارشی جدول»، پاک‌نویس نمایید.

موضوع‌های انشا:

- ۱- متنی ادبی با استفاده از واژه‌های زیر طراحی کنید. روزگار - آرامش - ایمان - نوع دوستی - محبت - اسلام - توفان - حادثه - امنیت
- ۲- به آسمان جان ببخشید و از زبان او زیبایی‌ها و دردهای شهرتان را به تصویر بکشید
- ۳- تصویر نویسی



بارم	سنجه‌های ارزشیابی	موضوع
۲	۱. ساختار بیرونی (داشتن مقدمه، تنه، نتیجه)	الف) ساختار
۲	۲. ساختار زبانی (زبان نوشته ساده، جمله‌های کوتاه)	
۲	۱. خوش‌آغازی (جذابیت و گیرایی - نشان دادن نمایی کلی از محتوای نوشته) ۲. پرورش موضوع	ب) محتوا
۳	* شیوه بیان نوشته (بیان ساده و صمیمی - بیان احساس متناسب با موضوع)	
۳	* سیر منطقی نوشته (پرداختن به جنبه‌های مختلف موضوع - انسجام نوشته)	
۳	* فکر و نگاه نو (نگاه به موضوع از زاویه‌ای متفاوت)	
۲	۳. خوش‌فرجامی (جمع‌بندی مطالب - تاثیرگذاری و تفکر برانگیز بودن)	
۱	۱. نشانه‌های نگارشی (نشانه‌گذاری به تناسب آموخته‌ها و نیازهای متن)	پ) هنجارهای نگارشی
۱	۲. املاي واژگان (نداشتن غلط‌املايي)	
۱	۳. پاکیزه‌نویسی (حاشیه‌گذاری و حسن سلیقه)	

صفحه ۱

دانش‌آموزان عزیز و همکاران محترم می‌توانند با مراجعه به سایت مندرج در سربرگ، سوال این درس را مشاهده نمایند.

تاریخ امتحان : ۹۷ / ۰۶ / ۰۵
مدت امتحان : ۷۵ دقیقه
ساعت شروع : ۹ صبح
تعداد صفحات : ۲
تعداد سوال :

اداره کل آموزش و پرورش خراسان رضوی
اداره سنجش آموزش و پرورش
سوالات امتحان هماهنگ نهم (متوسطه اول)
درس : انشای فارسی
Sanjesh.razavi.medu.ir

نام :
نام خانوادگی :
نام آموزشگاه :
شماره‌ی داوطلب :
نوبت : شهریور ماه

دانش‌آموز عزیز، با توجه به سنجه‌های ارزیابی انشا که در جدول پایین آمده، یکی از موضوع‌های داده شده را برگزیده، درباره‌اش انشا بنویسید. نخست در برگه‌ی پیش‌نویس و پس از بازخوانی و ویرایش، با رعایت بخش «هنجارهای نگارشی جدول»، پاک‌نویس نمایید.

موضوع‌های انشا:

- ۱- از بین موضوع‌های روبرو یکی را انتخاب کرده و با فضای «طنز» انشایی بنویسید. الف- اتوبوس شلوغ ب- ایستادن توی صف
- ۲- مثل روبرو را به زبان ساده باز آفرینی کنید. مارگزیده از ریسمان سیاه و سفید می ترسه
- ۳- متنی زیبا در تکمیل جمله روبرو بنویسید. عجب صبری خدا دارد
- ۴- متنی ادبی تنظیم کنید و از کلمات زیر در آن بهره بجوید. بعد از اتمام نوشته کلمات مورد نظر را درون متن مشخص کنید. مشت - فراخوانی فرهنگی - وطن - استقلال - بد خواهان - تولید - اشتغال - آبادانی - ثروت - نفت

بارم	سنجه‌های ارزشیابی	موضوع
۲	۱. ساختار بیرونی (داشتن مقدمه، تنه، نتیجه)	الف) ساختار
۲	۲. ساختار زبانی (زبان نوشته ساده، جمله‌های کوتاه)	
۲	۱. خوش‌آغازی (جذابیت و گیرایی - نشان دادن نمایی کلی از محتوای نوشته) ۲. پرورش موضوع	ب) محتوا
۳	* شیوه بیان نوشته (بیان ساده و صمیمی - بیان احساس متناسب با موضوع)	
۳	* سیر منطقی نوشته (پرداختن به جنبه‌های مختلف موضوع - انسجام نوشته)	
۳	* فکر و نگاه نو (نگاه به موضوع از زاویه‌ای متفاوت)	
۲	۳. خوش‌فرجامی (جمع‌بندی مطالب - تاثیرگذاری و تفکر برانگیز بودن)	
۱	۱. نشانه‌های نگارشی (نشانه‌گذاری به تناسب آموخته‌ها و نیازهای متن)	پ) هنجارهای نگارشی
۱	۲. املائی واژگان (نداشتن غلط املائی)	
۱	۳. پاکیزه‌نویسی (حاشیه‌گذاری و حُسن سلیقه)	

« باسمه تعالی »

تاریخ امتحان : ۹۷ / ۰۳ / ۲۲
مدت امتحان : ۷۰ دقیقه
ساعت شروع : ۱۰ صبح
تعداد صفحات : ۴
تعداد سوال : ۴۷

اداره کل آموزش و پرورش خراسان رضوی
اداره سنجش آموزش و پرورش
سوالات امتحان هماهنگ نهم (متوسطه اول)
درس : مطالعات اجتماعی
Sanjesh.razavi.medu.ir

نام خانوادگی :
نام آموزشگاه :
شماره ی داوطلب :
نوبت : خرداد ماه ۹۷

بارم	سوالات	ردیف
------	--------	------

(بخش انتخابی)

توجه :

دانش آموز عزیز در (بخش انتخابی)، ۶ بسته سوال دارای بarm ۲/۵ نمره از فصل ۱ تا فصل ۶ وجود دارد.
لطفا فقط ۲ فصل را از این بخش انتخاب کرده و به سوالات، همان فصل ها جواب دهید. مجموع ۵ نمره از این بخش برای شما در نظر گرفته خواهد شد. (در صورت پاسخ به بیش از دو فصل انتخابی، پاسخ سوالات اضافه، تصحیح نخواهد شد.)

فصل اول : سیاره ما، زمین بarm ۲/۵ نمره

۰/۵	تعداد قمرها در سیاره های بیرونی ، کمتر از سیارات درونی است . <input type="checkbox"/> درست <input type="checkbox"/> نادرست	۱
۰/۵	فاصله یک مکان تا نصف النهار مبدا بر حسب درجه را آن مکان می گویند . الف - عرض جغرافیایی <input type="checkbox"/> ب - موقعیت مکانی <input type="checkbox"/> ج - طول جغرافیایی <input type="checkbox"/> د - مختصات جغرافیایی <input type="checkbox"/>	۲
۱	حرکت وضعی زمین را تعریف کنید .	۳
۰/۵	کدام مورد از کاربردهای ساعت واقعی است ؟ الف - تعیین قرار ملاقات ها <input type="checkbox"/> ب - روزه گرفتن و اقامه نماز <input type="checkbox"/> ج - برنامه حرکت قطارها <input type="checkbox"/> د - زمان شروع به کار ادارات <input type="checkbox"/>	۴

فصل دوم : سنگ کره، آب کره، هوا کره بarm ۲/۵ نمره

۰/۵	کدام گزینه با توجه به عوامل طبیعی موثر در تغییر ناهمواری ها ، با بقیه متفاوت است ؟ الف - فرسایش آبی و بادی <input type="checkbox"/> ب - حرکت یخچال ها <input type="checkbox"/> ج - حرکت ورقه ها ی زمین <input type="checkbox"/> د - هواز دگی <input type="checkbox"/>	۵
۰/۵	کوه نوردی از نقطه «الف» با ارتفاع ۲۰۰۰ متر و دمای ۵ درجه سانتی گراد به نقطه «ب» با ارتفاع ۴۰۰۰ متر ، صعود کرد . دمای هوا در نقطه «ب» چند درجه سانتی گراد است ؟ الف - ۷ - <input type="checkbox"/> ب - ۱۲ + <input type="checkbox"/> ج - ۷ + <input type="checkbox"/> د - ۱۲ - <input type="checkbox"/>	۶
۰/۵	کوه های کم ارتفاع (ناهمواری پیر) ، قله های گنبدی شکل و دره های تنگ و ۷ شکل دارند . <input type="checkbox"/> نادرست <input type="checkbox"/> درست	۷
۱	دو اهمیت فلات قاره (ایوان خشکی) را بنویسید .	۸

فصل سوم : زیست کره، تنوع شگفت انگیز بarm ۲/۵ نمره

۰/۵	کدام زیست بوم، «بیشترین تنوع زیستی جهان» را دارد ؟ الف - ساوان <input type="checkbox"/> ب - بیابان <input type="checkbox"/> ج - جنگل های استوایی <input type="checkbox"/> د - تایگا <input type="checkbox"/>	۹
۰/۵	تنوع زیستی زمانی در معرض خطر قرار می گیرد که زیستگاههای طبیعی ، تخریب شود. <input type="checkbox"/> نادرست <input type="checkbox"/> درست	۱۰
۰/۵	یک راه جلوگیری از تخریب جنگل های استوایی را بنویسید .	۱۱
۱	زیست بوم را تعریف کنید .	۱۲

ادامه سوالات در صفحه بعد

صفحه ۱

« باسمه تعالی »

تاریخ امتحان : ۹۷ / ۰۳ / ۲۲
مدت امتحان : ۷۰ دقیقه
ساعت شروع : ۱۰ صبح
تعداد صفحات : ۴
تعداد سوال : ۴۷

اداره کل آموزش و پرورش خراسان رضوی
اداره سنجش آموزش و پرورش
سوالات امتحان هماهنگ نهم (متوسطه اول)
درس : مطالعات اجتماعی
Sanjesh.razavi.medu.ir

نام :
نام خانوادگی :
نام آموزشگاه :
شماره ی داوطلب :
نوبت : خرداد ماه ۹۷

بارم	سوالات	ردیف
------	--------	------

فصل چهارم : ساکنان سیاره زمین **بارم ۲/۵ نمره**

۰/۵	مهاجرت عظیم مردم قاره اروپا به آمریکا در قرن نوزدهم و بیستم، جزء کدام یک از انواع مهاجرت بود ؟ الف - روزانه <input type="checkbox"/> ب - اختیاری <input type="checkbox"/> ج - داخلی <input type="checkbox"/> د - اجباری <input type="checkbox"/>	۱۳
۰/۵	« میزان طول عمر در یک جامعه ، نشان دهنده وضعیت سلامت و بهداشت در آن جامعه است.» درست <input type="checkbox"/> نادرست <input type="checkbox"/>	۱۴
۰/۵	علت اصلی رشد جمعیت جهان در دو قرن اخیر، چه بوده است ؟	۱۵
۱	دو عامل خارجی نابرابری در جهان را نام ببرید.	۱۶

فصل پنجم : عصر یکپارچگی و شکوفایی **بارم ۲/۵ نمره**

۰/۵	در دوره صفوی ، کدام رشته مانند سایر رشته های علمی پر رونق نبود ؟ الف - طب و نجوم <input type="checkbox"/> ب - شعر و ادب فارسی <input type="checkbox"/> ج - فلسفه <input type="checkbox"/> د - طبیعیات <input type="checkbox"/>	۱۷
۰/۵	برپایی جشن ها و آیین ها در دوره صفوی، تاثیر مهمی در افزایش همدلی و هم بستگی مردم داشت. درست <input type="checkbox"/> نادرست <input type="checkbox"/>	۱۸
۰/۵	مهم ترین طرفداران خانقاه شیخ صفی ، ایل های مختلف ترک بودند که به شهرت داشتند .	۱۹
۱	دو اقدام شاه اسماعیل صفوی را بنویسید؟	۲۰

فصل ششم : ایران از عهد نادرشاه تا ناصرالدین شاه **بارم ۲/۵ نمره**

۰/۵	کدام پادشاه زیر لقب «وکیل الرعایا» یا نماینده مردم ، را برای خود برگزید ؟ الف - نادر <input type="checkbox"/> ب - لطفعلی خان زند <input type="checkbox"/> ج - آقا محمد خان قاجار <input type="checkbox"/> د - کریم خان زند <input type="checkbox"/>	۲۱
۰/۵	نخستین حرکت جدی مردم ایران برای رهایی از سلطه خارجی و ستم داخلی ، نهضت تنباکو بود . درست <input type="checkbox"/> نادرست <input type="checkbox"/>	۲۲
۰/۵	یک اقدام امیرکبیر برای نوسازی ایران را بنویسید .	۲۳
۱	انقلاب صنعتی چه تاثیری بر تولید کالا و اقتصاد کشورهای اروپایی داشت ؟	۲۴

(بخش اجباری)

توجه : دانش آموز عزیز در (بخش اجباری)، به تمام سوالات از سوال ۲۵ تا ۴۷ به طور کامل پاسخ دهید. بarm این بخش ۱۵ نمره است.

۰/۵	نخستین دانشگاه ایران (دانشگاه تهران)، در زمان کدام پادشاه ، بنیان نهاده شد ؟ الف - احمد شاه <input type="checkbox"/> ب - رضا شاه <input type="checkbox"/> ج - محمد رضا شاه <input type="checkbox"/> د - ناصر الدین شاه <input type="checkbox"/>	۲۵
۰/۵	«انقلاب مشروطه» ، در زمان سلطنت کدام پادشاه قاجار به پیروزی رسید ؟ الف - مظفرالدین شاه <input type="checkbox"/> ب - محمد علی شاه <input type="checkbox"/> ج - ناصرالدین شاه <input type="checkbox"/> د - احمد شاه <input type="checkbox"/>	۲۶
۰/۵	جنگ جهانی دوم ، با حمله ناگهانی آلمان به روسیه آغاز شد. درست <input type="checkbox"/> نادرست <input type="checkbox"/>	۲۷
۱	نظام پادشاهی مشروطه ، چه نوع حکومتی است ؟	۲۸

ادامه سوالات در صفحه بعد

صفحه ۲

نام خانوادگی :
نام آموزشگاه :
شماره‌ی داوطلب :
نوبت : خرداد ماه ۹۷

اداره کل آموزش و پرورش خراسان رضوی
اداره سنجش آموزش و پرورش
سوالات امتحان هماهنگ نهم (متوسطه اول)
درس : مطالعات اجتماعی
Sanjesh.razavi.medu.ir

نام :

نام خانوادگی :

نام آموزشگاه :

شماره‌ی داوطلب :

نوبت : خرداد ماه ۹۷

بارم	سوالات	ردیف						
۰/۵	امام خمینی (ره) ، پس از کدام واقعه زیر به ترکیه تبعید شد ؟ الف - مخالفت با اصول ششگانه <input type="checkbox"/> ب - قیام ۱۵ خرداد ۴۲ <input type="checkbox"/> ج - مخالفت با تاسیس ساواک <input type="checkbox"/> د - مخالفت با لایحه کاپیتولاسیون <input type="checkbox"/>	۲۹						
۱	هدف آمریکا از ایجاد تغییرات در امور اجتماعی و اقتصادی ایران چه بود؟	۳۰						
۱	با توجه به تشکیل نهادهای گوناگون در ابتدای پیروزی انقلاب و اهداف تشکیل آن ها، جدول زیر را کامل کنید. <table border="1" style="width: 100%; text-align: center;"> <tr> <td>.....</td> <td>سپاه پاسداران</td> <td>نهاد انقلابی</td> </tr> <tr> <td>عمران و آبادی روستاها</td> <td>.....</td> <td>هدف تشکیل</td> </tr> </table>	سپاه پاسداران	نهاد انقلابی	عمران و آبادی روستاها	هدف تشکیل	۳۱
.....	سپاه پاسداران	نهاد انقلابی						
عمران و آبادی روستاها	هدف تشکیل						
۰/۵	« افراد خوش بین و امیدوار ، دارای سلامت جسمانی بیشتری هستند . » ؛ این جمله کدام یک از مطالب زیر را تایید می کند ؟ الف - ویژگی های اخلاقی و روانی افراد بر ویژگی های جسمانی آنان اثر می گذارند. <input type="checkbox"/> ب - ویژگی های اجتماعی انسان ، بر خصوصیات فردی وی اثر می گذارند. <input type="checkbox"/> ج - ویژگی های جسمانی ما ، بر خصوصیات روانی و اخلاقی ما تاثیر گذارند. <input type="checkbox"/> د - ویژگی های روانی و اخلاقی انسان، بر ویژگی های اجتماعی وی اثر می گذارند. <input type="checkbox"/>	۳۲						
۰/۵	انسان در شکل گیری ویژگی های هویتی خود، نقشی ندارد. درست <input type="checkbox"/> نادرست <input type="checkbox"/>	۳۳						
۰/۵	فرهنگ، شیوه زندگی یک جامعه است و در جریان اجتماعی شدن آموخته می شوند. درست <input type="checkbox"/> نادرست <input type="checkbox"/>	۳۴						
۱	دو دلیل پیروی افراد یک جامعه از هنجارها را بیان کنید.	۳۵						
۰/۵	اولین شرط بقای هر جامعه ، کدام است ؟ الف - محبت <input type="checkbox"/> ب - جمعیت <input type="checkbox"/> ج - تربیت <input type="checkbox"/> د - مراقبت <input type="checkbox"/>	۳۶						
۰/۵	اولین گام در راه تشکیل خانواده متعادل و سالم ،دقت درانتخاب همسر است. درست <input type="checkbox"/> نادرست <input type="checkbox"/>	۳۷						
۰/۵	پدر کورش، با لبخند زدن و ابراز علاقه ، به اجتماعی شدن وی کمک می کند . در واقع پدر کورش ، چه روشی را برای اجتماعی کردن او انتخاب کرده است ؟ (.....)	۳۸						
۱	« کامران متوجه می شود ، پدرش برای مدتی بیکار و خانواده اش دچار مشکل شده است . او تصمیم می گیرد در این موقعیت ، به خانواده خود کمک کند . « آیا می توانید او را یاری کنید و دو کاری را که می تواند انجام دهد را برایش بنویسید ؟ (۱ -) (۲ -)	۳۹						
۰/۵	مهم ترین رکن جمهوری اسلامی کدام است ؟ الف - رییس جمهور <input type="checkbox"/> ب - رییس قوه قضاییه <input type="checkbox"/> ج - رهبری <input type="checkbox"/> د - رییس مجلس <input type="checkbox"/>	۴۰						
۰/۵	بر اساس حق برخورداری از عدالت قضایی ، شهروندان حق داشتن وکیل مدافع در دادگاه را دارند . درست <input type="checkbox"/> نادرست <input type="checkbox"/>	۴۱						
۰/۵	شورای اسلامی شهر و روستا با چه هدفی تشکیل می شوند ؟	۴۲						
ادامه سوالات در صفحه بعد		صفحه ۳						

« باسمه تعالی »

تاریخ امتحان : ۹۷/۰۳/۲۲
مدت امتحان : ۷۰ دقیقه
ساعت شروع : ۱۰ صبح
تعداد صفحات : ۴
تعداد سوال : ۴۷

اداره کل آموزش و پرورش خراسان رضوی
اداره سنجش آموزش و پرورش
سوالات امتحان هماهنگ نهم (متوسطه اول)
درس : مطالعات اجتماعی
Sanjesh.razavi.medu.ir

نام :
نام خانوادگی :
نام آموزشگاه :
شماره ی داوطلب :
نوبت : خرداد ماه ۹۷

ردیف	سوالات	بارم
۴۳	کلمه جمهوری، در حکومت جمهوری اسلامی به چه معنای است؟	۱
۴۴	کدام گزینه ، مفهوم بهره وری سبز را دربردارد ؟ الف - حفر چاه بیشتر جهت افزایش سطح زیرکشت و افزایش محصول ب - استفاده بیش از حد از سموم و کودهای شیمیایی برای مبارزه با آفات ج - افزایش تولیدات مصرفی و تبلیغ گسترده برای فروش بیشتر آن ها د - کشاورزی با روش های علمی و استفاده از حشرات برای دفع آفات	۰/۵
۴۵	در اقتصاد ، بهره وری را « نسبت ستانده ها به داده ها » تعریف کرده اند . <input type="checkbox"/> درست <input type="checkbox"/> نادرست	۰/۵
۴۶	هر جامعه ای برای رفع نیازهای خود ناگزیراست از منابع طبیعی استفاده کند، به این کار..... گویند.	۰/۵
۴۷	یکی از راهکارهای افزایش بهره وری ، اصلاح عادات غلط مصرفی است. این راهکار را با یک مثال توضیح دهید؟	۱

صفحه ۴		موفق باشید		جمع بارم		۲۰
دانش آموزان عزیزوهمکاران محترم میتوانند بامراجعه به سایت مندرج درسربرگ،سوال وراهنمای تصحیح این درس را مشاهده نمایند						
تصحیح و نمره گذاری	نام و نام خانوادگی مصحح/ دبیر	نمره نهایی پس از رسیدگی به اعتراضات	نام و نام خانوادگی مصحح/ دبیر	نام و نام خانوادگی خانوادگی مصحح/ دبیر		
با عدد		با عدد				
با حروف	امضاء :	با حروف	امضاء :			امضاء :

تاریخ امتحان: ۹۷/۰۳/۲۲	باسمه تعالی
اداره سنجش آموزش و پرورش	راهنمای تصحیح سؤالات امتحان هماهنگ پایه نهم (استان خراسان رضوی)
	درس: مطالعات اجتماعی سال تحصیلی: ۹۷-۱۳۹۶ نوبت صبح

بخش اختیاری

- فصل اول:
- ۱- نادرست (۰/۵) ۲- ج (طول جغرافیایی) (۰/۵) ۳- حرکت زمین به دور خود، که ۲۴ ساعت طول می کشد. (۱)
- ۴- ب (اقامه نماز و روزه گرفتن) (۰/۵)
- فصل دوم:
- ۵- ج (حرکت ورقه ها) (۰/۵) ۶- الف (-۷) (۰/۵) ۷- نادرست (۰/۵) ۸- ماهیگیری، منابع نفت و گاز و .. (۱).
- فصل سوم:
- ۹- ج (جنگل های استوایی) (۰/۵) ۱۰- درست (۰/۵)
- ۱۱- کشاورزی به روش علمی و آموزش روستاییان، کاشت درختان جایگزین، ایجاد پارک های وحش و .. (۰/۵).
- ۱۲- زیست بوم: ناحیه وسیع جغرافیایی که در آن انواع خاصی از گیاهان و جانوران زندگی می کنند و ناحیه مشخصی را بوجود می آورند (۱).
- فصل چهار:
- ۱۳- ب (۰/۵) ۱۴- درست (۰/۵) ۱۵- کاهش مرگ و میر (۰/۵)
- ۱۶- سلطه کشورهای قدرتمند، مستعمره کردن کشورها، اشغال نظامی کشورها، جلوگیری از استقلال سیاسی و اقتصادی (و مطالب صفحه ۵۵) (۱)
- فصل ۵:
- ۱۷- ب (۰/۵) ۱۸- درست (۰/۵) ۱۹- قزلباش (۰/۵)
- ۲۰- رسمی کردن مذهب شیعه، انتخاب تبریز به عنوان پایتخت، شکست ازبک (و مطالب صفحه ۵۹) (۱)
- فصل ۶:
- ۲۱- د (۰/۵) ۲۲- درست (۰/۵) ۲۳- برقرار کردن امنیت و آرامش، مبارزه با مفاسد اداری، تاسیس دارالفنون (و مطالب صفحه ۷۹) (۰/۵)
- ۲۴- افزایش تولید و شکوفایی اقتصادی (و مطالب صفحه ۷۶) (۱)

بخش اجباری

- فصل ۷:
- ۲۵- ب (۰/۵) ۲۶- الف (۰/۵) ۲۷- نادرست (۰/۵)
- ۲۸- حکومتی است که در آن قدرت پادشاه محدود و مجلس وظیفه قانونگذاری را برعهده دارد (۱).
- فصل ۸:
- ۲۹- د (۰/۵) ۳۰- جلوگیری از قیام های مردمی (۱) ۳۱- پاسداری از اهداف انقلاب اسلامی - جهادسازندگی (۱)
- فصل ۹:
- ۳۲- الف (۰/۵) ۳۳- نادرست (۰/۵) ۳۴- درست (۰/۵) ۳۵- ۱- اعتقاد به آن ها، ۲- حفظ آبرو و احترام ۳- ترس از مجازات (۲مورد انمره)
- فصل ۱۰:
- ۳۶- ب (۰/۵) ۳۷- درست (۰/۵) ۳۸- تشویق (۰/۵) ۳۹- صمیمیت و همکاری، داشتن صبر و شکیبایی، توکل به خدا و (۱).
- فصل ۱۱:
- ۴۰- ج (۰/۵) ۴۱- درست (۰/۵) ۴۲- همکاری مردم برای پیشبرد برنامه های سیاسی، اقتصادی، فرهنگی و ... با توجه به مقتضیات هر منطقه از کشور (۰/۵) ۴۳- کلمه جمهوری، نشان می دهد که شکل حکومت جمهوری است و در آن حق انتخاب و مشارکت مردم در حکومت به رسمیت شناخته می شود. (۱)
- فصل ۱۲:
- ۴۴- د (۰/۵) ۴۵- درست (۰/۵) ۴۶- «فعالیت اقتصادی» (۰/۵) ۴۷- باتوجه به مطالب صفحه ۱۶۱ و مثال دانش آموز (۱).

توجه: پاسخ های دانش آموز در صورتی که مفهوم سوال را برساند و تحلیلی صحیح به همراه داشته باشد، قابل بررسی است و نمره به آن تعلق می گیرد.

تاریخ امتحان : ۹۷/۰۳/۲۲
مدت امتحان : ۷۰ دقیقه
ساعت شروع : ۱۳ (بعد از ظهر)
تعداد صفحات : ۳
تعداد سوال : ۴۱

اداره کل آموزش و پرورش خراسان رضوی
اداره سنجش آموزش و پرورش
سوالات امتحان هماهنگ نهم (متوسطه اول)
درس : مطالعات اجتماعی
Sanjesh.razavi.medu.ir

نام خانوادگی :
نام آموزشگاه :
شماره ی داوطلب :
نوبت : خرداد ماه ۹۷

بارم	سوالات	ردیف
------	--------	------

(بخش انتخابی)

توجه :

دانش آموز عزیز در (بخش انتخابی)، ۶ بسته سوال دارای بارم ۲/۵ نمره از فصل ۱ تا فصل ۶ وجود دارد.
لطفا فقط ۲ فصل را از این بخش انتخاب کرده و به سوالات، همان فصل ها جواب دهید. **مجموع ۵ نمره** از این بخش برای شما در نظر گرفته خواهد شد. (در صورت پاسخ به بیش از دو فصل انتخابی، پاسخ سوالات اضافه، تصحیح نخواهد شد).

فصل اول : سیاره ما، زمین بارم ۲/۵ نمره

۰/۵	سیاره های درونی منظومه خورشیدی از گازهای مختلف تشکیل شده اند . <input type="checkbox"/> درست <input type="checkbox"/> نادرست	۱
۰/۵	دایره های فرضی که در هر دو نیمکره به موازات استوا رسم شده اند را می نامند .	۲
۰/۵	ما ایرانیان به کدام سمت نماز می خوانیم ؟ الف - شمال شرقی <input type="checkbox"/> ب - جنوب غربی <input type="checkbox"/> ج - جنوب شرقی <input type="checkbox"/> د - شمال غربی <input type="checkbox"/>	۳
۱	سال کبیسه را تعریف کنید.	۴

فصل دوم : سنگ کره، آب کره، هوا کره بارم ۲/۵ نمره

۰/۵	پایین ترین لایه جو که نزدیک به سطح زمین است ، وُردسپهر نام دارد . <input type="checkbox"/> درست <input type="checkbox"/> نادرست	۵
۰/۵	بعد از فلات قاره کدام ناهمواری اقیانوسی ، قرار دارد؟ الف - شیب قاره <input type="checkbox"/> ب - دشت اقیانوسی <input type="checkbox"/> ج - جزیره <input type="checkbox"/> د - گودال اقیانوسی <input type="checkbox"/>	۶
۰/۵	کدام گاز بیشترین درصد جو زمین را تشکیل می دهد؟ الف - نیتروژن <input type="checkbox"/> ب - اکسیژن <input type="checkbox"/> ج - دی اکسید کربن <input type="checkbox"/> د - بخار آب <input type="checkbox"/>	۷
۱	انسان با چه هدفی چهره ناهمواری های زمین را تغییر می دهد؟	۸

فصل سوم : زیست کره، تنوع شگفت انگیز بارم ۲/۵ نمره

۰/۵	خره و گل‌سنگ ، پوشش گیاهی زیست بوم تایگا می باشد. <input type="checkbox"/> درست <input type="checkbox"/> نادرست	۹
۰/۵	کدام یک از بیابان های زیر با دیگر بیابان ها ، متفاوت است؟ الف - لوت <input type="checkbox"/> ب - ربع الخالی <input type="checkbox"/> ج - گبی <input type="checkbox"/> د - صحرا <input type="checkbox"/>	۱۰
۱/۵	سه مورد از مهمترین عواملی که باعث تخریب زیستگاهها می شود را نام ببرید .	۱۱

فصل چهارم : ساکنان سیاره زمین بارم ۲/۵ نمره

۰/۵	مهاجرت گروهی از مردم افغانستان به کشورهای همسایه ، به دلیل شرایط جنگ، چه نوع مهاجرتی می باشد ؟ الف - روزانه <input type="checkbox"/> ب - اختیاری <input type="checkbox"/> ج - داخلی <input type="checkbox"/> د - اجباری <input type="checkbox"/>	۱۲
۱	در دو قرن اخیر مهم ترین عواملی که موجب کاهش چشمگیر مرگ و میرها شده است را نام ببرید .	۱۳
۱	دو عامل داخلی نابرابری در جهان را نام ببرید.	۱۴

ادامه سوالات در صفحه بعد

صفحه ۱

« باسمه تعالی »

تاریخ امتحان : ۹۷/۰۳/۲۲
مدت امتحان : ۷۰ دقیقه
ساعت شروع : ۱۳ (بعد از ظهر)
تعداد صفحات : ۳
تعداد سوال : ۴۱

اداره کل آموزش و پرورش خراسان رضوی
اداره سنجش آموزش و پرورش
سوالات امتحان هماهنگ نهم (متوسطه اول)
درس : مطالعات اجتماعی
Sanjesh.razavi.medu.ir

نام خانوادگی :
نام آموزشگاه :
شماره ی داوطلب :
نوبت : خرداد ماه ۹۷

بارم	سوالات	ردیف
------	--------	------

فصل پنجم : عصر یکپارچگی و شکوفایی **بارم ۲/۵ نمره**

۰/۵	قلمرو حکومت صفویان در دوره شاه اسماعیل به حدود قلمرو دوره ساسانیان رسید . درست <input type="checkbox"/> نادرست <input type="checkbox"/>	۱۵
۰/۵	کدام کشور ، در آغاز تاسیس سلسله صفوی جزایر و سواحل جنوبی ایران را تصرف کرده بود ؟ الف - پرتغال <input type="checkbox"/> ب - اسپانیا <input type="checkbox"/> ج - انگلستان <input type="checkbox"/> د - فرانسه <input type="checkbox"/>	۱۶
۱/۵	سه منبع عمده درآمد حکومت صفوی را نام ببرید.	۱۷

فصل ششم : ایران از عهد نادرشاه تا ناصرالدین شاه **بارم ۲/۵ نمره**

۰/۵	مدرسه دارالفنون در ایران توسط عباس میرزا تاسیس شد . درست <input type="checkbox"/> نادرست <input type="checkbox"/>	۱۸
۰/۵	کدام پادشاه تهران را به پایتختی خود انتخاب کرد ؟ الف - نادر <input type="checkbox"/> ب - لطفعلی خان زند <input type="checkbox"/> ج - آقا محمد خان قاجار <input type="checkbox"/> د - کریم خان زند <input type="checkbox"/>	۱۹
۰/۵	نهضت تنباکو در زمان کدام پادشاه صورت گرفت ؟ الف - فتحعلی شاه <input type="checkbox"/> ب - ناصرالدین شاه <input type="checkbox"/> ج - مظفرالدین شاه <input type="checkbox"/> د - محمد علی شاه <input type="checkbox"/>	۲۰
۱	طبق عهد نامه گلستان ، کدام مناطق از حاکمیت ایران خارج شدند ؟	۲۱

(بخش اجباری)

توجه : دانش آموز عزیز در (بخش اجباری)، به تمام سوالات از سوال ۲۲ تا ۴۱ به طور کامل پاسخ دهید. بarm این بخش ۱۵ نمره است.

۰/۵	جنگ جهانی اول پس از چهار سال با پیروزی متحدین به پایان رسید . درست <input type="checkbox"/> نادرست <input type="checkbox"/>	۲۲
۰/۵	انقلاب کبیر فرانسه هم زمان با تاسیس ، کدام یک از حکومت های زیر صورت گرفت ؟ الف - قاجار <input type="checkbox"/> ب - افشاریه <input type="checkbox"/> ج - زندیه <input type="checkbox"/> د - صفویه <input type="checkbox"/>	۲۳
۰/۵	کدام دولت ها در کودتای ۲۸ مرداد ۱۳۳۲ و سرنگونی مصدق نقش زیادی داشتند ؟ الف - روسیه و انگلیس <input type="checkbox"/> ب - روسیه و آمریکا <input type="checkbox"/> ج - آلمان و روسیه <input type="checkbox"/> د - انگلیس و آمریکا <input type="checkbox"/>	۲۴
۱	در جنگ جهانی دوم متفقین به چه بهانه ای کشور ایران را اشغال کردند ؟	۲۵
۰/۵	انتخابات اولین دوره ریاست جمهوری ایران ، در بهمن ۱۳۵۹ برگزار شد . درست <input type="checkbox"/> نادرست <input type="checkbox"/>	۲۶
۱	علت قیام ۱۹ دی مردم قم در سال ۱۳۵۶ ، چه بود ؟	۲۷
۱	خواسته اصلی و اساسی مردم ایران در جریان انقلاب اسلامی ، تحقق چه شعاری بود ؟	۲۸
۰/۵	وقتی خود را عضو یک گروه معرفی می کنیم به هویت فردی خویش اشاره می کنیم . درست <input type="checkbox"/> نادرست <input type="checkbox"/>	۲۹
۰/۵	جنسیت ، مکان تولد و پدر و مادر از ویژگی های انتسابی هویت می باشند . درست <input type="checkbox"/> نادرست <input type="checkbox"/>	۳۰
۰/۵	« اولین و مهم ترین کانون اجتماعی شدن فرد » کدام است ؟ الف - مدرسه <input type="checkbox"/> ب - دوستان <input type="checkbox"/> ج - خانواده <input type="checkbox"/> د - دانشگاه <input type="checkbox"/>	۳۱

ادامه سوالات در صفحه بعد

صفحه ۲

« باسمه تعالی »

تاریخ امتحان : ۹۷/۰۳/۲۲
مدت امتحان : ۷۰ دقیقه
ساعت شروع : ۱۳ (بعد از ظهر)
تعداد صفحات : ۳
تعداد سوال : ۴۱

اداره کل آموزش و پرورش خراسان رضوی
اداره سنجش آموزش و پرورش
سوالات امتحان هماهنگ نهم (متوسطه اول)
درس : مطالعات اجتماعی
Sanjesh.razavi.medu.ir

نام :
نام خانوادگی :
نام آموزشگاه :
شماره ی داوطلب :
نوبت : خرداد ماه ۹۷

ردیف	سوالات	بارم
۳۲	« فرهنگ پدیده ای آموختنی است . » منظور از این جمله چیست ؟ توضیح دهید	۱
۳۳	از دیدگاه اسلام ، مهم ترین عامل در همسر گزینی چیست ؟ الف - تحصیلات <input type="checkbox"/> ب - اعتقادات دینی <input type="checkbox"/> ج - وضعیت خانوادگی <input type="checkbox"/> د - سن <input type="checkbox"/>	۰/۵
۳۴	دو روشی که خانواده ، اعضای خود را اجتماعی می کند را نام ببرید. الف - ب -	۱
۳۵	به نظر صاحب نظران ، تک فرزندی ، چه پیامدهای نامطلوب فردی و اجتماعی دارد؟	۱
۳۶	تعیین سیاست های کلی نظام و نظارت بر حسن اجرای آن ها از وظایف و اختیارات می باشد	۰/۵
۳۷	کدام یک از موارد زیر ، جزء حقوق و تکلیف متقابل مردم و حکومت ، محسوب می شود ؟ الف - دفاع از مرز و بوم کشور <input type="checkbox"/> ب - برخورداری عدالت قانونی <input type="checkbox"/> ج - امر به معروف و نهی از منکر <input type="checkbox"/> د - رعایت قوانین و مقررات <input type="checkbox"/>	۰/۵
۳۸	سه مورد از مهم ترین وظایف حکومت ها را نام ببرید.	۱/۵
۳۹	کدام گزینه در فعالیت های اقتصادی جزو « ستانده ها » می باشد ؟ الف - کالا و خدمت <input type="checkbox"/> ب - منابع طبیعی <input type="checkbox"/> ج - نیروی کار متخصص <input type="checkbox"/> د - سرمایه و تجهیزات <input type="checkbox"/>	۰/۵
۴۰	پدر محمد کشاورز است . او به فکر استفاده از روش هایی است که علاوه بر آلوده نکردن محیط زیست ، بتواند تولید محصولات خویش را افزایش دهد (بهروری سبز). با ارایه دو راهکار به پدر محمد کمک کنید . الف - ب -	۱
۴۱	برای افزایش بهره وری در فعالیت های اقتصادی چه باید کرد ؟	۱
صفحه ۳	موفق باشید	جمع بارم ۲۰
دانش آموزان عزیز و همکاران محترم میتوانند با مراجعه به سایت مندرج در سربرگ، سوال و راهنمای تصحیح این درس را مشاهده نمایند.		
تصحیح و نمره گذاری	نام و نام خانوادگی مصحح / دبیر	نمره نهایی پس از رسیدگی به اعتراضات مصحح / دبیر
با عدد		با عدد
با حروف	امضاء :	با حروف
	امضاء :	

تاریخ امتحان: ۹۷/۰۳/۲۲	باسمه تعالی		
اداره سنجش آموزش و پرورش	راهنمای تصحیح سؤالات امتحان هماهنگ پایه نهم (استان خراسان رضوی) سال تحصیلی: ۹۷-۱۳۹۶ نوبت بعدازظهر درس: مطالعات اجتماعی		
بخش اختیاری			
فصل اول :			
۳: ب (۰/۵)	۲: مدار (۰/۵)	۱: نادرست (۰/۵)	
۴: سال ۳۶۵ روزه، سال رسمی است که ۶ ساعت از سال خورشیدی کوتاه تر است. برای جبران کسری این شش ساعت در هر ۴ سال، یک روز به سال رسمی اضافه می شود. سال ۳۶۶ روزه را، سال کبیسه می نامند. (۱) فصل ۲:			
۸: رفع نیازهای خود و بهره برداری از محیط طبیعی (۱)	۷: الف (۰/۵)	۶: الف (۰/۵)	۵: درست (۰/۵)
فصل ۳:			
۹: نادرست (۰/۵)			
۱۰: ج (۰/۵)			
۱۱: ایجاد و گسترش شهرها و روستاها، فعالیت های اقتصادی، مصرف گرایی و تولید انبوه زباله شکار و تجارت اعضای بدن حیوانات (صفحه ۳۸) (۱/۵) فصل ۴:			
۱۲: د (۰/۵) ۱۳: بهبود بهداشت و بهبود تغذیه (۱) ۱۴: حکومت های ستمگر و وابسته، جنگ ها و کشمکش های داخلی (یا مطالبی از صفحه ۵۵) (۱) فصل ۵:			
۱۵: درست (۰/۵)			
۱۶: الف (۰/۵)			
۱۷: الف - گرفتن مالیات از کشاورزان و دامداران ب - گرفتن عوارض از کاروان های تجاری			
ج - تجارت و صادرات کالا مانند: ابریشم (۱/۵) فصل ۶:			
۲۱: گرجستان، داغستان و شهرهای باکو و گنجه (صفحه ۷۶) (۱)	۲۰: ب (۰/۵)	۱۹: ج (۰/۵)	۱۸: نادرست (۰/۵)
بخش اجباری			
فصل ۷:			
۲۵: حضور تعدادی از کارشناسان آلمانی (صفحه ۹۵) (۱)	۲۴: د (۰/۵)	۲۳: الف (۰/۵)	۲۲: نادرست (۰/۵)
فصل ۸:			
۲۶: نادرست (۰/۵) ۲۷: اعتراض به انتشار مقاله توهین آمیز نسبت به امام (صفحه ۱۰۴) (۱) ۲۸ - استقلال، آزادی و جمهوری اسلامی (۱) فصل ۹:			
۲۹: نادرست (۰/۵)			
۳۰: درست (۰/۵)			
۳۱: ج (۰/۵)			
۳۲: یعنی از طریق ژن به ارث نمی رسد. بلکه از راه آموزش و تربیت از نسلی به نسل دیگر منتقل می شود. (۱) فصل ۱۰:			
۳۳: ب (۰/۵) ۳۴: تشویق، گفتگو و تنبیه (صفحه ۱۳۳) (۱)	۳۵: کاهش میزان اجتماعی شدن بچه ها، کاهش ارتباط با هم سن و سالان، نداشتن ارتباطات خانوادگی گسترده (عمو، خاله و ...) در آینده (۱)	فصل ۱۱:	
۳۶: رهبری (۰/۵) ۳۷: ج (۰/۵) ۳۸: اجرای قانون، برقراری نظم و تربیت و (صفحه ۱۴۲) (۱/۵) فصل ۱۲:			
۳۹: الف (۰/۵) ۴۰: استفاده از کمپوست (کود آلی طبیعی)، آبیاری قطره ای، استفاده از حشراتی مانند کفش دوزک برای مبارزه با آفات و			
(نظرات درست فراگیر) (۱) ۴۱: ۱: افزایش بهره وری در تولید و توزیع ۲: عقلانی کردن الگوهای مصرفی (۱)			

توجه: پاسخ های دانش آموز در صورتی که مفهوم سوال را برساند و تحلیلی صحیح به همراه داشته باشد، قابل بررسی است و نمره به آن تعلق می گیرد.

همکاران گرامی خسته نباشید

نام خانوادگی:		نام:	
نام آموزشگاه:		اداره کل آموزش و پرورش خراسان رضوی	
شماره داوطلب:		اداره سنجش آموزش و پرورش	
نوبت: غایبین موجه خرداد		سوالات امتحان هماهنگ نهم (متوسطه اول)	
مطالعات اجتماعی		درس:	
Sanjesh.razavi.medu.ir		تاریخ امتحان: ۹۷/۰۴/۱۰	
تعداد سؤال: ۴۳		مدت امتحان: ۶۰ دقیقه	
تعداد صفحات: ۴		ساعت شروع: ۹:۳۰ صبح	
ردیف	سؤالات	بارم	
(بخش انتخابی)			
توجه: دانش آموزان عزیز؛ در این بخش ۶ بسته سؤال از ۶ فصل (فصل ۱ تا فصل ۶)، به ارزش ۲/۵ نمره از هر فصل وجود دارد. لطفاً فقط ۲ فصل را از این بخش انتخاب کرده و به سؤالات همان دو فصل جواب دهید. در مجموع ۵ نمره از این بخش برای شما در نظر گرفته خواهد شد. (چنانچه غیر از دو فصل انتخابی به سؤالات دیگر فصل‌ها پاسخ داده شود، پاسخ سؤالات اضافه، تصحیح نخواهد شد.)			
فصل اول: سیاره ما، زمین بارم: ۲/۵ نمره			
۱	تمام نقاط و مکانهایی که روی یک مدار قرار دارند، دارای «طول جغرافیایی» یکسانی هستند. صحیح <input type="checkbox"/> غلط <input type="checkbox"/>	۰/۵	
۲	در کدام مناطق، طول روز و شب همواره مساوی است؟ الف) مدار رأس السرطان <input type="checkbox"/> ب) مجاور استوا <input type="checkbox"/> ج) مدار رأس الجدی <input type="checkbox"/> د) مجاور قطب‌ها <input type="checkbox"/>	۰/۵	
۳	«اعتدالین» در کدام زمان‌ها اتفاق می‌افتد؟ الف) اول تابستان و اول زمستان <input type="checkbox"/> ب) اول بهار و اول زمستان <input type="checkbox"/> ج) اول تابستان و اول پاییز <input type="checkbox"/> د) اول بهار و اول پاییز <input type="checkbox"/>	۰/۵	
۴	دو تفاوت سیاره‌های درونی و بیرونی منظومه خورشیدی را (از نظر مدار گردش، جنس و ترکیب، قمر) بنویسید.	۱	
فصل دوم: سنگ کره، آب کره، هواکره بارم: ۲/۵ نمره			
۵	به وجود آمدن «چین خوردگی‌ها و رشته کوه‌ها، شکست‌ها (گسل‌ها) و کوه‌های آتشفشانی» از نتایج حرکت ورقه‌های پوسته زمین است. صحیح <input type="checkbox"/> غلط <input type="checkbox"/>	۰/۵	
۶	سرزمینی است نسبتاً هموار و مرتفع که از اطراف به سرزمین‌های کم ارتفاع و پست منتهی می‌شود: الف) فلات <input type="checkbox"/> ب) تپه <input type="checkbox"/> ج) دشت <input type="checkbox"/> د) جلگه <input type="checkbox"/>	۰/۵	
۷	کدام یک از عوامل زیر بر آب و هوای جهان تأثیر ندارد؟ الف) ارتفاع از سطح زمین <input type="checkbox"/> ب) فشار هوا و جریان باد <input type="checkbox"/> ج) طول جغرافیایی <input type="checkbox"/> د) دوری و نزدیکی به اقیانوس‌ها و دریاها <input type="checkbox"/>	۰/۵	
۸	فلات قاره (ایوان خشکی) چیست؟ تعریف کنید.	۱	
فصل سوم: زیست کره، تنوع شگفت انگیز بارم: ۲/۵ نمره			
۹	آب و هوای ساوان در تمام طول سال گرم است و در آن دو فصل خشک و مرطوب وجود دارد. صحیح <input type="checkbox"/> غلط <input type="checkbox"/>	۰/۵	
۱۰	اگر از قطب شمال وارد آسیا شویم، «به ترتیب» ابتدا کدام زیست بوم‌ها را مشاهده خواهیم کرد؟ الف) تایگا - توندرا <input type="checkbox"/> ب) توندرا - تایگا <input type="checkbox"/> ج) تایگا - بیابان <input type="checkbox"/> د) توندرا - ساوان <input type="checkbox"/>	۰/۵	
۱۱	کدام گزینه در مورد جنگل‌های بارانی استوایی درست نیست؟ الف) جنگل‌های استوایی را «ریه‌های زمین» نامیده‌اند <input type="checkbox"/> ب) غنی‌ترین تنوع گیاهی و جانوری را دارند <input type="checkbox"/> ج) خاستگاه اولیه بسیاری از درختان میوه جهان بوده‌اند <input type="checkbox"/> د) بر آب و هوای کره زمین تأثیری ندارند <input type="checkbox"/>	۰/۵	
۱۲	دو راهکار و پیشنهاد مناسب برای استفاده صحیح و خردمندانه از منابع طبیعی بنویسید.	۱	
ادامه سؤالات در صفحه بعد		صفحه ۱	

نام خانوادگی:		نام:	
نام آموزشگاه:		اداره کل آموزش و پرورش خراسان رضوی	
شماره داوطلب:		اداره سنجش آموزش و پرورش	
نوبت: غایبین موجه خرداد		سؤالات امتحان هماهنگ نهم (متوسطه اول)	
مطالعات اجتماعی		درس:	
Sanjesh.razavi.medu.ir		تاریخ امتحان: ۹۷/۰۴/۱۰	
تعداد سؤال: ۴۳		مدت امتحان: ۶۰ دقیقه	
تعداد صفحات: ۴		ساعت شروع: ۹:۳۰ صبح	
بارم	سؤالات	ردیف	
(بخش اجباری)			
توجه: دانش آموزان عزیز؛ به تمام سؤالات این بخش (از سؤال ۲۳ تا ۴۳) به طور کامل پاسخ دهید. بارم این بخش ۱۵ نمره است.			
صحیح یا غلط بودن جملات زیر را با علامت × مشخص کنید.			
۰/۵	محور اصلی اقتصاد مقاومتی «بهره وری» است.	۲۳	صحیح <input type="checkbox"/> غلط <input type="checkbox"/>
۰/۵	نظم، ترتیب و انضباط در کارها، موجب اتلاف وقت و کاهش بهره وری می شود.	۲۴	صحیح <input type="checkbox"/> غلط <input type="checkbox"/>
۰/۵	علت تبعید امام خمینی (ره) در سال ۱۳۴۳ مخالفت ایشان با «لایحه کاپیتولاسیون» بود.	۲۵	صحیح <input type="checkbox"/> غلط <input type="checkbox"/>
۰/۵	پس از کودتای ۲۸ مرداد ۱۳۳۲ و بازگشت محمدرضا شاه به سلطنت، به تدریج نفوذ و سلطه آمریکا بر ایران کمتر شد.	۲۶	صحیح <input type="checkbox"/> غلط <input type="checkbox"/>
درست ترین گزینه را انتخاب کرده و با علامت × مشخص نمایید.			
۰/۵	کدام کشور جزء متفقین جنگ جهانی اول است؟ الف) فرانسه <input type="checkbox"/> ب) آلمان <input type="checkbox"/> ج) ایتالیا <input type="checkbox"/> د) اتریش <input type="checkbox"/>	۲۷	
۰/۵	انقلاب اسلامی ایران در چه تاریخی به پیروزی رسید؟ الف) ۱۲ بهمن ۱۳۵۷ <input type="checkbox"/> ب) ۲۲ بهمن ۱۳۵۷ <input type="checkbox"/> ج) ۱۲ فروردین ۱۳۵۸ <input type="checkbox"/> د) ۳۱ شهریور ۱۳۵۹ <input type="checkbox"/>	۲۸	
۰/۵	«حمایت از تشکیل خانواده و تعلیم و تربیت شایسته» جزء کدام یک از انواع حقوق شهروندی محسوب می شود؟ الف) حق برخورداری از رفاه و تأمین اجتماعی <input type="checkbox"/> ب) حقوق فرهنگی <input type="checkbox"/> ج) حق برخورداری از عدالت قضایی <input type="checkbox"/> د) حق برخورداری از عدالت قانونی <input type="checkbox"/>	۲۹	
۰/۵	کدام یک از موارد زیر بهره وری محسوب نمی شود؟ الف) غنیمت شمردن دوره نوجوانی <input type="checkbox"/> ب) استفاده از روش آبیاری قطره ای در کشاورزی <input type="checkbox"/> ج) درست کردن سایبان برای کولر <input type="checkbox"/> د) استفاده بی رویه از کودهای شیمیایی و سموم کشاورزی <input type="checkbox"/>	۳۰	
۰/۵	کدام عامل موجب ناسازگاری زن و مرد (زوجین) نمی شود؟ الف) آشنایی زوجین (زن و شوهر) با حقوق و تکالیف خود <input type="checkbox"/> ب) وجود تفاوت های فردی بین افراد <input type="checkbox"/> ج) وجود تعارض در نقش هایی که زوجین ایفا می کنند <input type="checkbox"/> د) تربیت و پرورش زن و مرد در دو محیط جداگانه <input type="checkbox"/>	۳۱	
۰/۵	کدام یک از گزینه های زیر «درست تر» است؟ الف) هنجارها به ارزش ها جهت می دهند <input type="checkbox"/> ب) عقاید دینی را با هنجارها و ارزش ها می سنجیم <input type="checkbox"/> ج) هنجارها و ارزش ها را با اعتقادات اسلامی می سنجیم <input type="checkbox"/> د) ارزش ها از مهم ترین عوامل شکل گیری عقاید دینی هستند <input type="checkbox"/>	۳۲	
به سؤالات زیر پاسخ کامل دهید.			
۰/۵	اولین و مهم ترین کانون اجتماعی شدن افراد کجاست؟ (چه نهادی است؟)	۳۳	
ادامه سؤالات در صفحه بعد		صفحه ۳	

نام: نام خانوادگی: نام آموزشگاه: شماره داوطلب: نوبت: غایبین موجه خرداد	« باسمه تعالی » اداره کل آموزش و پرورش خراسان رضوی اداره سنجش آموزش و پرورش سوالات امتحان هماهنگ نهم (متوسطه اول) درس: مطالعات اجتماعی Sanjesh.razavi.medu.ir	تاریخ امتحان: ۹۷/۰۴/۱۰ مدت امتحان: ۶۰ دقیقه ساعت شروع: ۹:۳۰ صبح تعداد صفحات: ۴ تعداد سؤال: ۴۳
--	--	---

ردیف	سوالات	بارم
۳۴	هویت چیست؟	۰/۵
۳۵	جهاد سازندگی به فرمان چه کسی و با چه هدفی تشکیل شد؟	۱
۳۶	دو مورد از مهم ترین کارکردهای خانواده را بنویسید.	۱
۳۷	انقلاب مشروطیت با چه هدفی شکل گرفت؟	۱
۳۸	دو مورد از مهم ترین ویژگی های مشترک جامعه ایرانی (هویت ایرانی) را بنویسید.	۱
۳۹	دو مورد از مهم ترین وظایف و اختیارات رهبر جمهوری اسلامی را بنویسید.	۱
۴۰	صلهٔ ارحام چه فایده هایی برای خانواده ها دارد؟ (۲ مورد)	۱
۴۱	شهروندان در قبال حقوق شهروندی، چه تکالیف و تعهداتی بر عهده دارند؟ (۲ مورد)	۱
۴۲	منظور از بهره وری سبز چیست؟	۱
۴۳	دو تفاوت کودتای سوم اسفند ۱۲۹۹ را با کودتای ۲۸ مرداد ۱۳۳۲ بنویسید.	۱
دانش آموزان عزیز و همکاران محترم می توانند با مراجعه به سایت مندرج در سربرگ، سوال و راهنمای تصحیح این درس را مشاهده نمایند.		
صفحه ۴	موفق باشید.	جمع بارم: ۲۰

تصحیح و نمره گذاری		نام و نام خانوادگی مصحح/ دبیر		نمره نهایی پس از رسیدگی به اعتراضات		نام و نام خانوادگی مصحح/ دبیر	
با عدد	با حروف			با عدد	با حروف		
		امضاء:				امضاء:	

تاریخ امتحان: ۱۳۹۷/۰۴/۱۰	باسمه تعالی
اداره سنجش آموزش و پرورش	راهنمای تصحیح سؤالات امتحان هماهنگ پایه نهم (متوسطه اول) (استان خراسان رضوی) درس: مطالعات اجتماعی سال تحصیلی: ۹۷-۱۳۹۶ (غایبین موجه خرداد)

همکاران گرامی ضمن عرض سلام؛ لطفا در سؤالات تحلیلی چنانچه دانش آموزان مفهوم سؤال را رسانده اند، نمره منظور گردد.

(بخش انتخابی)

- ۱- غلط (۰/۵ نمره) ۲- ب) مجاور استوا (۰/۵ نمره) ۳- د) اول بهار و اول پاییز (۰/۵ نمره)
- ۴- الف) مدار گردش سیاره های بیرونی، طولانی تر (بزرگتر) از مدار گردش سیاره های درونی است. ب) سیاره های بیرونی از گازهای مختلف تشکیل شده اند اما سیاره های درونی سطوح سنگی و جامد دارند. (مانند زمین هستند) ج) تعداد قمرهای سیارات بیرونی بیشتر از تعداد قمرهای سیاره های درونی است. (هر مورد ۰/۵ نمره) (دو مورد ۱ نمره)
- ۵- صحیح (۰/۵ نمره) ۶- الف) فلات (۰/۵ نمره) ۷- الف) ج) طول جغرافیایی (۰/۵ نمره)
- ۸- در جاهایی که اقیانوس ها با خشکی تماس دارند، اغلب ناحیه ای کم عمق با ژرفایی کمتر از ۲۰۰ متر دیده می شود که به آن فلات قاره (ایوان خشکی) می گویند. (۱ نمره) ۹- صحیح (۰/۵ نمره) ۱۰- ب) توندرا - تایگا (۰/۵ نمره) ۱۱- د) بر آب و هوای کره زمین تأثیری ندارند (۰/۵ نمره)
- ۱۲- الف) بین استفاده اقتصادی از جنگل ها و فرصت بازسازی آنها تعادل به وجود بیاید. میزان قطع درختان باید قاعده و قانونی داشته باشد و وقتی درختان قطع می شوند، با برنامه ریزی مناسب درختانی را جایگزین آنها کنند و فرصت رویش دوباره به درختان داده شود. (ذکر یک جمله از چند جمله مذکور برای نیم نمره کافی است) ب) کشاورزی و دامپروری با روش های علمی و جدید که کمترین آسیب را به محیط زیست می رسانند، به کشاورزان آموزش داده شود. ج) با ایجاد پارک های وحش از گونه های جانوری و گیاهی در معرض خطر مراقبت شود تا نسل آنها منقرض نشود. (هر مورد ۰/۵) (دو مورد ۱ نمره)
- ۱۳- صحیح (۰/۵ نمره) ۱۴- ب) مستعمره کردن کشورها در گذشته و اشغال نظامی (۰/۵ نمره)
- ۱۵- کاهش میزان مرگ و میرها و به ویژه مرگ و میر کودکان. (۰/۵ نمره)
- ۱۶- الف) درآمد و رفاه ب) امید به زندگی یا متوسط طول عمر ج) سواد و آموزش (هر مورد ۰/۵ نمره) (دو مورد ۱ نمره)
- ۱۷- الف) تهران (۰/۵ نمره) ۱۸- ج) شاه عباس (۰/۵ نمره) ۱۹- د) شعر و ادب فارسی (۰/۵ نمره)
- ۲۰- الف) مالیاتی که از کشاورزان و دامداران گرفته می شود. ب) عوارضی که از کاروان های تجاری گرفته می شود. ج) درآمدی که بابت اجازه فعالیت شرکت های تجاری اروپایی در ایران دریافت می شود. (هر مورد ۰/۵ نمره) (دو مورد ۱ نمره)
- ۲۱- شکست های نظامی و سیاسی ایران از روسیه و انگلستان در دوره قاجار (۰/۵ نمره)
- ۲۲- الف) لشکرکشی به هندوستان: نادرشاه افشار ب) عهدنامه ترکمانچای: فتحعلی شاه قاجار ج) نهضت تنباکو: ناصرالدین شاه قاجار د) وکیل الرعایا: کریم خان زند (هر مورد ۰/۵ نمره) (چهار مورد ۲ نمره) * ستون (۲) گزینه «سوم» آقامحمدخان قاجار اضافه است.

(بخش اجباری)

- ۲۳- صحیح (۰/۵ نمره) ۲۴- غلط (۰/۵ نمره) ۲۵- صحیح (۰/۵ نمره) ۲۶- غلط (۰/۵ نمره)
- ۲۷- الف) فرانسه (۰/۵ نمره) ۲۸- ب) ۲۲ بهمن ۱۳۵۷ (۰/۵ نمره) ۲۹- ب) حقوق فرهنگی (۰/۵ نمره)
- ۳۰- د) استفاده بی رویه از کودهای شیمیایی و سموم کشاورزی (۰/۵ نمره) ۳۱- الف) آشنایی زوجین (زن و شوهر) با حقوق و تکالیف خود (۰/۵ نمره)
- ۳۲- ج) هنجارها و ارزش ها را با اعتقادات اسلامی می سنجمیم (۰/۵ نمره) ۳۳- خانواده (۰/۵ نمره)
- ۳۴- هویت عبارت است از احساس و آگاهی و شناخت از خود (۰/۵ نمره) ۳۵- به فرمان امام خمینی (ره) (۰/۵) با هدف عمران و آبادانی روستاها (۰/۵) (۱ نمره)
- ۳۶- الف) فرزندآوری و تجدید نسل ب) حمایت و مراقبت (رفع نیازهای عاطفی و مادی) (مهر و محبت و مراقبت و حمایت اقتصادی) ج) جامعه پذیری و تربیت (هر مورد ۰/۵) (دو مورد ۱ نمره) * مورد «ب» چنانچه به موارد داخل پرانتز هم اشاره کردند، نمره منظور گردد. مجموع بارم مورد «ب» ۰/۵ نمره.
- ۳۷- با هدف برقراری حکومت قانون (۰/۵) و رها کردن کشور از چنگ استبداد داخلی و سلطه خارجی (۰/۵) (۱ نمره)
- ۳۸- الف) ما در سرزمین ایران زندگی می کنیم (سرزمین ایران) ب) ما مسلمانیم (دین اسلام) ج) ما تاریخ کهن و میراث فرهنگی غنی داریم (فرهنگ و تاریخ و سرنوشت مشترک) د) زبان مشترک ما فارسی است (زبان فارسی) ه) انقلاب اسلامی نمایانگر آرمانهای والای جامعه ماست (انقلاب اسلامی) (هر مورد ۰/۵ نمره) (دو مورد ۱ نمره)
- ۳۹- الف) تعیین سیاست های کلی نظام و نظارت بر حسن اجرای آنها ب) فرماندهی کل نیروهای مسلح ج) عفو یا تخفیف مجازات محکومان در حدود موازین اسلامی د) نصب و عزل و قبول استعفاى فقهای شورای نگهبان، رئیس قوه قضائیه، رئیس سازمان صدا و سیما و فرماندهان نیروهای نظامی، انتظامی و سپاه پاسداران انقلاب اسلامی (هر مورد ۰/۵ نمره) (دو مورد ۱ نمره) * در صورت نوشتن دو مورد از موارد قسمت «د» نیز نمره کامل منظور گردد.
- ۴۰- الف) سبب اتحاد و همبستگی اقوام، خویشاوندان و نزدیکان می شود (پیوندهای اجتماعی مستحکم تر می شود) ب) مهر و محبت افراد به یکدیگر بیشتر می شود ج) با ایجاد رابطه و خبر گرفتن از حال یکدیگر، مشکلات مالی خویشاوندان با کمک به آنها برطرف می شود و ... (هر مورد ۰/۵ نمره) (دو مورد ۱ نمره) * برای موارد مشابه و یا پاسخ های مرتبط با موضوع نیز نمره منظور گردد.
- ۴۱- الف) رعایت قانون و مقررات ب) همکاری با دولت ج) پرداخت مالیات و عوارض د) دفاع از کشور ه) امر به معروف و نهی از منکر (هر مورد ۰/۵) (دو مورد ۱ نمره) * برای موارد مشابه نیز نمره منظور گردد.
- ۴۲- منظور از بهره وری سبز این است که از ابزارها، روش ها و فناوریهای مختلف در همه مراحل تولید، توزیع و مصرف به گونه ای استفاده کنیم که تأثیرات مضر و منفی فعالیت ها بر محیط زیست به کمترین حد ممکن برسد. (۱ نمره)
- ۴۳- الف) کودتای ۱۲۹۹ منجر به تضعیف قدرت پادشاه (احمدشاه) گردید اما کودتای ۲۸ مرداد ۱۳۳۲ سبب توسعه قدرت و اقتدار پادشاه (محمدرضا شاه) شد. ب) کودتای ۱۲۹۹ سرانجام موجب انقراض حکومت قاجارها شد اما کودتای ۲۸ مرداد ۱۳۳۲ سبب تحکیم و تثبیت قدرت حکومت پهلوی گردید. ج) کودتای ۱۲۹۹ منجر به سلطه بیشتر انگلستان بر ایران شد اما کودتای ۲۸ مرداد ۱۳۳۲ منجر به سلطه آمریکا بر ایران گردید. (هر مورد ۰/۵ نمره) (دو مورد ۱ نمره).
- توجه:** از آنجا که سوال تحلیلی می باشد، به پاسخ های مشابه دانش آموزان و نیز پاسخ های درست از نظر دبیر گرامی، نمره منظور گردد.

نام: « باسمه تعالی »		نام خانوادگی:
اداره کل آموزش و پرورش خراسان رضوی		نام آموزشگاه:
اداره سنجش آموزش و پرورش		شماره داوطلب:
سوالات امتحان هماهنگ نهم (متوسطه اول)		نوبت: جبرانی مردادماه
درس: مطالعات اجتماعی		
Sanjesh.razavi.medu.ir		
تاریخ امتحان: ۹۷/۰۵/۱۰		
مدت امتحان: ۶۰ دقیقه		
ساعت شروع: ۹ صبح		
تعداد صفحات: ۴		
تعداد سؤال: ۴۲		
بارم	سوالات	ردیف
(بخش انتخابی)		
توجه: دانش آموزان عزیز؛ در این بخش ۶ بسته سؤال از ۶ فصل (فصل ۱ تا فصل ۶)، به ارزش ۲/۵ نمره از هر فصل وجود دارد. لطفاً فقط ۲ فصل را از این بخش انتخاب کرده و به سوالات همان دو فصل جواب دهید. در مجموع ۵ نمره از این بخش برای شما در نظر گرفته خواهد شد. (چنانچه غیر از دو فصل انتخابی به سوالات دیگر فصل‌ها پاسخ داده شود، پاسخ سوالات اضافه، تصحیح نخواهد شد.)		
فصل اول: سیاره ما، زمین بارم: ۲/۵ نمره		
۰/۵	موقعیت مکانی یک پدیده، یعنی مکان دقیق قرار گرفتن آن روی کره زمین.	۱
	<input type="checkbox"/> صحیح <input type="checkbox"/> غلط	
۰/۵	«عرض جغرافیایی» هر مکان عبارت است از فاصله آن مکان با نصف النهار مبدأ بر حسب درجه.	۲
	<input type="checkbox"/> صحیح <input type="checkbox"/> غلط	
۰/۵	«سال کبیسه» چند روز است؟	۳
	الف) ۳۶۰ روز <input type="checkbox"/> ب) ۳۶۵ روز <input type="checkbox"/> ج) ۳۶۵ روز و ۶ ساعت <input type="checkbox"/> د) ۳۶۶ روز <input type="checkbox"/>	
۱	حرکت وضعی زمین را تعریف کنید.	۴
فصل دوم: سنگ کره، آب کره، هواکره بارم: ۲/۵ نمره		
۰/۵	تشکیل ابرها و بسیاری از تغییرات آب و هوایی در لایه «تروپوسفر (ورد سپهر)» صورت می‌گیرد.	۵
	<input type="checkbox"/> صحیح <input type="checkbox"/> غلط	
۰/۵	محیطی است متشکل از گازهایی که دور تا دور کره زمین را فرا گرفته اند:	۶
	الف) هیدروسفر <input type="checkbox"/> ب) اتمسفر <input type="checkbox"/> ج) بیوسفر <input type="checkbox"/> د) لیتوسفر <input type="checkbox"/>	
۰/۵	کدام گزینه از عوامل مؤثر بر آب و هوای جهان نیست؟	۷
	الف) ارتفاع از سطح زمین <input type="checkbox"/> ب) طول جغرافیایی <input type="checkbox"/> ج) فشار هوا و جریان باد <input type="checkbox"/> د) دوری و نزدیکی به اقیانوس‌ها و دریاها <input type="checkbox"/>	
۱	دو مورد از نتایج حرکت ورقه‌های پوسته زمین را بنویسید.	۸
فصل سوم: زیست کره، تنوع شگفت انگیز بارم: ۲/۵ نمره		
۰/۵	کدام زیست بوم در نزدیکی قطب شمال و حاشیه اقیانوس منجمد شمالی قرار دارد؟	۹
	الف) توندرا <input type="checkbox"/> ب) ساوان <input type="checkbox"/> ج) تایگا <input type="checkbox"/> د) جنگل‌های پهن برگ <input type="checkbox"/>	
۱	مهم‌ترین عواملی که باعث تخریب زیستگاه‌ها می‌شوند، کدام اند؟ (۲ مورد)	۱۰
۱	زیست بوم (بیوم) چیست؟	۱۱
ادامه سوالات در صفحه بعد		صفحه ۱

نام خانوادگی:		نام: « باسمه تعالی »	
نام آموزشگاه:		اداره کل آموزش و پرورش خراسان رضوی	
شماره داوطلب:		اداره سنجش آموزش و پرورش	
نوبت: جبرانی مردادماه		سوالات امتحان هماهنگ نهم (متوسطه اول)	
		درس: مطالعات اجتماعی	
		Sanjesh.razavi.medu.ir	
تاریخ امتحان: ۹۷/۰۵/۱۰			
مدت امتحان: ۶۰ دقیقه			
ساعت شروع: ۹ صبح			
تعداد صفحات: ۴			
تعداد سؤال: ۴۲			
ردیف	سؤالات	بارم	
فصل چهارم: ساکنان سیاره زمین			
بارم: ۲/۵ نمره			
۱۲	در دو قرن اخیر دو عامل «بهبود بهداشت» و «بهبود تغذیه» موجب کاهش چشمگیر مرگ و میرها شده است.	۰/۵	<input type="checkbox"/> غلط <input type="checkbox"/> صحیح
۱۳	کدام یک از شاخص های توسعه انسانی، جنبه اقتصادی دارد؟	۰/۵	<input type="checkbox"/> الف) سواد و آموزش <input type="checkbox"/> ب) امید به زندگی <input type="checkbox"/> ج) درآمد و رفاه <input type="checkbox"/> د) متوسط طول عمر
۱۴	کدام مورد، از دلایل و عوامل داخلی نابرابری در جهان به محسوب نمی شود؟	۰/۵	<input type="checkbox"/> الف) فرهنگ و باورهای غلط <input type="checkbox"/> ب) مستعمره کردن کشورها در گذشته <input type="checkbox"/> ج) بی سواد و ناآگاهی مردم <input type="checkbox"/> د) جنگ ها و کشمکش های داخلی
۱۵	در مهاجرت اجباری، افراد به چه دلایلی ممکن است محل زندگی خود را ترک کنند؟ (۲ مورد)	۱	
فصل پنجم: عصر یکپارچگی و شکوفایی			
بارم: ۲/۵ نمره			
۱۶	میرداماد، ملاصدرا، شیخ بهایی و علامه مجلسی از فیلسوفان و عالمان بزرگ «دوره زندگی» هستند.	۰/۵	<input type="checkbox"/> غلط <input type="checkbox"/> صحیح
۱۷	رسمی کردن مذهب تشیع (شیعه) از اقدامات کدام پادشاه صفوی است؟	۰/۵	<input type="checkbox"/> الف) شاه عباس <input type="checkbox"/> ب) شاه تهماسب <input type="checkbox"/> ج) شاه سلطان حسین <input type="checkbox"/> د) شاه اسماعیل
۱۸	شاه عباس صفوی کدام کشور استعمارگر را از سواحل و جزایر جنوبی ایران بیرون راند؟	۰/۵	<input type="checkbox"/> الف) پرتغال <input type="checkbox"/> ب) اسپانیا <input type="checkbox"/> ج) انگلستان <input type="checkbox"/> د) فرانسه
۱۹	دو عامل گسترش تجارت در دوره صفویه را بنویسید.	۱	
فصل ششم: ایران از عهد نادرشاه تا ناصرالدین شاه			
بارم: ۲/۵ نمره			
۲۰	عهدنامه های «گلستان و ترکمانچای» در زمان کدام پادشاه قاجار توسط روسها به ایران تحمیل شد؟	۰/۵	<input type="checkbox"/> الف) ناصرالدین شاه <input type="checkbox"/> ب) مظفرالدین شاه <input type="checkbox"/> ج) فتحعلی شاه <input type="checkbox"/> د) محمد شاه
۲۱	مؤسس (بنیانگذار) سلسله افشاریه چه کسی است؟	۰/۵	
۲۲	موفقیت نهضت تنباکو از نظر سیاسی و اجتماعی چه اهمیتی داشت؟	۱/۵	
	صفحه ۲	ادامه سؤالات در صفحه بعد	

نام: « باسمه تعالی »		نام خانوادگی:						
اداره کل آموزش و پرورش خراسان رضوی		نام آموزشگاه:						
اداره سنجش آموزش و پرورش		شماره داوطلب:						
سوالات امتحان هماهنگ نهم (متوسطه اول)		نوبت: جبرانی مردادماه						
درس: مطالعات اجتماعی								
Sanjesh.razavi.medu.ir								
تاریخ امتحان: ۹۷/۰۵/۱۰	مدت امتحان: ۶۰ دقیقه							
ساعت شروع: ۹ صبح	تعداد صفحات: ۴							
تعداد سؤال: ۴۲								
بارم	سوالات	ردیف						
(بخش اجباری)								
توجه: دانش آموزان عزیز؛ به تمام سوالات این بخش (از سؤال ۲۳ تا ۴۲) به طور کامل پاسخ دهید. بارم این بخش ۱۵ نمره است.								
صحیح یا غلط بودن جملات زیر را با علامت × مشخص کنید.								
۰/۵	از دیدگاه اسلام، مهم ترین عاملی که باید در همسرگزینی به آن توجه کرد، «ایمان و اعتقادات دینی» است. <input type="checkbox"/> صحیح <input type="checkbox"/> غلط	۲۳						
۰/۵	در جهان بینی توحیدی اسلام، حق مالکیت مطلق همه موجودات و پدیده های جهان فقط از آن «انسان های با تقوا» است. <input type="checkbox"/> صحیح <input type="checkbox"/> غلط	۲۴						
۰/۵	یکی از عواملی که موجب امنیت و ثبات خانواده و گرمی و نشاط آن می شود، وجود فرزندان است. صحیح <input type="checkbox"/> غلط <input type="checkbox"/>	۲۵						
درست ترین گزینه را انتخاب کرده و با علامت × مشخص نمایید.								
۰/۵	کدام کشور جزء متفقین جنگ جهانی اول نیست؟ (الف) روسیه <input type="checkbox"/> (ب) آلمان <input type="checkbox"/> (ج) فرانسه <input type="checkbox"/> (د) انگلستان <input type="checkbox"/>	۲۶						
۰/۵	مهم ترین کانون حمایت و مراقبت عاطفی از افراد کدام است؟ (الف) خانواده <input type="checkbox"/> (ب) مهد کودک <input type="checkbox"/> (ج) مدرسه <input type="checkbox"/> (د) خانه سالمندان <input type="checkbox"/>	۲۷						
۰/۵	کدام یک از ویژگی های هویتی زیر، اکتسابی است؟ (الف) مکان تولد <input type="checkbox"/> (ب) پدر و مادر <input type="checkbox"/> (ج) با سواد شدن <input type="checkbox"/> (د) سن و تاریخ تولد <input type="checkbox"/>	۲۸						
۰/۵	طبق قانون اساسی، مهم ترین رکن حکومت جمهوری اسلامی ایران چه کسی است؟ (الف) رئیس جمهور <input type="checkbox"/> (ب) رهبر <input type="checkbox"/> (ج) رئیس قوه قضائیه <input type="checkbox"/> (د) رئیس مجمع تشخیص مصلحت نظام <input type="checkbox"/>	۲۹						
۰/۵	کدام مورد با اصول بهره وری سازگار است و بهره وری محسوب می شود؟ (الف) تشویق مصرف گرایی برای افزایش تولید <input type="checkbox"/> (ب) استفاده از روش آبیاری قطره ای در کشاورزی <input type="checkbox"/> (ج) خفر بی رویه چاه های عمیق <input type="checkbox"/> (د) استفاده بی رویه از کودهای شیمیایی و سموم کشاورزی <input type="checkbox"/>	۳۰						
۱/۵	نوع حقوق شهروندی را از بین عبارات داده شده انتخاب کرده و در جدول زیر در جای مناسب بنویسید. (یک مورد اضافه است) (مشارکت سیاسی - عدالت قضایی - رفاه و تأمین اجتماعی - عدالت قانونی)	۳۱						
	<table border="1" style="width: 100%;"> <tr> <td style="width: 30%;"></td> <td>الف) حمایت از تشکیل خانواده و تعلیم و تربیت شایسته</td> </tr> <tr> <td></td> <td>ب) عدم تبعیض بین شهروندان در وضع و اجرای قوانین</td> </tr> <tr> <td></td> <td>ج) دسترسی آسان به آموزش و پرورش، مراکز فرهنگی و آموزشی</td> </tr> </table>		الف) حمایت از تشکیل خانواده و تعلیم و تربیت شایسته		ب) عدم تبعیض بین شهروندان در وضع و اجرای قوانین		ج) دسترسی آسان به آموزش و پرورش، مراکز فرهنگی و آموزشی	
	الف) حمایت از تشکیل خانواده و تعلیم و تربیت شایسته							
	ب) عدم تبعیض بین شهروندان در وضع و اجرای قوانین							
	ج) دسترسی آسان به آموزش و پرورش، مراکز فرهنگی و آموزشی							
به سوالات زیر پاسخ کامل دهید.								
۰/۵	طی کودتای ۲۸ مرداد ۱۳۳۲ دولت کدام نخست وزیر در ایران سقوط کرد؟	۳۲						
	ادامه سوالات در صفحه بعد	صفحه ۳						

نام خانوادگی: نام آموزشگاه: شماره داوطلب: نوبت: جبرانی مردادماه	« باسمه تعالی » اداره کل آموزش و پرورش خراسان رضوی اداره سنجش آموزش و پرورش سوالات امتحان هماهنگ نهم (متوسطه اول) درس: مطالعات اجتماعی Sanjesh.razavi.medu.ir	نام: نام خانوادگی: نام آموزشگاه: شماره داوطلب: نوبت: جبرانی مردادماه
--	--	--

ردیف	سوالات	بارم
۳۳	فرمان مشروطه توسط کدام پادشاه قاجار در ۱۴ مرداد ۱۲۸۵ ه.ش صادر شد؟	۰/۵
۳۴	علت قیام مردم قم در ۱۹ دی ۱۳۵۶ چه بود؟	۰/۵
۳۵	لایه های چهارگانه فرهنگ را فقط نام ببرید.	۱
۳۶	دو مورد از نهادهایی را که پس از پیروزی انقلاب اسلامی به فرمان امام خمینی (ره) به وجود آمدند، نام ببرید.	۱
۳۷	هویت چیست؟ تعریف کنید.	۱
۳۸	اهداف آمریکا از ایجاد تغییرات در امور اجتماعی و اقتصادی ایران چه بود؟	۱
۳۹	دو مورد از مهم ترین کارکردهای خانواده را بنویسید.	۱
۴۰	دو راهکار مهم برای افزایش بهره وری در زندگی روزمره را بنویسید.	۱
۴۱	آثار و پیامدهای سیاسی، اقتصادی و اجتماعی جنگ جهانی دوم بر ایران چه بود؟ (۲ مورد)	۱
۴۲	منظور از «بهره وری سبز» چیست؟	۱

دانش آموزان عزیز و همکاران محترم می توانند با مراجعه به سایت مندرج در سربرگ، سوال و راهنمای تصحیح این درس را مشاهده نمایند.

صفحه ۴	موفق باشید.	جمع بارم: ۲۰
--------	-------------	--------------

نام و نام خانوادگی مصحح/ دبیر	نمره نهایی پس از رسیدگی به اعتراضات	نام و نام خانوادگی مصحح/ دبیر	تصحیح و نمره گذاری
	با عدد	با حروف	با عدد
امضاء:		امضاء:	با حروف

همکاران گرامی ضمن عرض سلام؛ لطفا در سؤالات تحلیلی چنانچه دانش آموزان مفهوم سؤال را رسانده اند، نمره منظور گردد.

(بخش انتخابی)

- ۱- صحیح (۰/۵ نمره) ۲- غلط (۰/۵ نمره) ۳- د) ۳۶۶ روز (۰/۵ نمره)
- ۴- زمین هر ۲۴ ساعت یک بار به دور محور خود می چرخد، که به آن حرکت وضعی می گویند. (۱ نمره)
- ۵- صحیح (۰/۵ نمره) ۶- ب) اتمسفر (۰/۵ نمره) ۷- ب) طول جغرافیایی (۰/۵ نمره)
- ۸- ایجاد چین خوردگی ها و رشته کوهها - شکست ها (گسل ها) - کوههای آتشفشانی (دو مورد ۱ نمره)
- ۹- الف) توندرا (۰/۵ نمره)
- ۱۰- الف) ایجاد و گسترش شهرها و روستاها، ساختن پل ها، جاده ها، ساختمان ها و سدها بدون برنامه ریزی و توجه به جنبه های زیست محیطی (ب) فعالیت های صنعتی و تولید انبوه کالاها در کارخانه ها (ج) مصرف گرایی و تولید انبوه زباله (د) شکار و تجارت اعضای بدن حیوانات. (هر مورد ۰/۵ نمره) (۲ مورد ۱ نمره)
- ۱۱- زیست بوم یک ناحیه وسیع جغرافیایی است که در آن انواع خاصی از گیاهان و جانوران زندگی می کنند و ناحیه مشخصی را به وجود می آورند. (۱ نمره)
- ۱۲- صحیح (۰/۵ نمره) ۱۳- ج) درآمد و رفاه (۰/۵ نمره)
- ۱۴- ب) مستعمره کردن کشورها در گذشته (۰/۵ نمره)
- ۱۵- به دلایلی چون قحطی، خشکسالی، دیگر حوادث طبیعی مانند زلزله و... و یا جنگ ها و درگیری های سیاسی (هر مورد ۰/۵ نمره) (دو مورد ۱ نمره)
- ۱۶- غلط (۰/۵ نمره)
- ۱۷- د) شاه اسماعیل (۰/۵ نمره)
- ۱۸- الف) پرتغال (۰/۵ نمره)
- ۱۹- یکپارچه بودن سرزمین ایران - وجود نظم و امنیت در سراسر کشور - ساختن راه ها و احداث کاروان سراها (هر مورد ۰/۵ نمره) (دو مورد ۱ نمره)
- ۲۰- ج) فتحعلی شاه (۰/۵ نمره)
- ۲۱- نادرشاه افشار (۰/۵ نمره)
- ۲۲- نهضت تنباکو نخستین حرکت جدی مردم برای رهایی از نفوذ و سلطه خارجی (۰/۵) و ایستادگی در برابر ستم داخلی بود (۰/۵) و پیروزی آن حس اعتماد به نفس و روحیه مقاومت و مبارزه را در مردم تقویت کرد. (۰/۵) (۱/۵ نمره)

(بخش اجباری)

- ۲۳- صحیح (۰/۵ نمره) ۲۴- غلط (۰/۵ نمره) ۲۵- صحیح (۰/۵ نمره)
- ۲۶- ب) آلمان (۰/۵ نمره)
- ۲۷- الف) خانواده (۰/۵ نمره)
- ۲۸- ج) باسواد شدن (۰/۵ نمره)
- ۲۹- ب) رهبر (۰/۵ نمره)
- ۳۰- ب) استفاده از روش آبیاری قطره ای در کشاورزی (۰/۵ نمره)
- ۳۱- الف- حقوق فرهنگی ب- عدالت قانونی ج- رفاه و تأمین اجتماعی (هر مورد ۰/۵ نمره) (۱/۵ نمره)
- ۳۲- دولت دکتر محمد مصدق (۰/۵ نمره)
- ۳۳- مظفرالدین شاه (۰/۵ نمره)
- ۳۴- اعتراض به انتشار مقاله توهین آمیز نسبت به امام خمینی در روزنامه اطلاعات (۰/۵ نمره)
- ۳۵- نمادها- هنجارها - ارزش ها - عقاید (هر مورد ۰/۲۵ نمره) (چهار مورد ۱ نمره)
- ۳۶- سپاه پاسداران انقلاب اسلامی - بسیج مستضعفان - جهاد سازندگی - نهضت سواد آموزی - کمیته امداد امام خمینی (هر مورد ۰/۵) (دو مورد ۱ نمره)
- ۳۷- هویت عبارت است از احساس و آگاهی (۰/۵) و شناخت از خود (۰/۵) (۱ نمره)
- ۳۸- جلوگیری از وقوع قیام های مردمی و حفظ حکومت پهلوی (۱ نمره)
- ۳۹- الف) فرزندآوری و تجدید نسل (ب) حمایت و مراقبت (رفع نیازهای عاطفی و مادی) (مهر و محبت و مراقبت و حمایت اقتصادی) (ج) جامعه پذیری و تربیت (هر مورد ۰/۵) (دو مورد ۱ نمره) * مورد «ب» چنانچه به موارد داخل پرانتز هم اشاره کردند، نمره منظور گردد. مجموع بارم مورد «ب» ۰/۵ نمره.
- ۴۰- استفاده مناسب از وقت و زمان - نظم، ترتیب و انضباط در کارها - اصلاح عادت های غلط مصرفی - انجام دادن کارها از روی آگاهی - تنظیم جدول بودجه اقتصادی (هر مورد ۰/۵ نمره) (دو مورد ۱ نمره)
- ۴۱- در جنگ جهانی دوم، کشور ما تا پایان جنگ در اشغال بیگانگان بود - این جنگ به اقتصاد و جامعه ایران خسارت ها و آسیب های زیادی وارد کرد - مردم ایران طی آن سال ها با کمبود و گرانی شدید مواد غذایی مخصوصا نان، روبه رو بودند - عده زیادی بر اثر گرسنگی و سوء تغذیه جان سپردند (هر مورد ۰/۵ نمره) (دو مورد ۱ نمره).
- ۴۲- منظور از بهره وری سبز این است که از ابزارها، روش ها و فناوریهای مختلف در همه مراحل تولید، توزیع و مصرف به گونه ای استفاده کنیم که تأثیرات مضر و منفی فعالیت ها بر محیط زیست به کمترین حد ممکن برسد. (۱ نمره)

همکاران گرامی خدایم. از زحمات شما سپاسگزاریم.

نام خانوادگی:		نام: « باسمه تعالی »	
نام آموزشگاه:		اداره کل آموزش و پرورش خراسان رضوی	
شماره داوطلب:		اداره سنجش آموزش و پرورش	
نوبت: شهریورماه ۹۷		سوالات امتحان هماهنگ نهم (متوسطه اول)	
		درس: مطالعات اجتماعی	
		Sanjesh.razavi.medu.ir	
تاریخ امتحان: ۹۷/۰۶/۱۴			
مدت امتحان: ۶۰ دقیقه			
ساعت شروع: ۹ صبح			
تعداد صفحات: ۴			
تعداد سؤال: ۴۰			
بارم	سؤالات	ردیف	
(بخش انتخابی)			
توجه: دانش آموزان عزیز؛ در این بخش ۶ بسته سؤال از ۶ فصل (فصل ۱ تا فصل ۶)، به ارزش ۲/۵ نمره از هر فصل وجود دارد. لطفاً فقط ۲ فصل را از این بخش انتخاب کرده و به سؤالات همان دو فصل جواب دهید. در مجموع ۵ نمره از این بخش برای شما در نظر گرفته خواهد شد. (چنانچه غیر از دو فصل انتخابی به سؤالات دیگر فصل‌ها پاسخ داده شود، پاسخ سؤالات اضافه، تصحیح نخواهد شد.)			
فصل اول: سیاره ما، زمین بارم: ۲/۵ نمره			
۰/۵	در میان چهار سیاره نزدیک به خورشید (سیاره های درونی)، «زمین» بزرگترین سیاره است.	۱	صحیح <input type="checkbox"/> غلط <input type="checkbox"/>
۰/۵	«طول جغرافیایی» هر مکان عبارت است از فاصله آن مکان با مدار استوا بر حسب درجه.	۲	صحیح <input type="checkbox"/> غلط <input type="checkbox"/>
۰/۵	هم اکنون که در نیمکره شمالی فصل تابستان را می گذرانیم، در نیمکره جنوبی چه فصلی است؟	۳	الف) زمستان <input type="checkbox"/> ب) پاییز <input type="checkbox"/> ج) تابستان <input type="checkbox"/> د) بهار <input type="checkbox"/>
۱	دو نتیجه حرکت وضعی زمین را بنویسید.	۴	
فصل دوم: سنگ کره، آب کره، هواکره بارم: ۲/۵ نمره			
۰/۵	«پهناترین» و «عمیق ترین» اقیانوس جهان به ترتیب کدام است؟	۵	الف) آرام - اطلس <input type="checkbox"/> ب) آرام - آرام <input type="checkbox"/> ج) اطلس - آرام <input type="checkbox"/> د) آرام - هند <input type="checkbox"/>
۱	دو مورد از عوامل بیرونی طبیعی مؤثر در تغییر شکل ناهمواری ها را بنویسید.	۶	
۱	گرم شدن کره زمین (به دلیل افزایش فعالیت های صنعتی، زیاد شدن خودروها و...) چه پیامدهای ناخوشایندی ممکن است داشته باشد؟ (۲ مورد)	۷	
فصل سوم: زیست کره، تنوع شگفت انگیز بارم: ۲/۵ نمره			
۰/۵	«توندر» ناحیه ای است در نزدیکی قطب شمال که زمستان های طولانی دارد و سرمای هوا در آن بسیار شدید است.	۸	صحیح <input type="checkbox"/> غلط <input type="checkbox"/>
۰/۵	کدام یک از بیابانهای زیر، جزء بیابان های سرد جهان است؟	۹	الف) لوت در ایران <input type="checkbox"/> ب) ربع الخالی در عربستان <input type="checkbox"/> ج) صحرا در آفریقا <input type="checkbox"/> د) گبی در مغولستان <input type="checkbox"/>
۰/۵	کدام گزینه در مورد جنگل های بارانی استوایی درست نیست؟	۱۰	الف) غنی ترین تنوع گیاهی و جانوری را دارند <input type="checkbox"/> ب) جنگل های استوایی را «ریه های زمین» نامیده اند <input type="checkbox"/> ج) بر آب و هوای کره زمین تأثیری ندارند <input type="checkbox"/> د) خاستگاه اولیه بسیاری از درختان میوه جهان بوده اند <input type="checkbox"/>
۱	مهم ترین عواملی که باعث تخریب زیستگاه ها می شوند، کدام اند؟ (۲ مورد)	۱۱	
	ادامه سؤالات در صفحه بعد	صفحه ۱	

ردیف	سؤالات	بارم
فصل چهارم: ساکنان سیاره زمین		
بارم: ۲/۵ نمره		
۱۲	کدام گزینه از عوامل جذب جمعیت نیست؟ الف) نواحی مرتفع و سرد <input type="checkbox"/> ب) آب و هوای موسمی <input type="checkbox"/> ج) نواحی معتدل و پرباران <input type="checkbox"/> د) دشت ها و جلگه های آبرفتی <input type="checkbox"/>	۰/۵
۱۳	در دو قرن اخیر چه عواملی موجب کاهش چشمگیر مرگ و میرها شده است؟ (۲ مورد)	۱
۱۴	دو مورد از علل و عوامل «داخلی» نابرابری در جهان را بنویسید.	۱
فصل پنجم: عصر یکپارچگی و شکوفایی		
بارم: ۲/۵ نمره		
۱۵	قرن های شانزدهم تا نوزدهم میلادی را در تاریخ اروپا «قرون جدید» می نامند. صحیح <input type="checkbox"/> غلط <input type="checkbox"/>	۰/۵
۱۶	دو عامل گسترش تجارت در دوره صفویه را بنویسید.	۱
۱۷	با تأسیس حکومت صفوی، چه تغییرات مهم سیاسی، اجتماعی و مذهبی در ایران ایجاد شد؟ (۲ مورد)	۱
فصل ششم: ایران از عهد نادرشاه تا ناصرالدین شاه		
بارم: ۲/۵ نمره		
۱۸	امیرکبیر در سیاست خارجی، در صدد قطع نفوذ روسیه و انگلستان در ایران بود. صحیح <input type="checkbox"/> غلط <input type="checkbox"/>	۰/۵
۱۹	پس از سقوط حکومت صفویه، کدام سلسله در ایران تشکیل شد؟ الف) زندیه <input type="checkbox"/> ب) قاجاریه <input type="checkbox"/> ج) پهلوی <input type="checkbox"/> د) افشاریه <input type="checkbox"/>	۰/۵
۲۰	نهضت تنباکو در زمان کدام پادشاه قاجار به وقوع پیوست؟ الف) ناصرالدین شاه <input type="checkbox"/> ب) فتحعلی شاه <input type="checkbox"/> ج) محمد شاه <input type="checkbox"/> د) مظفرالدین شاه <input type="checkbox"/>	۰/۵
۲۱	بر اساس عهدنامه ترکمانچای، کدام سرزمین ها به تصرف روسها در آمد و ایران چه تعهدی به روسیه داد؟	۱
صفحه ۲	ادامه سؤالات در صفحه بعد	

<p>نام: _____ نام خانوادگی: _____ نام آموزشگاه: _____ شماره داوطلب: _____ نوبت: شهر یورماه ۹۷</p>		<p>« باسمه تعالی » اداره کل آموزش و پرورش خراسان رضوی اداره سنجش آموزش و پرورش سوالات امتحان هماهنگ نهم (متوسطه اول) درس: مطالعات اجتماعی Sanjesh.razavi.medu.ir</p>		<p>تاریخ امتحان: ۹۷/۰۶/۱۴ مدت امتحان: ۶۰ دقیقه ساعت شروع: ۹ صبح تعداد صفحات: ۴ تعداد سؤال: ۴۰</p>	
بارم	سؤالات	ردیف			
(بخش اجباری)					
توجه: دانش آموزان عزیز؛ به تمام سؤالات این بخش (از سؤال ۲۲ تا ۴۰) به طور کامل پاسخ دهید. بارم این بخش ۱۵ نمره است.					
صحیح یا غلط بودن جملات زیر را با علامت × مشخص کنید.					
۰/۵	مهم ترین دلایل پیروی از هنجارها، اعتقاد به آنها یا حفظ آبرو و احترام یا ترس از مجازات است.	۲۲	<input type="checkbox"/> صحیح <input type="checkbox"/> غلط		
۰/۵	از دیدگاه اسلام، مهم ترین عاملی که باید در همسرگزینی به آن توجه کرد، «ایمان و اعتقادات دینی» است.	۲۳	<input type="checkbox"/> صحیح <input type="checkbox"/> غلط		
۰/۵	پس از کودتای ۲۸ مرداد ۱۳۳۲ و بازگشت محمدرضا شاه به سلطنت، به تدریج نفوذ و سلطه «آمریکا» بر ایران کمتر شد.	۲۴	<input type="checkbox"/> صحیح <input type="checkbox"/> غلط		
۰/۵	در جهان بینی توحیدی اسلام، حق مالکیت مطلق همه موجودات و پدیده های جهان فقط از آن «انسان های با تقوا» است.	۲۵	<input type="checkbox"/> صحیح <input type="checkbox"/> غلط		
درست ترین گزینه را انتخاب کرده و با علامت × مشخص نمایید.					
۰/۵	طبق قانون اساسی، مهم ترین رکن حکومت جمهوری اسلامی ایران چه کسی است؟ (الف) رهبر <input type="checkbox"/> (ب) رئیس جمهور <input type="checkbox"/> (ج) رئیس قوه قضائیه <input type="checkbox"/> (د) رئیس مجمع تشخیص مصلحت نظام <input type="checkbox"/>	۲۶			
۰/۵	حق برخورداری از «امکانات بهداشتی و درمانی، آموزشی و پرورش، آتش نشانی، پلیس و...» جزء کدام یک از انواع حقوق شهروندی محسوب می شود؟ (الف) حقوق فرهنگی <input type="checkbox"/> (ب) عدالت قانونی <input type="checkbox"/> (ج) رفاه و تأمین اجتماعی <input type="checkbox"/> (د) عدالت قضایی <input type="checkbox"/>	۲۷			
۰/۵	کدام گزینه «دولت های محور» در جنگ جهانی دوم را به درستی نشان می دهد؟ (الف) آلمان، ایتالیا، اتریش، عثمانی <input type="checkbox"/> (ب) فرانسه، انگلستان، شوروی، آمریکا <input type="checkbox"/> (ج) انگلستان، روسیه، فرانسه <input type="checkbox"/> (د) آلمان، ایتالیا، ژاپن <input type="checkbox"/>	۲۸			
۰/۵	کدام یک از موارد زیر با اصول بهره وری سازگار است و بهره وری محسوب می شود؟ (الف) حفر بی رویه چاه های عمیق <input type="checkbox"/> (ب) استفاده از روش آبیاری قطره ای در کشاورزی <input type="checkbox"/> (ج) تشویق مصرف گرایی برای افزایش تولید <input type="checkbox"/> (د) استفاده بی رویه از کودهای شیمیایی و سموم کشاورزی <input type="checkbox"/>	۲۹			
۰/۵	کدام گزینه در مورد «فرهنگ» درست نیست؟ (الف) فرهنگ پدیده ای آموختنی است <input type="checkbox"/> (ب) فرهنگ یک جامعه، شیوه زندگی آن جامعه است <input type="checkbox"/> (ج) بسیاری از جوامع بدون فرهنگ هستند <input type="checkbox"/> (د) فرهنگ را آگاهی و اندیشه اعضای یک جامعه نیز می گویند <input type="checkbox"/>	۳۰			
به سؤالات زیر پاسخ کامل دهید.					
۱	رهبری نهضت ملی شدن صنعت نفت ایران را چه کسانی بر عهده گرفتند؟	۳۱			
۱	انقلاب اسلامی ایران در چه تاریخی به پیروزی رسید؟ (روز، ماه، سال)	۳۲			
ادامه سؤالات در صفحه بعد		صفحه ۳			

نام: نام خانوادگی: نام آموزشگاه: شماره داوطلب: نوبت: شهریورماه ۹۷	« باسمه تعالی » اداره کل آموزش و پرورش خراسان رضوی اداره سنجش آموزش و پرورش سوالات امتحان هماهنگ نهم (متوسطه اول) درس: مطالعات اجتماعی Sanjesh.razavi.medu.ir	تاریخ امتحان: ۹۷/۰۶/۱۴ مدت امتحان: ۶۰ دقیقه ساعت شروع: ۹ صبح تعداد صفحات: ۴ تعداد سؤال: ۴۰
---	--	--

ردیف	سوالات	بارم
۳۳	جهاد سازندگی به فرمان چه کسی و با چه هدفی تشکیل شد؟	۱
۳۴	دو مورد از مهم ترین کارکردهای خانواده را بنویسید.	۱
۳۵	دو راهکار مهم برای افزایش بهره وری در زندگی را بنویسید.	۱
۳۶	مشارکت سیاسی یعنی چه؟	۱
۳۷	چگونه می توان از بروز ناسازگاری بین زن و شوهر جلوگیری کرد؟ (دو راهکار پیشنهاد کنید).	۱
۳۸	حکومت مشروطه (نظام پادشاهی مشروطه)، چه نوع حکومتی است؟ توضیح دهید.	۱
۳۹	افزایش تولید و فعالیت های اقتصادی اگر به محیط زیست لطمه بزند، با اصول بهره وری سازگار نیست؛ چرا؟	۱
۴۰	سه مورد از مهم ترین ویژگی های مشترک جامعه ایرانی (هویت ایرانی) را بنویسید.	۱/۵
صفحه ۴	موفق باشید.	جمع بارم: ۲۰
دانش آموزان عزیز و همکاران محترم می توانند با مراجعه به سایت مندرج در سربرگ، سؤال و راهنمای تصحیح این درس را مشاهده نمایند.		

تصحیح و نمره گذاری		نام و نام خانوادگی مصحح/ دبیر		نمره نهایی پس از رسیدگی به اعتراضات		نام و نام خانوادگی مصحح/ دبیر	
با عدد	با حروف			با عدد	با حروف		
		امضاء:				امضاء:	

تاریخ امتحان: ۱۳۹۷/۰۶/۱۴	باسمه تعالی
اداره سنجش آموزش و پرورش	راهنمای تصحیح سؤالات امتحان هماهنگ پایه نهم (متوسطه اول) (استان خراسان رضوی) سال تحصیلی: ۹۷-۱۳۹۶ (شهریورماه ۹۷)
درس: مطالعات اجتماعی	

همکاران گرامی ضمن عرض سلام؛ لطفاً در سؤالات تحلیلی چنانچه دانش آموزان مفهوم سؤال را رسانده اند، نمره منظور گردد.

(بخش انتخابی)

- ۱- صحیح (۰/۵ نمره) ۲- غلط (۰/۵ نمره) ۳- الف) زمستان (۰/۵ نمره) ۴- پدید آمدن شب و روز - اختلاف ساعت (هر مورد ۰/۵ نمره) (دو مورد ۱ نمره) ۵- ب) آرام - آرام (۰/۵ نمره) ۶- عواملی چون: هوازگی - فرسایش آبی - فرسایش بادی - فرسایش یخچالی (هر مورد ۰/۵ نمره) (دو مورد ۱ نمره) ۷- پیامدهایی مانند ذوب شدن یخ های قطبی - بالا آمدن آب دریا - به زیر آب رفتن نواحی ساحلی و جزیره ها - افزایش و طولانی شدن دوره های خشکسالی در نواحی گرم و خشک - افزایش سیلاب و ... (هر مورد ۰/۵ نمره) (دو مورد ۱ نمره) ۸- صحیح (۰/۵ نمره) ۹- د) گبی در مغولستان (۰/۵ نمره) ۱۰- ج) بر آب و هوای کره زمین تأثیری ندارند (۰/۵ نمره) ۱۱- الف) ایجاد و گسترش شهرها و روستاها، ساختن پل ها، جاده ها، ساختمان ها و سدها بدون برنامه ریزی و توجه به جنبه های زیست محیطی ب- فعالیت های صنعتی و تولید انبوه کالاها در کارخانه ها ج- مصرف گرایی و تولید انبوه زباله د- شکار و تجارت اعضای بدن حیوانات. (هر مورد ۰/۵ نمره) (دو مورد ۱ نمره) ۱۲- الف) نواحی مرتفع و سرد (۰/۵ نمره) ۱۳- الف- بهبود بهداشت (۰/۵) ب- بهبود تغذیه (۰/۵) (۱ نمره) ۱۴- حکومت های ستمگر و وابسته که منافع و منابع کشور را در اختیار بیگانگان قرار می دهند و برای حفظ منافع خود به ملت و کشورشان نیز بی توجه اند - جنگها و کشمکش های داخلی - فرهنگ و باورهای غلط - بی سوادی و ناآگاهی مردم - غفلت از استعدادها و فرهنگ خود - نداشتن ایمان و پشتکار و اراده برای تغییر وضع نبودن وحدت و مشارکت بین مردم (هر مورد ۰/۵ نمره) (دو مورد ۱ نمره) ۱۵- صحیح (۰/۵ نمره) ۱۶- یکپارچه بودن سرزمین ایران - وجود نظم و امنیت در سراسر کشور - ساختن راه ها و احداث کاروان سراها (هر مورد ۰/۵ نمره) (دو مورد ۱ نمره) ۱۷- سیاسی: تشکیل حکومت یکپارچه و نیرومند در ایران - توسعه قلمرو و شکست دشمنان (مانند ازبکان و...) - انتخاب تبریز به عنوان پایتخت اجتماعی: برقراری نظم و امنیت - اتحاد و همبستگی اقوام ایرانی مذهبی: رسمیت یافتن مذهب تشیع (شیعه) - فروکش کردن اختلافات مذهبی (هر مورد ۰/۵ نمره) (دو مورد ۱ نمره) * دو مورد از موارد چندگانه فوق و یا موارد مشابه در هر زمینه ای (سیاسی، اجتماعی، مذهبی فرقی ندارد) کفایت می کند. ۱۸- صحیح (۰/۵ نمره) ۱۹- د) افشاریه (۰/۵ نمره) ۲۰- الف) ناصرالدین شاه (۰/۵ نمره) ۲۱- سرزمین های ایرانی شمال رود ارس به تصرف روس ها درآمد (۰/۵ نمره) ایران از داشتن کشتی جنگی در دریای مازندران محروم ماند و مجبور به پرداخت غرامت گردید. (۰/۵ نمره) (مجموعاً ۱ نمره)

(بخش اجباری)

- ۲۲- صحیح (۰/۵ نمره) ۲۳- صحیح (۰/۵ نمره) ۲۴- غلط (۰/۵ نمره) ۲۵- غلط (۰/۵ نمره) ۲۶- الف) رهبر (۰/۵ نمره) ۲۷- ج) رفاه و تأمین اجتماعی (۰/۵ نمره) ۲۸- د) آلمان، ایتالیا، ژاپن (۰/۵ نمره) ۲۹- ب) استفاده از روش آبیاری قطره ای در کشاورزی (۰/۵ نمره) ۳۰- ج) بسیاری از جوامع بدون فرهنگ هستند (۰/۵ نمره) ۳۱- آیت الله کاشانی - دکتر محمد مصدق (هر مورد ۰/۵ نمره) (دو مورد ۱ نمره) ۳۲- د) ۲۲ (۰/۲۵) بهمن (۰/۲۵) ۱۳۵۷ (۰/۵ نمره) (۱ نمره) ۳۳- به فرمان امام خمینی (ره) (۰/۵) با هدف عمران و آبادی روستاها (۰/۵) (۱ نمره) ۳۴- الف) فرزندآوری و تجدید نسل (ب) حمایت و مراقبت (رفع نیازهای عاطفی و مادی) (مهر و محبت و مراقبت و حمایت اقتصادی) (ج) جامعه پذیری و تربیت (هر مورد ۰/۵) (دو مورد ۱ نمره) * مورد «ب» چنانچه به موارد داخل پرانتز هم اشاره کردند، نمره منظور گردد. مجموع بارم مورد «ب» ۰/۵ نمره. ۳۵- استفاده مناسب از وقت و زمان - نظم، ترتیب و انضباط در کارها - اصلاح عادت های غلط مصرفی - انجام دادن کارها از روی آگاهی - تنظیم جدول بودجه اقتصادی (هر مورد ۰/۵ نمره) (دو مورد ۱ نمره) ۳۶- مشارکت سیاسی یعنی اینکه هر شهروند بتواند در امور سیاسی جامعه دخالت کند (۰/۵) و در سرنوشت کشور خود نقش داشته باشد. (۰/۵) (جمعاً ۱ نمره) ۳۷- الف) گذراندن آموزش های خانواده قبل از ازدواج (ب) مشاوره با افراد دارای صلاحیت در زمینه همسرگزینی (ج) رعایت اخلاق و آداب همسررداری (خوش خلقی، احترام گذاشتن به همسر و رعایت ادب، با الفاظ نیکو صدا زدن، قهرمانی از زحمات همسر، گذشت کردن، عذرخواهی کردن، و...) (د) گفت و گوی صمیمانه زن و شوهر برای حل مشکلات و پیدا کردن راه حل های مناسب؛ برای مثال، تقسیم کار و همکاری بیشتر اعضای خانواده در امور خانه، زمانی که مادر شاغل است. (هر مورد ۰/۵ نمره) (دو مورد ۱ نمره) * برای پاسخ های مشابه نیز نمره منظور گردد. ۳۸- در نظام پادشاهی مشروطه قدرت و اختیارات پادشاه بر اساس قانون محدود می شود (۰/۵) و اداره کشور تنها در اختیار شاه نیست و نهادهایی مانند مجلس شورا و هیئت وزیران (دولت) در اداره کشور مشارکت و دخالت دارند. (۰/۵) (مجموعاً ۱ نمره) ۳۹- زیرا نابودی و تخریب طبیعت، خود هزینه های مجدد و مشکلات جبران ناپذیری برای ما به وجود می آورد. (۱ نمره) * برای پاسخ های مشابه نیز نمره منظور گردد. ۴۰- الف) ما در سرزمین ایران زندگی می کنیم (سرزمین ایران) (ب) ما مسلمانیم (دین اسلام) (ج) ما تاریخ کهن و میراث فرهنگی غنی داریم (فرهنگ و تاریخ و سرنوشت مشترک) (د) زبان مشترک ما فارسی است (زبان فارسی) (ه) انقلاب اسلامی نمایانگر آرمانهای والای جامعه ماست (انقلاب اسلامی) (هر مورد ۰/۵ نمره) (سه مورد ۱/۵ نمره)

« باسمه تعالی »

تاریخ امتحان : ۹۷/ ۳ / ۲۳
مدت امتحان : ۴۵ دقیقه
ساعت شروع : ۱۰ صبح
تعداد صفحات : ۲
تعداد سوال : ۱۶

اداره کل آموزش و پرورش خراسان رضوی
اداره سنجش آموزش و پرورش
سوالات امتحان هماهنگ پایه نهم (متوسطه اول)
درس : آمادگی دفاعی (ویژه دانش آموزان)
Sanjesh.razavi.medu.ir

نام :
نام خانوادگی :
نام آموزشگاه :
شماره‌ی داوطلب :
نوبت : **خرداد ماه ۹۷**

بارم	سؤال	ردیف
دانش آموز عزیز: ضمن آرزوی موفقیت برای شما ، لطفاً با مطالعه دقیق ۱۶ سوال زیر ، پاسخ مناسب را در محل های تعیین شده بنویسید .		
پاسخ صحیح را با گذاشتن علامت (×) در داخل <input type="checkbox"/> مشخص کنید.		
۰/۵	ص <input type="checkbox"/> غ <input type="checkbox"/>	۱-
تهاجم نظامی از جهات مختلف خطرناک تر از تهاجم فرهنگی است.		
۰/۵	ص <input type="checkbox"/> غ <input type="checkbox"/>	۲-
بشر با دانش کنونی خود قادر به پیش بینی زمان دقیق وقوع زمین لرزه نیست .		
ب- گزینه ی صحیح را انتخاب کنید:		
۰/۵	الف- استتار <input type="checkbox"/> ب- فریب <input type="checkbox"/> ج- مکان یابی <input type="checkbox"/> د- پراکندگی <input type="checkbox"/>	۳-
« نصب نمونهک (ماکت) تجهیزات جنگی در نقاط مختلف» مربوط به کدام یک از اصول پدافند غیرعامل است؟		
۰/۵	الف- تبلیغات <input type="checkbox"/> ب- شایعه <input type="checkbox"/> ج- تفرقه افکنی <input type="checkbox"/> د- تحریف واقعیات <input type="checkbox"/>	۴-
به انتشار مطالب و اخباری که درستی و نادرستی آن معلوم نیست و عموماً منبع مطمئن و مشخصی هم ندارد..... می گویند.		
۰/۵	الف- نجات و امداد <input type="checkbox"/> ب- تدارکات و پشتیبانی <input type="checkbox"/> ج- جست و جو <input type="checkbox"/> د- آتش نشان <input type="checkbox"/>	۵-
کدام یک از گروه های زیر با هدف واپایش (کنترل) و نظارت برای افزایش ایمنی تشکیل می شود؟		
ج- جملات زیر را کامل کنید:		
۰/۵	رمز پیروزی انقلاب ما «ایمان به خدا، وحدت مردم و است .	۶-
۰/۵	جنگ نرم متکی به روش های نرم افزاری ، نامحسوس و است.	۷-
۰/۵	مکان مناسب به جاهایی گفته می شود که در زمان وقوع زمین لرزه، احتمال..... در آن محل کمتر است.	۸-
د- به سؤالات زیر پاسخ مناسب دهید:		
۱	امنیت را تعریف کنید.	۹-
۱	دو مورد از وظایف و برنامه های بسیج دانش آموزی را بنویسید.	۱۰-
ادامه سؤالات در صفحه بعد		صفحه ۱

« باسمه تعالی »

تاریخ امتحان : ۹۷/۳/۲۳
مدت امتحان : ۴۵ دقیقه
ساعت شروع : ۱۰ صبح
تعداد صفحات : ۲
تعداد سوال : ۱۶

اداره کل آموزش و پرورش خراسان رضوی
اداره سنجش آموزش و پرورش
سوالات امتحان هماهنگ پایه نهم (متوسطه اول)
درس : آمادگی دفاعی (ویژه دانش آموزان)
Sanjesh.razavi.medu.ir

نام :
نام خانوادگی :
نام آموزشگاه :
شماره‌ی داوطلب :
نوبت : خرداد ماه ۹۷

بارم	سؤال	ردیف
۱	چرا در جنگ تحمیلی ، ما خود را پیروز میدان می دانیم؟ زیرا دشمن به اهداف زیر <u>نرسید</u> : الف- ب-	۱۱-
۱	دو مورد از مشارکت زنان در دفاع از اسلام (به هنگام وقوع جنگ) را بنویسید.	۱۲-
۱	دفاع (پدافند) عامل را تعریف کنید .	۱۳-
۱	در ترور شخص چه افرادی مورد تهاجم جسمی و فیزیکی قرار می گیرند؟	۱۴-
۱	دو مورد از اهداف شبکه های ماهواره ای فارسی زبان را بنویسید.	۱۵-
۱	سلاح انفرادی چیست؟	۱۶-

دانش آموزان عزیز و همکاران محترم می توانند با مراجعه به سایت مندرج در سربرگ، سوال و راهنمای تصحیح این درس را مشاهده نمایند.

صفحه ۲	موفق باشید	جمع بارم ۱۲
--------	------------	-------------

نام و نام خانوادگی مصحح/ دبیر		نمره نهایی پس از رسیدگی به اعتراضات		نام و نام خانوادگی مصحح/ دبیر		تصحیح و نمره گذاری	
		با حروف	با عدد			با حروف	با عدد
امضاء :				امضاء :			

همکار گرامی : ضمن عرض خسته نباشید در صورتی که دانش آموز مفهوم را رسانده باشد، نمره کامل منظور گردد.

- ۱- غ (۵/۰ نمره) ۲- ص (۵/۰ نمره)
- ۳- "ب" (فریب) (۵/۰ نمره) ۴- "ب" (شایعه) (۵/۰ نمره)
- ۵- "د" (آتش نشان) (۵/۰ نمره) ۶- پیروی از رهبری (۵/۰ نمره)
- ۷- تدریجی (۵/۰ نمره) ۸- خطر و آسیب پذیری (۵/۰ نمره)
- ۹- امنیت یعنی دور بودن از خطراتی که علیه منافع مادی (جان، مال، سرزمین و...) وارزش های معنوی (دین، فرهنگ، اعتقادات و...) ما وجود دارد. (۱ نمره)
- ۱۰- ۱- تقویت اعتقادات دینی و آگاهی سیاسی دانش آموزان ۲- تربیت دانش آموزانی منطبق با الگوهای دینی
- ۳- مشارکت دانش آموزان در زمینه های فرهنگی، سیاسی، سازندگی و ... ۴- تقویت توان علمی دانش آموزان و تشکیل انجمن های علمی و ادبی ۵- آموزش رشته های مختلف ورزشی و برگزاری اردوهای متنوع و با نشاط (ذکر دو مورد هر کدام ۵/۰ نمره)
- ۱۱- ۱- ساقط کردن نظام جمهوری اسلامی ایران ۲- جدا کردن خوزستان از کشور ۳- حاکمیت بر اوند رود ۴- گرفتن حتی یک وجب از خاک میهن مان (ذکر دو مورد هر کدام ۵/۰ نمره)
- ۱۲- ۱- رساندن وسایل و ادوات جنگی به رزمندگان ۲- درمان مجروحان جنگ و انتقال آن ها به پشت جبهه و مراقبت از آنان ۳- خارج کردن شهدا از منطقه ی نبرد به پشت جبهه ۴- رساندن آب و مواد غذایی به رزمندگان ۵- تهیه و تدارک دارو، لباس و سایر امکانات مورد نیاز رزمندگان ۶- شرکت در نبرد مستقیم با دشمن (در صورت نیاز) (ذکر دو مورد هر کدام ۵/۰ نمره)
- ۱۳- ۱- به مقابله و مبارزه مستقیم و استفاده از تجهیزات جنگی به منظور دفع حملات و اقدامات جنگی دشمن دفاع (پدافند) عامل می گویند. (۱ نمره)
- ۱۴- ۱- افراد موجه، توانمند و ارزشمند یک کشور که نقش مؤثری در آگاهی مردم و پیشرفت جامعه دارند، مورد تهاجم جسمی و فیزیکی قرار می گیرند. (۱ نمره)
- ۱۵- ۱- بدبین کردن مردم به اسلام و نظام جمهوری اسلامی ۲- قطع رابطه ملت با رهبری نظام ۳- ترویج بی بندوباری اخلاقی ۴- از بین بردن استحکام خانواده ۵- جدایی دین از سیاست ۶- دور کردن مردم از ارزش های دینی و..... (ذکر دو مورد هر کدام ۵/۰ نمره)
- ۱۶- ۱- وسیله ای است که یک رزمنده ی مدافع میهن می تواند آن را حمل نموده و در صورت نیاز از آن استفاده نماید. (۱ نمره)

همکار گرامی خسته نباشید

« باسمه تعالی »

تاریخ امتحان : ۹۷/۳/۲۳
مدت امتحان : ۴۵ دقیقه
ساعت شروع : ۱۳ (بعد از ظهر)
تعداد صفحات : ۲
تعداد سوال : ۱۶

اداره کل آموزش و پرورش خراسان رضوی
اداره سنجش آموزش و پرورش
سوالات امتحان هماهنگ پایه نهم (متوسطه اول)
درس : آمادگی دفاعی (ویژه دانش آموزان روزانه، بزرگسالان، راه دور)
Sanjesh.razavi.medu.ir

نام :
نام خانوادگی :
نام آموزشگاه :
شماره‌ی داوطلب :
نوبت : خرداد ماه ۹۷

ردیف	سؤال	بارم
دانش آموز عزیز: ضمن آرزوی موفقیت برای شما، لطفاً با مطالعه دقیق ۱۶ سوال زیر، پاسخ مناسب را در محل های تعیین شده بنویسید.		
پاسخ صحیح را با گذاشتن علامت (×) در داخل <input type="checkbox"/> مشخص کنید.		
۱-	فرب یک از مؤثرترین روش های دفاع غیرعامل در دنیاست.	ص <input type="checkbox"/> غ <input type="checkbox"/>
۲-	دوران پس از دفاع مقدس به دوران سازندگی مشهور است.	ص <input type="checkbox"/> غ <input type="checkbox"/>
ب- گزینه ی صحیح را انتخاب کنید:		
۳-	« استفاده از بادگیر سفید در محیط برفی » مربوط به کدام یک از اصول پدافند غیرعامل است؟	الف- استتار <input type="checkbox"/> ب- اختفا <input type="checkbox"/> ج- مکان یابی <input type="checkbox"/> د- مقاوم سازی <input type="checkbox"/>
۴-	به مشارکت همه افراد جامعه برای دستیابی به ایمنی، می گویند.	الف- آگاهی <input type="checkbox"/> ب- آمادگی <input type="checkbox"/> ج- همکاری <input type="checkbox"/> د- همدردی <input type="checkbox"/>
۵-	فرض کنید زمین لرزه ای رخ داده است و شما در کلاس درس هستید، کدام یک از مکان های زیر جهت پناه گیری مناسب است؟	الف- کنار پنجره <input type="checkbox"/> ب- کنار بخاری <input type="checkbox"/> ج- زیر پنکه سقفی <input type="checkbox"/> د- زیر میز محکم <input type="checkbox"/>
ج- جملات زیر را کامل کنید:		
۶-	دفاع از سرزمین و اعتقادات زمینه بروز را فراهم می سازد.	۰/۵
۷-	ملت ما درس عزت و آزادی را از و قیام عاشورا آموخته اند.	۰/۵
۸-	یکی از عوامل مؤثر در کاهش خطرهای ناشی از زمین لرزه، ارائه آموزش های صحیح همگانی و است.	۰/۵
د- به سؤالات زیر پاسخ مناسب دهید:		
۹-	یکی از عوامل مهم پیروزی و استمرار انقلاب اسلامی را بنویسید.	۰/۵
۱۰-	چرا در جریان هجرت پیامبر(ص) از مکه به مدینه، دشمنان نتوانستند به آن حضرت دسترسی پیدا کنند؟	۰/۵
ادامه سؤالات در صفحه بعد		صفحه ۱

« باسمه تعالی »

تاریخ امتحان : ۹۷/۳/۲۳
مدت امتحان : ۴۵ دقیقه
ساعت شروع : ۱۳ (بعد از ظهر)
تعداد صفحات : ۲
تعداد سوال : ۱۶

اداره کل آموزش و پرورش خراسان رضوی
اداره سنجش آموزش و پرورش
سوالات امتحان هماهنگ پایه نهم (متوسطه اول)
درس : آمادگی دفاعی (ویژه دانش آموزان روزانه، بزرگسالان، راه دور)
Sanjesh.razavi.medu.ir

نام خانوادگی :
نام آموزشگاه :
شماره‌ی داوطلب :
نوبت : خرداد ماه ۹۷

ردیف	سؤال	بارم
۱۱-	یک نمونه بارز تهدید توسط کشورهای استعمارگر و زیاده خواه را بنویسید.	۱
۱۲-	محاصره آبادان در کدام عملیات و در چه تاریخی شکسته شد؟	۱
۱۳-	در زمان جنگ، زنان چگونه انگیزه های مقاومت عمومی را در جامعه تقویت می کنند؟	۱
۱۴-	در دوران کنونی ، تکیه قدرت های نظامی بر استفاده از چه جنگ هایی می باشد؟ (۲ مورد)	۱
۱۵-	میزان اثرگذاری جنگ روانی به چه چیزهایی بستگی دارد؟	۱/۵
۱۶-	نمودار را کامل کنید. <pre>graph TD; A[روش های جنگ] --- B[۱- تبلیغات]; A --- C[۲-]; A --- D[۳- تحریف]; A --- E[۴-]; A --- F[۵-];</pre>	۱/۵

دانش آموزان عزیز و همکاران محترم می توانند با مراجعه به سایت مندرج در سربرگ، سوال و راهنمای تصحیح این درس را مشاهده نمایند.

صفحه ۲ موفق باشید جمع بarm ۱۲

نام و نام خانوادگی مصحح / دبیر	نمره نهایی پس از رسیدگی به اعتراضات	نام و نام خانوادگی مصحح / دبیر	تصحیح و نمره گذاری
	با عدد	با عدد	با حروف
امضاء :		امضاء :	

باسمه تعالی

تاریخ امتحان ۹۷/۳/۲۳

راهنمای تصحیح سؤالات امتحان هماهنگ پایه نهم (استان خراسان رضوی)
درس: آمادگی دفاعی (ویژه دانش آموزان روزانه، بزرگسالان، راه دور)
سال تحصیلی: ۹۷-۹۶
خرداد ماه

اداره سنجش آموزش و پرورش

همکار گرامی: ضمن عرض خسته نباشید در صورتی که دانش آموز مفهوم را رسانده باشد، نمره کامل منظور گردد.

- ۱- غ (۰/۵ نمره)
۲- ص (۰/۵ نمره)
۳- "الف" (استتار) ۰/۵ نمره
۴- "ج" (همکاری) ۰/۵ نمره
۵- "د" (زیر میز محکم) ۰/۵ نمره
۶- دلاوری جوانان (۰/۵ نمره)
۷- مکتب امام حسین (ع) (۰/۵ نمره)
۸- آماده سازی افشار مختلف جامعه (۰/۵ نمره)
۹- حضور با انگیزه مردم در تمام صحنه های سیاسی و اجتماعی جامعه. (۰/۵ نمره)
۱۰- با استفاده از اختفا و فریب که از اصول پدافند غیرعامل است. (۰/۵ نمره)
۱۱- نمونه بارز آن نظام سلطه گر آمریکاست که برای جلوگیری از فعالیت های صلح آمیز هسته ای، کشور مارا به حمله نظامی، تحریم اقتصادی و... تهدید می کند. (انمره)
۱۲- در عملیات ثامن الائمه و در مهر ماه ۱۳۶۰ (انمره)
۱۳- زنان با صبر و استقامت در مقابل سختی های جنگ و تشویق مردان به دفاع از کشورشان، انگیزه های مقاومت عمومی را در جامعه تقویت می کنند. (انمره)
۱۴- ۱- جنگ الکترونیک ۲- جنگ اطلاعاتی ۳- جنگ اقتصادی ۴- جنگ نرم و موارد مشابه. (ذکر دومی در هر کدام ۰/۵ نمره)
۱۵- از یک طرف به ویژگی های شخصیتی افراد مانند اعتقادات دینی، شجاعت، اعتماد به نفس، پایبندی به ارزش های اخلاقی و... و از طرف دیگر به میزان علم و آگاهی انسان ها و نیز شناخت دوستان و دشمنان واقعی بستگی دارد. (۰/۵ نمره)
۱۶- ۲- شایعه ۴- تفرقه افکنی ۵- ترور (سه مورد هر کدام ۰/۵ نمره)

همکار گرامی خسته نباشید

« باسمه تعالی »

تاریخ امتحان : ۹۷/ ۳/ ۲۳
مدت امتحان : ۶۰ دقیقه
ساعت شروع : ۱۳ (بعد از ظهر)
تعداد صفحات : ۲
تعداد سوال : ۲۳

اداره کل آموزش و پرورش خراسان رضوی
اداره سنجش آموزش و پرورش
سوالات امتحان هماهنگ پایه نهم (متوسطه اول)
درس : آمادگی دفاعی (داوطلبین آزاد و طرح جامع)
Sanjesh.razavi.medu.ir

نام :
نام خانوادگی :
نام آموزشگاه :
شماره‌ی داوطلب :
نوبت : خرداد ماه ۹۷

بارم	سؤال	ردیف
دانش آموز عزیز: ضمن آرزوی موفقیت برای شما ، لطفاً با مطالعه دقیق ۲۳ سوال زیر ، پاسخ مناسب را در محل های تعیین شده بنویسید .		
پاسخ صحیح را با گذاشتن علامت (×) در داخل <input type="checkbox"/> مشخص کنید.		
۰/۵	دوران پس از دفاع مقدس به دوران سازندگی مشهور است.	۱-
<input type="checkbox"/> ص <input type="checkbox"/> غ		
۰/۵	فرب یک از مؤثرترین روش های دفاع غیرعامل در دنیاست.	۲-
<input type="checkbox"/> ص <input type="checkbox"/> غ		
۰/۵	شهید رجایی، یکی از مردان مؤمن و مبارز میهن در دوران ستم شاهی بود.	۳-
<input type="checkbox"/> ص <input type="checkbox"/> غ		
ب- گزینه ی صحیح را انتخاب کنید:		
۰/۵	« استفاده از بادگیر سفید در محیط برفی» مربوط به کدام یک از اصول پدافند غیرعامل است؟	۴-
<input type="checkbox"/> الف- استتار <input type="checkbox"/> ب- اختفا <input type="checkbox"/> ج- مکان یابی <input type="checkbox"/> د- مقاوم سازی		
۰/۵	به مشارکت همه افراد جامعه برای دستیابی به ایمنی ، می گویند.	۵-
<input type="checkbox"/> الف- آگاهی <input type="checkbox"/> ب- آمادگی <input type="checkbox"/> ج- همکاری <input type="checkbox"/> د- همدردی		
۰/۵	فرض کنید زمین لرزه ای رخ داده است و شما در کلاس درس هستید، کدام یک از مکان های زیر جهت پناه گیری مناسب است؟	۶-
<input type="checkbox"/> الف- کنار پنجره <input type="checkbox"/> ب- کنار بخاری <input type="checkbox"/> ج- زیر پنکه سقفی <input type="checkbox"/> د- زیر میز محکم		
ج- جملات زیر را کامل کنید:		
۰/۵	دفاع از سرزمین و اعتقادات زمینه بروز را فراهم می سازد.	۷-
۰/۵	ملت ما درس عزت و آزادی را از و قیام عاشورا آموخته اند.	۸-
۰/۵	یکی از عوامل مؤثر در کاهش خطرهای ناشی از زمین لرزه، ارائه آموزش های صحیح همگانی و است.	۹-
د- به سؤالات زیر پاسخ مناسب دهید:		
۰/۵	یکی از عوامل مهم پیروزی و استمرار انقلاب اسلامی را بنویسید.	۱۰-
۰/۵	چرا در جریان هجرت پیامبر(ص) از مکه به مدینه، دشمنان نتوانستند به آن حضرت دسترسی پیدا کنند؟	۱۱-
۰/۵	دو مورد از فعالیت های بسیج را نام ببرید.	۱۲-
۱	یک نمونه بارز تهدید توسط کشورهای استعمارگر و زیاده خواه را بنویسید.	۱۳-

« باسمه تعالی »

تاریخ امتحان : ۹۷/۳/۲۳
مدت امتحان : ۶۰ دقیقه
ساعت شروع : ۱۳ (بعد از ظهر)
تعداد صفحات : ۲
تعداد سوال : ۲۳

اداره کل آموزش و پرورش خراسان رضوی
اداره سنجش آموزش و پرورش
سوالات امتحان هماهنگ پایه نهم (متوسطه اول)
درس : آمادگی دفاعی (داوطلبین آزاد و طرح جامع)
Sanjesh.razavi.medu.ir

نام :
نام خانوادگی :
نام آموزشگاه :
شماره‌ی داوطلب :
نوبت : خرداد ماه ۹۷

ردیف	سؤال	بارم
۱۴-	انقلاب اسلامی ایران را تعریف کنید.	۱
۱۵-	در زمان جنگ ، زنان چگونه انگیزه های مقاومت عمومی را در جامعه تقویت می کنند؟	۱
۱۶-	محاصره آبادان در کدام عملیات و در چه تاریخی شکسته شد؟	۱
۱۷-	در دوران کنونی ، تکیه قدرت های نظامی بر استفاده از چه جنگ هایی می باشد؟ (۲ مورد)	۱
۱۸-	تهدید سخت و نرم را با یکدیگر مقایسه کنید.	۱/۵
۱۹-	هر یک از اصطلاحات زیر را تعریف کنید: الف- جنگ : ب- تهاجم:	۱/۵
۲۰-	سه مورد از دستاوردهای داخلی هشت سال دفاع مقدس را نام ببرید.	۱/۵
۲۱-	دو مزیت مهمی که رعایت اصول پدافند غیر عامل در بردارد را بنویسید.	۱/۵
۲۲-	میزان اثرگذاری جنگ روانی به چه چیزهایی بستگی دارد؟	۱/۵
۲۳-	نمودار را کامل کنید.	۱/۵

روش های جنگ

```

    graph TD
      A[روش های جنگ] --- B[۱-تبلیغات]
      A --- C[۲-.....]
      A --- D[۳-تحریف]
      A --- E[۴-.....]
      A --- F[۵-.....]
    
```

دانش آموزان عزیز و همکاران محترم می توانند با مراجعه به سایت مندرج در سربرگ، سوال و راهنمای تصحیح این درس را مشاهده نمایند.

صفحه ۲		موفق باشید		جمع بارم ۲۰	
تصحیح و نمره گذاری	نام و نام خانوادگی مصحح/ دبیر	نمره نهایی پس از رسیدگی به اعتراضات	نام و نام خانوادگی مصحح/ دبیر	نام و نام خانوادگی مصحح/ دبیر	نام و نام خانوادگی مصحح/ دبیر
با عدد	با حروف	با عدد	با حروف	با عدد	با حروف
	امضاء :		امضاء :		امضاء :

همکار گرامی : ضمن عرض خسته نباشید در صورتی که دانش آموز مفهوم را رسانده باشد، نمره کامل منظور گردد.

- ۱-ص (۵/نمره) ۲-غ (۵/نمره) ۳-ص (۵/نمره)
- ۴-"الف" (استتار) ۵/نمره ۵-"ج" (همکاری) ۵/نمره ۶-"د" (زیر میز محکم) ۵/نمره
- ۷-دلآوری جوانان (۵/نمره) ۸-مکتب امام حسین (ع) (۵/نمره) ۹-آماده سازی اقشار مختلف جامعه (۵/نمره)
- ۱۰-حضور با انگیزه مردم در تمام صحنه های سیاسی و اجتماعی جامعه. (۵/نمره)
- ۱۱-با استفاده از اختفا و فریب که از اصول پدافند غیرعامل است. (۵/نمره)
- ۱۲-۱-فعالیت های علمی پژوهشی ۲-فعالیت های فرهنگی و هنری ۳-فعالیت های سیاسی ۴-فعالیت های سازندگی و امداد رسانی ۵-فعالیت های ورزشی (ذکر دو مورد هر کدام ۲۵/نمره)
- ۱۳-نمونه بارز آن نظام سلطه گر آمریکاست که برای جلوگیری از فعالیت های صلح آمیز هسته ای، کشور ما را به حمله نظامی، تحریم اقتصادی و... تهدید می کند. (نمره)
- ۱۴-انقلاب اسلامی ایران به معنای قیام و اراده مردم مسلمان و با ایمان ما برای سرنگونی حکومت ستم شاهی و برقراری حق و عدالت براساس مکتب انسان ساز اسلام است. (۱نمره)
- ۱۵-زنان با صبر و استقامت در مقابل سختی های جنگ و تشویق مردان به دفاع از کشورشان، انگیزه های مقاومت عمومی را در جامعه تقویت می کنند. (نمره)
- ۱۶-در عملیات ثامن الائمه و در مهر ماه ۱۳۶۰ (نمره)
- ۱۷-۱-جنگ الکترونیک ۲-جنگ اطلاعاتی ۳-جنگ اقتصادی ۴-جنگ نرم و موارد مشابه. (ذکر دو مورد هر کدام ۵/نمره)
- ۱۸-اگر کشوری، کشور دیگر را تهدید به حمله نظامی کند، در این حالت می گوئیم تهدید از نوع سخت است. اما اگر ارزش ها، باورها و اعتقادات یک جامعه هدف قرار گیرند، می گوئیم تهدید از نوع نرم است. (۱/۵نمره)
- ۱۹-الف) نبرد خشن و مسلحانه ای که بین دو یا چند اجتماع مستقل اتفاق می افتد. (۵/نمره)
- ب) تهاجم به معنای شیبخون، هجوم و حمله یک کشور به کشوری دیگر به منظور اشغال و سلطه بر سرزمین است. (نمره)
- ۲۰-۱-اعتماد به نفس و خودباوری ۲-تولد تفکر بسیجی ۳-پیشرفت در صنایع دفاعی کشور ۴-کسب تجارب نظامی ۵-ترویج فرهنگ ایثار و شهادت ۶-نقش آفرینی مساجد در دفاع از میهن (ذکر سه مورد هر کدام ۵/نمره)
- ۲۱-۱-قدرت دفاعی کشور را افزایش می دهد و باعث حفظ مراکز و تأسیسات مهم جامعه می شود. ۲-هرچه توان و قدرت دفاعی عامل و غیرعامل کشور بیشتر باشد، احتمال تهاجم دشمنان کمتر می شود. (دو مورد هر کدام ۷۵/نمره)
- ۲۲-از یک طرف به ویژگی های شخصیتی افراد مانند اعتقادات دینی، شجاعت، اعتماد به نفس، پایبندی به ارزش های اخلاقی و... واز طرف دیگر به میزان علم و آگاهی انسان ها و نیز شناخت دوستان و دشمنان واقعی بستگی دارد. (۱/۵نمره)
- ۲۳-۲-شایعه ۴-تفرقه افکنی ۵-ترور (سه مورد هر کدام ۵/نمره)

همکار گرامی خسته نباشید

« باسمه تعالی »

نام :	اداره کل آموزش و پرورش خراسان رضوی	تاریخ امتحان : ۹۷/۰۴/۱۳
نام خانوادگی :	اداره سنجش آموزش و پرورش	مدت امتحان : ۴۵ دقیقه
نام آموزشگاه :	سوالات امتحان هماهنگ پایه نهم (متوسطه اول)	ساعت شروع : ۱۳:۳۰ (۳۰ بعد از ظهر)
شماره‌ی داوطلب :	درس : آمادگی دفاعی (ویژه دانش آموزان روزانه، بزرگسالان، راه دور)	تعداد صفحات : ۲
نوبت : غایبین موجه خرداد ماه ۹۷	Sanjesh.razavi.medu.ir	تعداد سوال : ۱۵

ردیف	سؤال	بارم
دانش آموز عزیز: ضمن آرزوی موفقیت برای شما ، لطفاً با مطالعه دقیق ۱۵ سوال زیر ، پاسخ مناسب را در محل های تعیین شده بنویسید .		
پاسخ صحیح را با گذاشتن علامت (×) در داخل <input type="checkbox"/> مشخص کنید.		
۱-	مقابله به مثل به معنای تلافی کردن حملات قبلی می باشد.	ص <input type="checkbox"/> غ <input type="checkbox"/> ۰/۵
۲-	دفاع در برابر حوادث غیر طبیعی و تهدیدهای انسانی برای ما ضروری نیست .	ص <input type="checkbox"/> غ <input type="checkbox"/> ۰/۵
ب- گزینه ی صحیح را انتخاب کنید:		
۳-	« پنهان کردن هواپیماهای جنگی در تونل » مربوط به کدام یک از اصول پدافند غیرعامل است؟	الف- اختفا <input type="checkbox"/> ب- فریب <input type="checkbox"/> ج- مکان یابی <input type="checkbox"/> د- مقاوم سازی <input type="checkbox"/> ۰/۵
۴-	به مجموعه ای از دانش و اطلاعات افراد جامعه که در باره پدیده زمین لرزه اقدامات قبل، هنگام و بعد از آن است ،..... می گویند.	الف- آگاهی <input type="checkbox"/> ب- آمادگی <input type="checkbox"/> ج- همکاری <input type="checkbox"/> د- همدردی <input type="checkbox"/> ۰/۵
۵-	فرض کنید زمین لرزه ای رخ داده است و شما در آزمایشگاه هستید، کدام یک از مکان های زیر جهت پناه گیری مناسب است؟	الف- کنار پنجره <input type="checkbox"/> ب- کنار بخاری <input type="checkbox"/> ج- زیر پنکه سقفی <input type="checkbox"/> د- زیر میز محکم <input type="checkbox"/> ۰/۵
ج- جملات زیر را کامل کنید:		
۶-	قیام بزرگ مردم با ایمان و غیور ایران به رهبری از سال ۱۳۴۱ آغاز شد.	۰/۵
۷-	بشر با دانش کنونی خود قادر به پیش بینی زمان دقیق نیست.	۰/۵
د- به سؤالات زیر پاسخ مناسب دهید:		
۸-	برای استتار از چه وسایلی استفاده می شود؟ (۲ مورد)	۰/۵
۹-	امنیت را تعریف کنید .	۱

ادامه سؤالات در صفحه بعد

صفحه ۱

« باسمه تعالی »

نام : اداره کل آموزش و پرورش خراسان رضوی
نام خانوادگی : اداره سنجش آموزش و پرورش
نام آموزشگاه : سوالات امتحان هماهنگ پایه نهم (متوسطه اول)
شماره‌ی داوطلب : درس : آمادگی دفاعی (ویژه دانش آموزان روزانه، بزرگسالان، راه دور)
نوبت : غایبین موجه خرداد ماه ۹۷
Sanjesh.razavi.medu.ir

تاریخ امتحان : ۹۷/۰۴/۱۳
مدت امتحان : ۴۵ دقیقه
ساعت شروع : ۱۳:۳۰ (۱:۳۰ بعد از ظهر)
تعداد صفحات : ۲
تعداد سوال : ۱۵

ردیف	سؤال	بارم
۱۰-	دو مورد از فعالیت های بسیج را نام ببرید.	۱
۱۱-	ما دوران هشت ساله جنگ تحمیلی را <u>دفاع مقدس</u> می دانیم. زیرا مردم به خاطر اهداف زیر از کشور دفاع کردند: الف- ب-	۱
۱۲-	دو مورد از مشارکت زنان در دفاع از اسلام (به هنگام وقوع جنگ) را بنویسید.	۱
۱۳-	نظم چیست و چه تأثیری در کارهای ما دارد؟	۱
۱۴-	روش های جنگ روانی را نام ببرید. (ذکر ۳ مورد)	۱/۵
۱۵-	سه مورد از اهداف شبکه های ماهواره ای فارسی زبان را بنویسید.	۱/۵

دانش آموزان عزیز و همکاران محترم می توانند با مراجعه به سایت مندرج در سربرگ، سوال و راهنمای تصحیح این درس را مشاهده نمایند.

صفحه ۲		موفق باشید		جمع بارم ۱۲	
تصحیح و نمره گذاری		نام و نام خانوادگی مصحح / دبیر		نام و نام خانوادگی مصحح / دبیر	
با عدد	با حروف	با عدد	با حروف	با عدد	با حروف
	امضاء :		امضاء :		امضاء :

همکار گرامی : ضمن عرض خسته نباشید در صورتی که دانش آموز مفهوم را رسانده باشد، نمره کامل منظور گردد.

- ۱- ص (۰/۵ نمره) ۲- غ (۰/۵ نمره)
- ۳- الف " اختفا (۰/۵ نمره) ۴- الف " آگاهی (۰/۵ نمره)
- ۵- "د" زیر میز محکم (۰/۵ نمره) ۶- امام خمینی (ره) (۰/۵ نمره) ۷- وقوع زلزله (۰/۵ نمره)
- ۸- برای استتار از وسایلی مانند: رنگ، تور، شاخ و برگ درختان و... استفاده می شود. (ذکر دومورد هر کدام ۰/۲۵ نمره)
- ۹- امنیت یعنی دور بودن از خطراتی که علیه منافع مادی (جان،مال، سرزمین و...) و ارزش های معنوی (دین ، فرهنگ ،اعتقادات و ...) ما وجود دارد. (نمره)
- ۱۰- ۱- فعالیت های علمی پژوهشی ۲- فعالیت های فرهنگی و هنری ۳- فعالیت های سیاسی
- ۴- فعالیت های سازندگی و امداد رسانی ۵- فعالیت های ورزشی (ذکر دو مورد هر کدام ۰/۵ نمره)
- ۱۱- ۱- دفاع برای حفظ استقلال و تمامیت ارضی کشور ۲- استقامت در برابر ظالمین برای اطاعت از فرمان خداوند
- ۳- مقاومت به منظور حفظ دین، قرآن و انقلاب اسلامی ۴- ایستادگی برای دفع تجاوز دشمن و رسیدن به صلح و امنیت (ذکر دومورد هر کدام ۰/۵ نمره)
- ۱۲- ۱- رساندن وسایل و ادوات جنگی به رزمندگان ۲- درمان مجروحان جنگ و انتقال آن ها به پشت جبهه و مراقبت از آنان
- ۳- خارج کردن شهدا از منطقه ی نبرد به پشت جبهه ۴- رساندن آب و مواد غذایی به رزمندگان ۵- تهیه و تدارک دارو، لباس و سایر امکانات مورد نیاز رزمندگان ۶- شرکت در نبرد مستقیم با دشمن (در صورت نیاز) ذکر دومورد هر کدام ۰/۵ نمره)
- ۱۳- نظم در لغت به معنای آراستن، برپا داشتن و انجام دادن به موقع کارهاست. نظم یکی از امور فردی و اجتماعی است که رعایت آن برای تمام انسان ها لازم و مفید است. (نمره)
- ۱۴- ۱- تبلیغات ۲- شایعه ۳- تحریف واقعیات ۴- تفرقه افکنی ۵- ترور (ذکر سه مورد هر کدام ۰/۵ نمره)
- ۱۵- ۱- بدبین کردن مردم به اسلام و نظام جمهوری اسلامی ۲- قطع رابطه ملت با رهبری نظام ۳- ترویج بی بندوباری اخلاقی
- ۴- از بین بردن استحکام خانواده ۵- جدایی دین از سیاست ۶- دور کردن مردم از ارزش های دینی و... (سه مورد هر کدام ۰/۵ نمره)

همکار گرامی خسته نباشید

« باسمه تعالی »

نام خانوادگی :	اداره کل آموزش و پرورش خراسان رضوی	تاریخ امتحان : ۹۷/۰۴/۱۳
نام آموزشگاه :	اداره سنجش آموزش و پرورش	مدت امتحان : ۶۰ دقیقه
شماره‌ی داوطلب :	سوالات امتحان هماهنگ پایه نهم (متوسطه اول)	ساعت شروع : ۱۳:۳۰ (۱:۳۰ بعد از ظهر)
نوبت : غایبین موجه خرداد ماه ۹۷	درس : آمادگی دفاعی (داوطلبین آزاد و طرح جامع)	تعداد صفحات : ۲
	Sanjesh.razavi.medu.ir	تعداد سوال: ۲۳

ردیف	سؤال	بارم
دانش آموز عزیز: ضمن آرزوی موفقیت برای شما ، لطفاً با مطالعه دقیق ۲۳ سوال زیر ، پاسخ مناسب را در محل های تعیین شده بنویسید .		
پاسخ صحیح را با گذاشتن علامت (×) در داخل <input type="checkbox"/> مشخص کنید.		
۱-	مقابله به مثل به معنای تلافی کردن حملات قبلی می باشد.	ص <input type="checkbox"/> غ <input type="checkbox"/> ۰/۵
۲-	دفاع در برابر حوادث غیر طبیعی و تهدیدهای انسانی برای ما ضروری <u>نیست</u> .	ص <input type="checkbox"/> غ <input type="checkbox"/> ۰/۵
۳-	شهید نواب صفوی، یکی از مردان مؤمن و مبارز میهن در دوران ستم شاهی بود.	ص <input type="checkbox"/> غ <input type="checkbox"/> ۰/۵
ب- گزینه ی صحیح را انتخاب کنید:		
۴-	« پنهان کردن هواپیماهای جنگی در تونل » مربوط به کدام یک از اصول پدافند غیرعامل است؟	۰/۵
	الف- اختفا <input type="checkbox"/> ب- فریب <input type="checkbox"/> ج- مکان یابی <input type="checkbox"/> د- مقاوم سازی <input type="checkbox"/>	
۵-	به مجموعه ای از دانش و اطلاعات افراد جامعه که در بارهٔ پدیدهٔ زمین لرزه اقدامات قبل، هنگام و بعد از آن است ،..... می گویند.	۰/۵
	الف- آگاهی <input type="checkbox"/> ب- آمادگی <input type="checkbox"/> ج- همکاری <input type="checkbox"/> د- همدردی <input type="checkbox"/>	
۶-	فرض کنید زمین لرزه ای رخ داده است و شما در آزمایشگاه هستید، کدام یک از مکان های زیر جهت پناه گیری مناسب است؟	۰/۵
	الف- کنار پنجره <input type="checkbox"/> ب - کنار بخاری <input type="checkbox"/> ج- زیر پنکه سقفی <input type="checkbox"/> د- زیر میز محکم <input type="checkbox"/>	
ج- جملات زیر را کامل کنید:		
۷-	دفاع از سرزمین و اعتقادات باعث گسترش اخلاق جوانمردانه، و از خود گذشتگی مردم می شود.	۰/۵
۸-	قیام بزرگ مردم با ایمان و غیور ایران به رهبری از سال ۱۳۴۱ آغاز شد.	۰/۵
۹-	بشر با دانش کنونی خود قادر به پیش بینی زمان دقیق <u>نیست</u> .	۰/۵
د- به سؤالات زیر پاسخ مناسب دهید:		
۱۰-	دوران سازندگی یعنی چه؟	۰/۵
۱۱-	برای استتار از چه وسایلی استفاده می شود؟ (۲ مورد)	۰/۵
۱۲-	دو مورد از فعالیت های بسیج را نام ببرید.	۱
۱۳-	امنیت را تعریف کنید .	۱

« باسمه تعالی »

نام خانوادگی :	اداره کل آموزش و پرورش خراسان رضوی	نام : ۹۷/۰۴/۱۳
نام آموزشگاه :	اداره سنجش آموزش و پرورش	مدت امتحان : ۶۰ دقیقه
شماره‌ی داوطلب :	سوالات امتحان هماهنگ پایه نهم (متوسطه اول)	ساعت شروع : ۱۳:۳۰ (۱:۳۰ بعد از ظهر)
نوبت : غایبین موجه خرداد ماه ۹۷	درس : آمادگی دفاعی (داوطلبین آزاد و طرح جامع)	تعداد صفحات : ۲
	Sanjesh.razavi.medu.ir	تعداد سوال : ۲۳

ردیف	سؤال	بارم
۱۴-	راه حفظ و ادامهٔ انقلاب ما چیست؟	۱
۱۵-	دو مورد از مشارکت زنان در دفاع از اسلام (به هنگام وقوع جنگ) را بنویسید.	۱
۱۶-	ما دوران هشت سالهٔ جنگ تحمیلی را <u>دفاع مقدس</u> می دانیم. زیرا مردم به خاطر اهداف زیر از کشور دفاع کردند: الف-..... ب-.....	۱
۱۷-	نظم چیست و چه تأثیری در کارهای ما دارد؟	۱
۱۸-	در تهاجم فرهنگی هدف اصلی دشمن چیست؟	۱
۱۹-	تهدید سخت و نرم را با یکدیگر مقایسه کنید.	۱/۵
۲۰-	دستاوردهای داخلی هشت سال دفاع مقدس را نام ببرید.(۳مورد)	۱/۵
۲۱-	دفاع عامل و غیر عامل را با یکدیگر مقایسه کنید.	۱/۵
۲۲-	سه مورد از اهداف شبکه های ماهواره ای فارسی زبان را بنویسید.	۱/۵
۲۳-	روش های جنگ روانی را نام ببرید.(۳ مورد)	۱/۵

دانش آموزان عزیز و همکاران محترم می توانند با مراجعه به سایت مندرج در سربرگ، سوال و راهنمای تصحیح این درس را مشاهده نمایند.

صفحه ۲		موفق باشید		جمع بارم ۲۰	
تصحیح و نمره گذاری		نام و نام خانوادگی مصحح/ دبیر		نام و نام خانوادگی مصحح/ دبیر	
نمره نهایی پس از رسیدگی به اعتراضات		نمره نهایی پس از رسیدگی به اعتراضات		نمره نهایی پس از رسیدگی به اعتراضات	
با عدد	با حروف	با عدد	با حروف	با عدد	با حروف
امضاء :		امضاء :		امضاء :	

همکار گرامی : ضمن عرض خسته نباشید در صورتی که دانش آموز مفهوم را رسانده باشد، نمره کامل منظور گردد.

- ۱- ص (۵/نمره) ۲- غ (۵/نمره) ۳- ص (۵/نمره)
- ۴- "الف" (اختفا) ۵/نمره ۵- "الف" (آگاهی) ۵/نمره ۶- "د" (زیر میز محکم) ۵/نمره
- ۷- تقویت روحیه سلحشوری (۵/نمره) ۸- امام خمینی (ره) (۵/نمره) ۹- وقوع زلزله (۵/نمره)
- ۱۰- دوران پس از دفاع مقدس (سال ۱۳۶۷ به بعد) ، به دوران سازندگی مشهور است. (۵/نمره)
- ۱۱- برای استتار از وسایلی مانند: رنگ، تور، شاخ و برگ درختان و... استفاده می شود. (ذکر دومورد هر کدام ۲۵/نمره)
- ۱۲- ۱- فعالیت های علمی پژوهشی ۲- فعالیت های فرهنگی و هنری ۳- فعالیت های سیاسی ۴- فعالیت های سازندگی و امداد رسانی ۵- فعالیت های ورزشی (ذکر دو مورد هر کدام ۵/نمره)
- ۱۳- امنیت یعنی دور بودن از خطراتی که علیه منافع مادی (جان،مال، سرزمین و...) و ارزش های معنوی (دین ، فرهنگ ، اعتقادات و ...) ما وجود دارد.(نمره)
- ۱۴- همان رمز پیروزی آن یعنی: «ایمان به خدا، وحدت مردم و پیروی از رهبری» است که در پر تو بصیرت و هوشیاری حاصل می شود. (نمره)
- ۱۵- رساندن وسایل و ادوات جنگی به رزمندگان ۲- درمان مجروحان جنگ و انتقال آن ها به پشت جبهه و مراقبت از آنان
- ۳- خارج کردن شهدا از منطقه ی نبرد به پشت جبهه ۴- رساندن آب و مواد غذایی به رزمندگان ۵- تهیه و تدارک دارو، لباس و سایر امکانات مورد نیاز رزمندگان ۶- شرکت در نبرد مستقیم با دشمن (در صورت نیاز) (ذکر دومورد هر کدام ۵/نمره)
- ۱۶- ۱- دفاع برای حفظ استقلال و تمامیت ارضی کشور ۲- استقامت در برابر ظالمین برای اطاعت از فرمان خداوند ۳ - مقاومت به منظور حفظ دین، قرآن و انقلاب اسلامی ۴- ایستادگی برای دفع تجاوز دشمن و رسیدن به صلح و امنیت (ذکر دومورد هر کدام ۵/نمره)
- ۱۷- نظم در لغت به معنای آراستن، برپا داشتن و انجام دادن به موقع کارهاست. نظم یکی از امور فردی و اجتماعی است که رعایت آن برای تمام انسان ها لازم و مفید است. (نمره)
- ۱۸- در تهاجم فرهنگی، اشغال ذهن و اعتقادات و تغییر ارزش ها و باورهای دینی مردم، هدف اصلی دشمن است. (نمره)
- ۱۹- اگر کشوری، کشور دیگر را تهدید به حمله نظامی کند، در این حالت می گوئیم تهدید از نوع سخت است . اما اگر ارزش ها، باورها و اعتقادات یک جامعه هدف قرار گیرند، می گوئیم تهدید از نوع نرم است. (۱/۵ نمره)
- ۲۰- ۱- اعتماد به نفس و خودباوری ۲- تولد تفکر بسیجی ۳- پیشرفت در صنایع دفاعی کشور ۴- کسب تجارب نظامی ۵- ترویج فرهنگ ایثار و شهادت ۶- نقش آفرینی مساجد در دفاع از میهن (ذکر سه مورد هر کدام ۵/نمره)
- ۲۱- به مقابله و مبارزه مستقیم و استفاده از تجهیزات جنگی به منظور دفع حملات و اقدامات جنگی دشمن دفاع عامل گفته می شود ولی دفاع غیر عامل مجموعه اقداماتی است که بدون استفاده از تجهیزات جنگی می توان انجام داد تا از وارد شدن تلفات جانی به افراد و زیان اقتصادی به مراکز و تأسیسات حیاتی و مهم کشور جلوگیری کرد، یا آنها را به حداقل کاهش داد. (۱/۵ نمره)
- ۲۲- ۱- بدبین کردن مردم به اسلام و نظام جمهوری اسلامی ۲- قطع رابطه ملت با رهبری نظام ۳- ترویج بی بندوباری اخلاقی
- ۴- از بین بردن استحکام خانواده ۵- جدایی دین از سیاست ۶- دور کردن مردم از ارزش های دینی و..... (سه مورد هر کدام ۵/نمره)
- ۲۳- ۱- تبلیغات ۲- شایعه ۳- تحریف واقعیات ۴- تفرقه افکنی ۵- ترور (ذکر سه مورد هر کدام ۵/نمره)

همکار گرامی خسته نباشید

« باسمه تعالی »

تاریخ امتحان : ۹۷/۵/۱۱
مدت امتحان : ۴۵ دقیقه
ساعت شروع : ۹ صبح
تعداد صفحات : ۲
تعداد سوال : ۱۴

اداره کل آموزش و پرورش خراسان رضوی
اداره سنجش آموزش و پرورش
سوالات امتحان هماهنگ پایه نهم (متوسطه اول)
درس : آمادگی دفاعی
Sanjesh.razavi.medu.ir

نام :
نام خانوادگی :
نام آموزشگاه :
شماره‌ی داوطلب :
نوبت : **جبرانی مرداد**

بارم	سؤال	ردیف
دانش آموز عزیز: ضمن آرزوی موفقیت برای شما ، لطفاً با مطالعه دقیق ۱۴ سوال زیر ، پاسخ مناسب را در محل های تعیین شده بنویسید .		
پاسخ صحیح را با گذاشتن علامت (×) در داخل <input type="checkbox"/> مشخص کنید.		
۰/۵	بهار انقلاب اسلامی در سرمای بهمن ۱۳۵۸ فرا رسید . ص <input type="checkbox"/> غ <input type="checkbox"/>	۱-
۰/۵	بشر با دانش کنونی خود قادر به پیش بینی زمان دقیق وقوع زلزله نیست. ص <input type="checkbox"/> غ <input type="checkbox"/>	۲-
ب - گزینه ی صحیح را انتخاب کنید:		
۰/۵	« استفاده از بادگیر سفید در محیط برفی » مربوط به کدام یک از اصول پدافند غیرعامل است؟ الف- استتار <input type="checkbox"/> ب- اختفا <input type="checkbox"/> ج- فریب <input type="checkbox"/> د- مکان یابی <input type="checkbox"/>	۳-
۰/۵	کدام یک از گروه های زیر با هدف کمک به مجروحان و مصدومان ، تشکیل می شود؟ الف- تدارکات و پشتیبانی <input type="checkbox"/> ب- نجات و امداد <input type="checkbox"/> ج- جست و جو <input type="checkbox"/> د- آتش نشان <input type="checkbox"/>	۴-
ج - جملات زیر را کامل کنید:		
۰/۵	دفاع از سرزمین و اعتقادات زمینه بروز را فراهم می سازد.	۵-
۰/۵	زمانی که حادثه ای مانند زلزله رخ می دهد ، شرایط عادی زندگی ما به تبدیل می شود.	۶-
د - به سؤالات زیر پاسخ مناسب دهید:		
۱	یک نمونه بارز تهدید توسط کشورهای استعمارگر و زیاده خواه را بنویسید.	۷-
۱	دو مورد از فعالیت های بسیج را بنویسید.	۸-
۱	حصر آبادان در کدام عملیات و در چه تاریخی شکسته شد؟	۹-
۱	دو تن از مردان مؤمن و مبارز میهن ، در دوران معاصر نام ببرید.	۱۰-

ادامه سؤالات در صفحه بعد

« باسمه تعالی »

تاریخ امتحان : ۹۷/۵/۱۱
مدت امتحان : ۴۵ دقیقه
ساعت شروع : ۹ صبح
تعداد صفحات : ۲
تعداد سوال : ۱۴

اداره کل آموزش و پرورش خراسان رضوی
اداره سنجش آموزش و پرورش
سوالات امتحان هماهنگ پایه نهم (متوسطه اول)
درس : آمادگی دفاعی
Sanjesh.razavi.medu.ir

نام :
نام خانوادگی :
نام آموزشگاه :
شماره‌ی داوطلب :
نوبت : جبرانی مرداد

بارم	سؤال	ردیف
۱	دفاع (پدافند) عامل را تعریف کنید.	۱۱-
۱	در ترور شخص چه افرادی مورد تهاجم جسمی و فیزیکی قرار می گیرند؟	۱۲-
۱	سلاح انفرادی چیست؟	۱۳-
۲	نمودار را کامل کنید. <pre>graph TD; A[روش های جنگ] --- B[۱-]; A --- C[۲-]; A --- D[۳- تحریف]; A --- E[۴-]; A --- F[۵-];</pre>	۱۴-

دانش آموزان عزیز و همکاران محترم می توانند با مراجعه به سایت مندرج در سربرگ، سوال و راهنمای تصحیح این درس را مشاهده نمایند.

۱۲

جمع بارم

موفق باشید

نام و نام خانوادگی مصحح / دبیر	نمره نهایی پس از رسیدگی به اعتراضات	نام و نام خانوادگی مصحح / دبیر	تصحیح و نمره گذاری
	با عدد		با عدد
	با حروف		با حروف
امضاء :		امضاء :	

همکار گرامی: ضمن عرض خسته نباشید در صورتی که دانش آموز مفهوم را رسانده باشد، نمره کامل منظور گردد.

- ۱- غ (۰/۵ نمره) ۲- ص (۰/۵ نمره)
- ۳- "الف" استتار (۰/۵ نمره) ۴- "ب" نجات و امداد (۰/۵ نمره)
- ۵- دلاوری جوانان (۰/۵ نمره) ۶- شرایط بحرانی (۰/۵ نمره)
- ۷- نمونه بارز آن نظام سلطه گر آمریکاست که برای جلوگیری از فعالیت های صلح آمیز هسته ای، کشور ما را به حمله نظامی، تحریم اقتصادی و... تهدید می کند. (۱ نمره)
- ۸- ۱- فعالیت های علمی پژوهشی ۲- فعالیت های فرهنگی و هنری ۳- فعالیت های سیاسی ۴- فعالیت های سازندگی و امدادسانی ۵- فعالیت های ورزشی (ذکر دو مورد هر کدام ۰/۵ نمره)
- ۹- در عملیات ثامن الائمه و در مهر ماه ۱۳۶۰ (۱ نمره)
- ۱۰- شهید نواب صفوی، شهید سیدعلی اندرزگو، شهید رجایی و..... (ذکر دو مورد هر کدام ۰/۵ نمره)
- ۱۱- به مقابله و مبارزه مستقیم و استفاده از تجهیزات جنگی به منظور دفع حملات و اقدامات جنگی دشمن پدافند عامل می گویند. (۱ نمره)
- ۱۲- در ترور شخص، افراد موجه، توانمند و ارزشمند یک کشور که نقش مؤثری در آگاهی مردم و پیشرفت جامعه دارند، مورد تهاجم جسمی و فیزیکی قرار می گیرند. (۱ نمره)
- ۱۳- وسیله ای است که یک رزمنده ی مدافع میهن می تواند آن را حمل نموده و در صورت نیاز از آن استفاده نماید. (۱ نمره)
- ۱۴- ۱- تبلیغات ۲- شایعه ۴- تفرقه افکنی ۵- ترور (۲ نمره)

همکار گرامی خسته نباشید

« باسمه تعالی »

تاریخ امتحان : ۱۳ / ۶ / ۹۷
مدت امتحان : ۴۵ دقیقه
ساعت شروع : ۹ صبح
تعداد صفحات : ۲
تعداد سوال : ۱۵

اداره کل آموزش و پرورش خراسان رضوی
اداره سنجش آموزش و پرورش
سوالات امتحان هماهنگ پایه نهم (متوسطه اول)
درس : آمادگی دفاعی
Sanjesh.razavi.medu.ir

نام :
نام خانوادگی :
نام آموزشگاه :
شماره‌ی داوطلب :
نوبت : شهریور ماه

بارم	سؤال	ردیف
	دانش آموز عزیز: ضمن آرزوی موفقیت برای شما ، لطفاً با مطالعه دقیق ۱۵ سوال زیر ، پاسخ مناسب را در محل های تعیین شده بنویسید .	
	پاسخ صحیح را با گذاشتن علامت (×) در داخل <input type="checkbox"/> مشخص کنید.	
۰/۵	۱- دوران پس از دفاع مقدس، به دوران سازندگی مشهور است. ص <input type="checkbox"/> غ <input type="checkbox"/>	
۰/۵	۲- بشر با دانش کنونی خود قادر به پیش بینی زمان دقیق وقوع زلزله نیست. ص <input type="checkbox"/> غ <input type="checkbox"/>	
ب- گزینه ی صحیح را انتخاب کنید:		
۰/۵	۳- در کدام عملیات حصر آبادان شکسته شد؟ الف- عملیات بدر <input type="checkbox"/> ب- عملیات ثامن الائمه <input type="checkbox"/> ج- عملیات خیبر <input type="checkbox"/> د- عملیات بیت المقدس <input type="checkbox"/>	
۰/۵	۴- « دامن زدن به اختلافات میان شیعه و سنی » جزء کدام یک از روش های جنگ روانی است؟ الف- تبلیغات <input type="checkbox"/> ب- شایعه <input type="checkbox"/> ج- تفرقه افکنی <input type="checkbox"/> د- تحریف واقعیات <input type="checkbox"/>	
۰/۵	۵- کدام یک از گروه های زیر با هدف فراهم آوردن امکانات و تجهیزات مورد نیاز ، تشکیل می شود؟ الف- تدارکات و پشتیبانی <input type="checkbox"/> ب- جست و جو <input type="checkbox"/> ج- نجات و امداد <input type="checkbox"/> د- آتش نشان <input type="checkbox"/>	
ج- جملات زیر را کامل کنید:		
۰/۵	۶- ملت ما درس عزت و آزادگی را از مکتب امام حسین(ع) و آموخته اند.	
۰/۵	۷- ما دوران هشت ساله جنگ تحمیلی را «.....» می دانیم.	
۰/۵	۸- جنگ نرم متکی به روش های نرم افزاری، نامحسوس و است.	
د- به سؤالات زیر پاسخ مناسب دهید:		
۰/۵	۹- چگونه می توان محیط زندگی را در برابر زلزله ایمن سازی کرد؟(۱ مورد)	
۱	۱۰- امنیت را تعریف کنید.	

« باسمه تعالی »

تاریخ امتحان : ۹۷/۶/۱۳
مدت امتحان : ۴۵ دقیقه
ساعت شروع : ۹ صبح
تعداد صفحات : ۲
تعداد سوال : ۱۵

اداره کل آموزش و پرورش خراسان رضوی
اداره سنجش آموزش و پرورش
سوالات امتحان هماهنگ پایه نهم (متوسطه اول)
درس : آمادگی دفاعی
Sanjesh.razavi.medu.ir

نام :
نام خانوادگی :
نام آموزشگاه :
شماره‌ی داوطلب :
نوبت : شهریور ماه

ردیف	سؤال	بارم
۱۱-	دو مورد از وظایف و برنامه های بسیج دانش آموزی را بنویسید.	۱
۱۲-	در صورت وقوع یک جنگ زنان چگونه می توانند در دفاع از کشورشان سهیم باشند؟ (۲مورد)	۱
۱۳-	ابزارهای جنگی قدیم و جدید را با یکدیگر مقایسه کنید.	۱
۱۴-	دو مزیت مهمی که رعایت اصول پدافند غیر عامل در بردارد را بنویسید.	۱/۵
۱۵-	میزان اثرگذاری جنگ روانی به چه چیزهایی بستگی دارد؟	۲

دانش آموزان عزیز و همکاران محترم می توانند با مراجعه به سایت مندرج در سربرگ، سوال و راهنمای تصحیح این درس را مشاهده نمایند.

صفحه ۲	موفق باشید	جمع بarm ۱۲
--------	------------	-------------

نام و نام خانوادگی		نام و نام خانوادگی		تصحیح و نمره گذاری	
مصحح / دبیر		مصحح / دبیر		مصحح / دبیر	
با عدد	با حروف	با عدد	با حروف	با عدد	با حروف

امضاء :

امضاء :

همکار گرامی: ضمن عرض خسته نباشید در صورتی که دانش آموز مفهوم را رسانده باشد، نمره کامل منظور گردد.

۱- ص (۵/۰ نمره) ۲- ص (۵/۰ نمره) ۳- "ب" عملیات ثامن الائمه (۵/۰ نمره)

۴- "ج" تفرقه افکنی (۵/۰ نمره) ۵- "الف" تدارکات و پشتیبانی (۵/۰ نمره)

۶- قیام عاشورا (۵/۰ نمره) ۷- دفاع مقدس (۵/۰ نمره) ۸- تدریجی (۵/۰ نمره)

۹- ۱- تمامی قفسه های بلند، کتاب خانه ،بوفه ها ،تابلوه‌هاو... بایدبا بست مناسب (مانندL) به دیوار محکم شوند۲- محل نشستن و خواب باید دور از پنجره ها ، شیشه ها و اجسام سقوط کننده باشند۳- آب گرم کن به وسیله ی تسمه ای مخصوص به دیوار محکم شود۴- کابینت ها به وسیله ی بست های مناسب به دیوار محکم شوند۵- اشیای سقوط کننده و سنگین مانند چرخ گوشت و آب میوه گیری از طبقات بالا روی قفسه،به طبقات پایین منتقل شود.
(ذکر یک مورد۵/۰ نمره)

۱۰- امنیت یعنی دور بودن از خطراتی که علیه منافع مادی (جان،مال، سرزمین و...) و ارزش های معنوی (دین ، فرهنگ ،اعتقادات و ...) ما وجود دارد. (۱ نمره)

۱۱- ۱- تقویت اعتقادات دینی و آگاهی سیاسی دانش آموزان ۲- تربیت دانش آموزانی منطبق با الگوهای دینی ۳ - مشارکت دانش آموزان در زمینه های فرهنگی، سیاسی، سازندگی و ... ۴- تقویت توان علمی دانش آموزان و تشکیل انجمن های علمی و ادبی ۵ - آموزش رشته های مختلف ورزشی و برگزاری اردوهای متنوع و بانشاط
(ذکر دو مورد هرکدام ۵/۰ نمره)

۱۲- ۱- رساندن وسایل و ادوات جنگی به رزمندگان ۲- درمان مجروحان جنگ و انتقال آن ها به پشت جبهه و مراقبت از آنان ۳ - خارج کردن شهدا از منطقه ی نبرد به پشت جبهه ۴- رساندن آب و مواد غذایی به رزمندگان ۵ - تهیه و تدارک دارو، لباس و سایر امکانات مورد نیاز رزمندگان ۶ - شرکت در نبرد مستقیم با دشمن
(در صورت نیاز) (ذکر دومورد هر کدام ۵/۰ نمره)

۱۳- ابزارهای جنگی بشر از سنگ، چوب ، تیر وکمان ، نیزه و شمشیر شروع و پس از مدت زمانی به سلاح های گرم و توپ و تانک رسید . (۱ نمره)

۱۴- ۱- قدرت دفاعی کشور را افزایش می دهد و باعث حفظ مراکز و تأسیسات مهم جامعه می شود. ۲- هرچه توان و قدرت دفاع عامل و غیر عامل کشور بیشتر باشد، احتمال تهاجم دشمنان کمتر می شود.
(دو مورد هر کدام ۷۵/۰ نمره)

۱۵- از یک طرف به ویژگی های شخصیتی افراد مانند اعتقادات دینی، شجاعت، اعتماد به نفس ، پایبندی به ارزش های اخلاقی و... واز طرف دیگر به میزان علم و آگاهی انسان ها و نیز شناخت دوستان و دشمنان واقعی بستگی دارد.
(۲ نمره)

همکار گرامی خسته نباشید

« باسمه تعالی »

تاریخ امتحان : ۹۷/۶/۱۳
مدت امتحان : ۶۰ دقیقه
ساعت شروع : ۹ صبح
تعداد صفحات : ۲
تعداد سوال : ۲۳

اداره کل آموزش و پرورش خراسان رضوی
اداره سنجش آموزش و پرورش
سوالات امتحان هماهنگ پایه نهم (متوسطه اول)
درس : آمادگی دفاعی (داوطلبین آزاد و طرح جامع)
Sanjesh.razavi.medu.ir

نام :
نام خانوادگی :
نام آموزشگاه :
شماره‌ی داوطلب :
نوبت : شهر یورماه

بارم	سؤال	ردیف
دانش آموز عزیز: ضمن آرزوی موفقیت برای شما ، لطفاً با مطالعه دقیق ۲۳ سوال زیر ، پاسخ مناسب را در محل های تعیین شده بنویسید .		
پاسخ صحیح را با گذاشتن علامت (×) در داخل <input type="checkbox"/> مشخص کنید.		
۰/۵	دوران پس از دفاع مقدس، به دوران سازندگی مشهور است. <input type="checkbox"/> ص <input type="checkbox"/> غ	۱-
۰/۵	تهاجم نظامی از جهات مختلف خطرناک تر از تهاجم فرهنگی است . <input type="checkbox"/> ص <input type="checkbox"/> غ	۲-
۰/۵	بشر با دانش کنونی خود قادر به پیش بینی زمان دقیق وقوع زلزله نیست. <input type="checkbox"/> ص <input type="checkbox"/> غ	۳-
ب- گزینه ی صحیح را انتخاب کنید:		
۰/۵	در کدام عملیات حصر آبادان شکسته شد؟ الف- عملیات بدر <input type="checkbox"/> ب- عملیات ثامن الائمه <input type="checkbox"/> ج- عملیات خیبر <input type="checkbox"/> د- عملیات بیت المقدس <input type="checkbox"/>	۴-
۰/۵	« دامن زدن به اختلافات میان شیعه و سنی » جزء کدام یک از روش های جنگ روانی است؟ الف- تبلیغات <input type="checkbox"/> ب- شایعه <input type="checkbox"/> ج- تفرقه افکنی <input type="checkbox"/> د- تحریف واقعیات <input type="checkbox"/>	۵-
۰/۵	کدام یک از گروه های زیر با هدف فراهم آوردن امکانات و تجهیزات مورد نیاز ، تشکیل می شود؟ الف- تدارکات و پشتیبانی <input type="checkbox"/> ب- جست و جو <input type="checkbox"/> ج- نجات و امداد <input type="checkbox"/> د- آتش نشان <input type="checkbox"/>	۶-
ج- جملات زیر را کامل کنید:		
۰/۵	ملت ما درس عزت و آزادگی را از مکتب امام حسین(ع) و آموخته اند.	۷-
۰/۵	ما دوران هشت ساله جنگ تحمیلی را «.....» می دانیم.	۸-
۰/۵	جنگ نرم متکی به روش های نرم افزاری، نامحسوس و است.	۹-
د- به سؤالات زیر پاسخ مناسب دهید:		
۰/۵	دو تن از بزرگ مردانی که برای گسترش دین و عدالت تلاش فراوان نموده اند را نام ببرید.	۱۰-
۰/۵	چگونه می توان محیط زندگی را در برابر زلزله ایمن سازی کرد؟ (۱ مورد)	۱۱-
۰/۵	برای استتار از چه وسایلی استفاده می شود؟ (۲ مورد)	۱۲-
۱	امنیت را تعریف کنید.	۱۳-
۱	راه حفظ و ادامه انقلاب ما چیست؟	۱۴-

« باسمه تعالی »

نام خانوادگی :	اداره کل آموزش و پرورش خراسان رضوی	نام : ۹۷/۶/۱۳
نام آموزشگاه :	اداره سنجش آموزش و پرورش	مدت امتحان : ۶۰ دقیقه
شماره‌ی داوطلب :	سوالات امتحان هماهنگ پایه نهم (متوسطه اول)	ساعت شروع : ۹ صبح
نوبت : شهریور ماه	درس : آمادگی دفاعی (داوطلبین آزاد و طرح جامع)	تعداد صفحات : ۲
	Sanjesh.razavi.medu.ir	تعداد سوال : ۲۳

ردیف	سؤال	بارم
۱۵-	دو مورد از وظایف و برنامه های بسیج دانش آموزی را بنویسید.	۱
۱۶-	در صورت وقوع یک جنگ زنان چگونه می توانند در دفاع از کشورشان سهیم باشند؟ (۲مورد)	۱
۱۷-	ابزارهای جنگی قدیم و جدید را با یکدیگر مقایسه کنید.	۱
۱۸-	انواع ترور را نام ببرید.	۱
۱۹-	تهدید سخت و نرم را با یکدیگر مقایسه کنید.	۱/۵
۲۰-	دفاع از سرزمین و اعتقادات باعث گسترش و تقویت چه چیزهایی می شود؟	۱/۵
۲۱-	هدف دشمنان از تحمیل جنگ هشت ساله چه بود؟ (۳مورد)	۱/۵
۲۲-	دو مزیت مهمی که رعایت اصول پدافند غیر عامل در بردارد را بنویسید.	۱/۵
۲۳-	میزان اثرگذاری جنگ روانی به چه چیزهایی بستگی دارد؟	۲

دانش آموزان عزیز و همکاران محترم می توانند با مراجعه به سایت مندرج در سربرگ، سوال و راهنمای تصحیح این درس را مشاهده نمایند.

صفحه ۲		موفق باشید		جمع بارم ۲۰	
تصحیح و نمره گذاری		نام و نام خانوادگی مصحح/ دبیر		نام و نام خانوادگی مصحح/ دبیر	
با عدد	با حروف	با عدد	با حروف	با عدد	با حروف
				امضاء :	امضاء :

همکار گرامی: ضمن عرض خسته نباشید در صورتی که دانش آموز مفهوم را رسانده باشد، نمره کامل منظور گردد.

۱-ص (۰/۵ نمره) ۲-غ (۰/۵ نمره) ۳-ص (۰/۵ نمره) ۴-ب " (عملیات تأمن الانمه) ۰/۵ نمره

۵- "ج" (تفرقه افکنی) ۰/۵ نمره ۶- "الف" (تدارکات و پشتیبانی) (۰/۵ نمره)

۷- قیام عاشورا (۰/۵ نمره) ۸- دفاع مقدس (۰/۵ نمره) ۹- تدریجی (۰/۵ نمره)

۱۰- میرزای شیرازی، سید جمال الدین اسد آبادی، ستارخان، باقرخان، امیر کبیر و... (ذکر دومورد هرکدام ۰/۲۵ نمره)

۱۱- ۱- تمامی قفسه های بلند، کتاب خانه، بوفه ها، تابلوها و... باید با بست مناسب (مانند [L]) به دیوار محکم شوند ۲- محل نشستن و خواب باید دور از پنجره ها، شیشه ها و اجسام سقوط کننده باشند ۳- آب گرم کن به وسیله ی تسمه ای مخصوص به دیوار محکم شود ۴- کابینت ها به وسیله ی بست های مناسب به دیوار محکم شوند ۵- اشیای سقوط کننده و سنگین مانند چرخ گوشت و آب میوه گیری از طبقات بالا روی قفسه، به طبقات پایین منتقل شود. (ذکر یک مورد ۰/۵ نمره)

۱۲- برای استتار از وسایلی مانند: رنگ، تور، شاخ و برگ درختان و... استفاده می شود. (ذکر دومورد هرکدام ۰/۲۵ نمره)

۱۳- امنیت یعنی دور بودن از خطراتی که علیه منافع مادی (جان، مال، سرزمین و...) و ارزش های معنوی (دین، فرهنگ، اعتقادات و...) ما وجود دارد. (۱ نمره)

۱۴- همان رمز پیروزی آن یعنی: «ایمان به خدا، وحدت مردم و پیروی از رهبری» است که در پرتو بصیرت و هوشیاری حاصل می شود. (۱ نمره)

۱۵- ۱- تقویت اعتقادات دینی و آگاهی سیاسی دانش آموزان ۲- تربیت دانش آموزانی منطبق با الگوهای دینی ۳- مشارکت دانش آموزان در زمینه های فرهنگی، سیاسی، سازندگی و... ۴- تقویت توان علمی دانش آموزان و تشکیل انجمن های علمی و ادبی ۵- آموزش رشته های مختلف ورزشی و برگزاری اردوهای متنوع و بانشاط (ذکر دو مورد هرکدام ۰/۵ نمره)

۱۶- ۱- رساندن وسایل و ادوات جنگی به رزمندگان ۲- درمان مجروحان جنگ و انتقال آن ها به پشت جبهه و مراقبت از آنان ۳- خارج کردن شهدا از منطقه ی نبرد به پشت جبهه ۴- رساندن آب و مواد غذایی به رزمندگان ۵- تهیه و تدارک دارو، لباس و سایر امکانات مورد نیاز رزمندگان ۶- شرکت در نبرد مستقیم با دشمن (در صورت نیاز) (ذکر دومورد هر کدام ۰/۵ نمره)

۱۷- ابزارهای جنگی بشر از سنگ، چوب، تیر و کمان، نیزه و شمشیر شروع و پس از مدت زمانی به سلاح های گرم و توپ و تانک رسید. (۱ نمره)

۱۸- ترور بر دو نوع است: ۱- ترور شخص ۲- ترور شخصیت (۱ نمره)

۱۹- اگر کشوری، کشور دیگر را تهدید به حمله نظامی کند، در این حالت می گوئیم تهدید از نوع سخت است. اما اگر ارزش ها، باورها و اعتقادات یک جامعه هدف قرار گیرند، می گوئیم تهدید از نوع نرم است. (۱/۵ نمره)

۲۰- باعث گسترش اخلاق جوانمردانه، تقویت روحیه سلحشوری و از خود گذشتگی مردم می شود. (۱/۵ نمره)

۲۱- ۱- ساقط کردن نظام جمهوری اسلامی ایران ۲- جدا کردن خوزستان از کشور ۳- حاکمیت بر اروندرود ۴- گرفتن حتی یک وجب از خاک میهن مان. (ذکر سه مورد هرکدام ۰/۵ نمره)

۲۲- ۱- قدرت دفاعی کشور را افزایش می دهد و باعث حفظ مراکز و تأسیسات مهم جامعه می شود. ۲- هرچه توان و قدرت دفاعی عامل و غیر عامل کشور بیشتر باشد، احتمال تهاجم دشمنان کمتر می شود. (دو مورد هر کدام ۰/۷۵ نمره)

۲۳- از یک طرف به ویژگی های شخصیتی افراد مانند اعتقادات دینی، شجاعت، اعتماد به نفس، پایبندی به ارزش های اخلاقی و... و از طرف دیگر به میزان علم و آگاهی انسان ها و نیز شناخت دوستان و دشمنان واقعی بستگی دارد. (۲ نمره)

همکار گرامی خسته نباشید